

الأخضر
الشمس



4

الدراسات الاجتماعية

الصف الرابع الابتدائي
الفصل الدراسي الأول

2024

المحور الأول: البيئة الطبيعية

الوحدة الأولى (بلدنا ورموزه الوطنية)

١١	الدرس الأول: أدوات تحديد المواقع
٢٠	الدرس الثاني: المصادر الأولية والمصادر الثانوية
٢٩	الدرس الثالث: موقع مصر بالنسبة إلى العالم
٣٩	الدرس الرابع: محافظات مصر
٤٨	الدرس الخامس: رموز بلدي
٥٨	بنك الأسئلة على الوحدة الأولى
٦١	اختبارات الأضواء على الوحدة الأولى



الوحدة الثانية (المظاهر الطبيعية في بلدنا)

٦٦	الدرس الأول: جمال أرضنا
٨٠	الدرس الثاني: الطقس والمناخ
٨٩	الدرس الثالث: البيئات المصرية ومواردها الطبيعية
١٠٢	الدرس الرابع: نحو حياة مستدامة في بلدنا
١١٣	شخصيات مصرية مؤثرة: جمال حمدان - سيد درويش
١١٥	بنك الأسئلة على الوحدة الثانية
١١٨	اختبارات الأضواء على الوحدة الثانية
١٢٢	مراجعة الكتاب المدرسي على المحور الأول



المحور الثاني: الموارد والتنمية

الوحدة الثالثة (الموارد والخدمات في بلدنا)

١٢٥	الدرس الأول: الجرف التراثية
١٣٤	الدرس الثاني: المستثمر الصغير
١٤٣	الدرس الثالث: معًا لحياة أفضل
١٥٣	الدرس الرابع: حقوق الأطفال
١٦٢	شخصيات مصرية مؤثرة: طه حسين - محمد طلعت حرب باشا
١٦٤	بنك الأسئلة على الوحدة الثالثة
١٦٧	اختبارات الأضواء على الوحدة الثالثة
١٧١	مراجعة الكتاب المدرسي على المحور الثاني
١٧٢	مشروع الفصل الدراسي الأول
١٧٣	مراجعة الكتاب المدرسي على منهج الفصل الدراسي الأول



الملحق الداخلي

١٧٨	المراجعة النهائية
١٨٤	النماذج الاسترشادية على الشهر الأول
١٨٦	النماذج الاسترشادية على الشهر الثاني
١٨٨	المهام الأدائية
١٩١	امتحانات المحافظات والإدارات ٢٠٢٢/٢٠٢٣ م
٢٢٦	الإجابات النموذجية



خريطة المنهج



المحور الأول: البيئة الطبيعية

شخصيات مصرية مؤثرة: جمال حمدان - سيد درويش

السؤال الرئيسي: ماذا نعرف عن موقع مصروبيئاتها المختلفة ومظاهرها الطبيعية ومواردها ورموزها الوطنية؟

القضايا والتحديات	القيم	المهارات الحياتية	الموضوعات	الوحدة الأولى بلدنا ورموزها الوطنية
• العولمة.	• حب الاستطلاع.	• التمييز بين أوجه التشابه والاختلاف. • إدراك العلاقات.	• العناصر الأساسية للخريطة. • أهمية الخريطة. • الصور الجوية والصور الفضائية (صور الأقمار الصناعية).	الدرس الأول: أدوات تحديد المواقع
• المواطنة. • العولمة.	• الأمانة العلمية. • تجنب نشر الشائعات.	• التمييز بين الحقيقة والرأي.	• قناة السويس (شريان الاقتصاد العالمي). • المصادر الأولية والمصادر الثانوية. • الحقيقة والرأي.	الدرس الثاني: المصادر الأولية والمصادر الثانوية
• العولمة.	• حب الوطن.	• إدراك العلاقات.	• القارات والمحيطات. • أهمية موقع مصر الجغرافي.	الدرس الثالث: موقع مصر بالنسبة إلى العالم
• المواطنة.	• الانتماء.	• جمع المعلومات وتسجيلها.	• محافظات الوجه البحري. • محافظات الوجه القبلي. • محافظات الحدود الصحراوية. • القاهرة عاصمة مصر. • جهود الدولة لتطوير العاصمة.	الدرس الرابع: محافظات مصر
• المواطنة.	• احترام الرموز الوطنية.	• التمييز بين ألوان علم مصر. • جمع المعلومات. • توليد الأفكار.	• مدلول الرموز والألوان في علم مصر. • مظاهر احترام العلم. • العيد القومي للمحافظة. • مظاهر الاحتفال بالعيد القومي للمحافظة. • شعار المحافظة.	الدرس الخامس: رموز بلدي

القضايا والتحديات	القيم	المهارات الحياتية	الموضوعات	الوحدة الثانية المظاهر الطبيعية في بلدنا
• البيئة والتنمية.	• تذوق جمال الطبيعة.	• توليد الأفكار. • الملاحظة. • إدراك العلاقات.	• المظاهر الطبيعية في مصر. • خريطة مستويات ارتفاعات سطح مصر (التضاريس).	الدرس الأول: جمال أرضنا
• البيئة.	• تقدير العلم.	• التمييز بين أوجه التشابه والاختلاف. • تطبيق الأفكار. • جمع المعلومات وتسجيلها.	• الفرق بين الطقس والمناخ. • أدوات قياس عناصر الطقس.	الدرس الثاني: الطقس والمناخ

• البيئة والتعلم • المواطنة	• المشاركة. • تحمل المسؤولية.	• استخدام مهارات التواصل غير اللفظي. • إدراك العلاقات. • الطلاقة في طرح الأفكار. • اتخاذ قرار.	• أنواع البيئات الموجودة في مصر. • الخصائص الطبيعية للبيئات المصرية. • الموارد الطبيعية في البيئات المصرية.	الدرس الثالث، البيئات المصرية ومواردها الطبيعية
• البيئة والتعلم	• تحمل المسؤولية. • المحافظة على الموارد.	• تحديد المشكلات. • جمع المعلومات وتسجيلها. • اقتراح حلول للمشكلات. • تطبيق الحلول. • تقييم الإيجابيات والسلبيات المرتبطة بقرار تم اتخاذه. • التنبؤ.	• الموارد الطبيعية (المتجددة وغير المتجددة). • مشكلات الموارد الطبيعية والمحافظة عليها لتحقيق الحياة المستدامة. • جهود مصر للحفاظ على الحياة المستدامة.	الدرس الرابع، نحو حياة مستدامة في بلدنا

المحور الثاني: الموارد والتنمية

شخصيات مصرية مؤثرة: طه حسين - محمد طلعت حرب باشا


السؤال الرئيسي: ما الحقوق التي تتمتع بها في الدولة؟ وما مسئولياتك نحوها؟

القضايا والتحديات	القيم	المهارات الحياتية	الموضوعات	الوحدة الثالثة الموارد والخدمات في بلدنا
• المواطنة	• الإتيقان.	• جمع المعلومات وتسجيلها.	• أنواع الحرف والصناعات التراثية في مصر. • أهمية الحرف التراثية.	الدرس الأول، الحرف التراثية
• المواطنة	• تحمل المسؤولية. • تقدير قيمة المال وأهمية الادخار.	• اتخاذ قرار. • تقييم القرارات.	• البنوك ودورها. • كيفية اضرار المال والقيام باستثمارات. • الفرق بين الحاجات والرغبات والاستهلاك	الدرس الثاني، المستثمر الصغير
• المواطنة	• تحمل المسؤولية. • احترام مؤسسات الدولة.	• تحديد المشكلات.	• الفرق بين السلع والخدمات. • الخدمات التي تقدمها الدولة.	الدرس الثالث، معاً لحياة أفضل
• المواطنة	• الاحترام. • الرحمة.	• التعاطف. • احترام التنوع.	• الجهود الدولية والمحلية لحماية حقوق الطفل. • حقوق ذوي الاحتياجات الخاصة. • واجبات الطفل.	الدرس الرابع، حقوق الأطفال

البيئة الطبيعية

المحور

الأول



مقدمة المحور الأول

• عُرفت بلادنا بجمال طبيعتها الفريدة وسحرها البديع على مرالعصور.

سوف نستكشف

- جمال مصر الطبيعي.
- الدورالذي لعبته من خلال موقعها المميز.
- بعض الرموز الوطنية لبلدنا مصر.
- بيئاتها المختلفة بمواردها المتنوعة والمشكلات التي تعاني منها.
- كيف نتعامل بشكل مسنول مع موارد بلدنا لتحقيق الحياة المستدامة.

السؤال الرئيسي

- ماذا نعرف عن موقع مصر وبيئاتها المختلفة ومظاهرها الطبيعية ومواردها ورموزها الوطنية؟



الدرس الثاني: المصادر الأولية والمصادر الثانوية

الدرس الأول: أدوات تحديد المواقع

الدرس الرابع: محافظات مصر

الدرس الثالث: موقع مصر بالنسبة إلى العالم

الدرس الخامس: رموز بلدى

المفاهيم الرئيسية:

- الخريطة
- مصدر ثانوى
- شعار المحافظة
- مقياس الرسم
- قارة
- مفتاح الخريطة
- محيط
- صورة جوية
- موقع جغرافى
- صورة فضائية
- محافظة
- مصدر أولى
- علم

أبرز المواقع:

- نهر النيل
- الصحراء الشرقية
- الصحراء الغربية
- قناة السويس
- شبه جزيرة سيناء



تعليم وتكنولوجيا

الدرس الأول

أدوات تحديد المواقع



تفاعل

هل استخدمت إحدى أدوات تحديد المواقع من قبل؟ ما هي؟ ولأي هدف استخدمتها؟
- نستخدم مجموعة من الأدوات التي تساعدنا في معرفة مواقع الأماكن من حولنا، مثل:
١- الخريطة.
٢- الصور.

تعلم

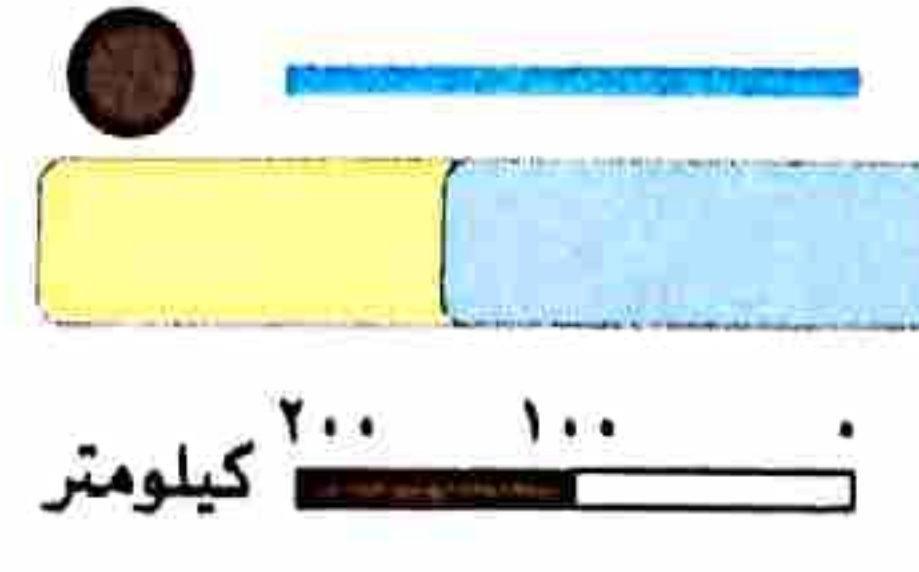
أولاً: الخريطة

رسم توضيحي لسطح الأرض أو جزء منه باستخدام

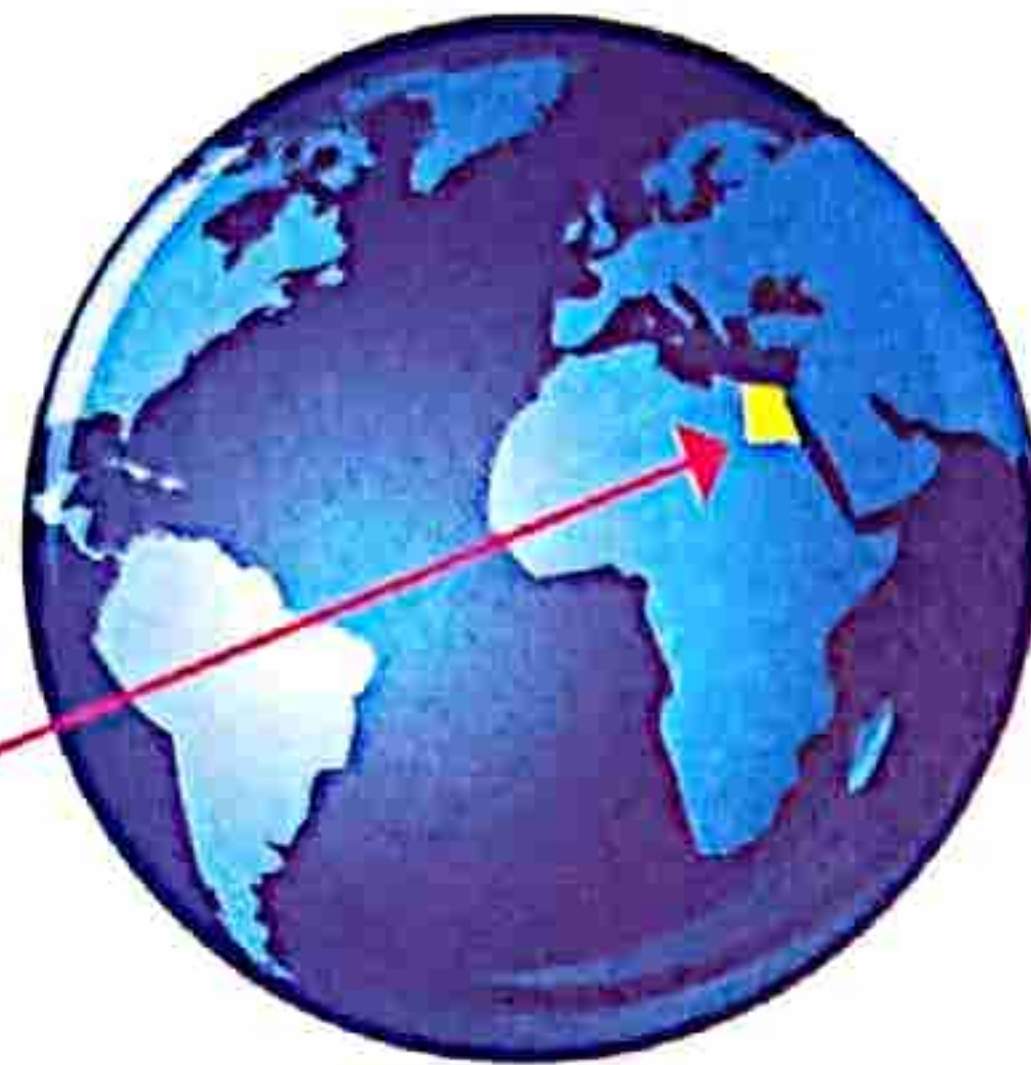
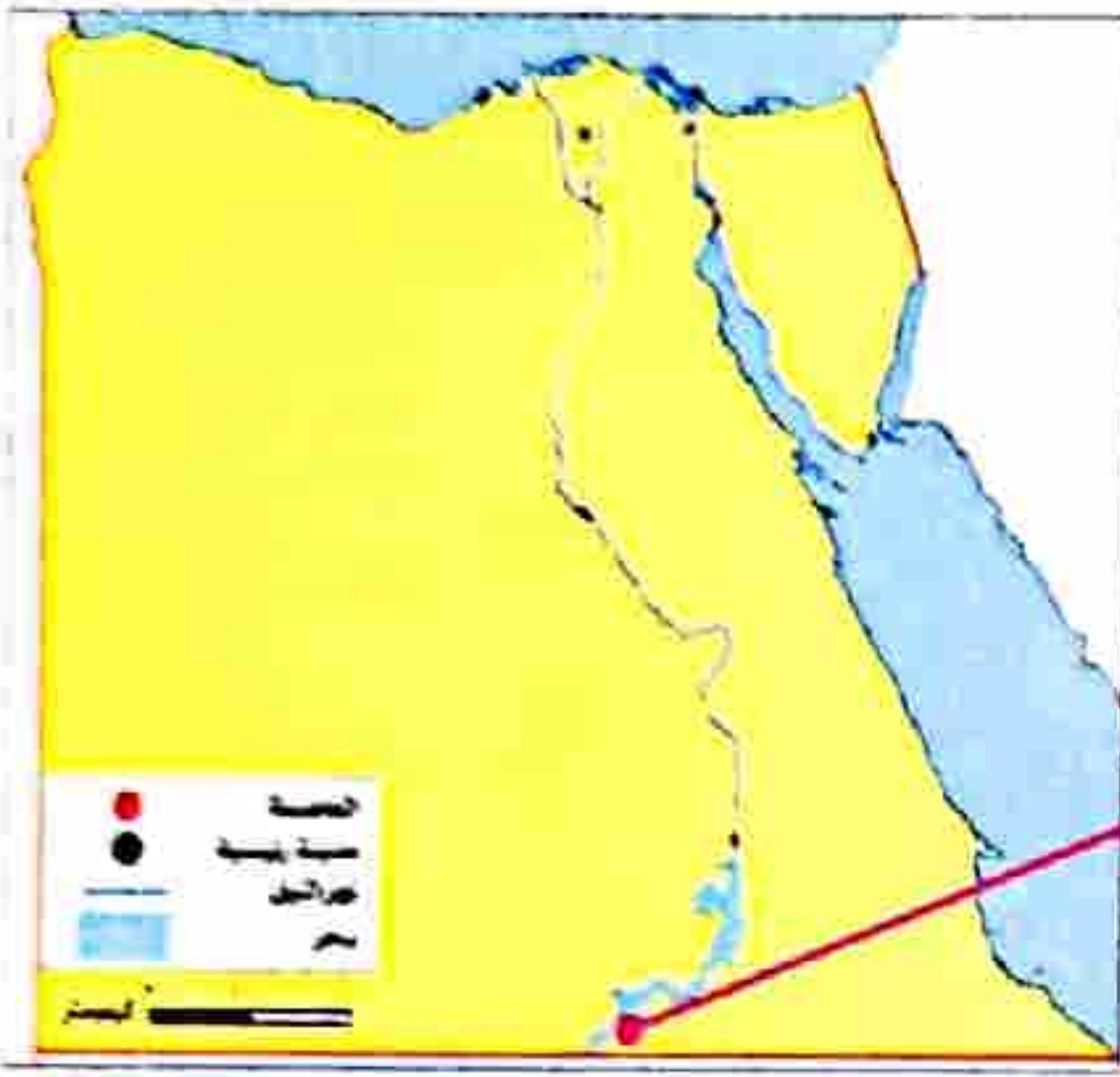
مجموعة من:

- الرموز.

- الألوان.

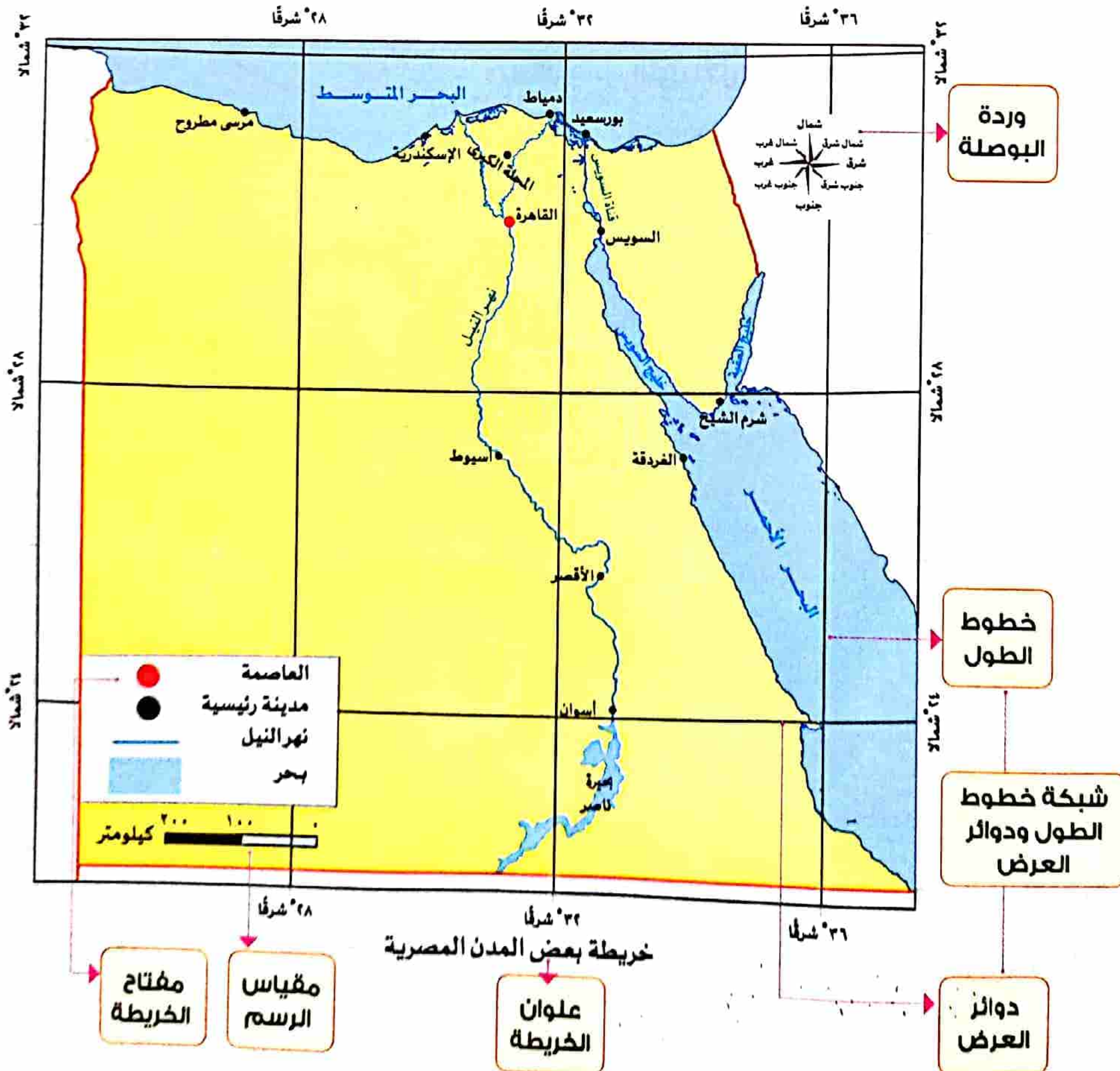


- مقياس رسم محدد.



العناصر الأساسية للخريطة

العناصر الأساسية هي:



العناصر الأساسية للخريطة

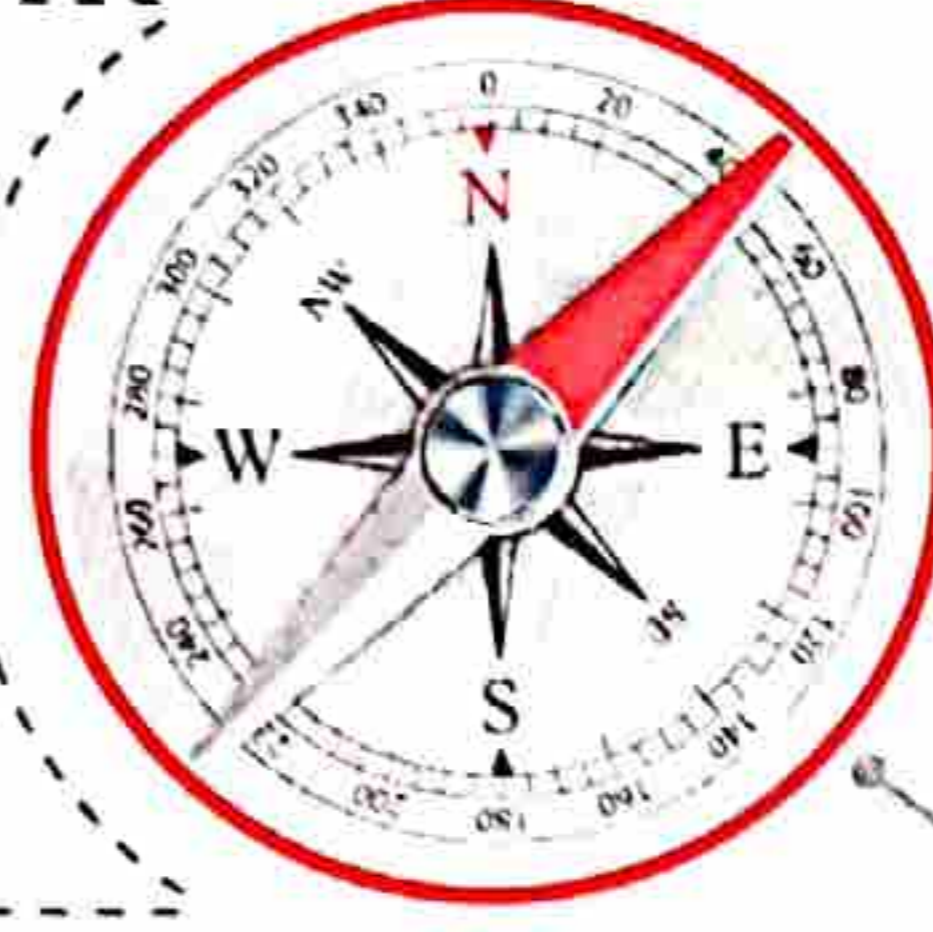
عنوان الخريطة:

يشير إلى الموضوع الذي تتناوله الخريطة، فمن خلاله نستنتج أن الخريطة السابقة توضح مواقع بعض المدن في مصر.

خريطة
بعض المدن
المصرية

وردة البوصلة:

توضح الاتجاهات الأصلية والاتجاهات الفرعية، وتساعدنا في تحديد موقع معين على الخريطة بالنسبة إلى المواقع الأخرى.



مقياس الرسم:

هو النسبة بين المسافة على الخريطة وما يقابلها على الطبيعة.

١٠٠ ٢٠٠ كيلومتر



مفتاح الخريطة:

يوضح مدلول الألوان والرموز الموجودة على الخريطة مثل: (—) الخط الأزرق يمثل نهر النيل، (●) الدائرة الحمراء تشير إلى عاصمة مصر (القاهرة)، و(●) الدوائر السوداء الصغيرة تشير إلى المدن المصرية و(■) يشير اللون الأزرق إلى البحر.



شبكة خطوط الطول ودوائر العرض:

• تستخدم في تحديد موقع المكان بالنسبة لخطوط الطول ودوائر العرض.

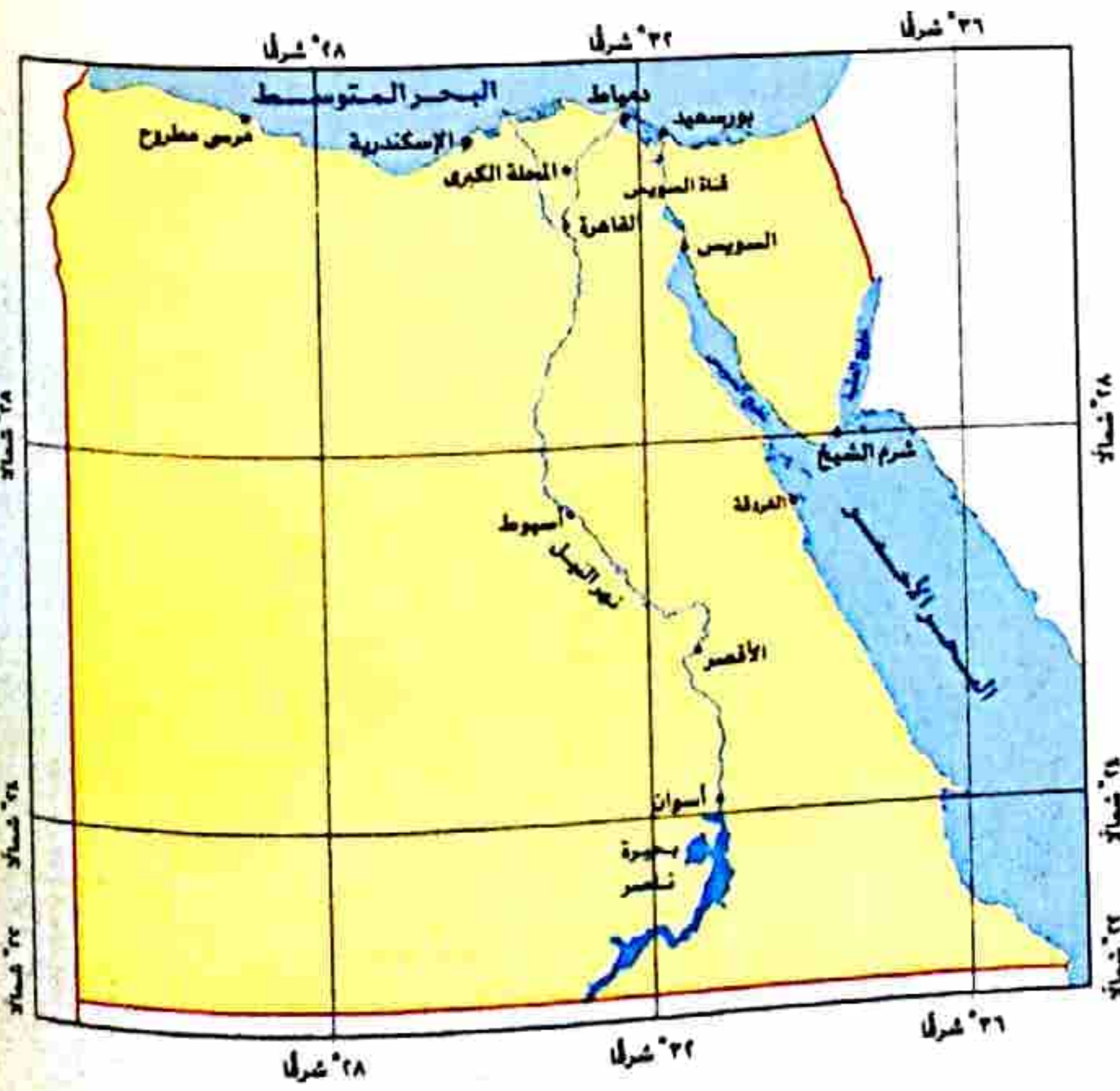


افهم وطبق

(التفكير الناقد)

- لاحظ وحدد:

لاحظ الخريطة بصفحة (١١)، ثم حدد العناصر الناقصة بالخريطة التالية، وارسمها في أماكنها الصحيحة.



بعض المدن المصرية

جيد جدًا جيد بحاجة إلى مجهود أكبر

• أحدد العناصر الأساسية للخريطة.

قيم نفسك



التكامل مع الرياضيات

• إذا نظرنا في الخريطة المقابلة نجد أن:

اسم في الرسم = ١٠٠ كم على الطبيعة، وهذا يعنى أنه إذا كانت المسافة بين القاهرة وأسيوط = ٤ سم على الخريطة فإنها = ٤٠٠ كم فى الطبيعة.

افهم وطبق

١- لاحظ خريطة مصر فى صفحة (١١)، وأجب بالاستعانة بالمثل السابق.

استخدم مقياس الرسم لمعرفة المسافة بين كل منطقتين من المناطق التالية من مدينة:

- (أ) الأقصر إلى مدينة أسوان ١٥٠ كيلو متراً.
 (ب) المحلة الكبرى إلى مدينة القاهرة.
 (ج) الإسكندرية إلى مدينة دمياط.
 (د) مرسى مطروح إلى مدينة دمياط.

علمًا بأن المسافة بين المدن على الخريطة هي: أ ١,٥ سم ب ٢ سم ج ٢,٥ سم د ٥ سم

٢- لاحظ الخريطة فى صفحة (١١) ثم أجب عما يلى:

(أ) استخدم وردة البوصلة لتحديد موقع كل مكان مما يلى بالنسبة إلى المكان الآخر:

- ١- مدينة بورسعيد / مدينة المحلة الكبرى: تقع مدينة بورسعيد شمال شرق مدينة المحلة الكبرى.
 ٢- بحيرة ناصر / مدينة القاهرة
 ٣- مدينة شرم الشيخ / مدينة الغردقة
 ٤- مدينة الإسكندرية / مدينة السويس

(ب) ارسم ولون:

ارسم وردة البوصلة، ولونها مع مراعاة كتابة أسماء الاتجاهات الأصلية والفرعية عليها.

قيم نفسك

• استخدم وردة البوصلة لتحديد الاتجاهات الأصلية والفرعية. جيد جدًا جيد بحاجة إلى مجهود أكبر

أهمية الخريطة:

◀ تستخدم الخريطة للتعرف على الأماكن المختلفة وتحديد مواقعها. فمثلاً يستخدمها:

الجيش فى تحديد المواقع
الحرية.



الفلاح فى تحديد ملكية
الأرض الزراعية.



الطيار وقبطان السفينة
لتحديد المواقع.



السائح للوصول إلى
الأماكن السياحية والأثرية.



التلميذ فى مذاكرة دروسه، وفى تحديد الأماكن التى يرغب فى الذهاب إليها.

ثانياً: الصور

يمكننا استخدام الصور في تحديد مواقع الأماكن، ويوجد منها نوعان، هما:



الصور الفضائية



الصور الجوية

العلاقة بينهما
(أدوات تحديد
المواقع)

- (صور الأقمار الصناعية) يتم التقاطها باستخدام الأقمار الصناعية.
- تتميز بأنها تغطي مساحات أكبر ومواقع أكثر من الصور الجوية.

- يتم التقاطها من الجو باستخدام الطائرات.
- تعطينا صورة حقيقية لسطح الأرض ومعالمها.
- تساعد في رسم خرائط أكثر تفصيلاً ودقة.

سؤال

أكمل العبارتين الآتيتين:

- ١- تلتقط الصور الجوية باستخدام ٢- تلتقط الصور الفضائية باستخدام

افهم وطبق

فكر وقارن: استنتج أوجه التشابه والاختلاف بين الصور الجوية والصور الفضائية، وسجلها في الجدول التالي:

الصور الجوية	الصور الفضائية
أوجه التشابه
أوجه الاختلاف

قيم نفسك

• استنتج أوجه الاختلاف بين الخرائط والصور الجوية والصور الفضائية جيد جدًا جيد بحاجة إلى مجهود أكبر

استكشف وراجع

استكشف:

- استخدم ما تعلمته في هذا الدرس لتصميم خريطة بسيطة للمنطقة التي تعيش فيها، مع مراعاة أن تتضمن ثلاثة عناصر على الأقل من عناصر الخريطة، ثم شاركها مع زميل لك.

راجع:

- ١- لخص بأسلوبك الخاص أهمية كل عنصر من عناصر الخريطة.
٢- اشرح أهمية الخريطة في حياتنا.

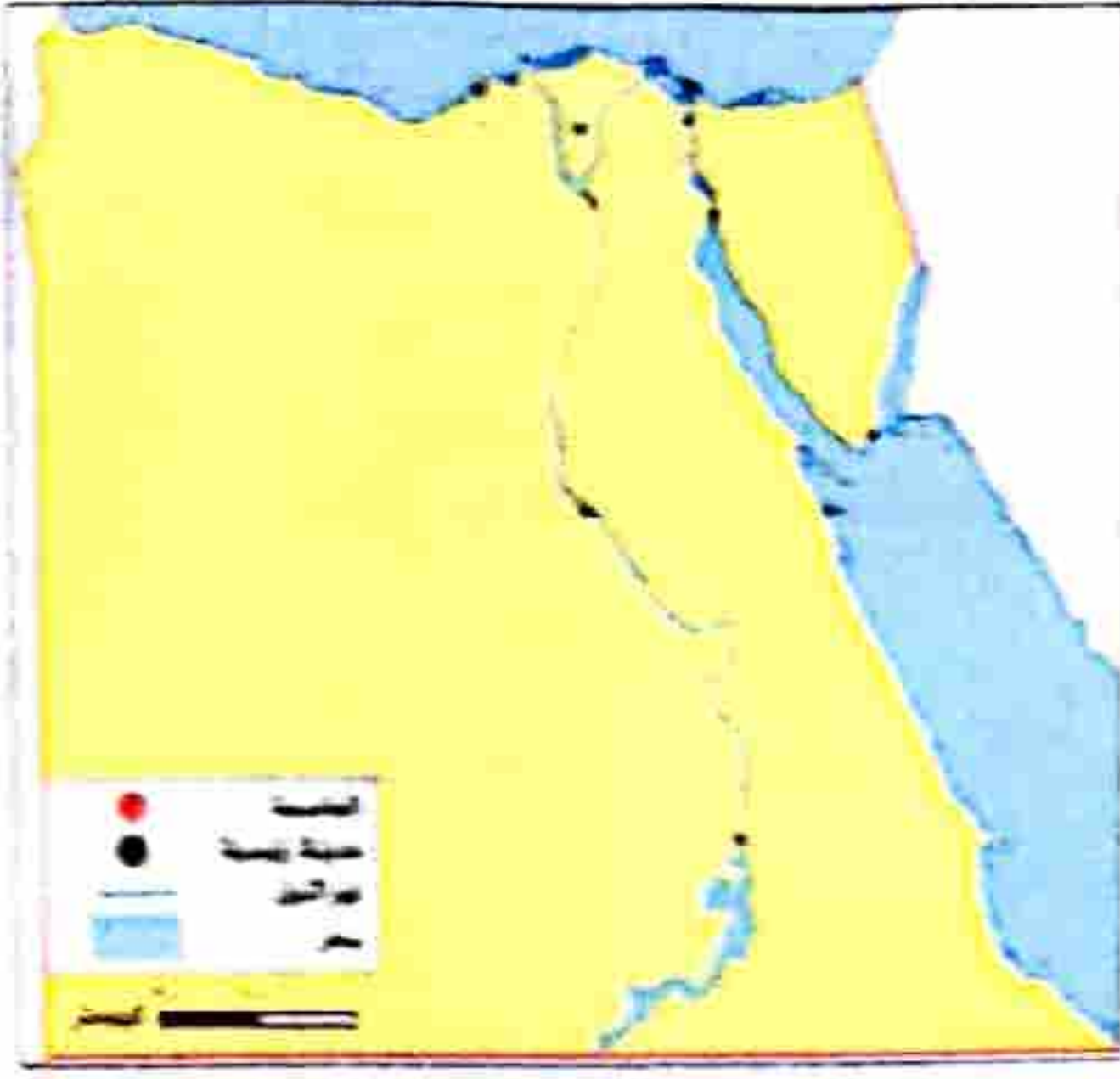
ملخص الدرس

الدرس الأول



الخريطة

• رسم توضيحي لسطح الأرض أو جزء منه باستخدام مجموعة من:
(الرموز - الألوان - مقياس رسم محدد)



العناصر الأساسية للخريطة:

مفتاح الخريطة

يوضح مدلول الألوان والرموز الموجودة على الخريطة.

وردة البوصلة

توضح الاتجاهات الأصلية والفرعية، وتساعدنا في تحديد موقع معين على الخريطة.

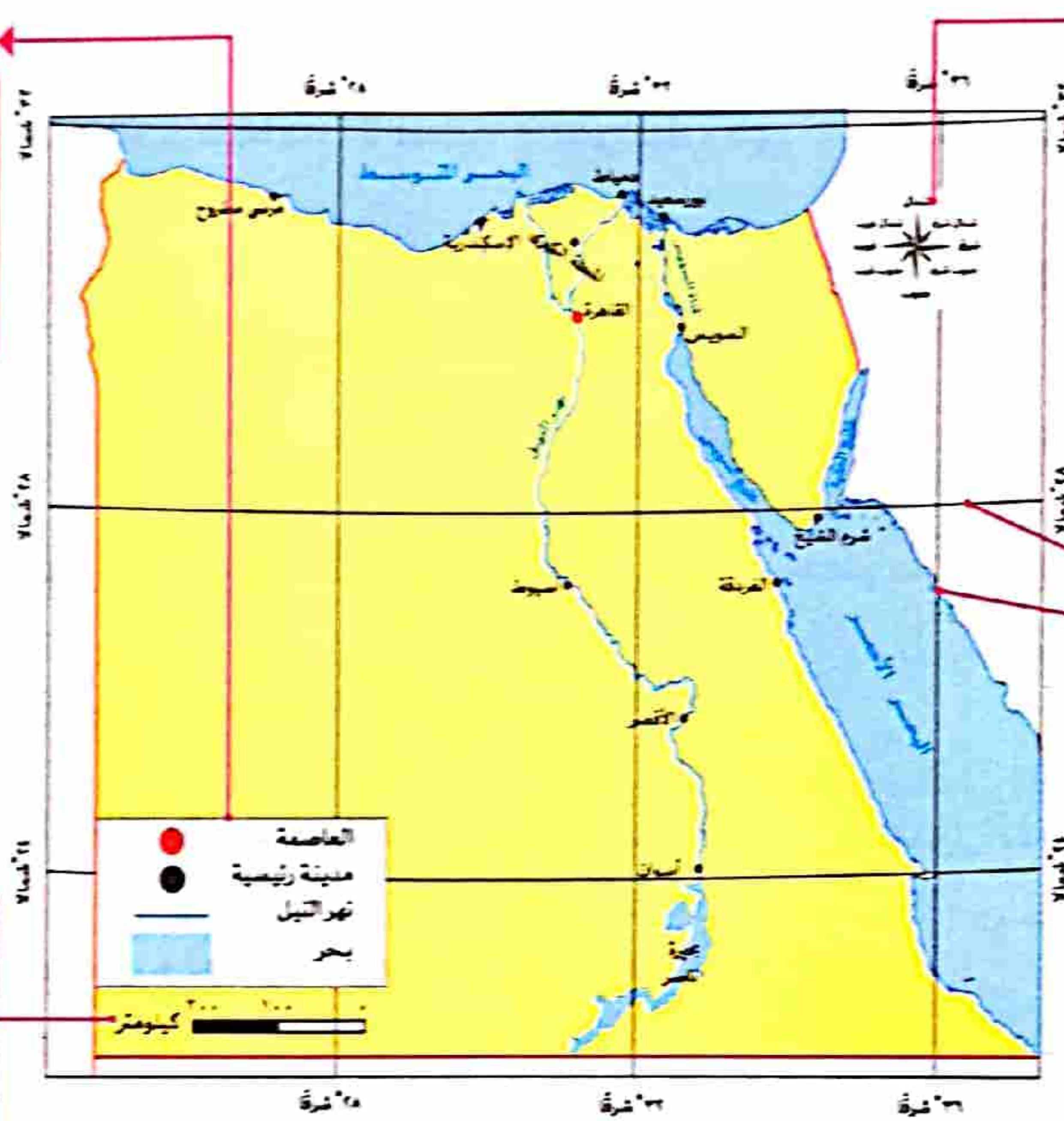
شبكة خطوط الطول ودوائر العرض تستخدم في تحديد موقع المكان بالنسبة لخطوط الطول ودوائر العرض.

عنوان الخريطة

يشير إلى الموضوع الذي تتناوله الخريطة.

مقياس الرسم

هو النسبة بين المسافة على الخريطة وما يقابلها على الطبيعة.



خريطة بعض المدن المصرية

• أهمية الخريطة في حياتنا: تستخدم في التعرف على الأماكن ومواقعها، فمثلاً يستخدمها:

التلميذ	الطيّار والقبطان	السائح	الجيش	الفلاح
لمذاكرة دروسه وتحديد الأماكن التي يرغب في الذهاب إليها.	لتحديد المواقع.	للوصول إلى الأماكن السياحية والأثرية.	لتحديد المواقع الحربية.	لتحديد ملكية الأرض الزراعية.

الفرق بين الصور الجوية والفضائية:

الصور الفضائية

- تلتقط باستخدام الأقمار الصناعية.
- تتميز بأنها تغطي مساحات أكبر ومواقع أكثر من الصور الجوية.

الصور الجوية

- تلتقط من الجو باستخدام الطائرات.
- تعطينا صوراً حقيقية لسطح الأرض.
- تساعد في رسم خرائط أكثر تفصيلاً ودقة.



السؤال الأول أكمل العبارات الآتية بما يناسبها من كلمات:

- ١ رسم توضيحي لسطح الأرض أو جزء منه
- ٢ عنصر من العناصر الأساسية للخريطة يوضح مدلول الألوان والرموز.....
- ٣ يشير لمعرفة الموضوع الذي تتناوله الخريطة
- ٤ يستخدم لحساب المسافة بين المواقع
- ٥ توجد على الخريطة وتوضح الاتجاهات الأصلية والفرعية، هي

السؤال الثاني ضع علامة (✓) أمام العبارة الصحيحة، وعلامة (X) أمام العبارة غير الصحيحة:

- ١ الخريطة هي رسم لجزء من الأرض باستخدام الرموز والألوان ومقياس رسم محدد. ()
- ٢ يظهر مدلول الألوان والرموز الموجودة على الخريطة في شبكة خطوط الطول ودوائر العرض. ()
- ٣ الصور الفضائية من الأدوات التي تستخدم في تحديد المواقع. ()
- ٤ الصور الجوية تغطي مساحات أكبر من الأماكن والمواقع أكثر من الصور الفضائية. ()
- ٥ تستخدم شبكة خطوط الطول ودوائر العرض في تحديد موقع المكان. ()
- ٦ يستفيد قبطان السفينة من الخريطة في تحديد موقعه بالبحر. ()
- ٧ تستخدم الأقمار الصناعية في التقاط الصور الجوية. ()
- ٨ يستخدم مقياس الرسم في تحديد الاتجاهات على الخريطة. ()
- ٩ الصور الجوية هي رسم يوضح أجزاء من سطح الأرض. ()

السؤال الثالث ضع دائرة حول الإجابة الصحيحة مما يلي:

- ١ تساعد في تحديد الاتجاهات الأصلية والفرعية على الخريطة هي
(مقياس الرسم - وردة البوصلة - خطوط الطول - دوائر العرض)
- ٢ تختلف الصور الفضائية عن الصور الجوية في أنها تلتقط عن طريق
(الطائرات - الأقمار الصناعية - السفن - القطارات)
- ٣ يستخدم الخريطة في تحديد ملكية الأراضي الزراعية.
(السائح - الضابط - الطالب - الفلاح)

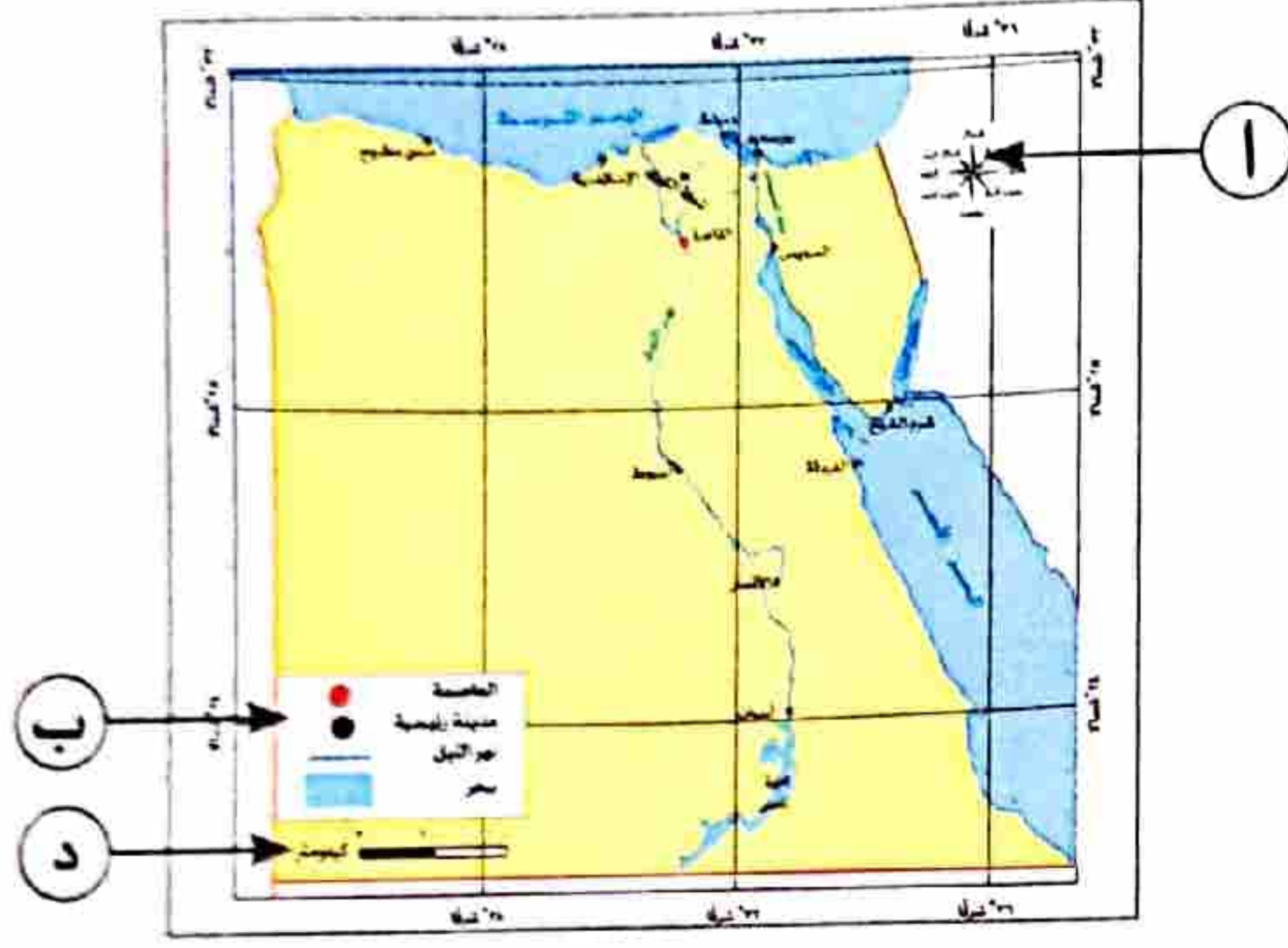
٤ الجهة التي تقع بين الجنوب والشرق هي جهة

(الشمال الشرقي - الشمال الغربي - الجنوب الشرقي - الجنوب الغربي)

٥ عند رسم محافظة الأقصر في ورقة صغيرة فإننا نستخدم العنصر التالي من عناصر الخريطة

(العنوان - مقياس الرسم - وردة البوصلة - المفتاح)

السؤال الرابع أمامك خريطة لمصر، حدد الحرف المناسب لكل عنصر مما يلي:



خريطة بعض المدن المصرية → ج

١ عنوان الخريطة ()

٢ وردة البوصلة ()

٣ مقياس الرسم ()

٤ مفتاح الخريطة ()

السؤال الخامس اكتب ما تشير إليه العبارات الآتية:

١ رسم لسطح الأرض باستخدام الرموز والألوان. (.....)

٢ صورة يتم التقاطها من الجو باستخدام الطائرات. (.....)

٣ صورة يتم التقاطها باستخدام الأقمار الصناعية. (.....)

٤ من عناصر الخريطة الأساسية ويشير إلى الموضوع الذي تناوله الخريطة. (.....)

٥ النسبة بين المسافة على الخريطة وما يقابلها على الطبيعة. (.....)

٦ توضح الاتجاهات الأصلية والفرعية وتساعد في تحديد الموقع. (.....)

٧ يوضح مدلول الألوان والرموز الموجودة على الخريطة. (.....)

السؤال السادس حدد العلاقة بين كل مفهومين من المفاهيم التالية:

١ شبكة خطوط الطول ودوائر العرض وموقع المكان.

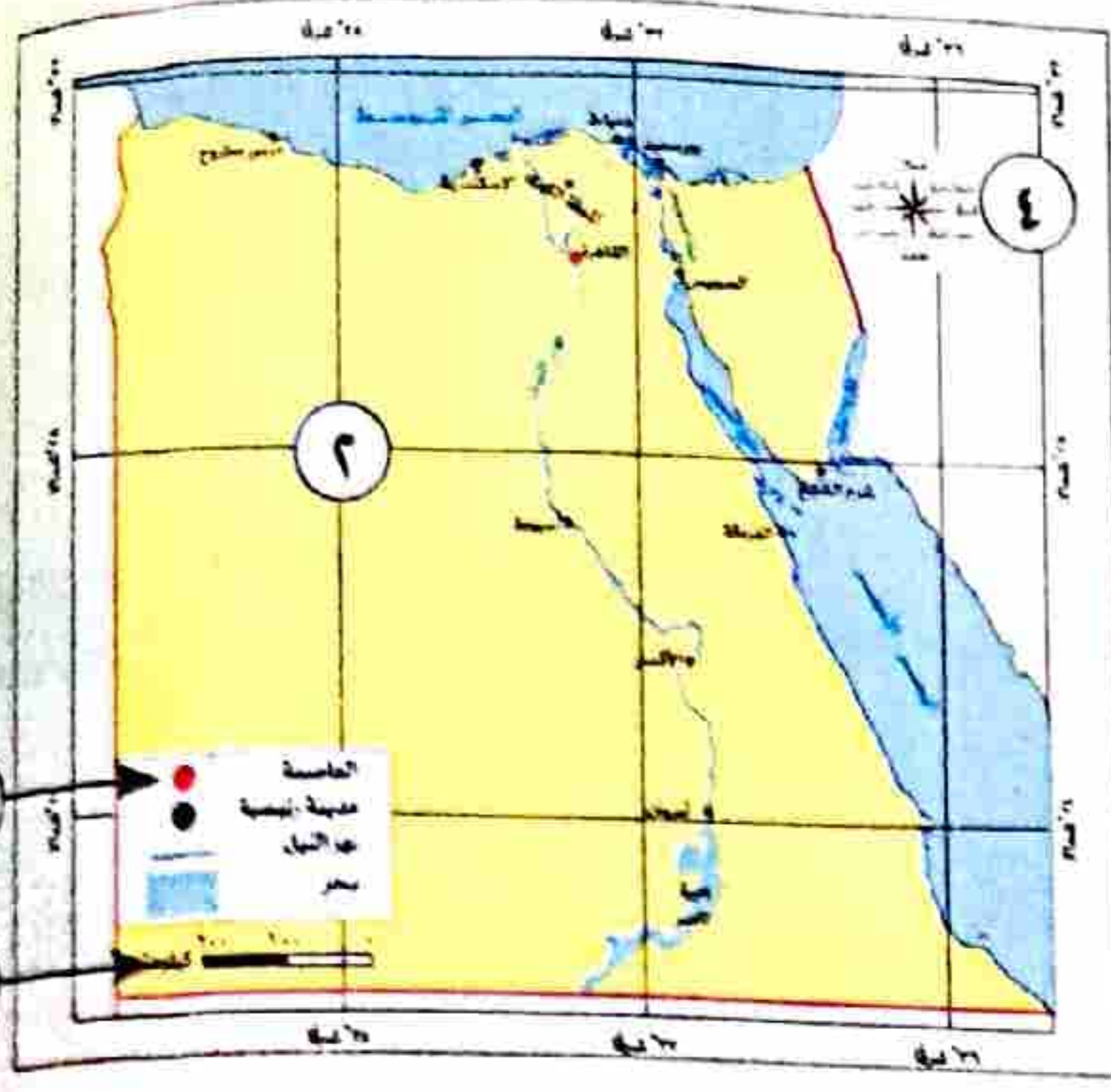
٢ الصور الجوية والصور الفضائية.

السؤال السابع فسر السبب:

١ أهمية رسم وردة البوصلة على الخريطة

٢ أهمية الخريطة للجيش

السؤال الأول: لاحظ الخريطة المقابلة واكتب مدلول الأرقام التالية:



- ١- يشير رقم (١) على الخريطة إلى (القاهرة ٢٠٢٣)
- ٢- يشير رقم (٢) على الخريطة إلى (القليوبية ٢٠٢٣)
- ٣- يشير رقم (٣) على الخريطة إلى (المنيا ٢٠٢٢)
- ٤- يشير رقم (٤) على الخريطة إلى (سوهاج ٢٠٢٣)

السؤال الثاني: اختر الإجابة الصحيحة مما بين القوسين:

- ١- إذا أردت حساب المسافة بين محافظتى القاهرة والجيزة فى الطبيعة فإنك تحتاج إلى معرفة
(عنوان الخريطة - مقياس رسم الخريطة - مفتاح الخريطة - وردة البوصلة) (الجيزة ٢٠٢٣)
- ٢- لمعرفة مدلول الألوان والرموز الموجودة على الخريطة فإننا ننظر إلى
(عنوان الخريطة - مقياس رسم الخريطة - مفتاح الخريطة - وردة البوصلة) (الإسكندرية ٢٠٢٣)
- ٣- إذا أردت حساب المسافة من البحر المتوسط والحدود الجنوبية لمصر نستخدم
(عنوان الخريطة - مقياس الرسم - مفتاح الخريطة - وردة البوصلة) (الدقهلية ٢٠٢٣)
- ٤- نستخدم فى تحديد الاتجاهات الأصلية والفرعية
(دوائر العرض - وردة البوصلة - مقياس الرسم - الساعة) (الدقهلية ٢٠٢٣)

السؤال الثالث: اكتب كلمة (صواب) أمام العبارة الصحيحة، وكلمة (خطأ) أمام العبارة غير الصحيحة:

- ١- تستخدم الأقمار الصناعية فى التقاط الصور الفضائية . () (سوهاج ٢٠٢٣)
- ٢- يستخدم مقياس الرسم فى تحديد الاتجاهات على الخريطة. () (الجيزة ٢٠٢٣)
- ٣- إذا أردت رسم خريطة تفصيلية لجزء من مصر فإنك تعتمد على الصورة الجوية. () (المنوفية ٢٠٢٢)
- ٤- تستخدم شبكة خطوط الطول ودوائر العرض فى تحديد المواقع. () (الإسكندرية ٢٠٢٣)
- ٥- يستخدم الطيار وقبطان السفينة الخريطة لتحديد المواقع. () (الدقهلية ٢٠٢٣)

السؤال الرابع: أكمل العبارات الآتية بكلمات مناسبة:

- ١- الجهة المقابلة لجهة الغرب (القاهرة ٢٠٢٢)
- ٢- رسم توضيحي لسطح الأرض أو جزء منه هى (القاهرة ٢٠٢٢)

السؤال الخامس: صوب ما تحته خط: يساعد عنوان الخريطة على فهم الرموز والألوان.

السؤال السادس: أجب عما يأتى:

- ١- حدد سببًا واحدًا: لأهمية رسم وردة البوصلة على الخريطة. (الجيزة ٢٠٢٣)
- ٢- اكتب تفسيرًا: لأهمية الخريطة للفلاح. (الشرقية ٢٠٢٢)
- ٣- فسر: أهمية الخريطة فى حياتنا. (المنيا ٢٠٢٣)

السؤال السابع: وضح: أوجه الاختلاف بين الصورة الجوية والصورة الفضائية

(المنوفية ٢٠٢٣)



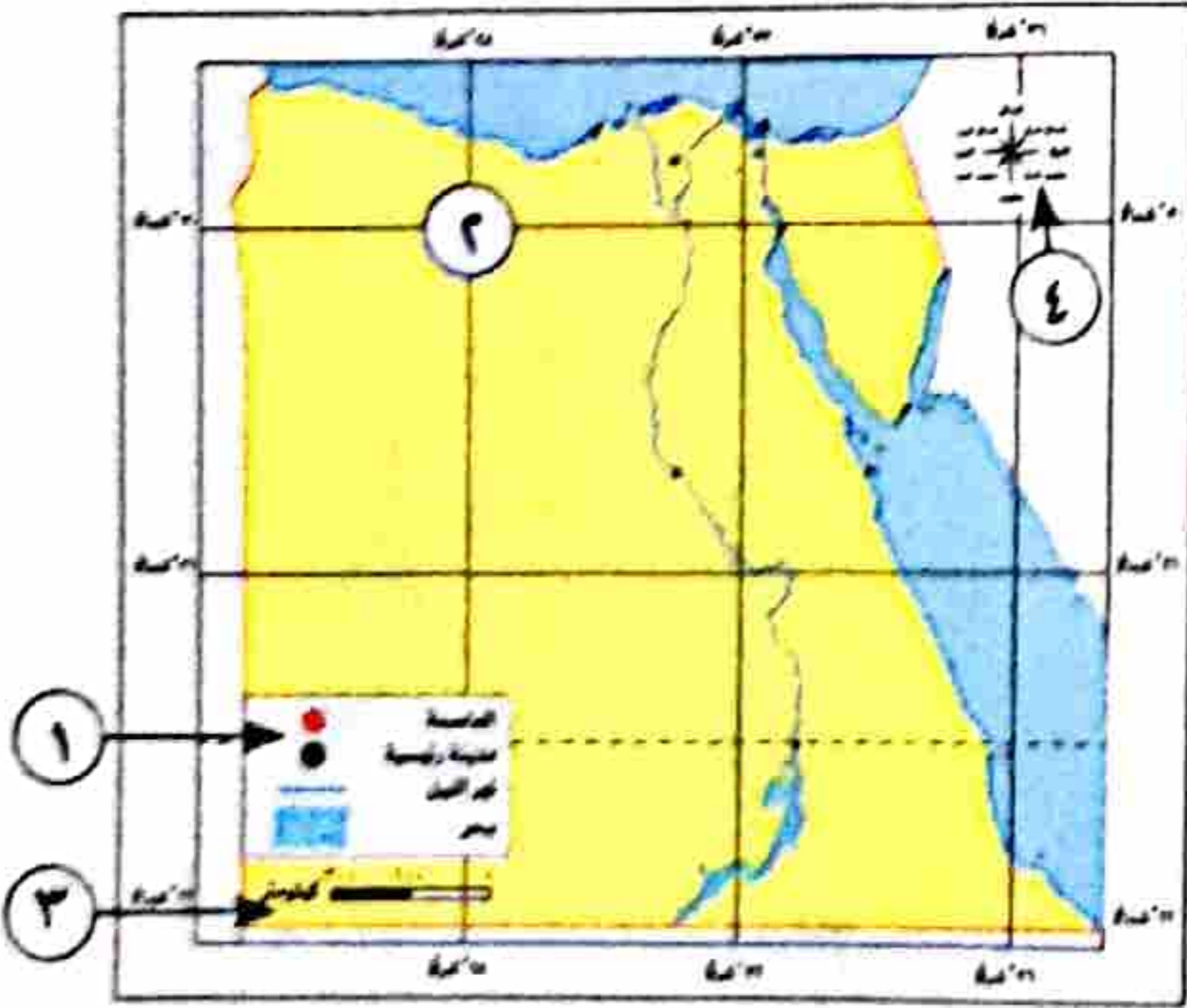
السؤال الأول: ضع دائرة حول الإجابة الصحيحة مما يلي:

- ١- يوضح مدلول الألوان والرموز على الخريطة (العنوان - المفتاح - المقياس - الإحداثيات)
- ٢- صور تتميز بتغطيتها مساحات أكبر ومواقع أكثر من الصور الجوية هي
(الصور الفوتوغرافية - الصور الفضائية - الصور البيانية - الصور الشخصية)
- ٣- تلتقط الصور الجوية بواسطة (القطارات - السيارات - الطائرات - الدراجات)
- ٤- لرسم خرائط العاصمة الإدارية الجديدة يمكن الاستعانة ب.....
(الصور الجوية - الخرائط البيانية - الصور الفوتوغرافية - الخرائط المناخية)
- ٥- شبكة تعد من العناصر الأساسية للخريطة وتستخدم في تحديد موقع المكان هي
(شبكة المثلثات - شبكة خطوط الطول ودوائر العرض - شبكة خطوط الطول فقط - شبكة دوائر العرض فقط)

السؤال الثاني: (أ) ضع علامة (✓) أمام العبارة الصحيحة، وعلامة (X) أمام العبارة غير الصحيحة:

- ١- الشمال الغربي من الاتجاهات الأصلية. ()
 - ٢- الصور الجوية يتم تصويرها من أماكن منخفضة من سطح الأرض. ()
 - ٣- الأقمار الصناعية تلتقط عددًا أكبر من المواقع أكثر من الملتقطة بالطائرة. ()
- (ب) اشرح: أهمية الخريطة بالنسبة للجيش.

السؤال الثالث: أمامك خريطة لمصر، اكتب مدلول الأرقام عليها:



٥ → خريطة صماء لمصر

- ١- يشير رقم (١) إلى
- ٢- يشير رقم (٢) إلى
- ٣- يشير رقم (٣) إلى
- ٤- يشير رقم (٤) إلى
- ٥- يشير رقم (٥) إلى






تفاعل

- من أين تحصل على معلومات عن قناة السويس؟
- كيف تتأكد من صحتها؟

تعلم

قناة السويس «شريان الاقتصاد العالمي»

هي أهم ممر ملاحى عالمى يربط بين البحر الأحمر والبحر المتوسط، وبفضلها احتلت مصر دورًا مهمًا فى التجارة الدولية، وازداد هذا الدور أهمية بعد حفر قناة السويس الجديدة عام ٢٠١٥م.



قناة السويس الجديدة

حفر وافتتاح القناة

بداية الفكرة

تم إنشاء قناة جديدة موازية لتسيير السفن فى الاتجاهين بدون توقف فى مناطق انتظار داخل القناة؛ مما قلل من زمن عبور السفن. وقد تم افتتاح قناة السويس الجديدة فى عام ٢٠١٥م.

تم حفر قناة السويس بسواعد المصريين وتحت إشراف مهندسين فرنسيين، وتم افتتاحها عام ١٨٦٩م للملاحة العالمية فى حفل كبير دُعِيَ إليه ملوك العالم.

كانت حلمًا راود الكثير من حكام مصر منذ القدم، وفى عهد الملك سنوسرت الثالث تم حفر قناة تربط بين البحرين الأحمر والمتوسط عن طريق نهر النيل وسُميت بقناة سيزوستريس.



قناة السويس

قناة سيزوستريس

قناة السويس الجديدة

للحصول على معلومات عن حفر قناة السويس فإنك سوف تبحث في المصادر الأولية أو الثانوية للمعلومات.

التعريف

المصادر الأولية

كل ما تم نقشه أو تدوينه سواء من قبل أشخاص عاصروا الحدث أو شاركوا فيه، ويرتبط بزمن وقوع الحدث.

المصادر الثانوية

كل ما تم تدوينه بعد مرور زمن طويل من وقوع الحدث، وغالبًا ما يستند إلى المصادر الأولية.

المميزات

- مصادر لتوثيق المعلومات والأحداث.
- معاصرة للأحداث.

- مصادر لتوثيق المعلومات والأحداث.
- يسهل الحصول عليها.

الأمثلة

- المخاطبات
- النقوش على القطع الأثرية أو المعابد والبرديات.
- كتابات المؤرخين.
- الصور والأفلام التسجيلية والمقالات التي عاصرت الحدث.

الكتب - المقالات - الموسوعات - الأبحاث (التي كتبت بعد وقوع الحدث بفترة طويلة).

افهم وطبق

تريد إجراء بحث عن قناة السويس، وعليك أن تستخدم المصادر الأولية والثانوية.

- اقرأ قائمة المصادر التالية، ثم ضع علامة (✓) تحت كلمة (أولى) أو (ثانوي) أمام كل عبارة، ثم تناقش مع زميلك حول كيف يمكن أن يساعدك كل مصدر على إيجاد معلومات عن القناة.


العبارة	أولى	ثانوي
١- مقالة عن قناة السويس في صحيفة عام ١٨٦٩م.	✓	
٢- رسالة كتبها المهندس المسئول عن مشروع حفر القناة.		
٣- مقالة في موسوعة حول تاريخ القناة.		
٤- مخطط لمشروع حفر القناة.		
٥- تقرير لأحد المهندسين عن تطورات حفر القناة.		
٦- أحد المؤلفات عن حفر قناة السويس عام ٢٠٠٠م.		
٧- صورة مرسومة لقناة السويس حاليًا.		

قيم نفسك • أميز بين المصادر الأولية والمصادر الثانوية جيد جدًا جيد بحاجة إلى مجهود أكبر

الفرق بين الحقيقة والرأى:

عندما تبحث فى المصادر الأولية والثانوية للمعلومات لا بد أن تميز بين الحقائق والآراء التى يتضمنها المصدر.


الرأى



تعبير عما يشعر به أو يفكر فيه شخص ما تجاه موضوع معين، وقد يكون صحيحًا أو خطأ؛ لذلك:

لا يجب التسرع فى الأخذ به إلا بعد التأكد من صحته.

الحقيقة



هى معلومات أو أحداث تم إثبات صحتها والتأكد من دقتها، سواء من خلال البحث أو التجريب، وتتسم بـ:

الدقة والموضوعية.

سؤال؟

- وضح الفرق بين: الحقيقة والرأى.

افهم وطبق

(١) اقرأ المعلومات التالية، ثم حدّد ما إذا كانت كل عبارة تعبر عن حقيقة (ح) أو رأى (ر):

رأى (ر)	حقيقة (ح)	العبارة
ر		١- مدينة الغردقة هى أجمل مدينة فى مصر.
		٢- بلغ عدد سكان الغردقة ١٩٠٥٩٢ نسمة وفق تعداد ٢٠١٧م.
		٣- الهرم الأكبر هو المعلم الأثرى السياحى الأهم فى مصر.
		٤- بُنى الهرم الأكبر فى عهد الملك خوفو.
		٥- هذه صورة رائعة لقناة السويس.
		٦- تم افتتاح قناة السويس عام ١٨٦٩ م.

(ب) ادخل على الرابط التالى <https://egy-map.com> لموقع خريطة مشروعات مصر، واجمع معلومات عن مشروع قناة السويس الجديدة، ثم لخص هذه المعلومات، واعرضها على زملائك، موضحًا ما يلى:

- ١- أنواع المصادر التى تضمنها الموقع.
- ٢- أهمية القناة فى ضوء المعلومات التى جمعتها.
- ٣- رأياً وحقيقة استخلصتهما من الموقع.

قيم نفسك

• أميز بين الحقائق والآراء

• أستخدم المصادر الأولية والمصادر الثانوية للحصول

على المعلومات

- جيد جدًا جيد بحاجة إلى مجهود أكبر
- جيد جدًا جيد بحاجة إلى مجهود أكبر

للحكم على مدى صحة المعلومات الواردة في أي مصدر، لا بد من:

١- معرفة من المؤلف.

٢- هل المؤلف شارك في الحدث أو عاصر وقت حدوثه؟

٣- ما هدف المؤلف من النص؟

٤- هل هدف المؤلف تزويدك بمعلومات أو محاولة إقناعك بفكرة ما؟

- بعد اتباع الخطوات السابقة ، يساعدك ذلك على:

- التمييز بين الحقائق والآراء التي يتضمنها النص .

- المقارنة بين المعلومات الواردة في المصدر بمصادر أخرى تؤكد صحة هذه المعلومات .

- الحرص دائماً على عدم نقل أي معلومة دون أن أتأكد من صحتها .

١- كيف يمكنك الحكم على أن ما كتبه المؤلف يمثل حقيقة أم رأياً؟

إذا ذكر المؤلف معلومات أو أحداثاً صحيحة ودقيقة فهذا يكون حقيقة، أما إذا عبر عما يشعر به أو يفكر فيه فهذا يسمى رأياً.

٢- ما خطورة نشر معلومات غير صحيحة على وسائل التواصل الاجتماعي؟

يؤثر ذلك على استقرار وأمن المجتمع .

- لاحظ المصدرين التاليين عن قناة السويس، واستكشف الفرق بينهما:

١

المصدر ١: جزء من فرمان الامتياز الأول لحفر قناة السويس الصادر في ٣٠ نوفمبر عام ١٨٥٤م في عهد سعيد باشا والى مصر. المادة الأولى: يؤسس المسيو فرديناند ديلسبس شركة نعهد إليه إدارتها تسمى (الشركة العامة لقناة السويس) تكون مهمتها: القيام بشق برزخ السويس، واستغلال طريق صالح للملاحة الكبرى، وإنشاء وإعداد مدخلين كافيين؛ أحدهما على البحر المتوسط، والآخر على البحر الأحمر، وبناء مرفأ أو مرفأين. المادة الثانية: يُعين مدير الشركة دائماً من قبل الحكومة، ويُختار ما أمكن من بين المساهمين الذين لهم أوثق الصلة بالمنشأة. المادة الثالثة: مدة الالتزام تسع وتسعون سنة تبتدئ من التاريخ الذي تنفتح فيه قناة البحرين.

٢

المصدر ٢: فقرة من كتاب قناة السويس: تاريخها ومشكلاتها، أنجلو ساماركو ٢٠١٥م. «إن حفر قناة السويس تم بمواصفات خاصة مراعاة للظروف الطبيعية للمنطقة، لقد كان حفرها يحتاج إلى عبقرية فنية رائعة، إن مصر بموقعها المتميز بين قارات العالم ازدادت أهمية بحفر قناة السويس التي جعلت من مصر نقطة التقاء لكافة دوائر الاتصالات العالمية، فضلاً عن أن قناة السويس هي الشريان التجاري الأهم في العالم والذي يصل طرق التجارة بعضها ببعض».

استكشف وراجع

استكشف:

- استخدم شبكة المعلومات الدولية (الإنترنت) ومكتبة المدرسة لجمع معلومات عن قناة السويس مستعيناً بمصادر المعلومات المختلفة، ثم صنّف هذه المصادر إلى مصادر أولية ومصادر ثانوية.

راجع:

١- حدّد أوجه التشابه والاختلاف بين المصادر الأولية والثانوية.

٢- في رأيك، ما أهمية الاستناد إلى المصادر الأولية والثانوية لدراسة حدث ما؟

• لكي تتأكد من صحة المعلومات الواردة عن موضوع ما، فإنك سوف تبحث عن مصادر المعلومات المختلفة:

التعريف

المصادر الثانوية

كل ما تم تدوينه بعد مرور زمن طويل منذ وقوع الحدث، وغالبًا ما يستند إلى المصادر الأولية.

المصادر الأولية

كل ما تم نقشه أو تدوينه سواء من قبل أشخاص عاصروا الحدث أو شاركوا فيه، ويرتبط بزمن وقوع الحدث.

مميزات

- مصادر لتوثيق المعلومات والأحداث.
- يسهل الحصول عليها.

- مصادر لتوثيق المعلومات والأحداث.
- معاصرة للأحداث.

أمثلة

- الكتب.
- المقالات.
- الموسوعات.
- الأبحاث.
- (التي كُتبت بعد وقوع الحدث بفترة طويلة).

- المخاطبات.
- الوثائق الرسمية.
- النقوش على القطع الأثرية أو المعابد والبرديات.
- كتابات المؤرخين.
- الصور والأفلام التسجيلية والمقالات التي عاصرت الحدث.

• عندما تبحث في مصادر المعلومات الأولية والثانوية لا بد أن تميز بين الحقائق والآراء التي يتضمنها المصدر.

الرأى

تعبير عما يشعر به أو يفكر فيه شخص ما تجاه موضوع معين، وقد يكون صحيحًا أو خطأ.

لا يجب التسرع فى الأخذ به إلا بعد التأكد منه.

مثال: مدينة الغردقة هى أجمل مدينة فى مصر.

الحقيقة

هى معلومات أو أحداث تم إثبات صحتها والتأكد من دقتها، سواء من خلال البحث أو التجريب.

تتسم بـ: الدقة - الموضوعية.

مثال: نهر النيل أطول أنهار العالم.

• كيف تقيم مصادر المعلومات؟ يتم ذلك من خلال معرفة:

- ١- من المؤلف؟
- ٢- ما هدفه من النص؟
- ٣- هل قام بتزويدك بمعلومات أو حاول إقناعك بفكرة ما؟

• يساعدك ذلك على:

- التمييز بين الحقائق والآراء.
- المقارنة بين المعلومات الواردة فى المصدر بمصادر أخرى.
- الحرص على عدم نقل المعلومات دون التأكد من صحتها.



مجاب عنها

الدرس الثاني

المصادر الأولية والمصادر الثانوية



تدريب

السؤال الأول ضع علامة (✓) أمام العبارة الصحيحة، وعلامة (X) أمام العبارة غير الصحيحة:

- ١ تعد الكتب والمقالات من المصادر الأولية. ()
- ٢ المؤلفات التي تمت كتابتها حديثًا عن قناة السويس تعد من المصادر الأولية. ()
- ٣ لوحة الملك نعرمر (نارمر) تعد مصدرًا أوليًا. ()
- ٤ تتميز الحقيقة بالدقة والموضوعية. ()
- ٥ الرأي هو التعبير الذي يشعر به أو يفكر فيه شخص ما. ()
- ٦ (تقع مصرفى منطقه الإقليم الصحراوى). هذه العبارة تعبر عن حقيقة. ()
- ٧ الموسوعات والمقالات من المصادر الثانوية. ()
- ٨ للتأكد من صحة المعلومات الواردة عن الهرم نستخدم المصادر الأولية والثانوية. ()

المستوى الأول

السؤال الثاني أكمل العبارات الآتية بما يناسبها من كلمات:

- ١ ربطت بين البحر الأحمر والبحر المتوسط عن طريق نهر النيل.
- ٢ احتلت مصر دورًا مهمًا في التجارة الدولية بسبب
- ٣ «مدينة شرم الشيخ من أجمل المدن السياحية على ساحل البحر الأحمر». تعبر العبارة السابقة عن
- ٤ من المصادر الأولية التي يمكن الاستعانة بها لدراسة التاريخ المصرى القديم

السؤال الثالث ضع دائرة حول الإجابة الصحيحة مما يلي:



- ١ الصورة التي أمامك تمثل أحد المصادر الأولية وهي
- (الخطابات - المحادثات - النقوش - كتابات مؤرخين)
- ٢ الكتب والموسوعات من المصادر (الأولية - التعليمية - الاقتصادية - الثانوية)
- ٣ المصدر الأولي الذي يخبرنا عن حفر قناة سيزوستريس فى العصر الفرعونى هو
- (البرديات - الكتب - المقالات - الأبحاث)
- ٤ المعلومات التي تم التأكد من صحتها هي (حقائق - آراء - نظريات - معتقدات)

المستوى الثاني

- ٥ إذا أردت أن تستخدم مصدرًا أوليًا لإجراء بحث عن قناة السويس، فإنك تستخدم
 (موسوعة عن القناة - وثائق رسمية عن القناة - مقالًا عن القناة عام ٢٠٠٠م - كتابًا عن القناة عام ٢٠١٤م)
- ٦ «مدينة دمياط أفضل مدينة مصرية». تعبر هذه العبارة عن
 (رأى - خيال - حقيقة - واقع)

السؤال الرابع صوب ما تحته خط:

- ١ فيلم تسجيلي عن عملية بناء قناة السويس الجديدة، يعد ذلك مصدرًا ثانويًا. (.....)
- ٢ تعد الموسوعات من المصادر الأولية. (.....)
- ٣ صورة لافتتاح قناة السويس في ١٤ نوفمبر ١٨٦٩م، مصدر ثانوي. (.....)
- ٤ هذه صورة رائعة لقناة السويس، يعد ذلك حقيقة. (.....)
- ٥ وفقًا لتعداد ٢٠١٧م بلغ عدد سكان الغردقة ١٩٠٥٩٢، يعد ذلك رأيًا. (.....)

السؤال الخامس صنف المعلومات الآتية إلى «حقيقة» و«رأى» بوضع علامة (✓) أمام الاختيار الصحيح:

المعلومات	حقيقة	رأى
١ تم إغلاق قناة السويس أكثر من مرة آخرها في يونيو ١٩٦٧م.		
٢ حفر قناة السويس احتاج إلى عبقرية فنية رائعة.		
٣ تم افتتاح قناة السويس للملاحة العالمية عام ١٨٦٩م.		
٤ قناة السويس أجمل ممر مائي.		

السؤال السادس فسر:

- ١ وجود اختلافات بين الحقائق والآراء.
- ٢ أهمية المصادر الأولية.
- ٣ أهمية المصادر الثانوية.

السؤال السابع أجب عن الأسئلة الآتية:

- ١ حدد الفرق بين: المصادر الأولية والمصادر الثانوية.
- ٢ دلل على: وجود مصادر أولية للمعلومات.
- ٣ ماذا يحدث إذا لم: تتأكد من صحة المعلومات الواردة في نصّ ما؟

المستوى الثالث
المستوى الرابع

السؤال الأول: اختر الإجابة الصحيحة مما بين القوسين:

- ١- «بلغ عدد سكان مصر ٩٤ مليون نسمة عام ٢٠١٧ م». تعبر هذه العبارة عن
(رأى - خيال - حقيقة - وجهة نظر) (قنا ٢٠٢٢)
- ٢- المعلومات التي تم التأكد من صحتها هي (حقائق - آراء - وجهات نظر - معتقدات) (الشرقية ٢٠٢٣)
- ٣- «مدينة شرم الشيخ أجمل المدن المصرية». تعبر هذه العبارة عن
(رأى - خيال - حقيقة - واقع) (الإسكندرية ٢٠٢٣)
- ٤- عند كتابتك بحثًا عن أهمية موقع مصر تستخدم أحد المصادر الثانوية مثل
(المخاطبات الرسمية - البرديات - الوثائق الرسمية - الكتب) (الإسماعيلية ٢٠٢٣)
- ٥- (مدينة الغردقة أجمل مدن العالم). هذه الجملة تعبر عن (رأى - حقيقة - خيال - اقتراح) (البحيرة ٢٠٢٣)
- ٦- البرديات المصرية تعد من المصادر (الثانوية - الأولية - البيانية - الطبيعية) (الأقصر ٢٠٢٣)
- ٧- النقوش والرسوم على توابيت الملوك الفرعونية من المصادر
(الثانوية - الأولية - التقليدية - الشمالية) (الإسماعيلية ٢٠٢٣)

السؤال الثاني: اكتب كلمة (صواب) أمام العبارة الصحيحة، وكلمة (خطأ) أمام العبارة غير الصحيحة:

- ١- «تقع مصرفى منطقة الإقليم الصحراوي». هذه العبارة تعبر عن حقيقة. () (القاهرة ٢٠٢٢)
 - ٢- «يبلغ ارتفاع برج القاهرة ١٨٧ مترًا». هذه العبارة تعبر عن حقيقة. () (الجيزة ٢٠٢٢)
 - ٣- للتأكد من صحة المعلومات الواردة عن الهرم نستخدم المصادر الأولية والثانوية. () (الإسماعيلية ٢٠٢٢)
 - ٤- المخاطبات الرسمية والنقوش على جدران المعابد من المصادر الأولية. () (كفر الشيخ ٢٠٢٢)
 - ٥- الكتب والموسوعات والمقالات من المصادر الأولية. () (المنوفية ٢٠٢٢)
 - ٦- المخاطبات والمحادثات التي عاصرت الحدث من المصادر الأولية. () (القاهرة ٢٠٢٢)
 - ٧- يجب علينا تحرى دقة المعلومات قبل نشرها. () (الإسكندرية ٢٠٢٣)
 - ٨- تتسم الحقيقة بالدقة والموضوعية. () (القليوبية ٢٠٢٣)
- (الأقصر ٢٠٢٣)

السؤال الثالث: صنف ما يأتي إلى (حقيقة - رأى):

- ١- هرم الملك خوفو هو الهرم الأكبر.
- ٢- مدينة سفاجا من أجمل مدن مصر.

السؤال الرابع: أكمل العبارتين الآتيتين:

- ١- المخاطبات الرسمية والنقوش على جدران المعابد من المصادر (الإسكندرية ٢٠٢٣)
- ٢- البرديات المصرية القديمة تعد من المصادر (الجيزة ٢٠٢٣)

السؤال الخامس: صوب ما تحته خط: تعد الموسوعات من المصادر الأولية.

السؤال السادس: أجب عن السؤالين التاليين:

- ١- حدد سببًا واحدًا ل: وجود اختلاف بين الحقيقة والرأى. (الجيزة ٢٠٢٢)
- ٢- اكتب اختلافًا واحدًا بين: المصدر الأولي والمصدر الثانوي. (القاهرة ٢٠٢٢)



السؤال الأول: ضع دائرة حول الإجابة الصحيحة مما يلي:

- ١- المصدر المعاصر للحدث يعد مصدرًا
(أوليًا - ثانويًا - اقتصاديًا - تعليميًا)
- ٢- أي من الآتي يعد مصدرًا أوليًا؟
(الكتب - المقالات - الوثائق - الأبحاث)
- ٣- أي من الآتي يعد مصدرًا ثانويًا؟
(الخطابات - البرديات - الموسوعات - الوثائق)
- ٤- أي من هذه المواقف يعبر عن الرأي؟
(يقع معبدا أبو سمبل في مدينة أسوان - مدينة أسوان مدينة جميلة - تقع مدينة أسوان جنوب مصر - يبلغ عدد سكان مدينة أسوان مليون نسمة تقريبًا)
- ٥- المعلومات التي تم التأكد من صحتها
(حقائق - آراء - - معتقدات - نظريات)

السؤال الثاني: أكمل العبارات الآتية:

- ١- معلومات أو أحداث تم إثبات صحتها تتميز بالدقة والموضوعية هي
- ٢- المصادر التي تسجل الأحداث بعد زمن طويل من وقوعها هي
- ٣- يسمى التعبير عما يشعر به أو يفكر فيه شخص تجاه موضوع معين بـ
- ٤- مصدر معلومات معاصر للأحداث هو
- ٥- قام الملك سنوسرت الثالث بحفر قناة

السؤال الثالث: (أ) ضع علامة (✓) أمام العبارة الصحيحة، وعلامة (x) أمام العبارة غير الصحيحة:

- ١- كتابات المؤرخين تعد من المصادر الثانوية. ()
 - ٢- (فازت مصر بالميدالية الذهبية في لعبة الكاراتيه بأولمبياد طوكيو ٢٠٢١م).
العبارة السابقة تعد حقيقة. ()
 - ٣- (تقع مدينة أسوان جنوب مصر). تعد الجملة السابقة حقيقة. ()
- (ب) حدد أحد الاختلافات بين: المصادر الأولية والمصادر الثانوية.





موقع مصر بالنسبة للعالم

الدرس الثالث

موقع مصر بالنسبة إلى العالم



تفاعل



• الأرض تتكون من قارات ومحيطات:

القارة: مساحة واسعة من اليابس تضم عددًا من الدول.

المحيط: مساحة واسعة من الماء المالح ذات أعماق كبيرة.

تعلم



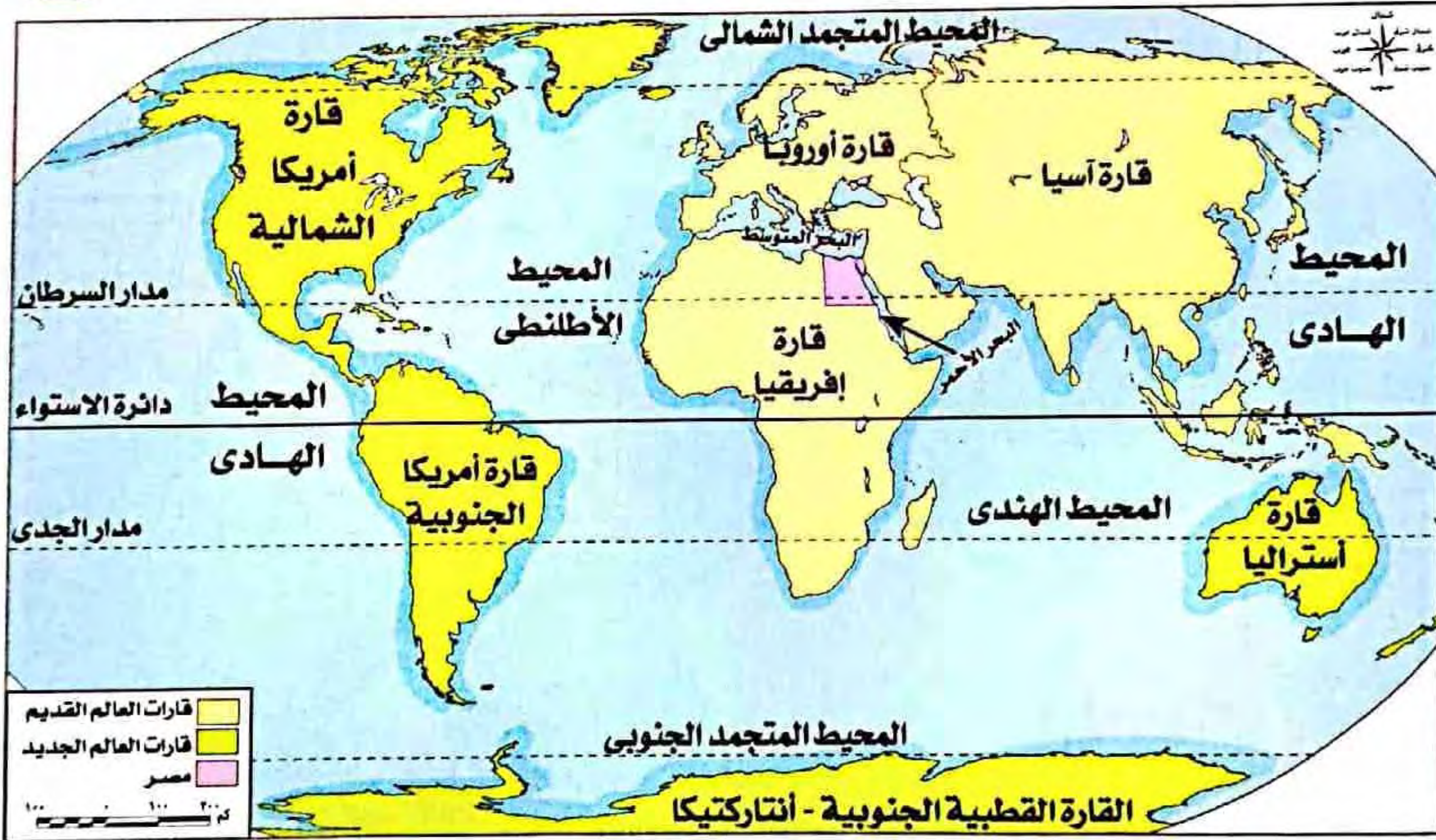
مِم يتكون العالم؟



وخمسة محيطات



يتكون العالم من سبع قارات



موقع مصر بالنسبة للعالم

قارات العالم الجديد، وتشمل:

قارات العالم القديم، وتشمل:



أنتاركتيكا «القارة القطبية الجنوبية»



أمريكا الشمالية



أمريكا الجنوبية



أمريكا الشمالية



أوروبا



آسيا



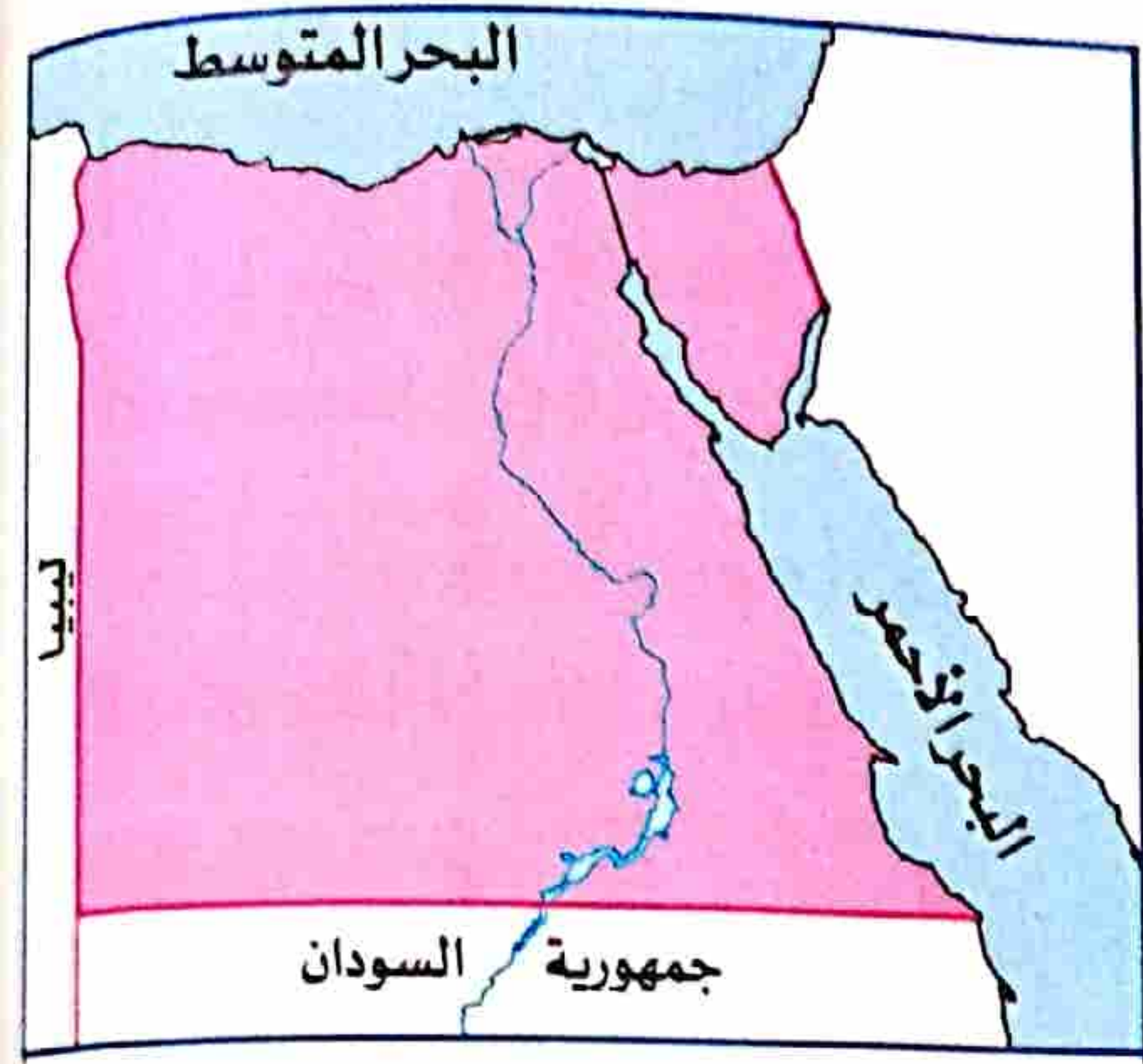
إفريقيا

سؤال؟

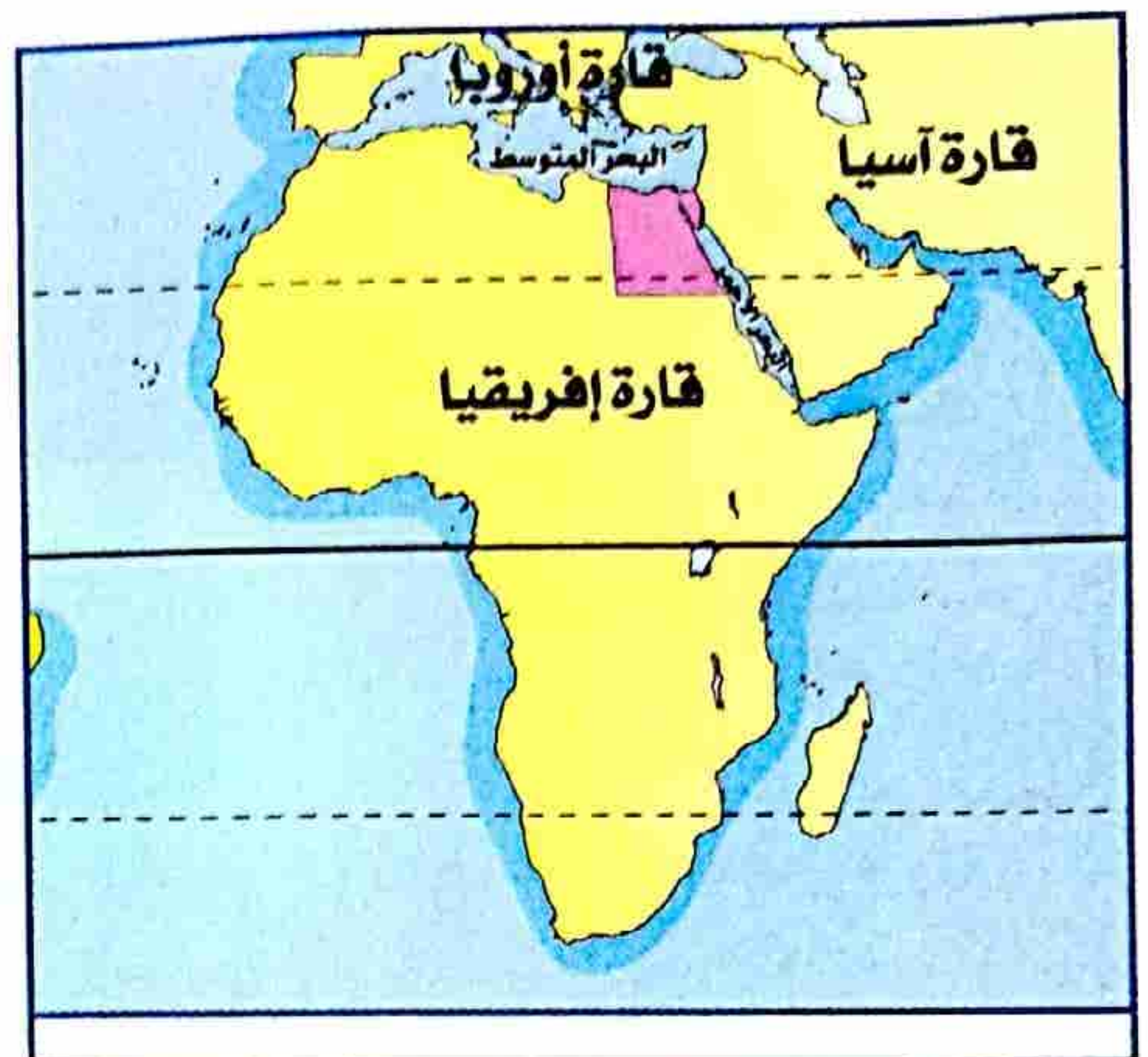
أكمل: من قارات العالم القديم

ما هو موقع مصر الجغرافى بالنسبة للعالم؟

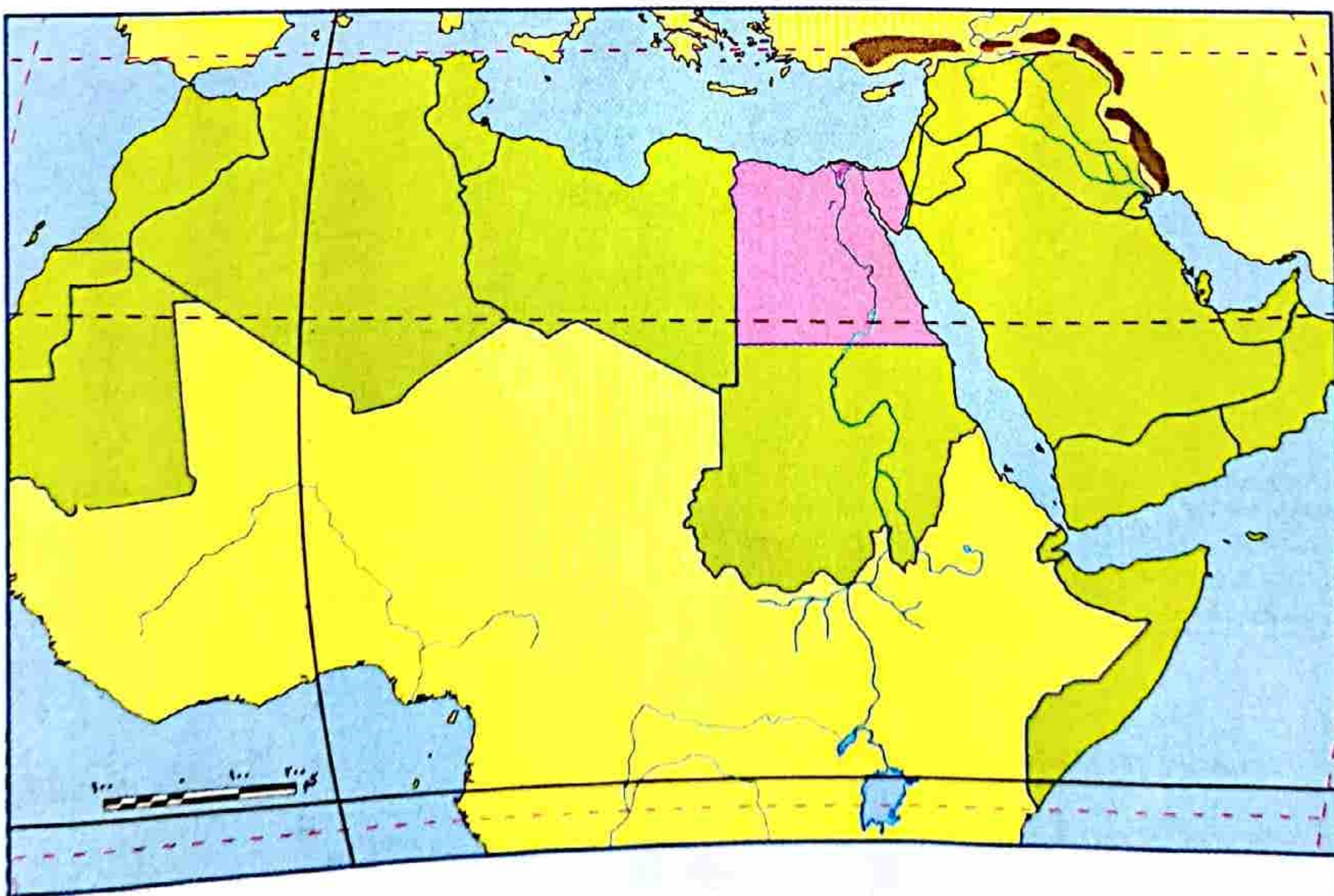
أشاد العديد من الكتاب والمفكرين، ومنهم الجغرافى «جمال حمدان»، بأهمية موقع مصريين قارات العالم القديم وأثره على الاقتصاد المصرى والعالمى؛ حيث:



- يحيط بها اليابس من الغرب (ليبيا)، ومن الجنوب (السودان).
- يحيط بها من الشمال (البحر المتوسط)، ومن الشرق (البحر الأحمر).



تقع مصر فى الركن الشمالى الشرقى لقارة إفريقيا؛ إذا تقع فى قلب قارات العالم القديم.



تعد مصر قلب الوطن العربى الذى يمتد بين قارتى آسيا وإفريقيا.

سؤال؟

أكمل العبارتين الآتيتين:

- ١- يحد مصر من الشمال ويحدها من الشرق
- ٢- تقع مصر فى الركن الشمالى الشرقى لقارة

ما أهمية موقع مصر بين قارات العالم القديم وأثره في الاقتصاد المصري والعالم قديماً وحديثاً؟

- ١- ساعد موقع مصر الجغرافي على تسهيل الاتصال بجيرانها تجارياً وحضارياً.
- ٢- فكانت مصر مركزاً تجارياً ومغبراً للتجارة الدولية بين الشرق (آسيا) والغرب (أوروبا والأمريكتين).

قديمًا

١- **نهر النيل:** أضاف نهر النيل أهمية كبرى لموقع مصر؛ حيث:



مما ساعد على: (قيام الحضارة المصرية القديمة - ازدهار الاقتصاد المصري).

٢- **قبل حفر قناة السويس:**

كانت مصر مركزاً تجارياً بين قارة آسيا شرقاً وقارة أوروبا غرباً؛ حيث كانت السفن تسير كالتالي:

كانت البضائع تأتي من آسيا عبر البحر الأحمر حتى السويس.

ثم يتم نقلها برًا من السويس حتى نهر النيل، ومنها إلى البحر المتوسط لاستكمال طريقها إلى أوروبا.

كان هذا يأخذ الكثير من الوقت والجهد والمال ولكن كان ذلك أفضل من الدوران حول قارة إفريقيا.

افهم وطبق

لنعمل على الخريطة لخص ولون وارسم:

١- اكتب عنواناً للفقرة السابقة.

٢- اكتب أسماء المواقع التالية في المكان المناسب على الخريطة:

البحر المتوسط البحر الأحمر شبه جزيرة سيناء



٣- لون الممرات المائية بالأزرق، والأراضي المصرية بالبنى، وقارتي إفريقيا وآسيا بلونين آخرين.

٤- ارسم سهمًا يوضح كيفية إبحار السفن من المحيط الهندي إلى المحيط الأطلنطي حول إفريقيا بلون، وعبر الأراضي المصرية بلون مختلف، ثم وضح: أي الطرق أفضل اقتصادياً؟

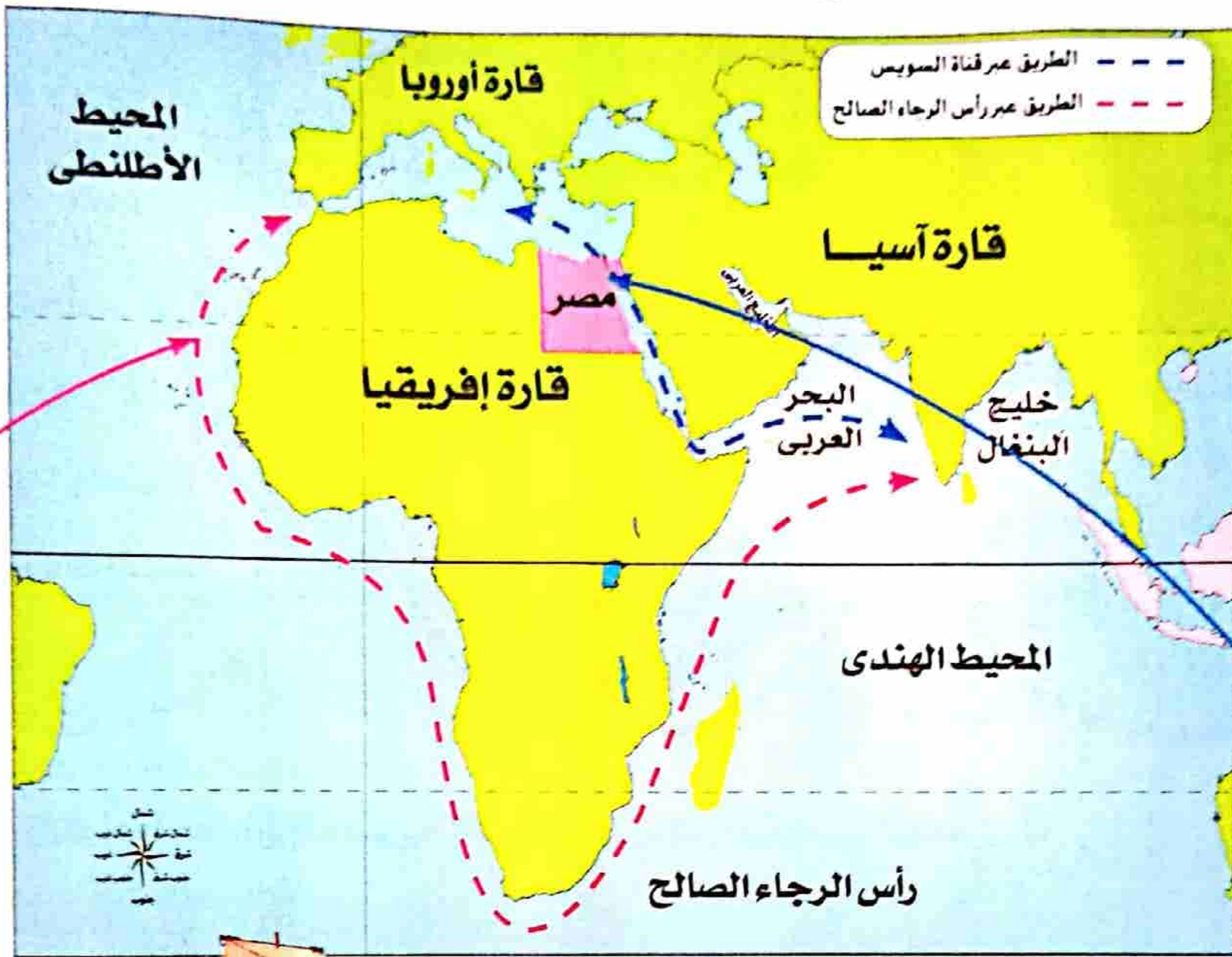
- ناقش أهمية موقع مصر الجغرافي عبر التاريخ. جيد جدًا جيد بحاجة إلى مجهود أكبر
- أميز المحيطات والقارات على خريطة العالم. جيد جدًا جيد بحاجة إلى مجهود أكبر

قيم نفسك

حديثاً

بعد حفر قناة السويس:

نلاحظ ذلك من الشكل التالي الذي يوضح الفرق بين طريق قناة السويس وطريق رأس الرجاء الصالح:



طريق جديد

قناة السويس

- تضاءلت أهمية موقع مصر بعد حفر قناة السويس.

مما أدى إلى:

- تقليص مدة الإبحار بين آسيا وأوروبا.
- توفير الوقت والمال والجهد.

طريق قديم

طريق رأس الرجاء الصالح

- طريق كانت تقطعه السفن حول إفريقيا.
- وكان يأخذ الكثير من الوقت والجهد والمال.

قناة السويس الجديدة


- ازدادت أهمية موقع مصر بعد حفر قناة السويس الجديدة عام ٢٠١٥ م.

مما ساعد على:

- تقليل زمن مرور السفينة في القناة من ٢٠ ساعة إلى ١١ ساعة فقط.
- استيعاب سفن أكبر حجمًا وحمولة، والسماح بمرور السفن في الاتجاهين.



(١) اقرأ واستنتج:



أشار «جمال حمدان» إلى أن مصر جمعت في آن واحد بين قلب إفريقيا وقلب قارات العالم القديم؛ فهي البلد الوحيد الذي تلتقى فيه القارتان ويقترب من الثالثة، وهي الأرض الوحيدة التي يجتمع فيها البحران، كما أن قناة السويس تُعد القلب النابض لمصر والعالم، وهي مركز النقل الأول للغرب.

في ضوء الفقرة السابقة استنتج:

- ١- ما القارتان المشار إليهما في الفقرة؟
- ٢- ما القارة الثالثة الواردة في الفقرة؟
- ٣- ما البحران المشار إليهما في الفقرة؟
- ٤- لخص أهمية موقع مصر الجغرافي
- ٥- دُل على أهمية تأثير قناة السويس على الاقتصاد المصري والعالمي

(ب) فكر واستنتج:

على مر التاريخ، كان لموقع مصر الجغرافي أهمية اقتصادية كبيرة. اقرأ الجمل التالية. واكتب ما تشير إليها كل عبارة مما يلي:

- ١- مصدر أساسي للزراعة وقيام الحضارة المصرية القديمة. (.....)
- ٢- شريان ملاحى عالمى يربط بين الشرق (آسيا)، والغرب (أوروبا والأمريكتين)، وتوسيعها كان ضرورة لاستيعاب السفن العملاقة. (.....)
- ٣- دولة تُعد حلقة الاتصال بين دول الوطن العربى الآسيوية والإفريقية. (.....)

(ج) فكر واكتب:

اكتب فقرة قصيرة حول أهمية موقع مصر الجغرافي بالنسبة للتجارة العالمية قديمًا وحديثًا. استعن بالكلمات التالية في الفقرة:

البحار قناة السويس نهر النيل

• ناقش أهمية موقع مصر الجغرافي عبر التاريخ. جيد جدًا جيد بحاجة إلى مجهود أكبر

قيم نفسك

استكشف وراجع

استكشف:

استخدم شبكة المعلومات الدولية (الإنترنت) للبحث عن أهمية موقع مصر عبر التاريخ، مستعينًا بالمصادر الأولية والثانوية.

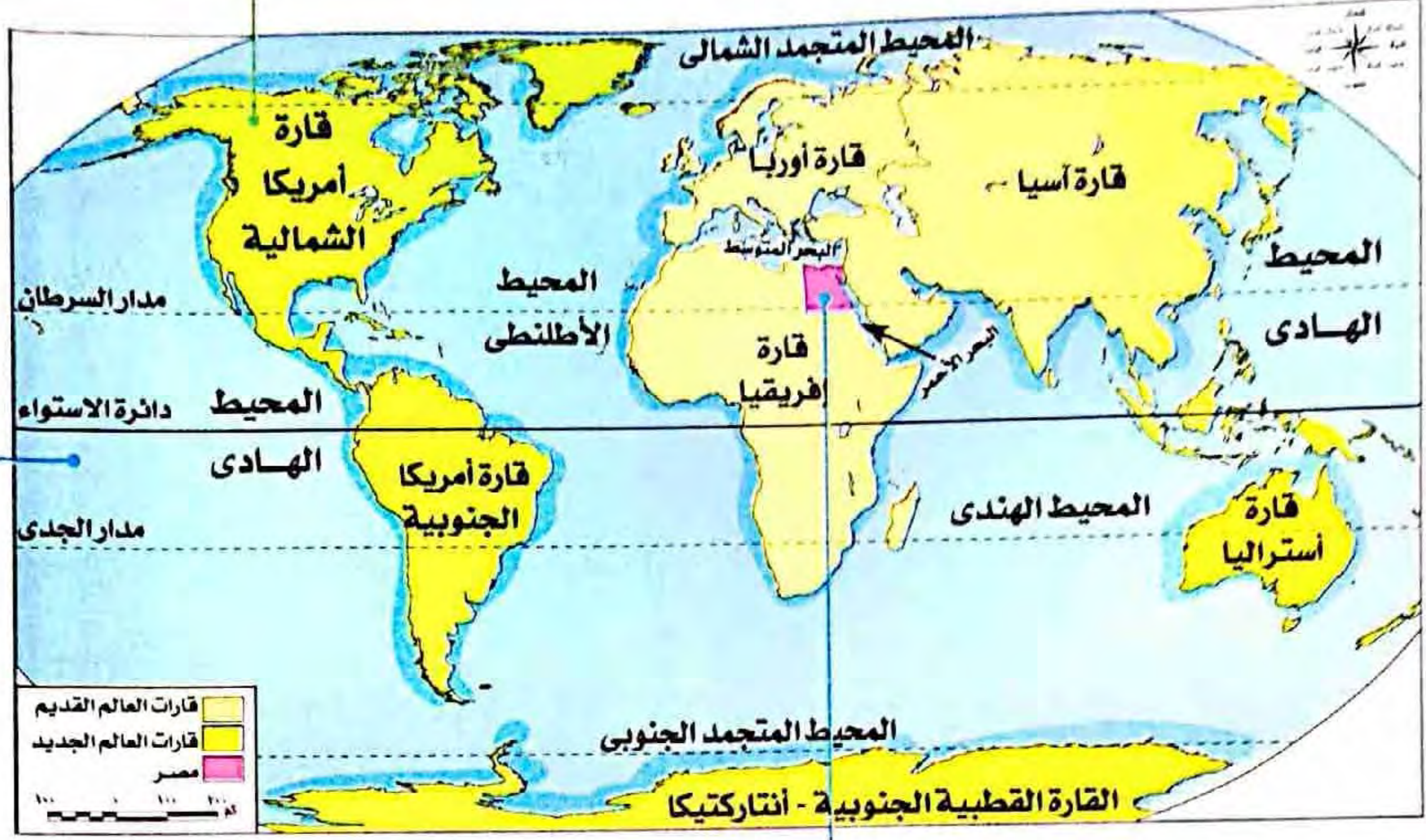
راجع:

- ١- كيف يؤدي موقع مصر الجغرافي دورًا مهمًا في الاقتصاد العالمى؟
- ٢- ما العلاقة بين موقع مصر الجغرافي وازدهار الاقتصاد المصرى عبر التاريخ؟

ملخص الدرس

الدرس الثالث

• يتكون العالم من:



القارات

- مساحة واسعة من اليابس تضم عددًا من الدول.
- ويتكون العالم من سبع قارات.

المحيطات

- مساحة واسعة من المياه المالحة ذات أعماق كبيرة.
- ويتكون العالم من خمسة محيطات.

أهمية موقع مصر

- ساعد موقعها الجغرافي على تسهيل الاتصال بجيرانها تجاريًا وحضاريًا.
- كانت مركزًا تجاريًا ومعبرًا للتجارة الدولية بين الشرق والغرب.

موقع مصر

- تقع في الركن الشمالي الشرقي لقارة إفريقيا.
- يحيط بها من الشمال (البحر المتوسط) ومن الشرق (البحر الأحمر).
- يحيط بها اليابس من الغرب والجنوب.
- تعد قلب الوطن العربي الذي يمتد بين قارتي آسيا وإفريقيا.

أهمية موقع مصر تجاريًا

حديثًا

قناة السويس:

- تضاغت أهمية الموقع بعد حفر قناة السويس.
- ترتب على حفرها:**
 - توفير الوقت والمال وتقليل مدة الإبحار، بين آسيا وأوروبا.
- قناة السويس الجديدة:**
 - بعد حفرها زادت أهمية موقع مصر، وساعد ذلك على:
 - تقليل زمن مرور السفينة واستيعاب أكبر السفن حجمًا وحمولة.
 - السماح بمرور السفن في الاتجاهين.

قديمًا

نهر النيل:

- عاش المصريون على ضفتيه وقاموا بأعمال الزراعة.
 - استخدم كطريق للتجارة بين شمال وجنوب مصر، وبين مصر ودول وسط إفريقيا.
 - ساعد على قيام الحضارة المصرية القديمة وازدهار الاقتصاد المصري.
- قبل حفر قناة السويس:**
- كانت مصر مركزًا تجاريًا بين قارة آسيا شرقًا وقارة أوروبا غربًا.
 - كانت السفن تقطع طريق رأس الرجاء الصالح (حول إفريقيا).



مجاب عنها

الدرس الثالث

موقع مصر بالنسبة إلى العالم



تدريب

السؤال الاول ضع علامة (✓) أمام العبارة الصحيحة، وعلامة (X) أمام العبارة غير الصحيحة:

- ١ زادت أهمية موقع مصر الاقتصادي بعد حفر قناة السويس. ()
- ٢ لم يؤثر وجود نهر النيل على موقع مصر الجغرافي. ()
- ٣ كان لمصر تأثير كبير على جيرانها تجاريًا فقط. ()
- ٤ ساعدت قناة السويس الجديدة على مرور السفن في الاتجاهين في نفس الوقت. ()
- ٥ بعد حفر قناة سيزوستريس زادت أهمية موقع مصر في العصر الحديث. ()
- ٦ تقع مصر في شمال شرق قارة أوروبا. ()
- ٧ المحيط يمثل مساحة كبيرة من الماء المالح قليل العمق. ()
- ٨ ساعد نهر النيل قديمًا على زيادة التجارة بين مصر ودول وسط إفريقيا. ()

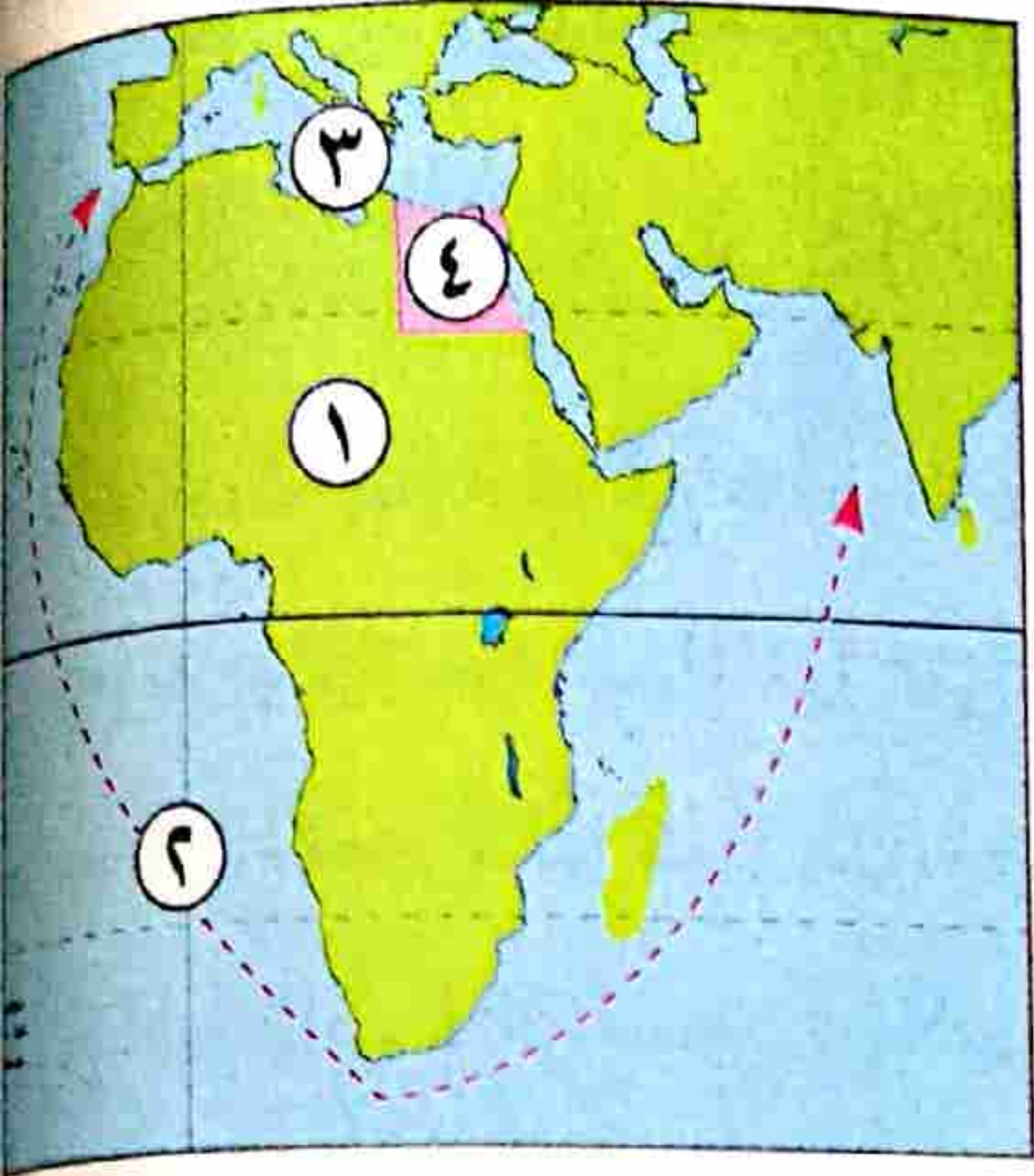
السؤال الثاني ضع دائرة حول الإجابة الصحيحة مما يلي:

- ١ تقع مصر في الركن من قارة إفريقيا.
(الشمالي الغربي - الشمالي الشرقي - الجنوبي الغربي - الجنوبي الشرقي)
- ٢ يستخدم نهر كطريق للتجارة بين شمال مصر وجنوبها. (الفرات - دجلة - النيل - عطبرة)
- ٣ يتشابه كل من قناة السويس ونهر النيل في أن لهما أهمية بالنسبة لمصر.
(صناعية - زراعية - تجارية - حضارية)
- ٤ أرض مصر يجتمع فيها البحرين
(المتوسط والأسود - الأحمر والكاربيبي - الأحمر والأسود - المتوسط والأحمر)
- ٥ إفريقيا مساحة شاسعة من اليابس تضم عدة دول، فهي بذلك تكون (محافظة - دولة - قارة - جزيرة)
- ٦ توجد مصر في الركن الشمالي الشرقي من قارة
(أستراليا - أوروبا - إفريقيا - أمريكا)
- ٧ قناة تعد شريان التجارة العالمي وتربط بين البحرين الأحمر والمتوسط هي قناة
(بنما - السويس - سيزوستريس - كيبل)
- ٨ إذا أردت كتابة بحث عن أهمية موقع مصر الجغرافي فإنك تستعين بمؤلفات
(جمال حمدان - طه حسين - محمد يونس - سيد درويش)
- ٩ مساحة شاسعة من المياه المالحة ذات أعماق، يعد ذلك
(بحرًا - نهرًا - محيطًا - بحيرة)

السؤال الثالث صوب ما تحته خط:

- ١ أضاف نهر الفرات أهمية كبرى لموقع مصر. (.....)
- ٢ تربط قناة السويس بين البحر الأحمر ونهر النيل. (.....)

السؤال الرابع أمامك خريطة لطرق التجارة العالمية القديمة والحديثة، اكتب ما تشير إليه الأرقام عليها:



- ١ يشير رقم (١) على الخريطة إلى قارة
- ٢ يشير رقم (٢) على الخريطة إلى طريق
- ٣ يشير رقم (٣) إلى البحر
- ٤ يشير رقم (٤) إلى دولة

المستوى الثالث

السؤال الخامس اكتب ما تشير إليه العبارات الآتية:

- ١ مساحات واسعة من اليابس تضم عددًا من الدول. (.....)
- ٢ نهري جري من جنوب مصر إلى شمالها، ويساعد على التجارة والزراعة. (.....)
- ٣ قناة تربط بين البحرين الأحمر والمتوسط. (.....)
- ٤ مساحات واسعة من المياه المالحة ذات أعماق كبيرة. (.....)
- ٥ موقع المكان بالنسبة لليابس والماء. (.....)
- ٦ طريق مائي استخدم للتجارة بين شمال مصر وجنوبها. (.....)
- ٧ طريق تجاري كانت السفن تقطعه حول إفريقيا. (.....)

السؤال السادس حدد المختلف في عناصر المجموعتين التاليتين:

- ١ (آسيا - أستراليا - إفريقيا - أوروبا)
- ٢ (المحيط الأطلنطي - المحيط الهادي - أمريكا الشمالية - المحيط الهندي)

السؤال السابع أجب عن الأسئلة الآتية:

١ حدد نتيجة واحدة ل: حفر قناة السويس الجديدة.

٢ فسر: أهمية قناة السويس.

٣ ماذا كان يحدث إذا لم يتم حفر قناة السويس؟

المستوى الرابع

السؤال الأول: أكمل العبارات الآتية:

- ١- تعد شرياناً ملاحياً عالمياً يربط بين الشرق والغرب. (القليوبية ٢٠٢٣)
- ٢- زادت أهمية مصر بعد حفر (الجيزة ٢٠٢٣)
- ٣- قناة تربط بين البحرين الأحمر و..... (الإسماعيلية ٢٠٢٣)

السؤال الثاني: اكتب كلمة (صواب) أمام العبارة الصحيحة، وكلمة (خطأ) أمام العبارة غير الصحيحة:

- ١- المحيط الهادى يمثل مساحة شاسعة من الماء المالح قليل العمق. () (كفر الشيخ ٢٠٢٢)
- ٢- إذا قمت برحلة لساحل البحر الأحمر، فعليك الاتجاه إلى غرب مصر. () (القاهرة ٢٠٢٢)
- ٣- تقع مصر شمال شرق قارة آسيا. () (الإسكندرية ٢٠٢٣)
- ٤- زادت أهمية موقع مصرفى العصر الحديث بعد حفر قناة سيزوستريس. () (الجيزة ٢٠٢٣)
- ٥- أدى حفر قناة السويس الجديدة إلى زيادة زمن مرور السفن بالقناة. () (القاهرة ٢٠٢٣)
- ٦- ساعد نهر النيل قديماً على زيادة التجارة بين مصر ودول وسط إفريقيا. () (المنوفية ٢٠٢٣)
- ٧- زادت أهمية موقع مصر بعد حفر قناة السويس. () (الأقصر ٢٠٢٣)

السؤال الثالث: اختر الإجابة الصحيحة مما بين القوسين:

- ١- تقع مصر بقارة إفريقيا فى الركن (الشمالى الشرقى - الشمالى الغربى - الجنوبى الشرقى - الجنوبى الغربى) (الإسماعيلية ٢٠٢٢)
- ٢- آسيا مساحة شاسعة من اليابس تضم عدة دول، فهى بذلك تكون (محافظة - دولة - قارة - جزيرة) (أسيوط ٢٠٢٣)
- ٣- القناة التى تعد شريان التجارة العالمى الذى يربط بين البحرين المتوسط والأحمر بشكل مباشرهى قناة (بنما - السويس - سيزوستريس - جونجلي) (الغربية ٢٠٢٢)
- ٤- يحيط اليابس بمصر من جهتى (الشمال والغرب - الشرق والجنوب - الجنوب والغرب - الشمال والجنوب) (الغربية ٢٠٢٢)

السؤال الرابع: اكتب ما تشير إليه العبارة الآتية: مساحات واسعة من اليابس تضم عدداً من الدول

(الإسكندرية ٢٠٢٣)

السؤال الخامس: صوب ما تحته خط: المساحة الكبيرة من اليابس التى تضم مجموعة من الدول تسمى المحافظة.

(البحيرة ٢٠٢٣)

السؤال السادس: حدد المختلف فى المجموعة الآتية: (إفريقيا - آسيا - أمريكا - أوروبا)

(الأقصر ٢٠٢٣)

السؤال السابع: أجب عن الأسئلة التالية:

- ١- اكتب تفسيراً للعبارة التالية: «ساعد نهر النيل على ازدهار الاقتصاد المصرى منذ القدم». (بورسعيد ٢٠٢٢)
- ٢- دلل على صحة العبارة التالية: «مصر دولة بحرية». (الفيوم ٢٠٢٢)
- ٣- فسر: تعد قناة السويس أهم ممر ملاحى عالمى. (الغربية ٢٠٢٣)
- ٤- اكتب نتيجة واحدة ترتبت على: حفر قناة السويس الجديدة. (الجيزة ٢٠٢٣)
- ٥- ما العلاقة بين: مصر وقارات العالم القديم؟ (الجيزة ٢٠٢٣)
- ٦- ماذا يحدث إذا لم: توجد قناة السويس؟ (الشرقية ٢٠٢٣)



السؤال الأول: (أ) أكمل العبارات الآتية:

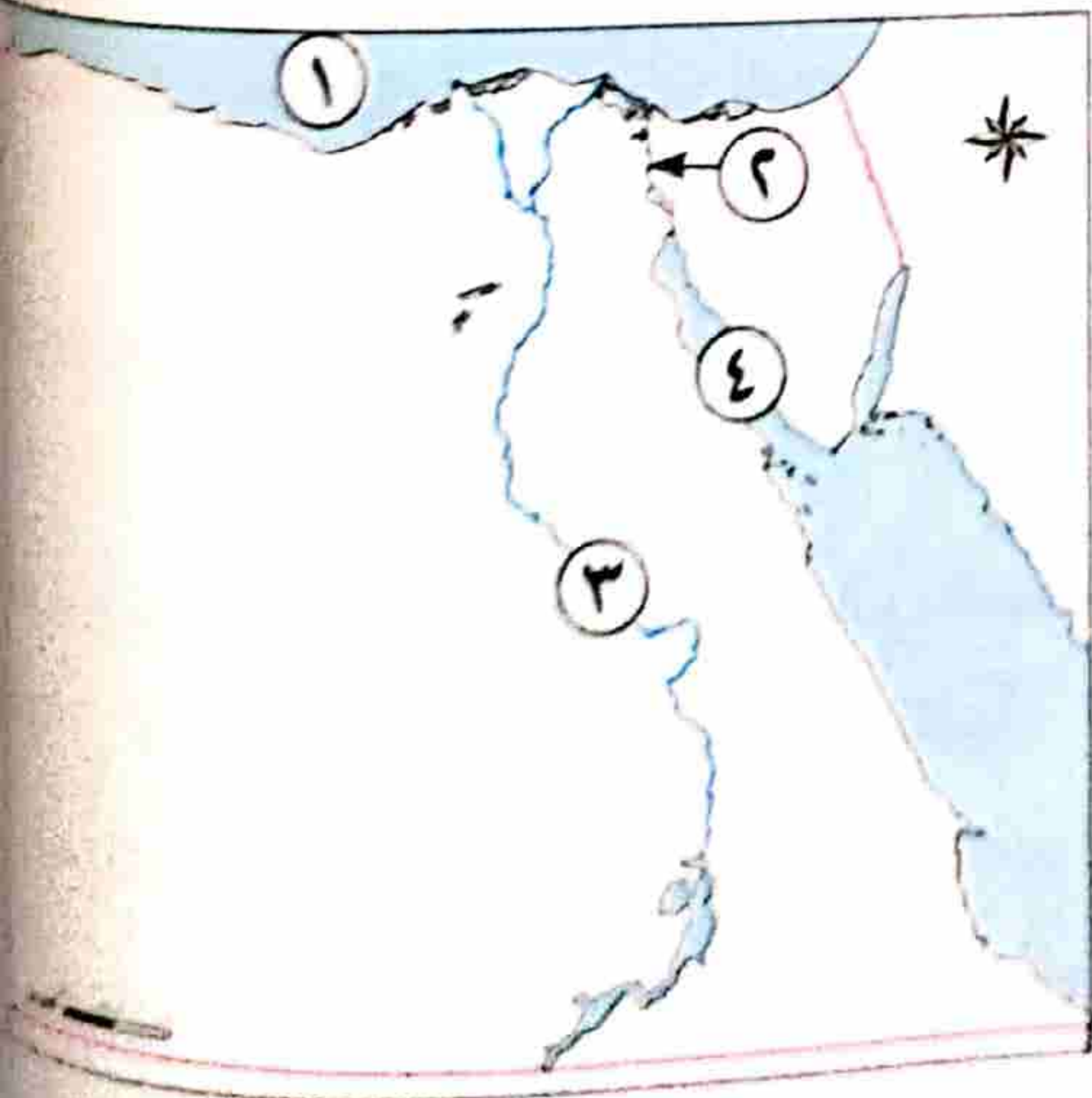
- ١- مساحة واسعة من الماء المالح ذات أعماق كبيرة هو.....
- ٢- مساحة واسعة من اليابس تضم عددًا من الدول بداخلها هي.....
- ٣- تعد مصر ملتقى لقارة..... وقارة.....
- ٤- تتوسط مصر قارات العالم.....

(ب) ما العلاقة بين: مصر وقارات العالم القديم؟

السؤال الثاني: اكتب كلمة (صواب) أمام العبارة الصحيحة، وكلمة (خطأ) أمام العبارة غير الصحيحة

- ١- ساعد نهر النيل قديمًا على زيادة التجارة بين مصر ودول وسط إفريقيا.
- ٢- تقع مصر وسط قارات العالم الجديد.
- ٣- مصري حدها اليابس من الغرب والجنوب.
- ٤- ساعد موقع مصر الجغرافي على أن تكون معبرًا للتجارة الدولية.
- ٥- العالم يتكون من سبع قارات.

السؤال الثالث: (أ) أمامك خريطة صماء لمصر، لاحظها واكتب ما تشير إليه الأرقام:



- ١- يشير رقم (١) إلى.....
- ٢- يشير رقم (٢) إلى.....
- ٣- يشير رقم (٣) إلى.....
- ٤- يشير رقم (٤) إلى.....

(ب) ماذا كان يحدث إذا لم: تطل مصر على البحر الأحمر والبحر المتوسط؟



عاصمة جمهورية مصر العربية



الوجه البحرى

الوجه القبلى

• محافظة «القاهرة» هي عاصمة جمهورية مصر العربية.

• تم اختيار القاهرة كعاصمة لمصر لفترات

طويلة على مر التاريخ؛ وذلك بسبب:

موقعها المتميز، فهي نقطة التقاء الوجه البحرى بالوجه القبلى.

يوجد بالقاهرة

مراكز

تتميز بوجود العديد من المراكز، مثل:

- مراكز تجارية.
- مراكز صناعية.
- مراكز ثقافية.



الوزارات

تتركز بها معظم الوزارات، مثل: - وزارة التربية والتعليم.



معالم أثرية

يوجد فيها العديد من المعالم الأثرية، مثل:

- قلعة صلاح الدين الأيوبي.
- مسجد عمرو بن العاص.
- الكنيسة المعلقة.



◀ تهتم الدولة بتطوير القاهرة من خلال عدد من المشروعات، مثل:

• محور روض الفرج.

• تطوير حي السيدة زينب.

• حي الأسمرات.

◀ كما تقوم مصر حاليًا بإنشاء العاصمة الإدارية الجديدة؛ وذلك:

• لتخفيف الضغط السكاني.

سؤال

(١) أكمل العبارتين الآتيتين:

١- مساحة من الأرض تضم مجموعة من المراكز والأحياء هي

٢- عاصمة جمهورية مصر العربية هي

(ب) دلل على صحة العبارة الآتية: تعدد المعالم الأثرية في محافظة القاهرة.

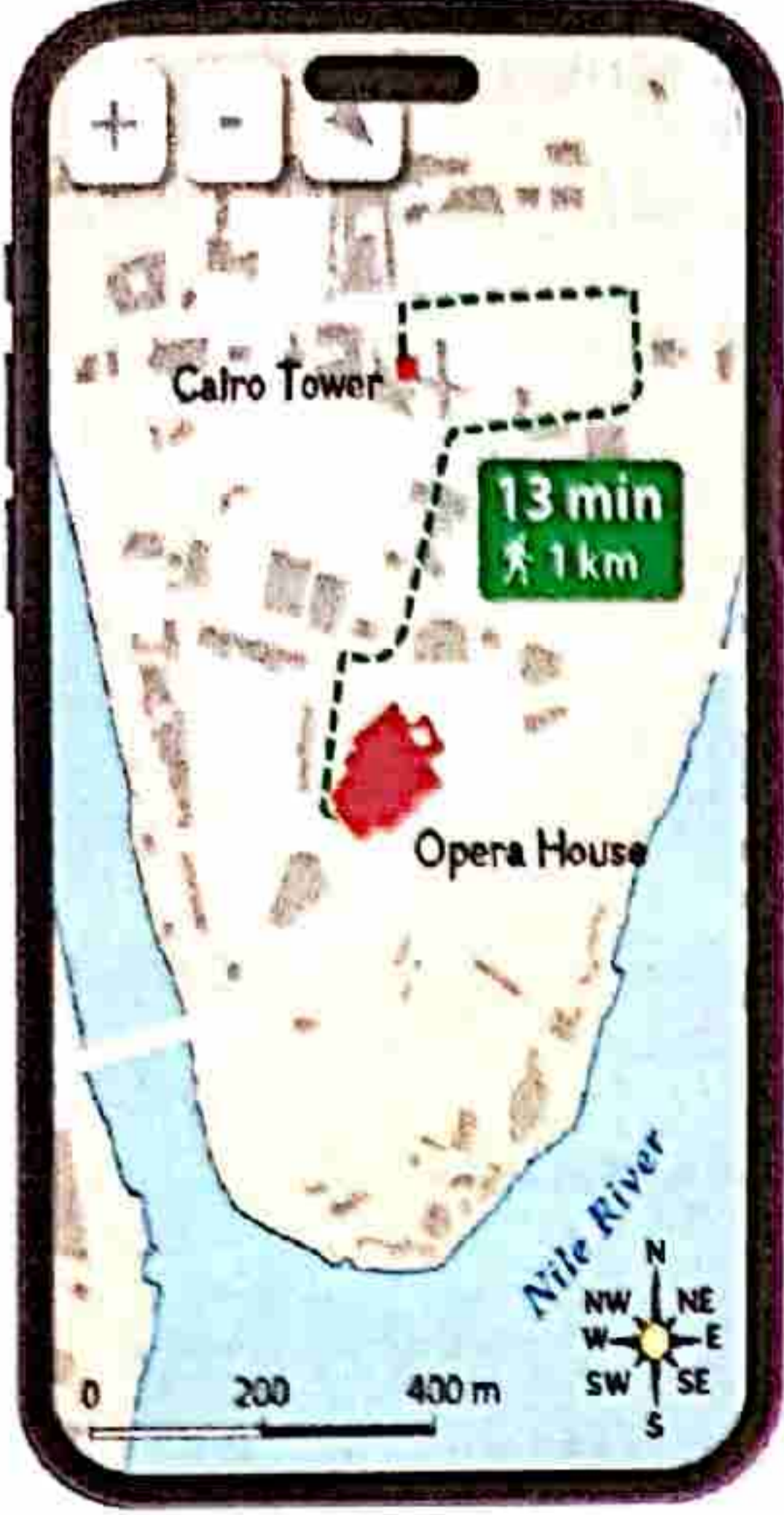
نظام تحديد المواقع العالمي (GPS) Global Positioning System

يساعدك هذا النظام في:

- تحديد مواقع الأماكن.

يتم ذلك من خلال:

- إدخال اسم مكان أو عنوان في نظام تحديد المواقع العالمي GPS، وبالتالي تحصل على موقع هذا المكان أو العنوان؛ مما يساعد على تحديد اتجاهات السير للوصول إليه.



افهم وطبق

١- اقرأ خريطة محافظات مصر السابقة، وأجب عن الأسئلة التالية:

- ١- كم يبلغ عدد المحافظات في مصر؟
- ٢- كم يبلغ عدد المحافظات في شبه جزيرة سيناء؟ وما أسماؤها؟
- ٣- اذكر مثالين غير محافظتك لكل من محافظات الوجه البحري ومحافظات الوجه القبلي ومحافظات الحدود (الصحراوية).
- ٤- بالاستعانة بشبكة المعلومات الدولية (الإنترنت)، حدّد أكبر محافظات مصر وأصغرها من حيث المساحة.
- ٢- استعن بخريطة محافظات مصر، واختر محافظة أخرى مع المحافظة التي تعيش فيها وقارن بينهما مسترشداً بالمثال التالي:

وجه المقارنة	المحافظة التي أعيش بها	محافظة أخرى تبعد عنها
اسم المحافظة	الشرقية	الأقصر
الموقع	- تقع ضمن محافظات الوجه البحري. - يحدها شمالاً بورسعيد. - يحدها جنوباً القاهرة والقليوبية. - يحدها شرقاً الإسماعيلية. - يحدها غرباً الدقهلية.	- تقع ضمن محافظات الوجه القبلي. - يحدها شمالاً قنا. - يحدها جنوباً أسوان. - يحدها شرقاً محافظة البحر الأحمر. - يحدها غرباً الوادي الجديد.
أهم ما تشتهر به	النشاط الزراعي	النشاط السياحي

٣- فكّر وأجب: في رأيك، ما المحافظة التي تود العيش فيها؟ ولماذا؟

قيم نفسك

- أتعرف مواقع المحافظات على خريطة مصر. جيد جداً جيد بحاجة إلى مجهود أكبر
- أحدد موقع محافظتي على خريطة محافظات مصر. جيد جداً جيد بحاجة إلى مجهود أكبر

افهم واطبق

- (أ) ١- هل استخدمت نظام تحديد المواقع العالمي GPS للوصول إلى أحد الأماكن؟
 ٢- فى رأيك، ما أهمية نظام تحديد المواقع العالمي GPS؟
 ٣- استخدم نظام تحديد المواقع العالمي GPS لتحديد موقعك، وبعد ذلك حاول تحديد موقعين آخرين تعرفهما. وحدد فى أى محافظة يوجد هذان الموقعان.

موقع (٣)	موقع (٢)	موقع	المحافظة	المنطقة

٤- ما المعلومات الأخرى التى حصلت عليها حول موقعك من خلال استخدام نظام تحديد المواقع العالمي GPS؟

(ب) لاحظ وأكمل:

استخدم نظام تحديد المواقع العالمي GPS أو خريطة مصر لمساعدتك على إكمال بطاقة المعلومات:

أين أقيم فى مصر؟
 الاسم:
 عنوان المنزل:
 تقع فى «الوجه البحرى - الوجه القبلى - محافظات الحدود الصحراوية»:
 المحافظة الأقرب:
 المسطح المائى الأقرب:
 الأماكن المهمة القريبة:

(ج) اقرأ وأجب: «قابلت فى محافظتك ثلاثة سائحين يريدون زيارة بعض الأماكن السياحية فى مصر. اقرأ المعلومات الخاصة بكل شخص، واقترح على كل سائح منهم موقعاً ليزوره ويتناسب معه. اذكر اسم المحافظة التى يوجد فيها الموقع، ثم حدد اتجاهات السفر انطلاقاً من موقعك الحالى. يمكنك استخدام نظام تحديد المواقع العالمي GPS أو خريطة لمساعدتك».

الاتجاهات انطلاقاً من موقعك الحالى	المحافظة	الموقع	الزائر
	محافظة الجيزة	أهرامات الجيزة	١- لينا سائحة من إندونيسيا، أتت إلى مصر لمشاهدة المعلم الأثرى الأكثر شهرة فى مصر.
			٢- فيليب سائح من إسبانيا، يحب السباحة والغطس، يود الاستمتاع بشواطئ البحر الأحمر.
			٣- روبرت سائح من الولايات المتحدة الأمريكية، لديه رغبة فى زيارة أشهر المشروعات الجديدة فى مصر.

قيم نفسك

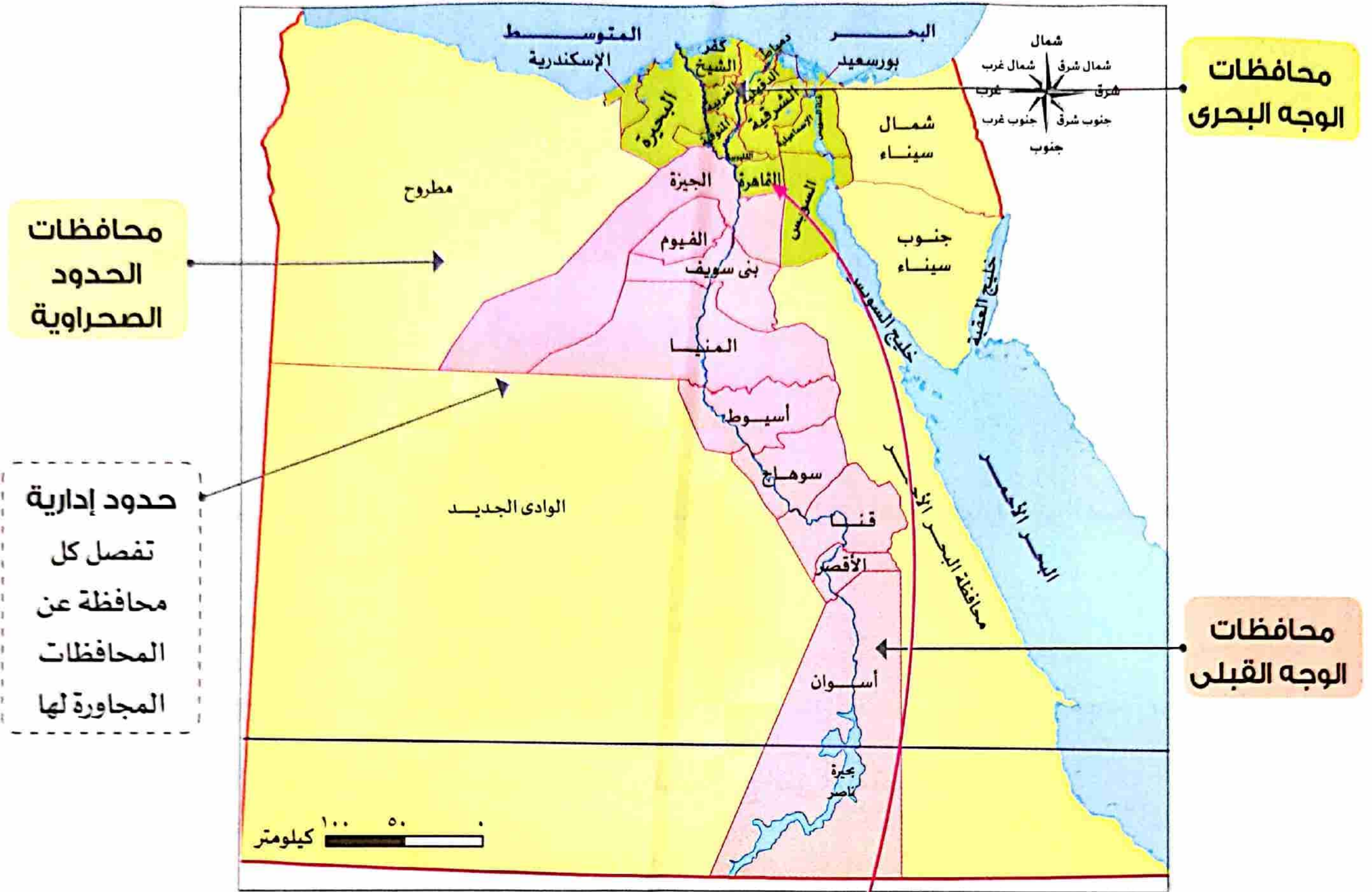
أحدد مواقع بعض الأماكن باستخدام نظام تحديد المواقع العالمى GPS. جيد جداً جيد بحاجة إلى مجهود أكبر

استكشف وراجع

استكشف: - استخدم شبكة المعلومات الدولية (الإنترنت)، واجمع معلومات عن العاصمة الإدارية الجديدة وأهم المشروعات فيها.
 راجع: ١- فى رأيك، لماذا ظلت القاهرة لعصور عديدة عاصمة لمصر؟
 ٢- قارن بين موقع محافظتك وموقع محافظة القاهرة.



• عدد محافظات جمهورية مصر العربية ٢٧ محافظة وتنقسم إلى:



القاهرة

عاصمة جمهورية مصر العربية

تتميز بأنها

- نقطة التقاء بين الوجهين البحرى والقبلى.

يوجد بها

- معالم أثرية.
- الوزارات.
- مراكز تجارية وصناعية وثقافية.

تطويرها من خلال

- إقامة المشروعات مثل: (حى الأسمرات - تطوير حى السيدة زينب - محور روض الفرج).

لتخفيف الضغط عنها

- تقوم الدولة بإنشاء (العاصمة الإدارية الجديدة).



مواقع الأماكن

اتجاه السير للوصول إليها

بواسطة يتم تحديدها

نظام تحديد المواقع العالمى
GPS



مجاب عنها

الدرس الرابع

محافظات مصر



تدريب

السؤال الأول أكمل العبارات الآتية بما يناسبها من كلمات:

- ١ مساحة من الأرض تضم مجموعة من الأحياء هي
- ٢ الحدود التي تفصل المحافظات عن بعضها تسمى حدودًا
- ٣ عاصمة جمهورية مصر العربية هي محافظة
- ٤ من محافظات الحدود الصحراوية محافظة
- ٥ تعتبر محافظة أسوان من محافظات

المستوى الأول

السؤال الثاني ضع علامة (✓) أمام العبارة الصحيحة، وعلامة (X) أمام العبارة غير الصحيحة:

- ١ الحدود الإدارية تفصل المحافظات المتجاورة عن بعضها. ()
- ٢ محافظة الإسكندرية تقع على البحر الأحمر. ()
- ٣ مشروع حي الأسمرات بمحافظة القليوبية من المشاريع التي أقامتها الدولة. ()
- ٤ نظرًا لاتساع مساحة مصر تم تقسيمها إلى ولايات. ()
- ٥ محافظة المنوفية من المحافظات التابعة للوجه البحرى. ()

السؤال الثالث صوب ما تحته خط:

- ١ قلعة صلاح الدين تقع في محافظة الجيزة. (.....)
- ٢ قامت الدولة بإنشاء العاصمة الإدارية لتخفيف الضغط السكانى عن محافظة الإسكندرية. (.....)
- ٣ عدد محافظات الحدود في مصر أربع محافظات. (.....)
- ٤ محافظة البحر الأحمر من محافظات الوجه البحرى. (.....)

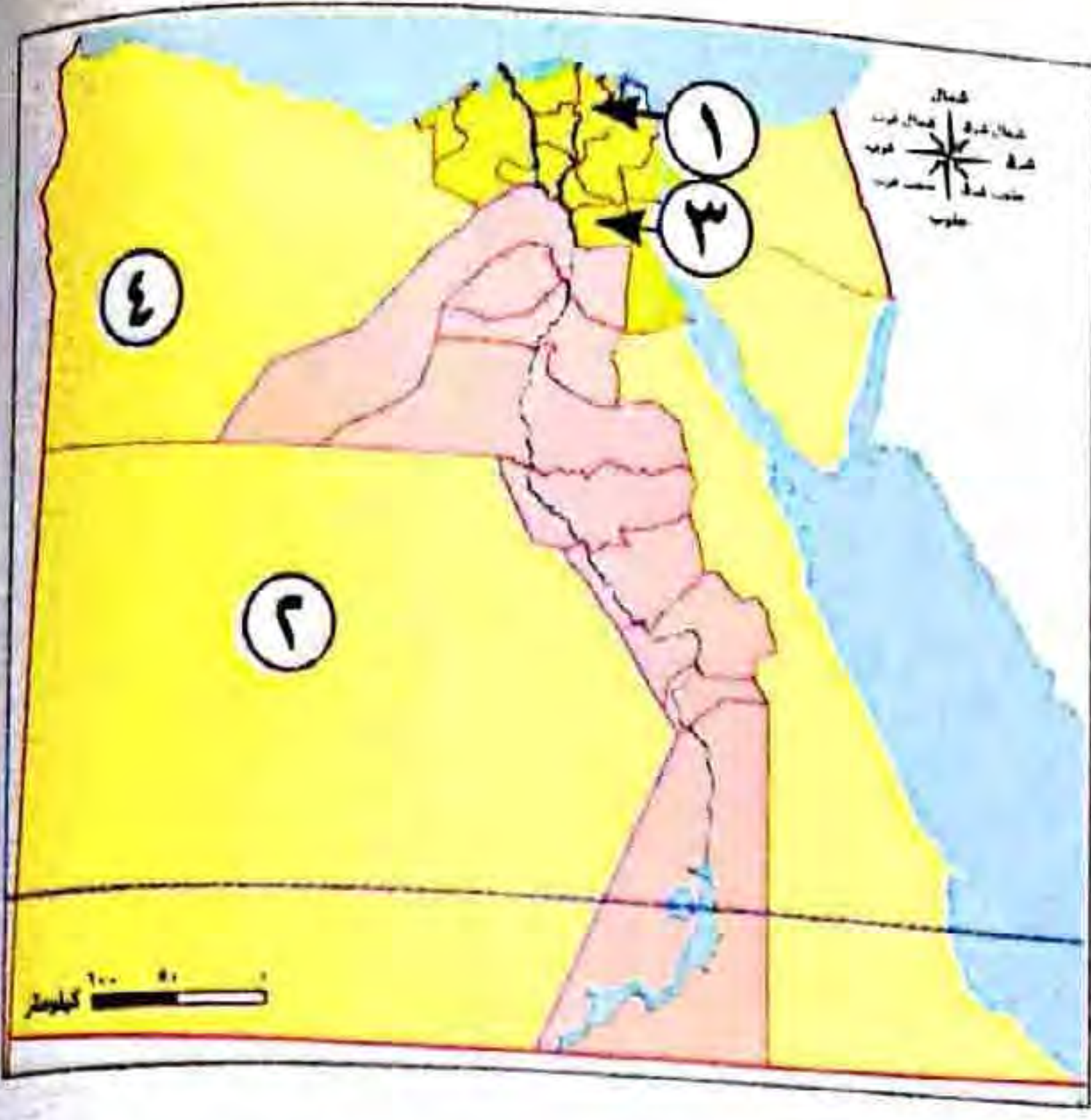
المستوى الثاني

السؤال الرابع صنف المحافظات الآتية على حسب المجموعة التي تنتمى إليها فى الجدول التالى:

(جنوب سيناء - البحيرة - البحر الأحمر - بورسعيد - الأقصر - قنا - الدقهلية - كفرالشيخ - مطروح)

محافظات الوجه البحرى	محافظات الوجه القبلى	محافظات الحدود الصحراوية
.....
.....

المستوى الثالث



السؤال الأول: أمامك خريطة لجمهورية مصر العربية، وضع عليها

مدلول الأرقام التالية:

- ١- يشير رقم (١) إلى محافظة (الدقهلية ٢٠٢٣)
- ٢- يشير رقم (٢) إلى أكبر محافظات مصر مساحة وهي (الشرقية ٢٠٢٢)
- ٣- عاصمة مصر (الغربية ٢٠٢٣)
- ٤- محافظة صحراوية (الجيزة ٢٠٢٣)

السؤال الثاني: اكتب كلمة (صواب) أمام العبارة الصحيحة، وكلمة (خطأ) أمام العبارة غير الصحيحة:

- ١- تعد محافظة الأقصر من محافظات الوجه البحرى. () (أسيوط ٢٠٢٣)
- ٢- تفصل الحدود الدولية بين محافظتى والمحافظات المجاورة. () (الزقازيق ٢٠٢٢)
- ٣- تعد محافظة أسيوط من محافظات الوجه القبلى. () (الزقازيق ٢٠٢٢)
- ٤- محافظة البحيرة إحدى محافظات الوجه القبلى. () (البحيرة ٢٠٢٣)
- ٥- محافظة البحر الأحمر محافظة حدودية. () (الجيزة ٢٠٢٣)

السؤال الثالث: اختر الإجابة الصحيحة مما بين القوسين:

- ١- إحدى محافظات الحدود الصحراوية (مطروح - السويس - المنوفية - البحيرة) (الفيوم ٢٠٢٢)
- ٢- إذا أردت الذهاب لعاصمة مصر فعليك التوجه إلى محافظة (الإسكندرية - القاهرة - الجيزة - أسوان) (القليوبية ٢٠٢٢)
- ٣- إذا أردت الذهاب إلى العاصمة الإدارية الجديدة لأول مرة يمكنك الوصول بسهولة باستخدام (صورة جوية - صورة فضائية - صورة فوتوغرافية - نظام تحديد المواقع «GPS» - الرادار) (القاهرة ٢٠٢٢)
- ٤- قامت الدولة ببناء العاصمة الإدارية الجديدة لتخفيف الضغط السكاني عن (الدقهلية - القاهرة - الإسكندرية - الجيزة) (الشرقية ٢٠٢٢)
- ٥- مساحة من اليابس تضم مجموعة من المراكز والأحياء هي (القارة - المحافظة - القرية - المدينة) (الدقهلية ٢٠٢٣)
- ٦- الحدود التى تفصل بين المحافظات هى الحدود (السياسية - الإدارية - البحرية - الجبلية) (الإسماعيلية ٢٠٢٣)

السؤال الرابع: صف المحافظات التالية إلى محافظات وجه بحرى ووجه قبلى (قنا - كفر الشيخ - سوهاج). (القاهرة ٢٠٢٣)

السؤال الخامس: أكمل العبارات الآتية:

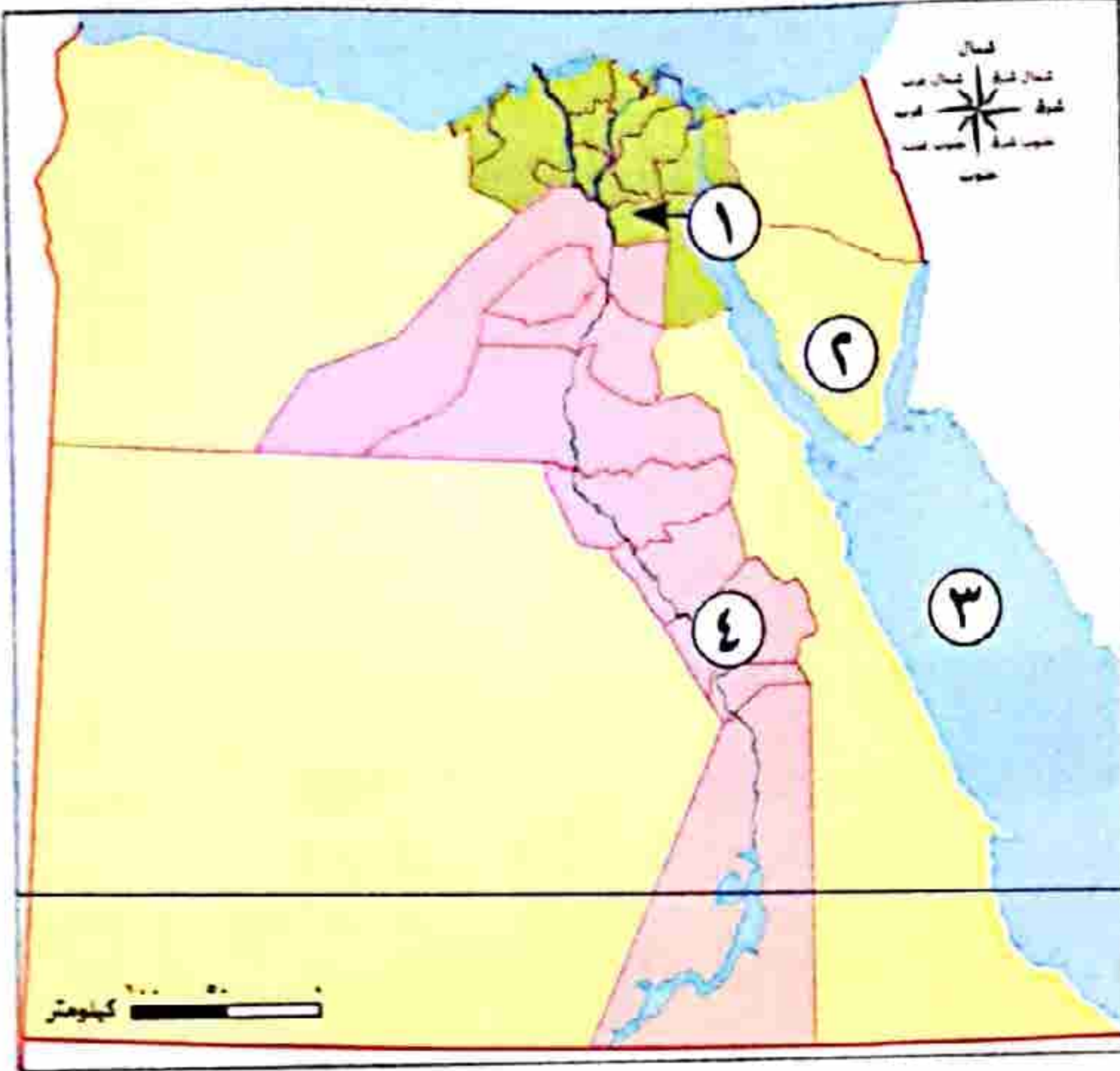
- ١- من محافظات الحدود الصحراوية محافظة (المنوفية ٢٠٢٣)
- ٢- إحدى محافظات الوجه البحرى وتعد عاصمة مصر (الشرقية ٢٠٢٣)
- ٣- محافظة سوهاج من محافظات الوجه (سوهاج ٢٠٢٣)

السؤال السادس: أجب عن الأسئلة التالية:

- ١- حدد سببًا واحدًا: لإنشاء الدولة للعاصمة الإدارية الجديدة (الشرقية ٢٠٢٣)
- ٢- حدد سببًا واحدًا: لاختيار القاهرة عاصمة مصر فى عصور مختلفة على مر التاريخ (المنيا ٢٠٢٢)
- ٣- اكتب نتيجة واحدة ل: تميز موقع محافظة القاهرة ووجود معظم الوزارات بها (القاهرة ٢٠٢٣)



السؤال الأول: (أ) أمامك خريطة لجمهورية مصر العربية، وضع عليها مدلول الأرقام التالية:



- ١- يشير (١) إلى محافظة
- ٢- يشير (٢) إلى محافظة حدودية
- ٣- يشير (٣) إلى البحر
- ٤- يشير (٤) إلى نهر

(ب) فى رأيك: ما أهمية نظام تحديد المواقع العالمى GPS؟

.....

السؤال الثانى: ضع دائرة حول الإجابة الصحيحة مما يلى:

- ١- يوجد بمصر محافظات حدودية صحراوية.
- (أربع - خمس - ست - سبع)
- ٢- بالنظر لخريطة مصر فى السؤال السابق: محافظة تطل على البحر المتوسط.
- (البحر الأحمر - جنوب سيناء - سوهاج - بورسعيد)
- ٣- محافظة شمال سيناء ومحافظة الوادى الجديد تتشابهان فى أنهما محافظات
- (حدود صحراوية - وجه بحرى - وجه قبلى - عاصمة)
- ٤- اختيار محافظة القاهرة عاصمة للبلاد يرجع إلى
- (اتساع مساحتها - كثرة موانئها - موقعها المتميز - ازدهارها صناعياً)
- ٥- مسجد عمرو بن العاص يقع فى محافظة
- (الجيزة - القليوبية - القاهرة - الدقهلية)

السؤال الثالث: صوب ما تحته خط:

- ١- محافظة الإسكندرية من محافظات الحدود.
- (.....)
- ٢- مصر تطل على البحر المتوسط من جهة الشرق.
- (.....)
- ٣- الجيزة تعتبر عاصمة مصر السياسية.
- (.....)
- ٤- الحدود الدولية تفصل المحافظات عن بعضها.
- (.....)
- ٥- أنشأت الدولة العاصمة الإدارية لتخفيف الضغط عن محافظة السويس.
- (.....)





تفاعل

- بماذا تشعر عندما ترى عَلم بلدك؟
- ما الذى يجعل من عَلم بلدك رمزًا وطنيًا مهمًا؟

تعلم

ماذا يقصد بالعلم؟

العَلم: يرمز علم كل بلد لتاريخه وتراثه، ولكل جزء فيه معنى خاص به.

شكل علم مصرنا الحبيبة

◀ عندما تنظر إلى صورة علم مصر تلاحظ أنه على شكل مستطيل، ويتكون من ثلاثة ألوان هي:

اللون الأبيض: يعبر عن السلام.

اللون الأسود: يعبر عن الظلم الذى تعرضت له مصر فى فترات الاستعمار.



اللون الأحمر: يعبر عن مرحلة النضال ودماء الشهداء من أجل الحرية.

النسر: أصفر ذهبى.

- يتوسط الجزء الأبيض.

- مأخوذ عن نسر صلاح الدين الأيوبي، يرمز إلى قوة مصر وعراقة حضارتها.

افهم وطبق

(التكامل مع التربية الفنية)



لَوْنُ المستطيلات الثلاثة للعلم المصرى التالى، واكتب جملة تحدد فيها ما يرمز له كل لون من الألوان الثلاثة، ومعنى النسر فى الوسط:

قيم نفسك • اشرح ما ترمز إليه الألوان والرموز على العلم المصرى وأهميته.

جيد جدًا جيد بحاجة إلى مجهود أكبر

• لأن العلم رمز للدولة، فهو يُرفع في جميع أرجاء البلاد، مثل:

المواقع السياحية والمؤتمرات
والمناسبات الرسمية.



على وسائل النقل الدولية
مثل الطائرات.



الوزارات والهيئات
والمؤسسات الحكومية.



سؤال؟

اذكر اثنين من الأماكن التي يتم رفع العلم بها.

ما مظاهر احترام العلم؟

• احترام علم بلدنا مصر واجب وطني؛ لأنه رمز للدولة.

• أكدت المادة ٢٢٣ من الدستور المصري لعام ٢٠١٤ م أن إهانة العلم المصري جريمة يُعاقب عليها القانون.



رفعه عاليًا وعدم لمسه الأرض.

المحافظة عليه وعدم تمزيقه
أو حرقه.

أهم
السلوكيات
المعبرة عن
احترام علم
بلدنا

الوقوف باحترام أثناء تحية العلم.

عدم الكتابة أو الرسم عليه أو
التسبب في ابتلاله بالماء.

• يُصاحب تحية العلم النشيد الوطني «بلادي بلادي».



والذي لحنه الفنان
المصري سيد درويش.



والذي ألف كلماته الشاعر
محمد يونس القاضي.

• كما أن لمصر علمًا يرمز لها بين دول العالم؛ فإن لكل محافظة من محافظات مصر شعارًا خاصًا بها.

ما شعار المحافظة؟

الشعار
راية تتخذها المحافظة رمزًا لها، لتعبر عن نشاط سكانها أو جزء من تاريخها.

• لاحظ شعار محافظة القاهرة، تجده يضم عدة رموز، هي:

الجامع الأزهر الشريف، ومكتوب عليه كلمة «القاهرة».



وخلف الجامع تظهر شمس ساطعة لتدلّ على أنّ الجامع الأزهر هو منارة الإسلام في العالم.

ما الأماكن التي يرفع فيها شعار المحافظة؟

- يرفع شعار المحافظة على مبنى المحافظة.
- يرفع في العيد القومي الخاص بالمحافظة.

العيد القومي للمحافظة

• لكلّ محافظة من محافظات مصر عيدها القومي الخاص بها، والذي يرتبط بحدث تاريخي أو ذكرى مهمة مرت بها المحافظة، فمثلًا:



وهو اليوم الذي يوافق وضع القائد جوهر الصقل حجر الأساس لبناء مدينة القاهرة عام ٩٦٩م.

محافظة القاهرة تحتفل بعيدها القومي في السادس من يوليو كل عام.

ما مظاهر الاحتفال بالعيد القومي للمحافظة؟

• تقوم المحافظة خلال الاحتفال بالعيد القومي لها بـ:

تزيين وتجميل الميادين والشوارع.

إقامة المهرجانات والاحتفالات والمسابقات التي يُرفع فيها علم مصر وشعار المحافظة.

افتتاح المحافظ عددًا من المشروعات لخدمة أبناء المحافظة.



سؤال؟

(١) أكمل العبارتين الآتيتين:

١- يوافق العيد القومي لمحافظة القاهرة ذكرى

٢- مؤلف كلمات النشيد الوطنى المصرى (بلادى بلادى) هو

(ب) ما المقصود بـ: الشعار؟

افهم وطبق

(الدراسات الاجتماعية فى حياتى اليومية)

١- فكروا و أجب:

١- حدّد ثلاثة أماكن ترى العَلم المصرى يرفرف عليها. ولماذا يُعتبر رفع العَلم فيها ضرورياً؟

٢- متى كانت المرة الأخيرة التى رأيت فيها العَلم المصرى فى احتفال وطنى؟ ماذا كانت مناسبة الاحتفال؟ كيف عبّر الناس عن احترامهم للعَلم؟

٣- صِف شعورك عندما تقف تحية للعَلم.

٢- ضَع علامة (✓) أمام السلوكيات التى تعبّر عن احترام عَلم مصر:

- (✓) (١) شراء عَلم جديد لإحياء أحد الاحتفالات الوطنية.
- () (ب) إنزال العَلم ووضعُه بجانبك وأنت تقف بحيث يلامس الأرض.
- () (ج) كتابة جملة «أحب مصر» بقلم تظليل أسود على عَلمك.
- () (د) الوقوف تحية للعَلم فى مدرستك.
- () (هـ) طى العَلم بعناية ووضعُه بعيداً عند إنزاله.
- () (و) رفع عَلمك على الرغم من تمزقه.
- () (ز) تحرك أحد الزملاء أثناء تحية العَلم.

قيم نفسك

جهد جداً جيد بحاجة إلى مجهود أكبر

جهد جداً جيد بحاجة إلى مجهود أكبر

• أشرح ما ترمز إليه الألوان والرموز على العَلم المصرى وأهميته.

• أذكر طرقاً مختلفة لإظهار الاحترام لعَلم مصر.

افهم وطبق

٣

١- ارسم واكتب:

ارسم شعار محافظتك، ثم ابحث عن معاني رموزه واكتبها.

٢- فكّر وأجب:

١- في رأيك، لماذا صممت كل محافظة الشعار الخاص بها؟

٢- كيف يمثل شعار محافظتك تاريخها أو أنشطتها؟ ماذا يعجبك في هذا الشعار؟

قيم نفسك

• أشرح رموز شعار محافظتي ومدلول كل رمز. جيد جدًا جيد بحاجة إلى مجهود أكبر

استكشف وراجع

استكشف:

- استخدم شبكة المعلومات الدولية وابحث عن الأعلام المصرية على مر العصور.

- حدد إلام تشير الألوان والرموز في كل علم.
- اختر علمين من الأعلام القديمة لمصر، واجمع معلومات عنهما، واعرضها على زملائك.

راجع:

- ١- لماذا تحرص الدولة على وجود علم خاص بها؟
- ٢- حدد أهم السلوكيات التي تعبر عن احترامك لعلم بلدك.
- ٣- ماذا يقصد بشعار المحافظة؟
- ٤- حدد مظاهر الاحتفال بالعيد القومي لمحافظةك.



الفرق بين العلم والشعار :

العلم: يرمز علم كل بلد لتاريخها وتراثها.

شكل العلم المصري



■ اللون الأحمر: يعبر عن (النضال ودماء الشهداء).

□ اللون الأبيض: يعبر عن (السلام).

■ اللون الأسود: يعبر عن (الظلم وفترات الاستعمار).

👑 النسر لونه: أصفر ذهبي مأخوذ عن نسر صلاح الدين.

أماكن رفع العلم

المواقع السياحية
والمناسبات الرسمية

وسائل النقل الدولية

الوزارات والهيئات
الحكومية

الشعار: راية تتخذها المحافظة رمزاً لها
لتعبر عن نشاط سكانها أو جزء من تاريخها.

مثل شعار محافظة القاهرة : مكون من



الجامع الأزهر مكتوب على قاعدته كلمة

«القاهرة».

خلف الجامع شمس ساطعة.



أماكن رفع الشعار

مبنى المحافظة

في العيد القومي الخاص
بالمحافظة

العيد القومي للمحافظة

• لكل محافظة عيد قومي خاص بها، فمثلاً:

- محافظة القاهرة تحتفل بعيدها القومي في السادس من يوليو.

- هو يوم يوافق وضع القائد جوهر الصقلي حجر الأساس

لبناء مدينة القاهرة عام ٩٦٩م.

أهم السلوكيات المعبرة عن احترام علم بلدنا

- الوقوف باحترام أثناء تحية العلم.

- عدم الكتابة أو الرسم عليه أو التسبب في ابتلاله بالماء.

- رفعه عاليًا وعدم لمس الأرض.

- المحافظة عليه وعدم تمزيقه أو حرقه.

تزيين وتجميل الشوارع والميادين.

إقامة المهرجانات والاحتفالات والمسابقات.

افتتاح المحافظ عددًا من المشروعات.

مظاهر الاحتفال

بالعيد القومي

للمحافظة:



السؤال الأول

أكمل العبارات الآتية بما يناسبها من كلمات:

- ١ العيد القومى لمحافظة يوافق اليوم السادس من يوليو .
- ٢ علم مصر يتخذ شكل
- ٣ يعبر اللون الأبيض فى علم مصر عن
- ٤ اللون الذى يوجد بالعلم المصرى ويعبر عن الظلم خلال فترات الاستعمار هو
- ٥ من مظاهر الاحتفال بالعيد القومى تجميل
- ٦ راية تتخذها المحافظة رمزاً لها.
- ٧ نسر صلاح الدين فى العلم المصرى يرمز إلى
- ٨ مؤلف كلمات النشيد الوطنى بلادى بلادى هو

المستوى الأول

السؤال الثانى

ضع علامة (✓) أمام العبارة الصحيحة، وعلامة (X) أمام العبارة غير الصحيحة:

- ١ اللون الأحمر فى العلم المصرى يعبر عن الظلم فى فترات الاستعمار.
- ٢ يرفع العلم على وسائل النقل الدولية مثل الطائرات.
- ٣ احترام علمنا واجب وطنى؛ لأنه رمز الدولة.
- ٤ أثناء الاحتفال بالعيد القومى للمحافظة تقام الاحتفالات والمهرجانات.
- ٥ يدل اللون الأبيض فى علم مصر على مرحلة النضال ودماء الشهداء.
- ٦ النسر الذى يتوسط علم مصر يدل على القوة والشجاعة.
- ٧ المحافظ يفتتح عددًا من المشروعات أثناء العيد القومى للمحافظة.
- ٨ يرتبط العيد القومى للمحافظة بحدث تاريخى أو ذكرى مهمة.
- ٩ لكل محافظة شعار يعبر عن نشاط أو جزء من تاريخها.
- ١٠ تحتفل جميع محافظات مصر بعيد قومى واحد.

السؤال الثالث

صوب ما تحته خط:

- ١ مرحلة النضال ودماء الشهداء يعبر عنها اللون الأبيض فى العلم المصرى.
- ٢ يتخذ علم مصر الشكل المربع.
- ٣ الوقوف أثناء تحية العلم يدل على إهانتنا له.
- ٤ يرمز النسر فى علم مصر إلى ضعفها.
- ٥ قام بوضع حجر الأساس لمدينة القاهرة القائد صلاح الدين الأيوبى.
- ٦ العيد القومى لمحافظة القاهرة يوافق يوم السادس من مايو.

المستوى الثانى

السؤال الرابع ضع دائرة حول الإجابة الصحيحة مما يلي:

- ١ يتوسط العلم المصري
- ٢ يعبر عن فترة السلام في العلم المصري اللون (الأسود - الأحمر - الأبيض - الأصفر)
- ٣ قام بتأليف كلمات النشيد الوطني (أحمد شوقي - حافظ إبراهيم - محمد يونس - محمد عبد الوهاب)
- ٤ يتخذ علم مصر شكل (مثلث - دائرة - مستطيل - مربع)
- ٥ وضع حجر الأساس لمدينة القاهرة عام ٩٦٩ م القائد
- ٦ يوجد في الشعار الخاص بمحافظة القاهرة جامع (جوهر الصقلي - صلاح الدين الأيوبي - عز الدين أيبك - سيف الدين قطز)
- ٧ عمرو بن العاص - أحمد بن طولون - الأزهر الشريف - السلطان حسن

السؤال الخامس أجب عن السؤالين الآتيين:

١ وضح بعض مظاهر الاحتفال بالعيد القومي للمحافظة.

.....

٢ اذكر ثلاثة من السلوكيات التي تعبر عن مظاهر احترام العلم.

.....

السؤال السادس حدد: أي من السلوكيات الآتية يعد سلوكًا إيجابيًا، وأي منها يعد سلوكًا سلبيًا:

- ١ حرق العلم أثناء اللعب مع الأصدقاء. (.....)
- ٢ احترام العلم ورفعته. (.....)
- ٣ الكتابة بالألوان على العلم. (.....)

السؤال السابع اكتب تفسيرًا لـ:

- ١ وجود اللون الأحمر في علم مصر.
- ٢ احترام علم بلدنا مصر واجب وطني.
- ٣ تتخذ كل محافظة شعارًا خاصًا بها.
- ٤ تحتفل محافظة القاهرة بعيدها القومي في السادس من يوليو من كل عام.

السؤال الثامن أمامك صورة لشعار محافظة القاهرة، اكتب وصفًا للمشار إليه في المستطيلين الموجودين بالشكل:



٢

.....

.....

١

.....

.....

السؤال الأول: اختر الإجابة الصحيحة مما بين القوسين:

- ١- تحتفل القاهرة بعيدها القومي في ذكرى
(بناء مدينة القاهرة - بناء الجامع الأزهر - حفر قناة السويس - جلاء الإنجليز) (أسيوط ٢٠٢٣)
- ٢- يدل النسرفى وسط العلم على
(الضعف - الثورة - اليأس - القوة) (الإسماعيلية ٢٠٢٢)
- ٣- تشير الشمس في شعار محافظة القاهرة إلى
(موقع القاهرة المتميز بين محافظات مصر - الجامع الأزهر منارة الإسلام فى العالم - اعتدال مناخ محافظة القاهرة - نورا الإسلام يشرق على مصر)
(الإسماعيلية ٢٠٢٢)
- ٤- يتكون علم مصر من ألوان.
(ثلاثة - أربعة - خمسة - ستة) (بورسعيد ٢٠٢٢)
- ٥- ملحن النشيد الوطنى «بلادى بلادى» هو.....
(جمال حمدان - سيد درويش - محمد يونس - طه حسين) (الجيزة ٢٠٢٣)
- ٦- اللون الذى يدل على نضال الشعب المصرى فى علم مصر.....
(الأبيض - الأسود - الأحمر - الأخضر) (الغربية ٢٠٢٢)
- ٧- يتوسط العلم المصرى
(نجمتان - هلال - نسر - نجمة) (الجيزة ٢٠٢٣)
- ٨- السلام فى علم مصر يدل عليه اللون
(الأحمر - الأبيض - الأسود - الذهبى) (البحيرة ٢٠٢٣)
- ٩- يتكون شعار محافظة القاهرة من عدة رموز منها:

(جامع عمرو بن العاص - الجامع الأزهر الشريف - جامعة القاهرة - قلعة صلاح الدين) (الجيزة ٢٠٢٢)

السؤال الثانى: اكتب كلمة (صواب) أمام العبارة الصحيحة، وكلمة (خطأ) أمام العبارة غير الصحيحة:

- ١- تحتفل القاهرة بعيدها القومي بمناسبة وضع حجر الأساس لبناء مدينة القاهرة. () (بورسعيد ٢٠٢٢)
- ٢- يدل اللون الأحمر فى علم مصر على مرحلة النضال ودماء الشهداء. () (الإسكندرية ٢٠٢٣)
- ٣- يعبر شعار محافظة القاهرة عن نشاط سكانها. () (القاهرة ٢٠٢٢)
- ٤- يدل اللون الأسود فى علم مصر على الظلم الذى تعرضت له مصر فى فترات الاستعمار. () (القاهرة ٢٠٢٢)
- ٥- يدل النسر الذى يتوسط علم مصر على القوة والشجاعة. () (الجيزة ٢٠٢٣)
- ٦- يدل اللون الأبيض فى علم مصر على الظلم. () (الإسماعيلية ٢٠٢٣)
- ٧- احترام علم بلدنا مصر واجب وطنى لأنه رمز للدولة. () (الغربية ٢٠٢٣)
- ٨- تحتفل جميع محافظات مصر بعيد قومى واحد. () (الغربية ٢٠٢٢)
- ٩- تقام المهرجانات والاحتفالات فى يوم العيد القومى لمحافظةك. () (الجيزة ٢٠٢٢)

السؤال الثالث: أكمل العبارات الآتية:

- ١- يدل النسرفى علم مصر على
- ٢- اللون الأبيض فى علم مصر يدل على
- ٣- يرمز الجامع الأزهر فى شعار محافظة القاهرة إلى
- ٤- منارة العلم فى العالم أجمع هو الجامع

السؤال الرابع: أجب عن الأسئلة التالية:

- ١- حدد سببًا واحدًا ل: أهمية وجود علم لكل دولة
- ٢- اكتب تفسيرًا واحدًا ل: وجود النسرفى وسط علم مصر. (القليوبية ٢٠٢٢)
- ٣- حدد سببًا ل: احتفال كل محافظة بعيد قومى خاص بها. (قنا ٢٠٢٢)
- ٤- اكتب تفسيرًا واحدًا ل: وجود اللون الأبيض فى علم مصر. (البحيرة ٢٠٢٣)
- ٥- اكتب اثنين من السلوكيات المعبرة عن احترامك لعلم مصر. (الإسكندرية ٢٠٢٣)
- (الشرقية ٢٠٢٢)

السؤال الأول: ضع دائرة حول الإجابة الصحيحة مما يلى:



١- النسر الذهبى الذى يتوسط علم مصر مأخوذ من نسر.....

(سيف الدين قطز - صلاح الدين - جوهر الصقلى - المعز لدين الله)

٢- أمامك صورة لعلم مصر، لاحظها ثم حدد: أى من الأرقام الموقعة عليها يمثل دماء

الشهداء؟ (١ - ٢ - ٣ - ٤)

٣- منارة الإسلام فى العالم أجمع هو جامع

(الأزهر الشريف - محمد على - الناصر قلاوون - الرفاعى)

٤- تحتفل القاهرة بعيدها القومى فى ذكرى

(بناء مدينة القاهرة - بناء الجامع الأزهر - حفر قناة السويس - حفر قناة سيروس تريس)

٥- يرمز اللون الأسود فى العلم المصرى إلى

(دم الشهداء - الظلم والاستعمار - السلام والأمان - نسر صلاح الدين)

السؤال الثانى: (ا) أكمل العبارات التالية بالكلمات المناسبة:

١- العلم المصرى يرفع على أماكن عديدة، منها:

٢- ملحن النشيد الوطنى «بلادى بلادى» هو

٣- الشمس والجامع الأزهر شعار لمحافظة

٤- يقوم بافتتاح عدد من المشروعات لخدمة أبناء المحافظة.

(ب) لماذا تحرص مصر على وجود علم خاص لها؟

السؤال الثالث: (ا) اكتب كلمة (صواب) أمام العبارة الصحيحة، وكلمة (خطأ) أمام العبارة غير الصحيحة:

١- ابتلال العلم بالماء من السلوكيات التى تعبر عن احترامنا للعلم. ()

٢- يعبر اللون الأبيض فى العلم المصرى عن السلام. ()

٣- النسر الموجود فى العلم المصرى مأخوذ عن قطز. ()

(ب) أمامك صورتان: حدد أوجه الشبه والاختلاف بينهما.



وجه الشبه:

وجه الاختلاف:





السؤال الأول: أكمل العبارات الآتية :

- ١- من العناصر الأساسية للخريطة ويستخدم لحساب المسافة بين المواقع
- ٢- الأحداث التي تم التأكد من صحتها ودقتها من خلال البحث أو التجريب هي
- ٣- تربط قناة السويس بين البحر الأحمر و
- ٤- الحدود التي تفصل المحافظات عن بعضها تسمى حدودًا
- ٥- العلم المصرى يتخذ شكل
- ٦- من مظاهر الاحتفال بالعيد القومى تجميل
- ٧- رسم توضيحي لسطح الأرض أو جزء منه هو
- ٨- أضاف نهر أهمية كبيرة لموقع مصر.

السؤال الثانى: اكتب كلمة (صواب) أمام العبارة الصحيحة، وكلمة (خطأ) أمام العبارة غير الصحيحة:

- ١- الصور الجوية تستخدم لتحديد مواقع الأماكن .
- ٢- الكتب والموسوعات والمقالات من المصادر الأولية .
- ٣- زادت أهمية موقع مصر الجغرافى بعد حفر قناة السويس .
- ٤- مشروع حى الأسمرات بمحافظة القليوبية من المشاريع التى أقامتها الدولة .
- ٥- احترام علمنا واجب وطنى ؛ لأنه رمز الدولة .
- ٦- يرتبط العيد القومى للمحافظة بحدث تاريخى أو ذكرى مهمة .
- ٧- إذا أردت معرفة موقع مدينة القاهرة فإنك تنظر إلى الخريطة .
- ٨- المحيط يمثل مساحة كبيرة من الماء المالح قليل العمق .

السؤال الثالث: اختر الإجابة الصحيحة مما بين القوسين:

- ١- الجهة التى تقع بين الجنوب والشرق هى جهة
- (الشمال الشرقى - الشمال الغربى - الجنوب الشرقى - الجنوب الغربى)
- ٢- عند كتابتك لبحث عن أهمية موقع مصر تستخدم أحد المصادر الثانوية مثل
- (المخاطبات الرسمية - البرديات - الوثائق الرسمية - الكتب)
- ٣- يستخدم نهر كطريق للتجارة بين شمال مصر وجنوبها .
- (الفرات - دجلة - النيل - عطبرة)
- ٤- من محافظات الوجه البحرى محافظة
- (المنيا - سوهاج - الشرقية - مطروح)
- ٥- اللون الذى يعبر عن فترة السلام فى العلم المصرى اللون
- (الأسود - الأحمر - الأبيض - الأصفر)
- ٦- وضع حجر الأساس لمدينة القاهرة عام ٩٦٩ م القائد
- (جوهر الصقلى - صلاح الدين الأيوبي - عز الدين أيبك - سيف الدين قطز)

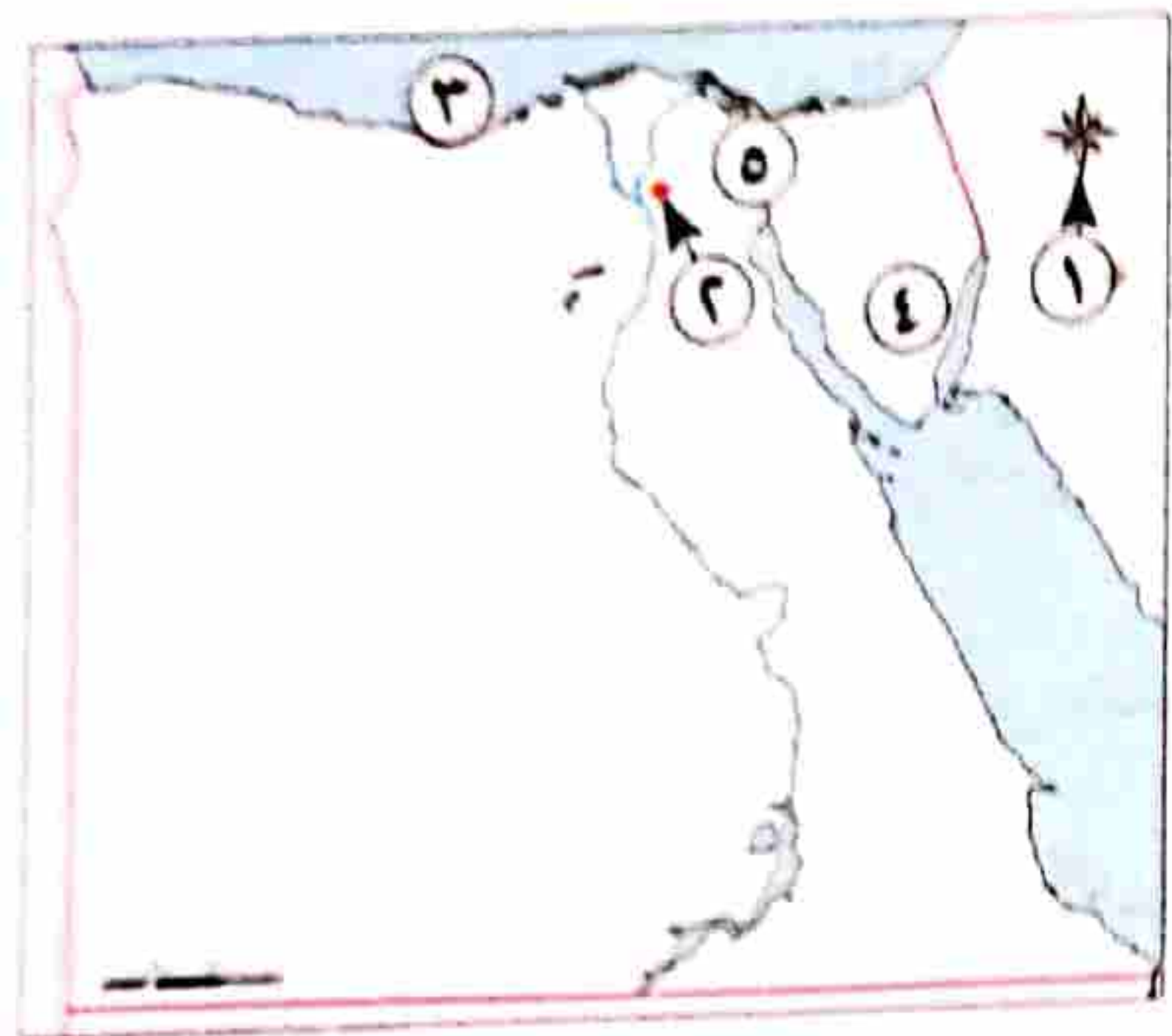
٧- إذا أردت حساب المسافة بين محافظتي القاهرة والجيزة في الطبيعة فإنك تحتاج إلى معرفة

(عنوان الخريطة - مقياس رسم الخريطة - مفتاح الخريطة - وردة البوصلة)

السؤال الرابع: اكتب ما تشير إليه العبارات الآتية :

- ١- من العناصر الأساسية للخريطة ويشير إلى الموضوع الذي تتناوله الخريطة. (.....)
- ٢- يوضح معنى الألوان والرموز الموجودة على الخريطة. (.....)
- ٣- شبكة تم وضعها لتحديد موقع المكان بالنسبة لخطوط الطول ودوائر العرض. (.....)
- ٤- صور يتم التقاطها من مكان مرتفع من الجو باستخدام الطائرات. (.....)
- ٥- صور يتم التقاطها باستخدام الأقمار الصناعية. (.....)
- ٦- مصادر تعاصر الأحداث ومرتبطة بزمن وقوع الحدث. (.....)
- ٧- موقع المكان بالنسبة لليابس والماء. (.....)
- ٨- حدود تفصل المحافظات عن بعضها. (.....)
- ٩- رمزيته كل بلد ليعبر عن تاريخه وتراثه. (.....)

السؤال الخامس: أمامك خريطة لمصر، ادرسها، ثم اكتب ما تشير إليه الأرقام :



- ١- يشير رقم (١) إلى عنصر أساسي من عناصر الخريطة
- ٢- يشير رقم (٢) إلى محافظة
- ٣- يشير رقم (٣) إلى البحر
- ٤- يشير رقم (٤) إلى محافظة حدود
- ٥- يشير رقم (٥) إلى قناة

السؤال السادس: بم تفسر...؟

- ١- أهمية رسم وردة البوصلة
- ٢- وجود اختلاف بين الحقيقة والرأى
- ٣- نهر النيل ساعد على ازدهار الاقتصاد المصري منذ القدم
- ٤- إنشاء الدولة للعاصمة الإدارية الجديدة
- ٥- أهمية وجود علم لكل دولة
- ٦- احتفال كل محافظة بعيد قومي خاص بها
- ٧- أهمية استخدام الخريطة
- ٨- أهمية المصادر الأولية
- ٩- مصر تعد دولة بحرية

السؤال السابع: ما النتائج المترتبة على ...؟

- ١- حفر قناة السويس الجديدة
- ٢- موقع مصر الجغرافي

السؤال الثامن: ما العلاقة بين ...؟

- ١- الصور الجوية والفضائية
- ٢- خطوط الطول ودوائر العرض

السؤال الأول: أكمل العبارات الآتية بما يناسبها من كلمات :

- ١- زادت أهمية مصر بعد حفر قناة
- ٢- منارة الإسلام في العالم أجمع هو الجامع
- ٣- تلتقط الصور الجوية بواسطة
- ٤- البرديات التي وجدت تعتبر مصدرًا

السؤال الثاني: اكتب كلمة (صواب) أمام العبارة الصحيحة، وكلمة (خطأ) أمام العبارة غير الصحيحة:

- ١- يستخدم عنوان الخريطة في تحديد الاتجاهات الأصلية. () (دمياط ٢٠٢٣)
- ٢- محافظة البحر الأحمر محافظة حدودية. () (الجيزة ٢٠٢٣)
- ٣- أدى حفر قناة السويس الجديدة إلى زيادة زمن مرور السفن بالقناة. () (الإسكندرية ٢٠٢٣)
- ٤- يرتبط العيد القومي لمحافظة بذكرى تاريخية. () (دمياط ٢٠٢٣)
- ٥- تحتفل محافظة القاهرة بعيدها القومي في ٦ يوليو كل عام. () (القاهرة ٢٠٢٣)

السؤال الثالث: اختر الإجابة الصحيحة مما بين القوسين:

- ١- لمعرفة مدلول الألوان والرموز الموجودة على الخريطة فإننا ننظر إلى
(عنوان الخريطة - مقياس الرسم - مفتاح الخريطة - وردة البوصلة) (الإسكندرية ٢٠٢٣)
- ٢- يرمز اللون الأبيض في علم مصر إلى
(القوة - السلام - النضال - الظلم) (القليوبية ٢٠٢٣)
- ٣- المعلومات التي تم التأكد من صحتها هي
(حقائق - آراء - وجهات نظر - معتقدات) (المنيا ٢٠٢٣)
- ٤- إذا أردت كتابة بحث عن أهمية موقع مصر الجغرافي فإنك تستعين بمؤلفات
(جمال حمدان - طه حسين - محمد يونس - سيد درويش) (القاهرة ٢٠٢٣)

السؤال الرابع: أمامك خريطة لمصر ادرسها، ثم اكتب ما تشير إليه الأرقام:

- ١- يشير رقم (١) إلى أحد عناصر الخريطة (القاهرة ٢٠٢٣)
- ٢- يشير رقم (٢) إلى عنصر أساسي بالخريطة (القليوبية ٢٠٢٣)
- ٣- يشير رقم (٣) أعلى الخريطة إلى وردة (سوهاج ٢٠٢٣)

السؤال الخامس: صوب ما تحته خط:

- ١- تعد الموسوعات من المصادر الأولية.
- ٢- القائد الذي بنى مدينة القاهرة هو عمرو بن العاص.
- ٣- محافظة الإسكندرية من محافظات الحدود.

السؤال السادس: أجب عن الأسئلة الآتية:

- ١- اكتب نتيجة ترتبت على حفر قناة السويس
- ٢- اكتب تفسيرًا لتقسيم مصر إلى عدة محافظات
- ٣- اكتب دليلًا على أن: مصر دولة بحرية
- ٤- حدد سببًا واحدًا لإنشاء الدولة العاصمة الجديدة

السؤال الأول: صوب ما تحته خط:

- ١- يمكن معرفة الاتجاهات الأصلية والفرعية عن طريق مفتاح الخريطة. (.....)
- ٢- لكل محافظة من محافظات مصر علم خاص. (.....)
- ٣- يتوسط علم مصر النجوم. (.....)
- ٤- اللون الأحمر في علم مصر يرمز لفترات الاستعمار. (.....)
- ٥- المصادر الثانوية تتميز بأنها معاصرة للأحداث. (.....)

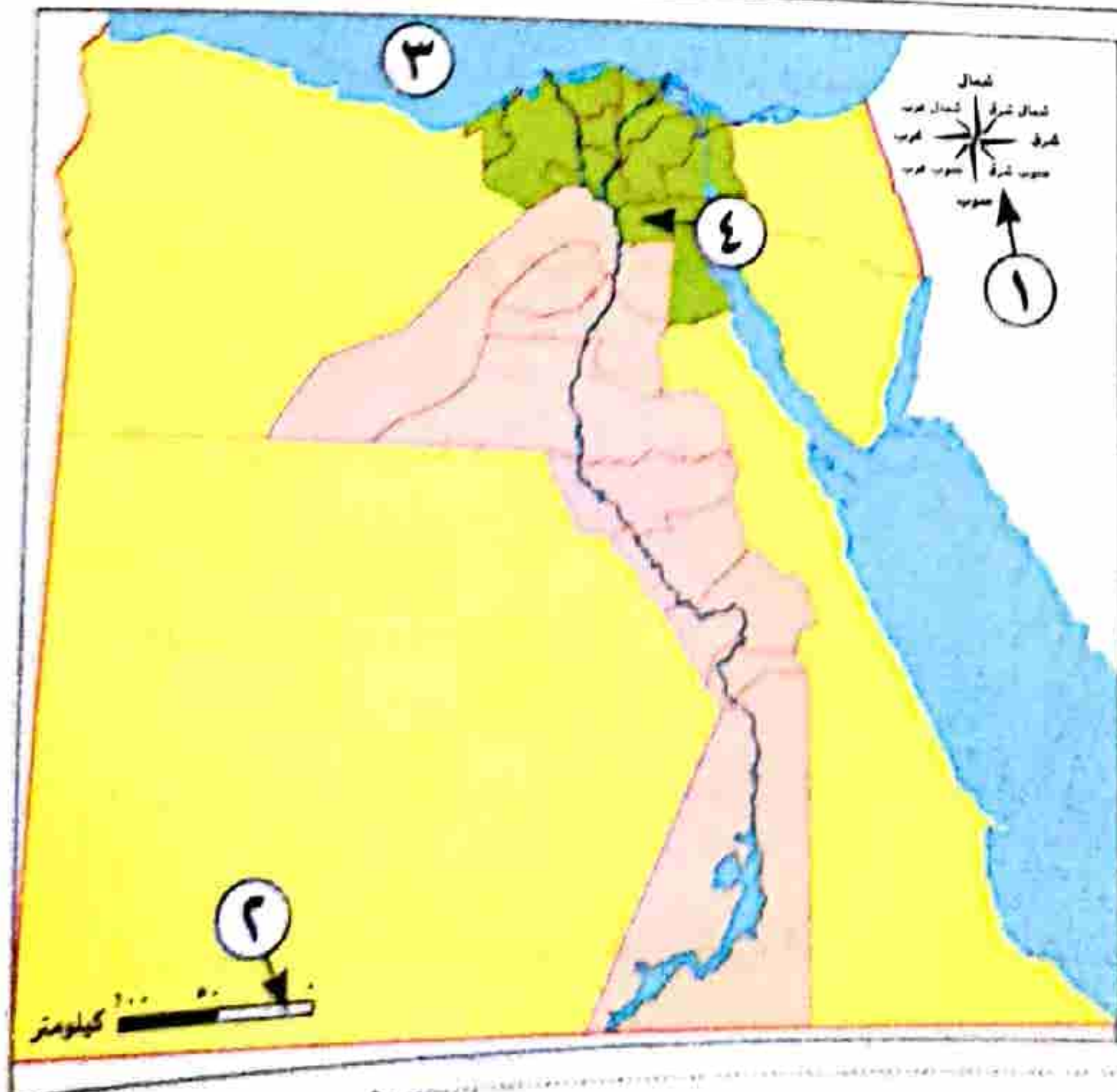
السؤال الثاني: (أ) اختر الإجابة الصحيحة مما يلي:

- ١- محافظة مطروح تقع في الجزء من مصر.
(الجنوبى الشرقى - الشمالى الشرقى - الجنوبى الغربى - الشمالى الغربى)
- ٢- البحر المتوسط يقع في جهة مصر.....
(الشمالية - الجنوبية - الشرقية - الغربية)
- ٣- زادت أهمية مصر الاقتصادية في العصر الحالى بعد حفر.....
(البحر المتوسط - نهر النيل - قناة السويس - قناة سيذوستريس)
- ٤- استعمرت إنجلترا مصر فترة من الزمن، وهذا يظهر في علم مصر من اللون.....
(الأبيض - الأسود - الأحمر - الأصفر)

(ب) صنف المصادر الآتية أيها مصادر أولية وأيها مصادر ثانوية فى الجدول التالى:

(الأفلام التسجيلية - المقالات - الأبحاث - الأهرامات)

مصادر أولية	مصادر ثانوية
.....
.....



السؤال الثالث: (أ) لاحظ الخريطة المقابلة، واكتب مدلول الأرقام عليها:

- ١- يشير (١) إلى
- ٢- يشير (٢) إلى
- ٣- يشير (٣) إلى
- ٤- يشير (٤) إلى

(ب) اشرح أهمية الخريطة بالنسبة للسياح.

١٥ : ١٤

١٣ : ١١

١٠ : ٨

٧ : ٥





السؤال الأول: ضع دائرة حول الإجابة الصحيحة مما يلي:

- ١- اللون الأسود في علم مصريشير إلى فترات (الحرب - السلام - الاستعمار - القوة)
- ٢- محافظة الأقصر من محافظات (الوجه البحرى - الوجه القبلى - الساحل - الحدود)
- ٣- مصر ملتقى قارتين هما (آسيا وأوروبا - أوروبا وإفريقيا - إفريقيا وأستراليا - إفريقيا وآسيا)
- ٤- الصورة المقابلة تعد من المصادر
(الأولية - الثانوية - الثالثة - الرابعة)
- ٥- من المصادر الثانوية
(النقوش - المقالات - الوثائق - الخطابات)



السؤال الثانى: (أ) أكمل العبارات الآتية بالكلمات المناسبة:

- ١- من أدوات تحديد المواقع
- ٢- مساحة واسعة من اليابس تضم عددًا من الدول تعرف ب.....
- ٣- شعار المحافظة يعبر عن نشاط سكانها أو جزء من
- ٤- محافظة القاهرة تتوسط الموقع بين محافظات الوجهين البحرى و.....

(ب) حدد المختلف:

١- (أسيوط - سوهاج - البحيرة - قنا)

٢- (الكتب - البرديات - الموسوعات - الأبحاث)

السؤال الثالث: (أ) اكتب كلمة (صواب) أمام العبارة الصحيحة، وكلمة (خطأ) أمام العبارة غير الصحيحة

- ١- تعد محافظة الجيزة عاصمة مصر. (.....)
- ٢- المحيط هو مساحة واسعة من اليابس تضم عددًا من الدول بداخلها. (.....)
- ٣- قسمت مصر إلى محافظات لمساحتها الشاسعة. (.....)

(ب) فسر السبب:

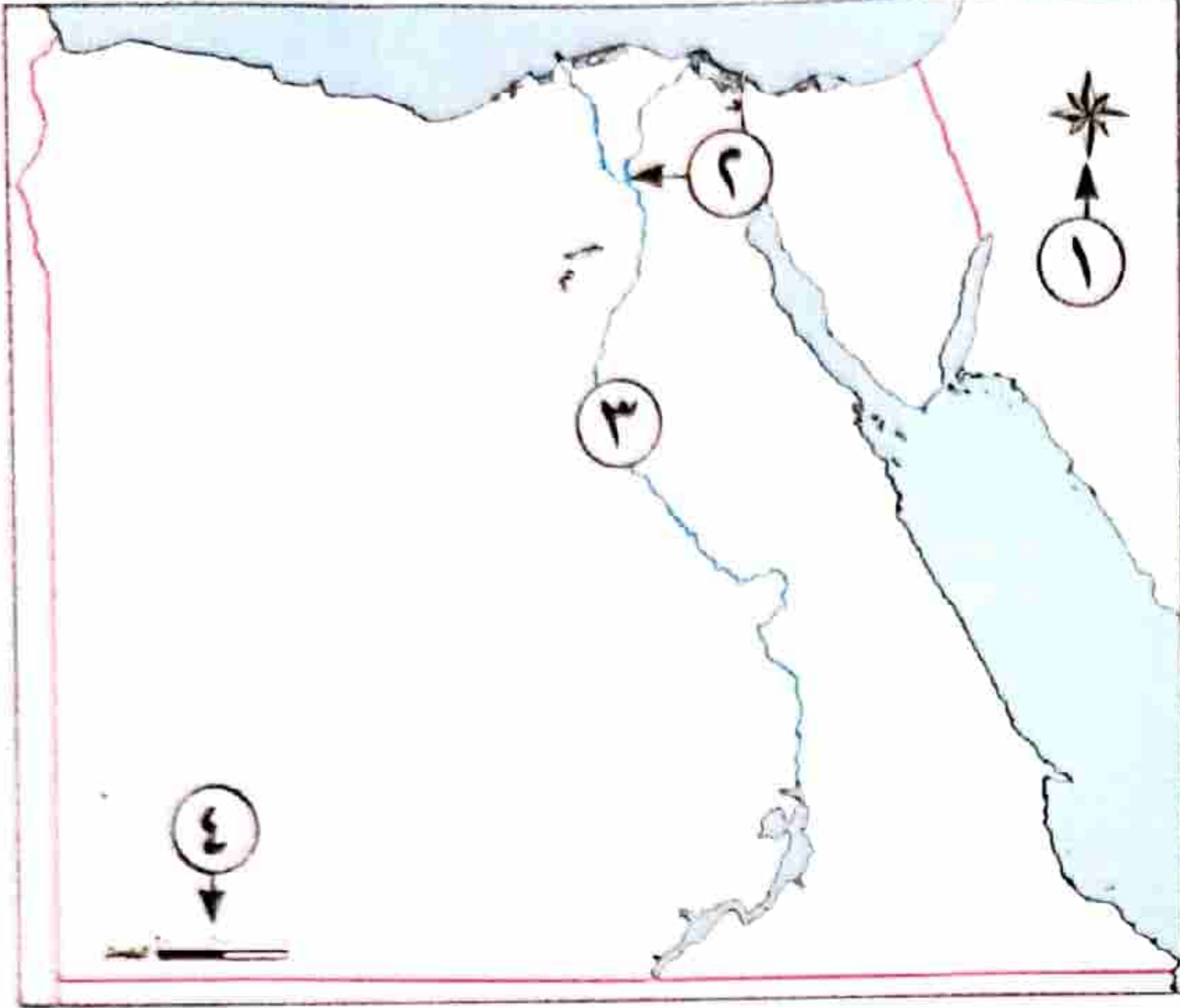
١- تقوم مصر حاليًا بإنشاء عاصمة إدارية جديدة

٢- حفر قناة السويس فى مصر





السؤال الأول: (أ) لاحظ الخريطة المقابلة، واكتب مدلول الأرقام عليها:



١- يشير رقم (١) إلى

٢- يشير رقم (٢) إلى محافظة

٣- يشير رقم (٣) إلى نهر

٤- يشير رقم (٤) إلى

(ب) دلل على صحة العبارة:

- يعد نظام تحديد المواقع العالمي (GPS) ذا استخدامات مهمة.

السؤال الثاني: (أ) اكتب كلمة (صواب) أمام العبارة الصحيحة، وكلمة (خطأ) أمام العبارة غير الصحيحة:

()

١- تستخدم الأقمار الصناعية في التقاط الصور الجوية.

()

٢- تقع محافظة أسوان ضمن محافظات الوجه القبلي.

()

٣- يعبر شعار محافظة القاهرة عن نشاط سكانها.

()

٤- تعد محافظة الإسكندرية من محافظات الوجه البحري.

(ب) فسر: أهمية نهر النيل لمصر قديماً .

السؤال الثالث: (أ) ضع دائرة حول الإجابة الصحيحة:

١- إفريقيا مساحة شاسعة من اليابس تضم عدة دول، فهي بذلك تكون

(دولة - محافظة - قارة - جزيرة)

٢- (مدينة شرم الشيخ أجمل المدن المصرية). تعبر هذه العبارة عن

(رأى - خيال - حقيقة - إشاعة)

٣- قامت الدولة ببناء العاصمة الإدارية الجديدة لتخفيف الضغط السكاني عن:

(الدقهلية - القاهرة - الإسكندرية - الجيزة)

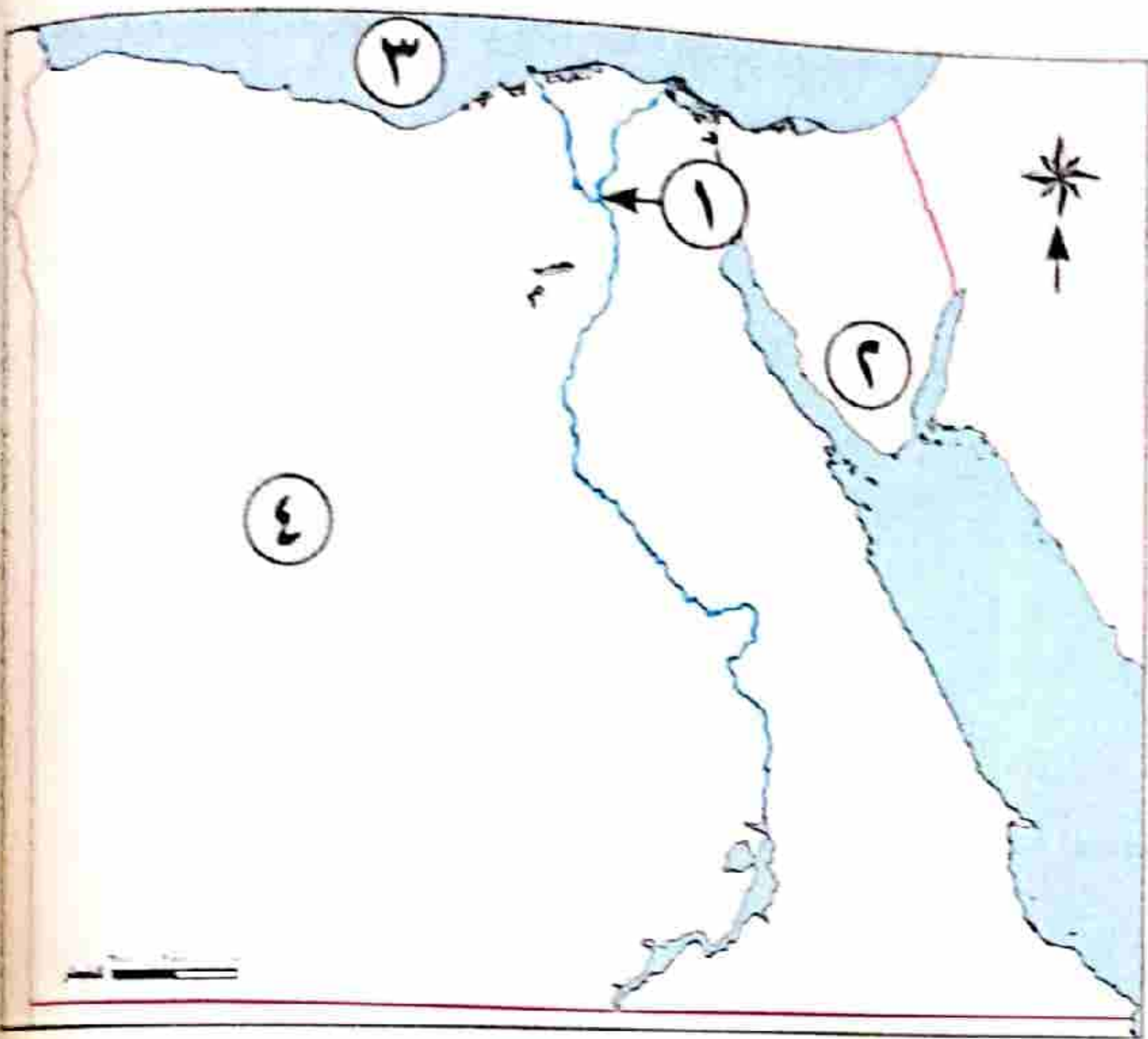
(ب) أجب عن السؤال الآتي:

- اكتب تفسيرًا واحدًا ل: وجود النسرفى علم مصر .





السؤال الأول: (أ) أمامك خريطة لمصر اكتب مدلول الأرقام عليها:



١- عاصمة مصر

٢- محافظة صحراوية

٣- البحر

٤- الصحراء

(ب) حدد:

- اثنين من مظاهر الاحتفال بالعيد القومي لمحافظةك.

السؤال الثاني: أكمل العبارات الآتية:

١- مقياس الرسم هو النسبة بين المسافة على الخريطة وما يقابلها على

٢- تتميز المصادر..... بأنها معاصرة للأحداث مثل الأفلام التسجيلية.

٣- طريق رأس الرجاء الصالح كانت تقطعه السفن حول قارة

٤- النسر الذي يتوسط علم مصر أخذ عن

٥- من مظاهر الاحتفال بالعيد القومي للمحافظة تجميل

السؤال الثالث: اكتب كلمة (صواب) أمام العبارة الصحيحة وكلمة (خطأ) أمام العبارة غير الصحيحة.

١- تستخدم شبكة خطوط الطول ودوائر العرض في تحديد موقع المكان. ()

٢- يتميز الرأي بالدقة والموضوعية ونادرًا ما يكون غير صحيح. ()

٣- نهر النيل أضاف أهمية كبرى لموقع مصر. ()

٤- الحدود الإدارية تفصل المحافظات المتجاورة عن بعضها. ()

٥- محمد يونس القاضي لحن النشيد الوطني. ()





الدرس الثانى: الطقس والمناخ

الدرس الأول: جمال أرضنا

الدرس الثالث: البيئات المصرية ومواردها الطبيعية

شخصيات مصرية مؤثرة: جمال حمدان - سيد درويش

الدرس الرابع: نحو حياة مستدامة فى بلدنا

المفاهيم الرئيسية:

- البحر
- شبه الجزيرة
- الجزيرة
- الهضبة
- التل
- الجبل
- الطقس
- المنخفض
- السهل الساحلى
- السهل الفيضى
- النهر
- البحيرة
- الكثبان الرملية
- المناخ

أبرز المواقع والشخصيات:

- بحيرة ناصر
- السد العالى فى أسوان
- دلتا النيل
- سيد درويش
- وادى النيل
- جمال حمدان
- نهر النيل
- شبه جزيرة سيناء

الدرس الأول جمال أرضنا



تفاعل

في رأيك، ما سبب جمال أرض مصر؟

تعلم

أهم المظاهر الطبيعية في مصر

مصر بلد متنوع فيها المظاهر الطبيعية، ويمكنك استكشاف جمالها الطبيعي من خلال القيام برحلة جوية تحلق فيها فوق أرضها وسوف تشاهد العديد من المظاهر الطبيعية الخلابة. فإذا انطلقت من مدينة أسوان جنوبًا متجهًا نحو القاهرة شمالًا، فإنك ستلاحظ:

1 نهر النيل

يوجد على جانبيه السهول الفيضية الخصبة التي ساعدت على قيام حرفة الزراعة منذ القدم.



2 الصحراء الشرقية

تقع شرق نهر النيل، تتميز بـ: صخورها الصلبة وجبالها الشاهقة وهضابها العالية، وبجوارها البحر الأحمر الذي تجد فيه العديد من الجزر.




3 شبه جزيرة سيناء

تقع بين خليجي السويس والعقبة ويطلق عليها أرض الفيروز.



4 الصحراء الغربية

تقع غرب نهر النيل، تتميز بـ: رمال صفراء وهضاب ومنخفضات.



كل هذه المظاهر الطبيعية يتم تمثيلها على خريطة مستويات ارتفاع سطح مصر.

سؤال

صوب ما تحته خط : - تقع الدلتا بين خليجي السويس والعقبة.

افهم وطبق 1

لنعمل على الخريطة، لاحظ وأجب:

- باستخدام مفتاح الخريطة،

حدد مستوى الارتفاع التقريبي

للأراضي التالية في مصر:

١- جبل سانت كاترين

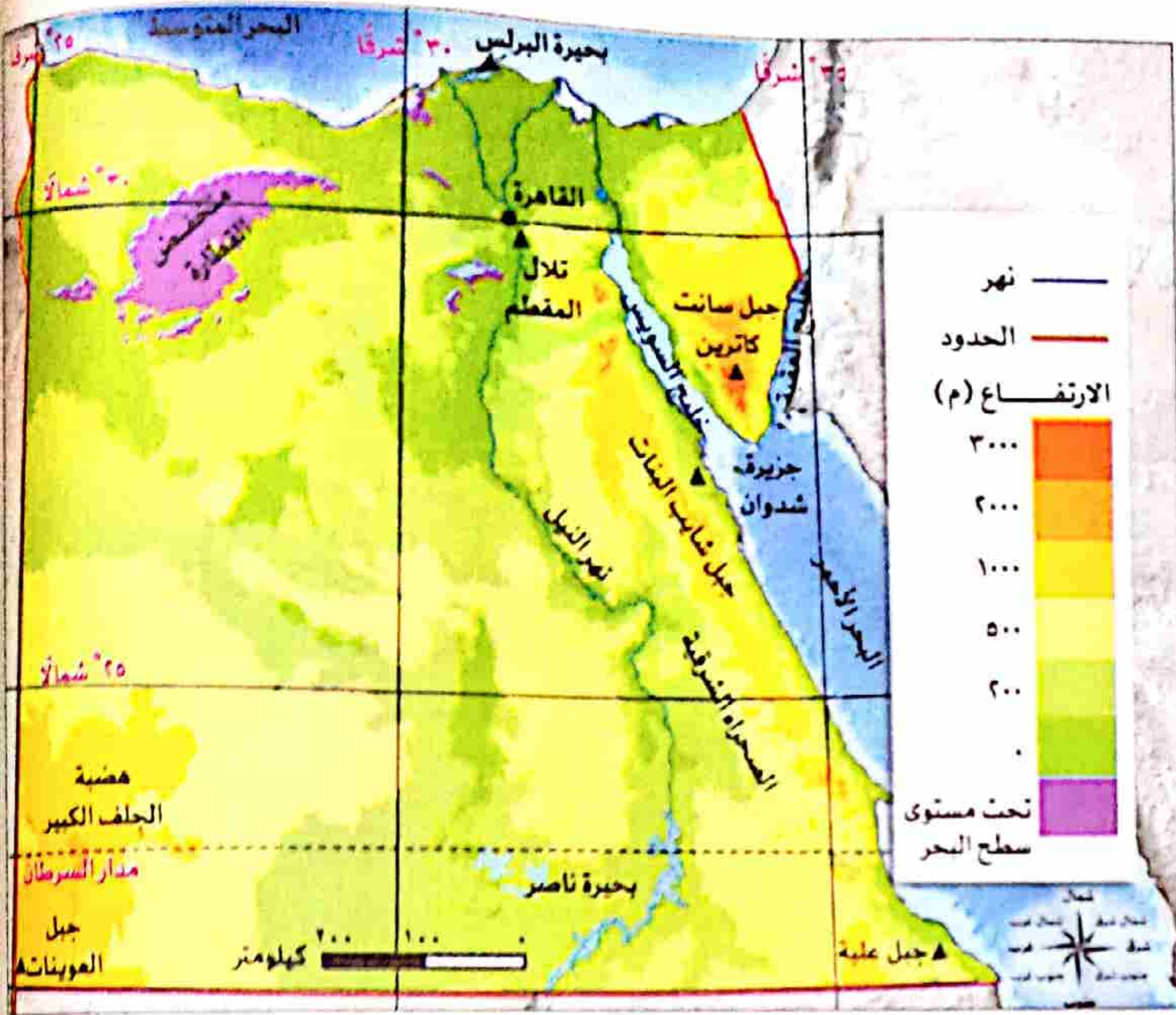
حوالي ٢٥٠٠ متر.

٢- هضبة الجلف الكبير

٣- منخفض القطارة

٤- جبل شايب النبات

٥- تلال المقطم



قيم نفسك

• أصف بعض مظاهر السطح.

جيد جدًا جيد بحاجة إلى مجهود أكبر

اشكال سطح الأرض في مصر

• تتنوع مظاهر السطح في مصر حيث نجد:

الأراضي المرتفعة

الجبل

التل

الهضبة



الأراضي الأقل ارتفاعا

السهل الفيضي

السهل الساحلي

الأراضي المنخفضة عن مستوى سطح البحر

المنخفض



سؤال

- دلل على تنوع مظاهر السطح في مصر.

١ الجبل

هو أرض شديدة الارتفاع ولها قمة وجوانبها شديدة الانحدار. مثل: **جبل سانت كاترين.**



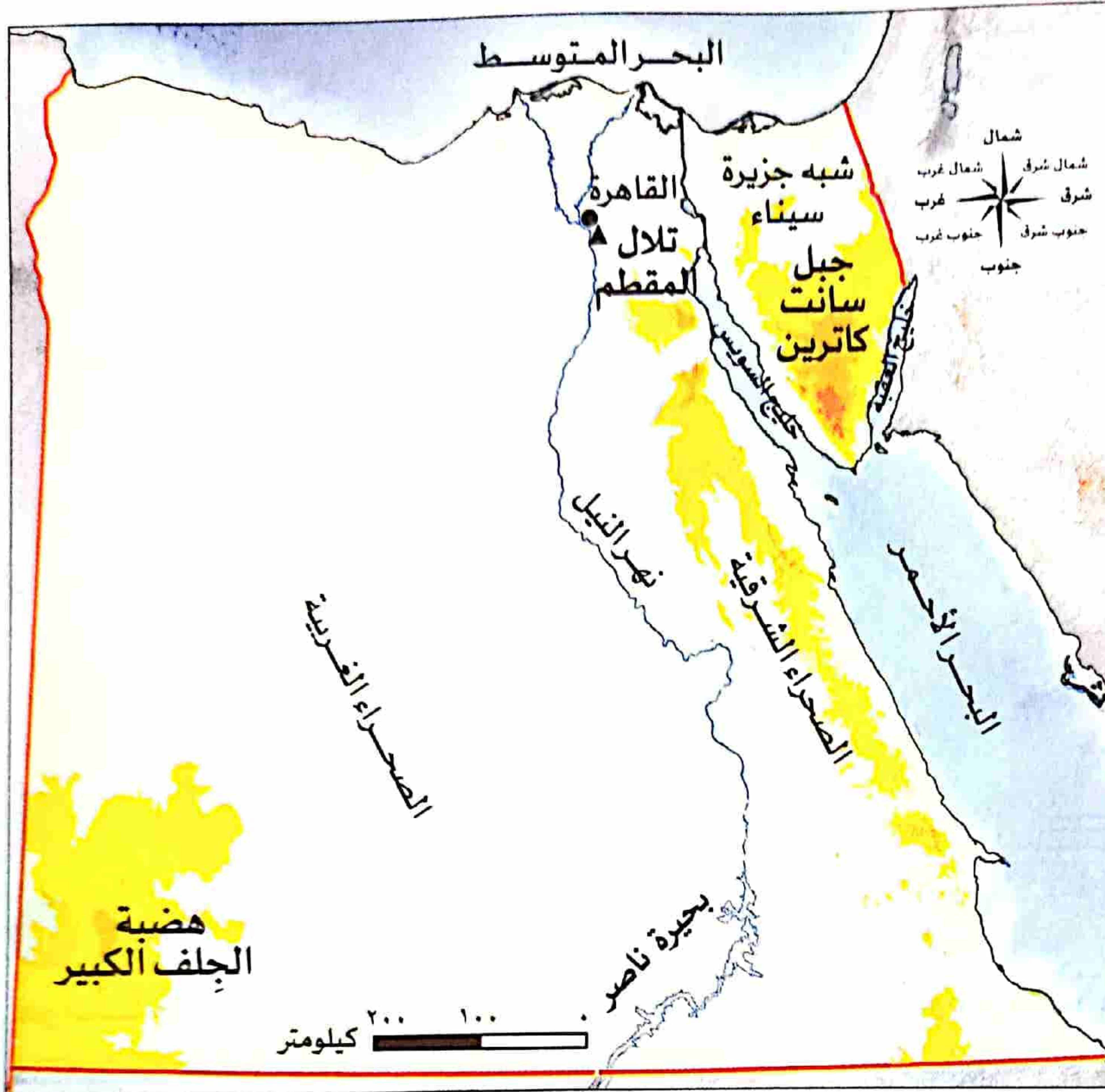
٢ التل

هو أرض مرتفعة قليلاً ولها قمة يقل ارتفاعها عن ١٠٠٠ متر. مثل: **تلال المقطم في محافظة القاهرة.**



٣ الهضبة


هي مساحة واسعة من الأرض مرتفعة مستوية أو شبه مستوية السطح. مثل: **هضبة الجلف الكبير في الصحراء الغربية.**



افهم وطبق

٢ (التكامل مع التربية الفنية)

اقرأ ولون: يمثل هذا الرسم البياني شكلاً جانبياً للجبل، لون مستويات الارتفاع المختلفة للجبل مستعيناً بالمفتاح.



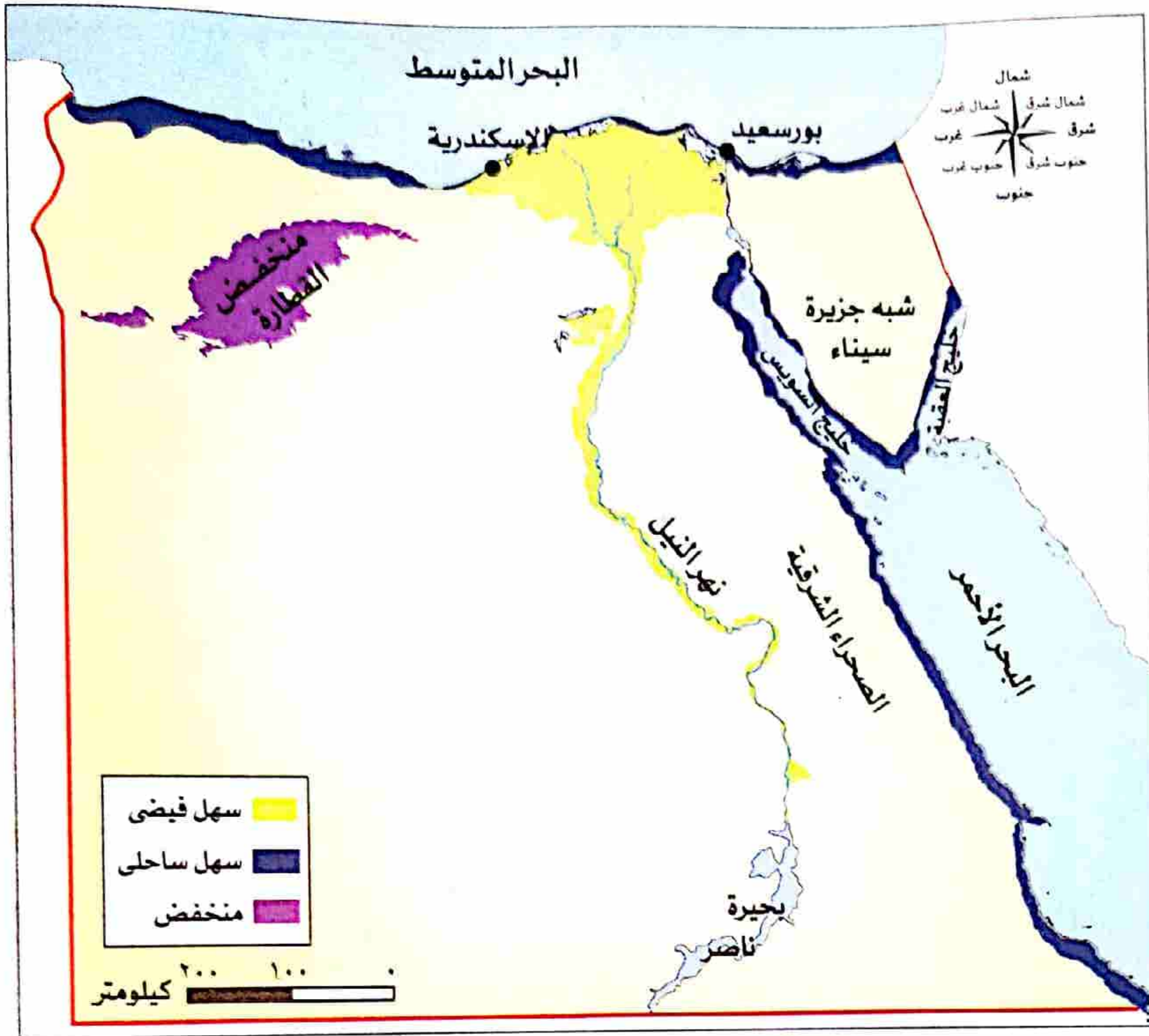
الارتفاع (م)	
3000 - 2000	Red
2000 - 1500	Orange
1500 - 1000	Yellow
1000 - 500	Light Green
500 - 200	Green
200 - 0	Dark Green

جيد جداً جيد بحاجة إلى مجهود أكبر

أصف بعض مظاهر السطح.

قيم نفسك

ثانياً الأراضي الأقل ارتفاعاً (السهول)



٢ السهل الساحلي

وهو مساحة من الأرض مستوية قليلة الارتفاع وتمتد على طول ساحل البحر. مثل: سواحل البحرين الأحمر والمتوسط.



١ السهل الفيضي

هو مساحة من الأرض مستوية قليلة الارتفاع وتتكون من رواسب الأنهار. مثل: الأراضي على جانبي نهر النيل.



ثالثاً الأراضي المنخفضة (المنخفضات)

المنخفض

أرض منخفضة عن مستوى سطح البحر. مثل: منخفض القطارة.

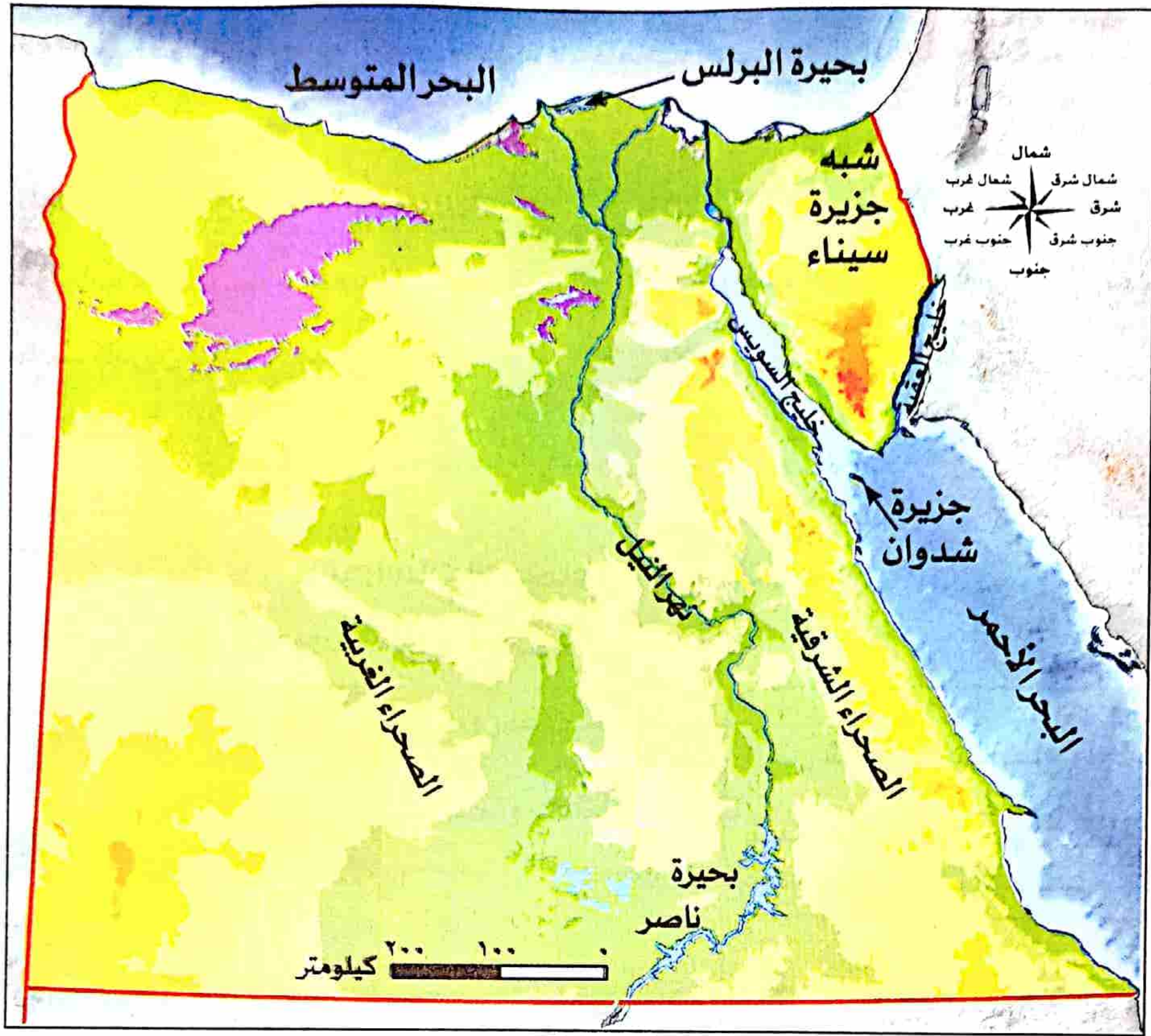


س سؤال

أكمل العبارات الآتية :


- ١- منخفض القطارة هو أرض انخفضت عن سطح
- ٢- ساحل البحر الأحمر يعد من السهول

كما توجد أشكال سطح أخرى مختلفة، منها:



١ الجزيرة

أراضٍ تحيط بها المياه من جميع الجهات.
مثل: جزيرة شدوان في البحر الأحمر.



٢ شبه الجزيرة

مساحة من اليابس تحيط بها المياه من ثلاث جهات.
مثل: شبه جزيرة سيناء.



المسطحات المائية المختلفة المساحة

البحر

مساحة من المياه المالحة أقل من المحيط، مثل:
- البحر الأحمر.
- البحر المتوسط.



النهر

مجرى مائي عذب، مثل:
- نهر النيل.



البحيرة

مساحة صغيرة من المياه يحيط بها اليابس من جميع الجهات، قد تكون عذبة مثل: بحيرة ناصر، أو مالحة مثل: بحيرة البرلس.



افهم وطبق ٣

(١) لاحظ واكتب: باستخدام وردة البوصلة حدّد الاتجاهات الأساسية أو الفرعية الخاصة بالأماكن المختلفة على خريطة مصر في ص ٦٧.

- ١- هضبة الجلف الكبير: جنوب غرب مصر.
- ٢- جبل العوينات
- ٣- جبل سانت كاترين
- ٤- منخفض القطارة
- ٥- جبل شايب البنات
- ٦- بحيرة البرلس
- ٧- بحيرة ناصر
- ٨- جبل علبة
- ٩- جزيرة شدوان

(الدراسات الاجتماعية في حياتي اليومية)

(ب) لاحظ وأجب: لاحظ كل صورة وصلها بالتعريف المناسب لها:

أرض شديدة الارتفاع ولها قمة وجوانبها شديدة الانحدار.

(١)



(١)

مساحة من اليابس تحيط بها المياه من ثلاث جهات.

(ب)



(٢)

مساحة صغيرة من الماء يحيط بها اليابس من جميع الجهات.

(ج)



(٣)

مساحة من الأرض مستوية تمتد على طول ساحل البحر.

(د)



(٤)

مساحة من اليابس تحيط بها المياه من جميع الجهات.

(هـ)



(٥)

قيم نفسك

• استخدم الاتجاهات الأساسية والفرعية في تحديد مواقع بعض مظاهر السطح على الخريطة.

• اصف بعض مظاهر السطح.

جيد جدًا جيد بحاجة إلى مجهود أكبر

جيد جدًا جيد بحاجة إلى مجهود أكبر

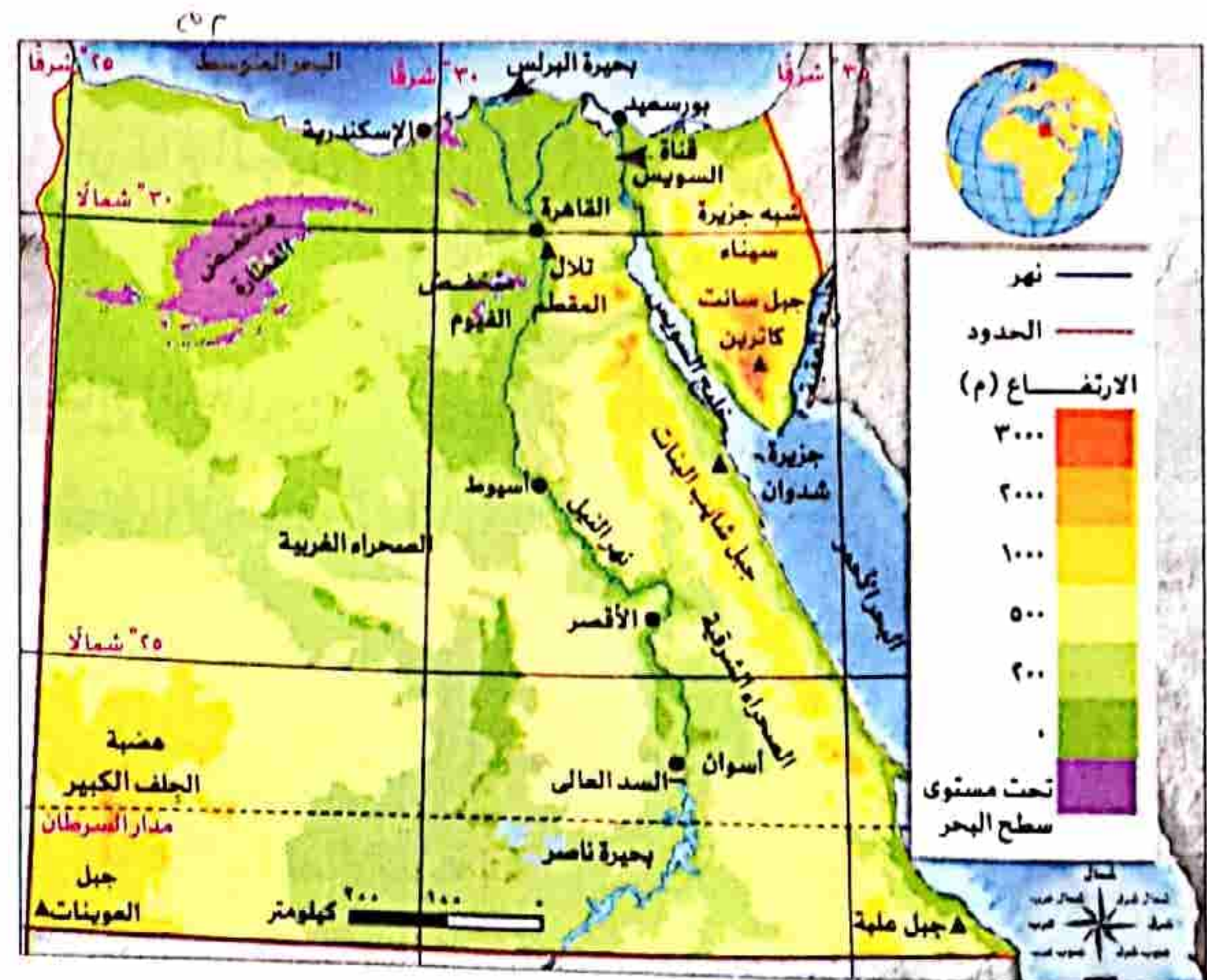
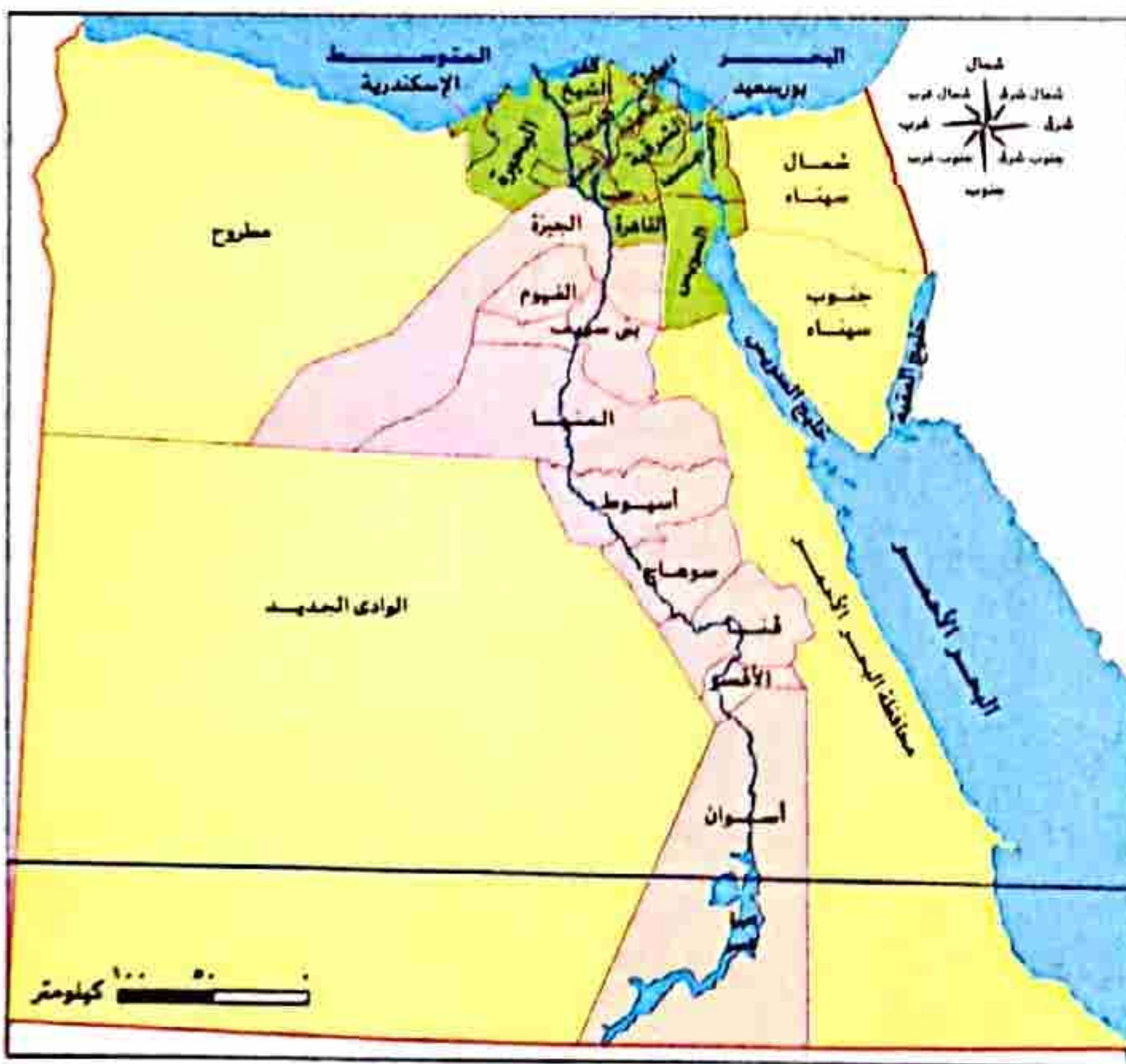
سؤال ؟

اختر الإجابة الصحيحة مما بين القوسين :

- ١- مساحة من اليابس يحيط بها الماء من ثلاث جهات (جزيرة - شبه جزيرة - قارة - جبل)
- ٢- إحدى جزر البحر الأحمر جزيرة (الذهب - سيناء - شدوان - صقلية)
- ٣- إحدى بحيرات المياه العذبة في مصر بحيرة (البرلس - ناصر - قارون - صقلية)
- ٤- مساحة صغيرة من الماء يحيط بها اليابس من جميع الجهات (بحر - نهر - بحيرة - محيط)

افهم وطبق

طابق وسجل : استخدام خريطة مستويات ارتفاعات سطح مصر وخريطة محافظات مصر التاليتين ، ثم حدّد أهم مظاهر السطح في ثلاث محافظات ، على أن تكون محافظتك واحدة منهم وسجّلها في الجدول التالي :



مظاهر سطح الأرض	المحافظة
تلال المقطم - نهر النيل	القاهرة
.....	محافظتي
.....	محافظة (١)
.....	محافظة (٢)

قيم نفسك . أقدم أمثلة لمظاهر السطح في محافظتي. جيد جدًا جيد بحاجة إلى مجهود أكبر

افهم وطبق

التكامل مع اللغات

(١) اقرأ ما يلي، ثم أجب:

«تعد المظاهر الطبيعية مصدر إلهام لكثير من الفنانين والكتاب، ومن بينهم الشاعر المصري أحمد شوقي الذي لُقّب بـ «أمير الشعراء»، والذي وصف جمال نهر النيل وأهميته لمصر في قصيدته «النيل»، قائلاً:

١- بمّ تشعر عند قراءة تلك الأبيات؟

٢- اذكر الصور الجمالية في تلك الأبيات.

٣- اكتب بأسلوبك الخاص موضوعاً أو قصيدة تعبر فيها عن جمال بعض مظاهر السطح في مصر.

(ب) لاحظ واكتب:

قام ماجد بتصميم نموذج ثلاثي الأبعاد لجبل شايب البنات، انظر إلى النموذج الذي صنعه، ثم اقرأ العبارات، واكتب «ص» أمام العبارات الصحيحة، و«خ» أمام العبارات الخاطئة:

١- لكل مستوى ارتفاع مساحة مختلفة. (.....)

٢- تأتي مستويات الارتفاع بعضها فوق بعض لإظهار ارتفاع الجبل. (.....)

٣- استخدم ماجد لوناً مختلفاً لكل مستوى ارتفاع. (.....)

٤- تزداد مساحة مستويات الارتفاع كلما ازداد ارتفاع الجبل. (.....)

٥- يمثل المستوى الموجود في أسفل الجبل المستوى الأدنى. (.....)

(ج) صمم وأبدع:

صمّم نموذجاً ثلاثي الأبعاد للرسم البياني الوارد في (افهم وطبق ٢) مستخدماً الصلصال، أو الورق المقوى السميك، أو لوحاً من الفلين بألوان مختلفة لإظهار الارتفاعات المختلفة.

قيم نفسك

• أصف بعض مظاهر السطح.

جيد جداً جيد بحاجة إلى مجهود أكبر

استكشف وراجع

استكشف:

ضع قائمة بمظاهر السطح في مصر: الجبال، والسهول، والهضاب، والأنهار، والبحار، وغيرها. ثم اختر واحدة منها. استخدم العبارات الوصفية للتعبير عن جمالها.

راجع:

١- ما الفرق بين كل من «الجزيرة والبحيرة»، «السهل الساحلي والسهل الفيضي»، «البحر والنهر»؟

٢- استخدم (خريطة مستويات ارتفاعات سطح مصر)، وحدّد أكثر مظاهر السطح انتشاراً في كل من الصحراء الشرقية والصحراء الغربية، موضحاً بالأمثلة.

ملخص الدرس

الدرس الأول



أهم المظاهر الطبيعية في مصر

نهر النيل

- يوجد على جانبيه السهول الفيضية الخصبة التي ساعدت على قيام حرفة الزراعة.

الصحراء الشرقية

- تقع شرق نهر النيل.
- تتميز ب: صخورها الصلبة وجبالها الشاهقة وهضابها العالية.

الصحراء الغربية

- تقع غرب نهر النيل.
- تتميز ب: الرمال الصفراء والهضاب والمنخفضات.

شبه جزيرة سيناء

- تقع بين خليجي السويس والعقبة.
- يطلق عليها أرض الفيروز.

خريطة مستويات ارتفاع سطح مصر توضح كل منطقة بلون، مثل:

اللون الأخضر

- يدل على الأراضي المنخفضة، مثل: السهول والمنخفضات.

اللون البنّي

- يدل على المناطق المرتفعة، مثل: الهضاب والجبال.

أشكال سطح الأرض في مصر

تتنوع مظاهر السطح في مصر حيث نجد:

- الأراضي المرتفعة (الجبل - التل - الهضبة).
- الأراضي الأقل ارتفاعاً (السهل الفيضي - السهل الساحلي).
- الأراضي المنخفضة عن مستوى سطح البحر (المنخفض).

الجبل: أرض شديدة الارتفاع ولها قمة وجوانبها شديدة الانحدار مثل جبل سانت كاترين.

التل: أرض مرتفعة قليلاً ولها قمة يقل ارتفاعها عن 1000 م مثل تلال المقطم.

السهل الساحلي: مساحة من الأرض مستوية تمتد على طول ساحل البحر مثل سواحل البحرين الأحمر والمتوسط.

شبه الجزيرة: مساحة من اليابس تحيط بها المياه من ثلاث جهات مثل شبه جزيرة سيناء.

البحر: مساحة من المياه المالحة أقل من المحيط، مثل البحرين الأحمر والمتوسط.

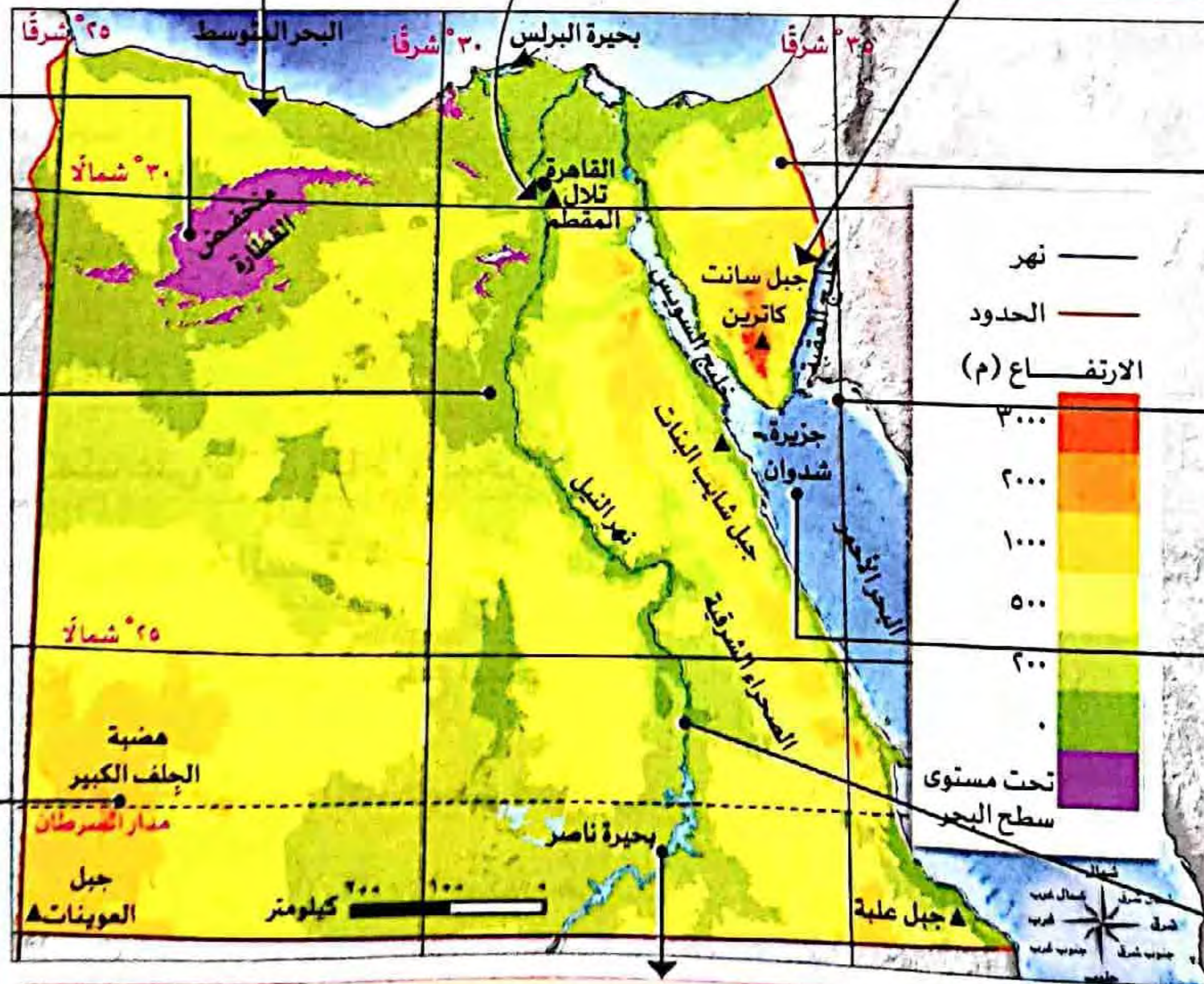
الجزيرة: أرض تحيط بها المياه من جميع الجهات، مثل جزيرة شيدوان.

النهر: مجرى مائي عذب مثل نهر النيل.

المنخفض: أرض منخفضة عن مستوى سطح البحر مثل منخفض القطارة.

السهل الفيضي: مساحة من الأرض مستوية قليلة الارتفاع وتتكون من رواسب الأنهار مثل الأراضي على جانبي نهر النيل.

الهضبة: مساحة واسعة من الأرض مرتفعة مستوية أو شبه مستوية السطح مثل هضبة الجلف الكبير.



البحيرة: مساحة صغيرة من المياه يحيط بها اليابس من جميع الجهات، وقد تكون عذبة مثل بحيرة ناصر، أو مالحة مثل بحيرة البرلس.



السؤال الأول أكمل العبارات الآتية بما يناسبها من كلمات:

- ١ الصحراء الشرقية تقع النيل.
- ٢ اللون البنّي على الخريطة يشير إلى
- ٣ البحر هو مساحة من الماء المالح من المحيط.
- ٤ من أمثلة الجبال التي توجد في مصر جبل
- ٥ تحيط بها المياه من ثلاث جهات
- ٦ مساحة واسعة من الأرض مستوية أو شبه مستوية السطح

المستوى الأول

السؤال الثاني ضع علامة (✓) أمام العبارة الصحيحة، وعلامة (X) أمام العبارة غير الصحيحة:

- ١ يلون البحر المتوسط على الخريطة باللون الأخضر. ()
- ٢ لكل مستوى من مستويات ارتفاعات سطح مصر لون مختلف. ()
- ٣ سيناء شبه جزيرة تحيط بها المياه من ثلاث جهات. ()
- ٤ تلال المقطم هي المساحة الواسعة من الأرض المرتفعة مستوية أو شبه مستوية السطح. ()

السؤال الثالث اكتب المفهوم الجغرافي الدال على ما يأتي:

- ١ أرض شديدة الارتفاع ولها قمة وجوانبها شديدة الانحدار تزيد على ١٠٠٠ م. (.....)
- ٢ مساحة من الأرض مستوية قليلة الارتفاع وتتكون من رواسب الأنهار. (.....)
- ٣ مساحة من الأرض مستوية تمتد على طول ساحل البحر. (.....)

السؤال الرابع صوب ما تحته خط:

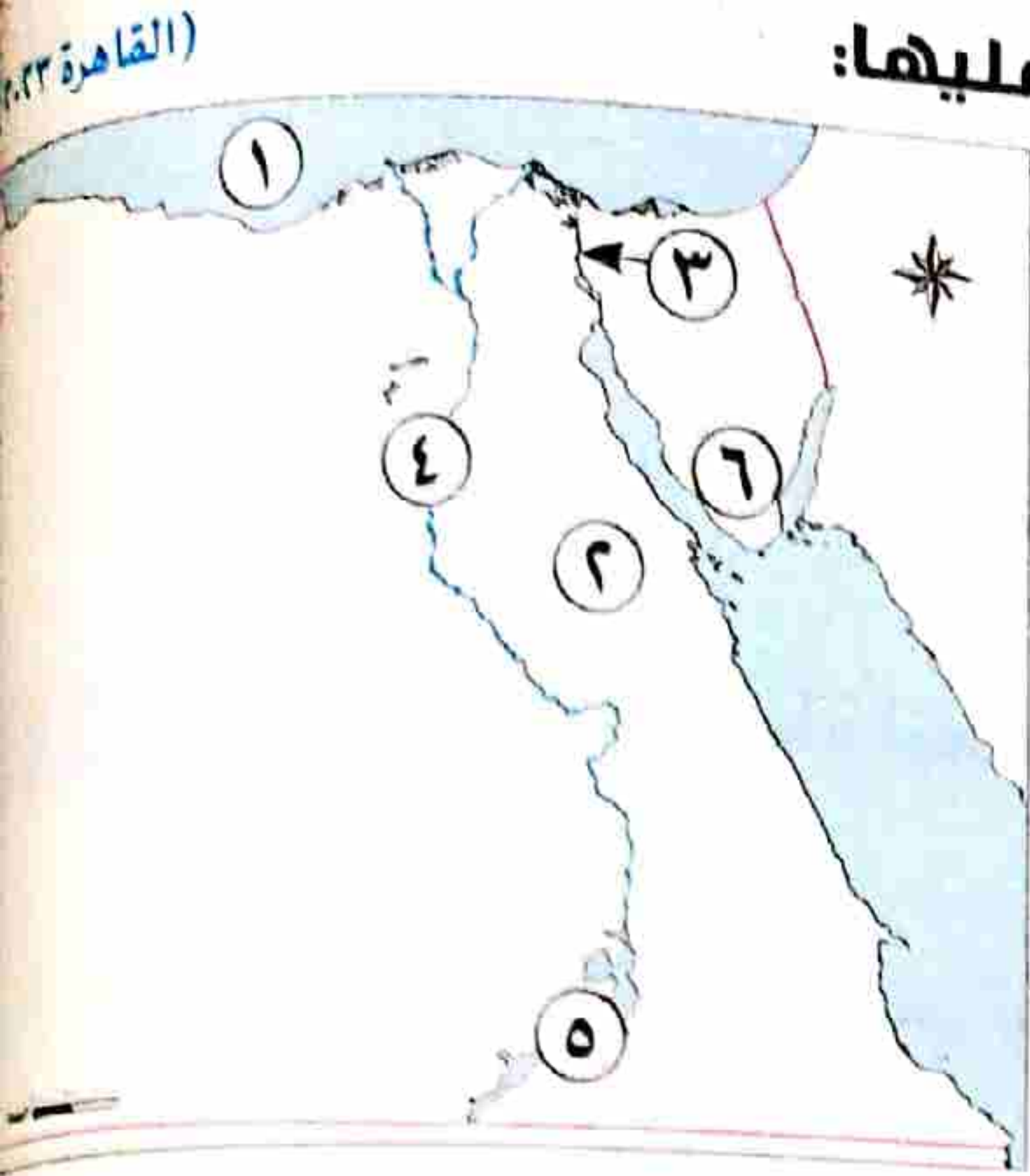
- ١ النهر هو مجرى مائي مالح. (.....)
- ٢ السهول الفيضية تمتد على طول ساحل البحر. (.....)
- ٣ تلال المقطم توجد بمحافظة الشرقية. (.....)
- ٤ منخفض القطارة أعلى من مستوى سطح البحر. (.....)

المستوى الثاني

السؤال الخامس ضع دائرة حول الإجابة الصحيحة مما يلي:

- ١ نهر النيل وبحيرة ناصر يتشابهان في أن كليهما يتكون من (المياه المالحة - المياه العذبة - اليابس - المحيط)
- ٢ أي من البحيرات التالية توجد بها مياه عذبة؟ (بحيرة ناصر - بحيرة إدكو - بحيرة البرلس - بحيرة قارون)
- ٣ إذا أردت تلوين منخفض القطارة على الخريطة فسوف تختار اللون (البنفسجي - الأخضر - البنّي - الأصفر)

السؤال الأول: أمامك خريطة صماء لمصر اكتب مدلول الأرقام التي عليها:



(القليوبية ٢٠٢٣)

- ١- يشير رقم (١) إلى البحر.....
- ٢- يشير رقم (٢) إلى الصحراء.....
- ٣- يشير رقم (٣) إلى قناة.....
- ٤- يشير رقم (٤) إلى نهر.....
- ٥- يشير رقم (٥) إلى بحيرة.....
- ٦- يشير رقم (٦) إلى جبل.....

السؤال الثاني: اختر الإجابة الصحيحة مما بين القوسين:

- ١- مساحة من اليابس تحيط بها المياه من ثلاث جهات (الجبل - البحيرة - شبه الجزيرة - الهضبة) (الغربية)
- ٢- جبل العوينات في جنوب مصر يعد من (الهضاب - المرتفعات - المنخفضات - السهول) (الشرقية)
- ٣- يلون جبل سانت كاترين على الخريطة باللون (الأخضر - الأزرق - الأصفر - البني) (البحيرة)
- ٤- تحيط المياه بسيناء من (جهة واحدة - جهتين - ثلاث جهات - أربع جهات) (القاهرة)
- ٥- تقع أرض شدوان بالكامل داخل البحر الأحمر فهي بذلك تعد (جزيرة - شبه جزيرة - هضبة - منخفضاً) (الغربية)

السؤال الثالث: اكتب كلمة (صواب) أمام العبارة الصحيحة، وكلمة (خطأ) أمام العبارة غير الصحيحة

- ١- السهول الفيضية تمتد على طول البحر. () (سواحل)
- ٢- تلون الأراضي الأكثر ارتفاعاً على الخريطة باللون الأزرق. () (النياب)
- ٣- تقع هضبة الجلف الكبير بمصر في الركن الجنوبي الشرقي. () (الإسكندرية)
- ٤- البحيرة مساحة صغيرة من اليابس تحيط بها المياه من جميع الجهات. () (الدقهلية)
- ٥- السهول الساحلية هي مساحة مستوية من الأرض تمتد على طول الأنهار. () (الشرقية)

السؤال الرابع: أكمل العبارات الآتية:

- ١- يشير اللون البني على الخريطة إلى المناطق الأكثر ارتفاعاً مثل (الإسكندرية)
- ٢- إذا أردت تلوين السهل الفيضي على الخريطة فإنك تختار اللون (الشرقية)
- ٣- من أمثلة الجبال التي توجد في مصر (الشرقية)
- ٤- أرض شديدة الارتفاع ولها قمة وجوانبها شديدة الانحدار (الأنصر)
- ٥- بحيرة بها مياه عذبة (القاهرة)

السؤال الخامس: صف الظواهر الطبيعية التالية في الجدول التالي:

(وادي النيل - الجلف الكبير - سانت كاترين - ساحل البحر المتوسط - العوينات)

سهول

هضاب

جبال

السؤال السادس: أجب عن الأسئلة التالية:

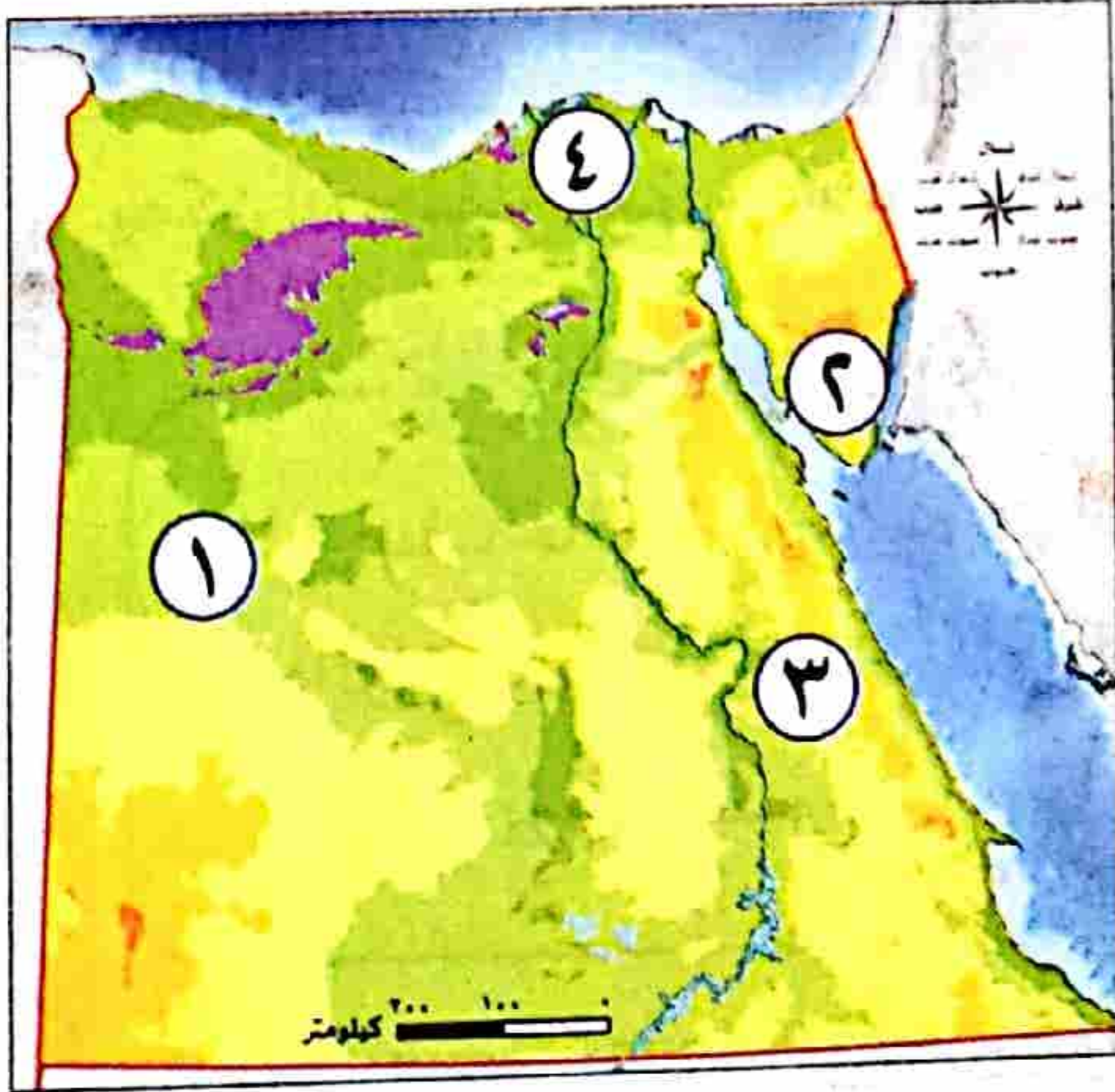
- ١- اكتب دليلاً على تنوع مظاهر السطح في مصر. (الغربية)
- ٢- اكتب تفسيراً واحداً لتلوين منطقة جنوب غرب مصر باللون البني. (الغربية)
- ٣- قارن بين البحيرة والجزيرة من حيث التعريف. (الشرقية)



السؤال الأول: (أ) ضع دائرة حول الإجابة الصحيحة مما يلي:

- ١- أرض توجد في الصحراء الغربية وتنخفض عن مستوى سطح البحر هي
(جبل - تل - هضبة - منخفض)
 - ٢- بحيرة البرلس تقع في الجهة من مصر. (الشمالية - الجنوبية - الشرقية - الغربية)
 - ٣- ظاهرة تضاريسية في محافظة جنوب سيناء يزيد ارتفاعها على ١٠٠٠م هي
(السهول - الجبال - الجزر - التلال)
 - ٤- المنطقة التي تقع بين خليجي السويس والعقبة هي
(شبه جزيرة سيناء - جزيرة شدوان - شبه الجزيرة العربية - جزيرة الذهب)
- (ب) حدد أوجه الاختلاف بين: الهضبة والسهل، مع ذكر مثال لكل منهما.**
-
-

السؤال الثاني: (أ) أمامك خريطة صماء لمصر. لاحظها ثم حدد الرقم الذي يدل على كل ظاهرة من



الظواهر التالية:

- ١- جبل سانت كاترين. (.....)
- ٢- الدلتا. (.....)
- ٣- الصحراء الغربية. (.....)
- ٤- الصحراء الشرقية. (.....)

(ب) حدد المختلف في عناصر المجموعة التالية:

(منخفض القطارة - هضبة الجلف الكبير - جبل سانت كاترين - جبل العوينات).

.....

.....

السؤال الثالث: اكتب ما تشير إليه العبارات الآتية:

- ١- أرض شديدة الارتفاع ولها قمة وجوانب شديدة الانحدار. (.....)
- ٢- أرض منخفضة عن مستوى سطح البحر. (.....)
- ٣- شبه جزيرة تقع بين خليج العقبة وخليج السويس. (.....)
- ٤- مساحة من المياه المالحة أقل من المحيط. (.....)
- ٥- صحراء تقع غرب نهر النيل تتميز بالرمال الصفراء. (.....)





الطقس والمناخ

الدرس الثاني



تفاعل



ما الفرق بين الطقس والمناخ؟
كيف نقيس عناصر الطقس والمناخ المختلفة؟

تعلم



جاء موعد النشرة الجوية وقال خبير الأرصاد الجوية:

• يشهد **الطقس** غدًا الموافق العاشر من يناير:

- انخفاضًا في درجات الحرارة.

- هبوب رياح شديدة وسقوط أمطار.

• لذا يُنصح بارتداء الملابس الشتوية الثقيلة، والقيادة بهدوء على الطرق السريعة.

الطقس والمناخ



يمكن أن نصف الطقس والمناخ كما هو موضح بالشكل التالي:

المناخ

وصف حالة الجو من حيث الحرارة والرياح والأمطار لفترة **زمنية طويلة**؛ فصل أو سنة.

الطقس

وصف حالة الجو من حيث الحرارة والرياح والأمطار لفترة **زمنية قصيرة**؛ يوم أو أسبوع أو شهر.

عندما تنظر من نافذة غرفتك وتصف حالة الجو على أنه يوم مشمس أو ممطر أو ملبّد بالغيوم:

• فأنت بذلك تصف **الطقس**، وعليه

تتخذ بعض القرارات اليومية.

• وقد يتغير الطقس من يوم إلى آخر،

حتى إنه قد يتغير مرات عدة في اليوم

الواحد، فقد يكون الطقس باردًا

وممطرًا في الصباح، ويتحول إلى طقس دافئ وجاف بعد الظهر.



مناخ مصر مقارنة بمناخ بعض الدول الإفريقية

بعض الدول الإفريقية

المناخ: حار ممطر طوال العام فى بعض الدول
وسط قارة إفريقيا.

مصر

المناخ: صحراوي حار فى معظم الأراضى
المصرية، شتاءً: معتدل ممطر. صيفاً: حار وجاف.

أدوات قياس عناصر الطقس

• يستخدم خبراء الأرصاد الجوية عدة أدوات لقياس أحوال الطقس . على سبيل المثال:

٤ تقاس سرعة الرياح بـ:



الأنيمومتر

٣ تحديد اتجاه الرياح بـ:




دوارة الرياح أو جورب الرياح

٢ تقاس كمية المطر بـ:



مقياس المطر

١ تقاس درجة الحرارة بـ:



ميزان الحرارة (الترمومتر)

سؤال

(١) أكمل العبارات الآتية بما يناسبها من كلمات:

١- أداة تستخدم فى قياس درجة الحرارة

٢- يستخدم الأنيمومتر فى قياس سرعة

٣- يسود الأراضى المصرية مناخ

(ب) وضح أوجه الشبه والاختلاف بين الطقس والمناخ.

١ افهم وطبق

(لنبحث عن المعرفة)

لاحظ وأجب:

حدد أى عنصر من عناصر الطقس التى تستخدم كل أداة من الأدوات التالية فى قياسه:



جورب الرياح

(٣)



ميزان الحرارة

(٢)



مقياس المطر

(١)


• أحدد بعض أدوات قياس عناصر الطقس. جيد جدًا جيد بحاجة إلى مجهود أكبر

قيم نفسك

دور التكنولوجيا في قياس عناصر الطقس


١ الأقمار الصناعية

- يوجد أقمار صناعية خاصة بالطقس تدور حول الأرض.
- تستخدم في جمع بيانات دقيقة عن عناصر الطقس.



٢ محطات الأرصاد الجوية

- يقوم خبراء الأرصاد في محطات الأرصاد الجوية بتجميع البيانات وتحليلها بمساعدة أجهزة الكمبيوتر.
- توقع الأحوال الجوية في المستقبل القريب.




٣ برامج الهاتف المحمول

- يمكنك تحميل أحد البرامج الخاصة بالطقس على جهاز التليفون المحمول، والذي يحدد لك حالة الطقس بالرسوم المتحركة والخرائط التفاعلية.



- توجد في مصر «الهيئة العامة للأرصاد الجوية المصرية»، ويتبعها عدد كبير من محطات الأرصاد الجوية في محافظات مصر.
- تستفيد العديد من الأنشطة من خدمات الأرصاد الجوية، مثل:

السياحة



الصناعة



الزراعة



النقل البري والبحري والجوي



صيد الأسماك



الاتصالات



افهم وطبق

اقرأ وحدد: أي من الجمل التالية تصف حالة الطقس؟ وأيها تصف حالة المناخ؟

١- في الأسبوع القادم، تتوقع هطول أمطار غزيرة. **حالة الطقس.**

٢- غالبًا ما يكون فصل الصيف جافًا وحارًا في مصر.

٣- كان الشهر الماضي باردًا وممطرًا.

٤- يعتمد عليه المصريون في تحديد نوع المحاصيل الزراعية.

٥- السماء اليوم صافية مع درجات حرارة عالية تقترب من ٤٠ درجة مئوية.

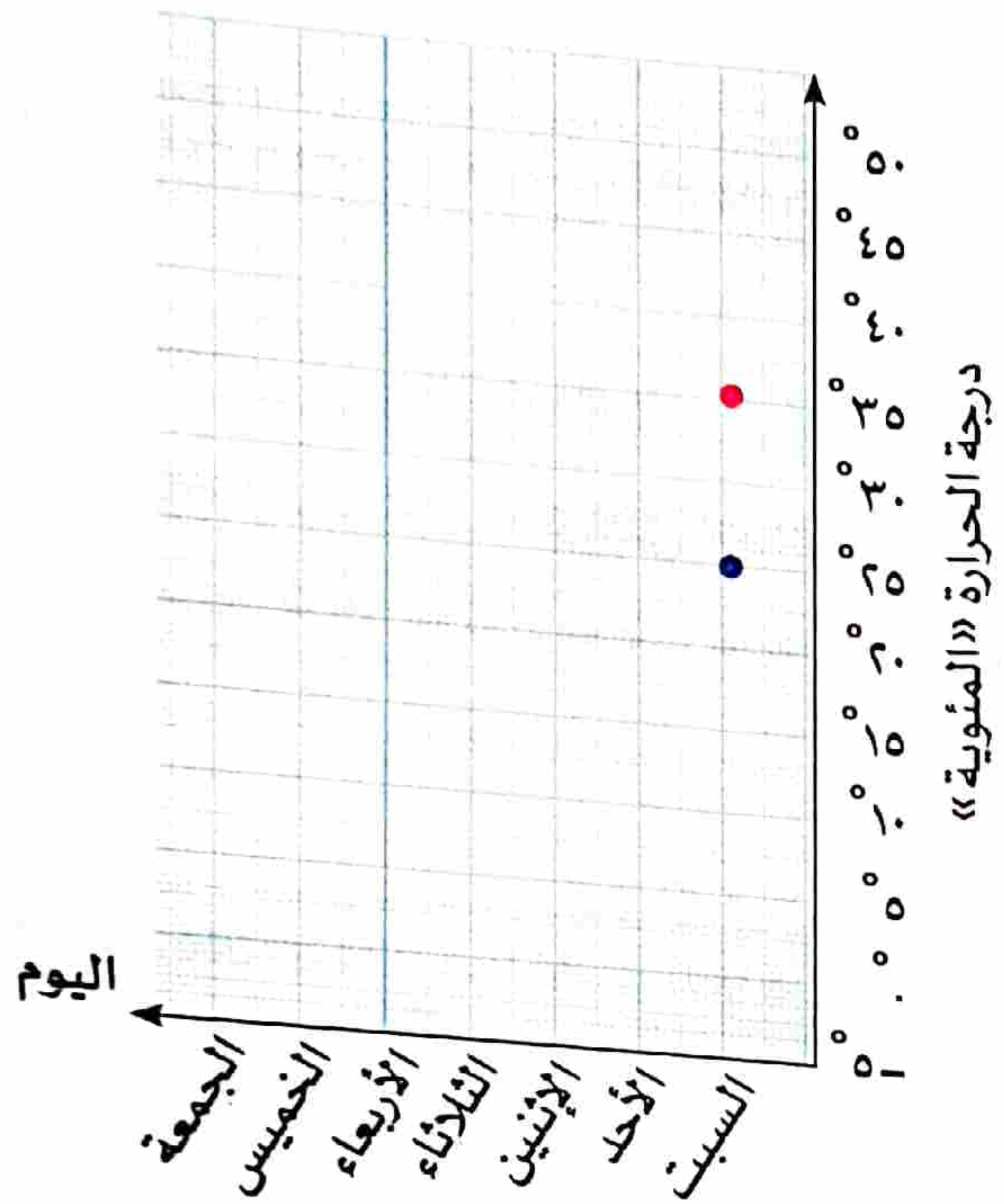
قيم نفسك

• احدد أوجه التشابه والاختلاف بين الطقس والمناخ. جيد جدًا جيد بحاجة إلى مجهود أكبر

التكامل مع الرياضيات

(١) لاحظ وسجّل:

سجّل في الجدول التالي حالة الطقس: ممطر أم غائم أم حارّ أم معتدل أم مشمس، في المحافظة التي تعيش فيها، وذلك على مدار أسبوع كامل كما وردت في النشرة الجوية، ثم قُم بتمثيل درجات الحرارة العظمى بلون والصغرى بلون آخر في الرسم البياني الخطي التالي:



اليوم	التاريخ	حالة الطقس	درجة الحرارة العظمى	درجة الحرارة الصغرى
السبت	١١/١	غائم	٣٥	٢٥
الأحد				
الاثنين				
الثلاثاء				
الأربعاء				
الخميس				
الجمعة				

(ب) أجب:

- ١- ما أهمية الأقمار الصناعية في قياس عناصر الطقس؟
- ٢- كيف نستفيد من بيانات الأرصاد الجوية؟

قيم نفسك . أسجل أحوال الطقس في محافظتي خلال فترة زمنية محددة. جيد جدًا جيد بحاجة إلى مجهود أكبر

استكشف وراجع

استكشف:

- تتميز قارة إفريقيا بتنوع مناخها. استعن بشبكة المعلومات الدولية (الإنترنت)، وحدّد:
- ١- أنواع المناخ فيها وأماكن انتشارها.
 - ٢- ابحث عن دولة مناخها شبيه بمناخ مصر.
 - ٣- في رأيك: لماذا يتشابه مناخ هذين البلدين؟
- راجع:

- ١- حدد أوجه التشابه والاختلاف بين الطقس والمناخ.
- ٢- كيف يتم قياس عناصر الطقس من حرارة ورياح ومطر؟



وصف الطقس والمناخ

الطقس: فترة زمنية قصيرة، يوم أو أسبوع أو شهر.

يصفان حالة الجو من حيث الحرارة والرياح والأمطار.

المناخ: فترة زمنية طويلة؛ فصل أو سنة.

● مناخ مصر مقارنة بمناخ بعض الدول الإفريقية

بعض الدول الإفريقية


المناخ: حار ممطر طوال العام فى بعض الدول وسط قارة إفريقيا.

مصر

المناخ: صحراوي حار فى معظم الأراضى المصرية، شتاءً: معتدل ممطر. صيفاً: حار وجاف.

● أدوات قياس عناصر الطقس

تقاس درجة الحرارة بـ:



ميزان الحرارة (الترمومتر)

تقاس كمية المطر بـ:



مقياس المطر

تحديد اتجاه الرياح بـ:



دوارة الرياح أو جورب الرياح

تقاس سرعة الرياح بـ:



الأنيمومتر

● دور التكنولوجيا فى قياس عناصر الطقس

١ الأقمار الصناعية

- يوجد أقمار خاصة بالطقس تدور حول الأرض تستخدم فى جمع بيانات عن الطقس.

٢ محطات الأرصاد الجوية

- يقوم خبراء الأرصاد فى محطات الأرصاد الجوية بتجميع وتحليل البيانات.
- توقع الأحوال الجوية فى المستقبل.

٣ برامج الهاتف المحمول

- يمكنك تحميل أحد البرامج الخاصة بالطقس على الهاتف المحمول لتحديد حالة الطقس.



السؤال الأول ضع علامة (✓) أمام العبارة الصحيحة، وعلامة (X) أمام العبارة غير الصحيحة:

- ١ معرفة المناخ السائد تساعدنا في اتخاذ بعض القرارات اليومية. ()
- ٢ دوارة الرياح تستخدم لتحديد اتجاه الرياح. ()
- ٣ يتغير المناخ من يوم إلى آخر، كما يتغير عدة مرات في اليوم الواحد. ()
- ٤ يجب أن يستمع الصيادون للنشرة الجوية قبل الخروج. ()
- ٥ معرفة أحوال الطقس تساعدك في تحديد نوع الملابس الواجب ارتداؤها. ()
- ٦ يعد بيان الهيئة العامة للأرصاد الجوية بانخفاض درجة الحرارة توقعًا لحالة الطقس. ()

السؤال الثاني أكمل العبارات الآتية بما يناسبها من كلمات:

- ١ معظم الأراضي المصرية يسودها المناخ
- ٢ يمكننا قياس سرعة الرياح ب.....
- ٣ الأمطار تسقط على مصر في فصل
- ٤ الطقس والمناخ كلاهما يصف حالة
- ٥ الترمومتر يستخدم في قياس درجات

السؤال الثالث صوب ما تحته خط:

- ١ « دائمًا ما تكون درجات الحرارة مرتفعة في أسوان خلال النهار طوال العام.»
هذه العبارة تصف الطقس. (.....)
- ٢ الأقمار الطبيعية لها دور في قياس عناصر الطقس. (.....)
- ٣ مناخ مصر معتدل وممطر في الصيف. (.....)

السؤال الرابع ضع دائرة حول الإجابة الصحيحة مما يلي:

- ١ إذا علمت أن الطقس اليوم بارد فإن أول قرار سوف تتخذه قبل ذهابك للمدرسة هو تحديد
(الطعام - نوع الملابس - وسيلة النقل - الطريق)
- ٢ الطقس والمناخ يختلفان في
(درجات الحرارة - سرعة الرياح - كمية المطر - الفترة الزمنية)
- ٣ تستخدم في جمع بيانات دقيقة حول الطقس هي
(الأقمار الصناعية - محطات الأرصاد الجوية - برامج الهاتف المحمول - دوارة الرياح)

- ٤ يقاس المطر باستخدام
(دوارة الرياح - الأنيومتر - مقياس المطر - الترمومتر)
- ٥ لمعرفة درجة الحرارة في اليوم فإننا نستخدم
(الترمومتر - دوارة الرياح - الأنيومتر - مقياس المطر)
- ٦ يمكننا تحديد اتجاه الرياح باستخدام
(جورب الرياح - طواحين الهواء - مقياس المطر - الأنيومتر)
- ٧ يسود معظم مصر مناخ
(صحراوي حار - استوائي - مداري - قطبي)
- ٨ كيس من القماش يستخدم في تحديد اتجاه الرياح
(ميزان الرياح - دوارة الرياح - جورب الرياح - مقياس الرياح)
- ٩ ساعدنا اختراع الترمومتر على قياس
(كمية الأمطار - سرعة الرياح - اتجاه الرياح - درجة الحرارة)
- ١٠ تسقط الأمطار في مصر
(طوال العام - شتاء - صيفاً - ربيعاً)

السؤال الخامس لاحظ الصور في العمود (ب) وصلها بالعبارات المناسبة لها من العمود (ا):

(ب)	(ا)
 (ا)	١ تستخدم في قياس كمية المطر.
 (ب)	٢ تستخدم في تحديد اتجاهات الرياح.
 (ج)	٣ تستخدم في قياس درجة الحرارة.

السؤال السادس أجب عن السؤالين التاليين:

١ حدد سبباً واحداً لأهمية معرفتك لأحوال الطقس اليومية.

٢ ما المقصود بالطقس؟

السؤال الأول: اختر الإجابة الصحيحة مما بين القوسين:

- ١- تقع معظم مساحة مصرفى الإقليم..... (الاستوائى - البحر المتوسط - المدارى الحار - الصحراوى الحار) (القاهرة ٢٠٢٣)
- ٢- يمكن توقع الأحوال الجوية فى المستقبل القريب من خلال
- (محطات الأرصاد الجوية - ميزان الحرارة - الأقمار الصناعية - دوارى الرياح) (الشرقية ٢٠٢٣)
- ٣- لمعرفة سرعة الرياح نستخدم (الترمومتر - دوارى الرياح - الأنيمومتر - جوارب الرياح) (القاهرة ٢٠٢٣)
- ٤- الهيئة المسئولة عن التنبؤ بالأحوال الجوية فى مصر هى (الغربية ٢٠٢٢)
- (الهيئة العامة للاستعلامات - الجهاز المركزى للتعبئة العامة - الهيئة العامة للأرصاد الجوية - وزارة الصحة والسكان)

السؤال الثانى: اكتب كلمة (صواب) أمام العبارة الصحيحة، وكلمة (خطأ) أمام العبارة غير الصحيحة:

- ١- معرفة أحوال طقس محافظتك تساعدك فى تحديد نوع الملابس الواجب ارتداؤها. () (الأقصر ٢٠٢٣)
- ٢- يستخدم الأنيمومتر فى معرفة سرعة الرياح. () (البحيرة ٢٠٢٣)
- ٣- يجب أن يستمع الصيادون للنشرة الجوية قبل الخروج فى رحلات الصيد. () (أسيوط ٢٠٢٣)
- ٤- المناخ هو حالة الجو لفترة زمنية قصيرة. () (الإسماعيلية ٢٠٢٣)

السؤال الثالث: أكمل الجدول التالى لتحديد أوجه التشابه والاختلاف بين الطقس والمناخ مستخدماً الكلمات الآتية:

(سنة - قصيرة - طويلة - أسبوع - الأمطار - الرياح) (القاهرة ٢٠٢٢)

وجه المقارنة	الطقس	المناخ
أوجه الشبه	يقيس كل منهما الحرارة و..... (١)	
أوجه الاختلاف	وصف حالة الجو فى فترة زمنية ... (٢)	وصف حالة الجو فى فترة زمنية (٤)
	وقد تكون يوماً أو (٣)	وقد تكون فصلاً أو (٥)

السؤال الرابع: أكمل العبارات الآتية:

- ١- الأمطار تسقط على مصرفى فصل
- ٢- وصف حالة الجو فى فترة قصيرة

السؤال الخامس: اكتب المصطلح الجغرافى: وصف حالة الجو فى فترة زمنية طويلة.

السؤال السادس: صوب: يسود معظم الأراضى المصرية المناخ الاستوائى الحار.

السؤال السابع: أجب عن الأسئلة الآتية:

- ١- ما العلاقة بين: الأنيمومتر والرياح؟
- ٢- حدد تفسيراً واحداً لأهمية الأقمار الصناعية بالنسبة للطقس..... (كفر الشيخ ٢٠٢٢)
- ٣- حدد سبباً واحداً لأهمية معرفة حالة الطقس اليومية..... (الإسكندرية ٢٠٢٢)



السؤال الأول: (أ) اختر الإجابة الصحيحة مما يلي:

- ١- الأنيمومتر جهاز يساعدنا على قياس (كمية المطر - سرعة الرياح - درجة الحرارة - اتجاه العصف)
- ٢- الرابط بين مفهوم الطقس والمناخ هو معرفة
(حالة الجو - النشاط الاقتصادي - أنواع التضاريس - فصول السنة)

(ب) حدد في الجدول التالي: أي من العبارات التالية ينطبق على الطقس؟ وأي منها ينطبق على المناخ؟ بوضع علامة (✓)

المناخ	الطقس	العبرة
		١- أحتاج إليه لتحديد موقع لإقامة مصنعى الجديد.
		٢- من المتوقع ارتفاع درجات الحرارة طوال الأسبوع القادم.
		٣- من المتوقع هطول الأمطار غداً على مدينة الإسكندرية.

السؤال الثانى: (أ) ضع علامة (✓) أمام العبارة الصحيحة، وعلامة (x) أمام العبارة غير الصحيحة:

- ١- النقل البحرى يستفيد من خدمات الأرصاد الجوية.)
- ٢- البرامج الخاصة بحالة الجو على التليفون المحمول تصف المناخ.)
- ٣- الهيئة العامة للأرصاد الجوية المصرية يتبعها عدد كبير من محطات الأرصاد الجوية فى المحافظات.)

(ب) أمامك جدول لدرجات الحرارة لبعض محافظات مصر على مدار يوم واحد. ادرسه ثم أجب:

المحافظة	درجة الحرارة العظمى (نهاراً)	درجة الحرارة الصغرى (ليلاً)
القاهرة	٣٨	٢٥
الإسكندرية	٣٢	٢٤
أسوان	٤٤	٢٨

- ١- حدد المحافظة التى سجلت أعلى درجات الحرارة أثناء النهار.
- ٢- حدد المحافظة التى سجلت أقل درجة حرارة ليلاً.

السؤال الثالث: (أ) أكمل العبارات الآتية بما يناسبها من كلمات:

- ١- معظم الأراضى المصرية يسودها المناخ
 - ٢- لمعرفة اتجاه الرياح يمكننا الاستعانة ب.....
 - ٣- تسقط الأمطار على مصر فى فصل
- (ب) حدد: اثنين من الأنشطة الاقتصادية يؤثر فيهما الطقس.**



خصائص البيئات الطبيعية في مصر وأهم مواردها الطبيعية

أولا البيئة الصحراوية:

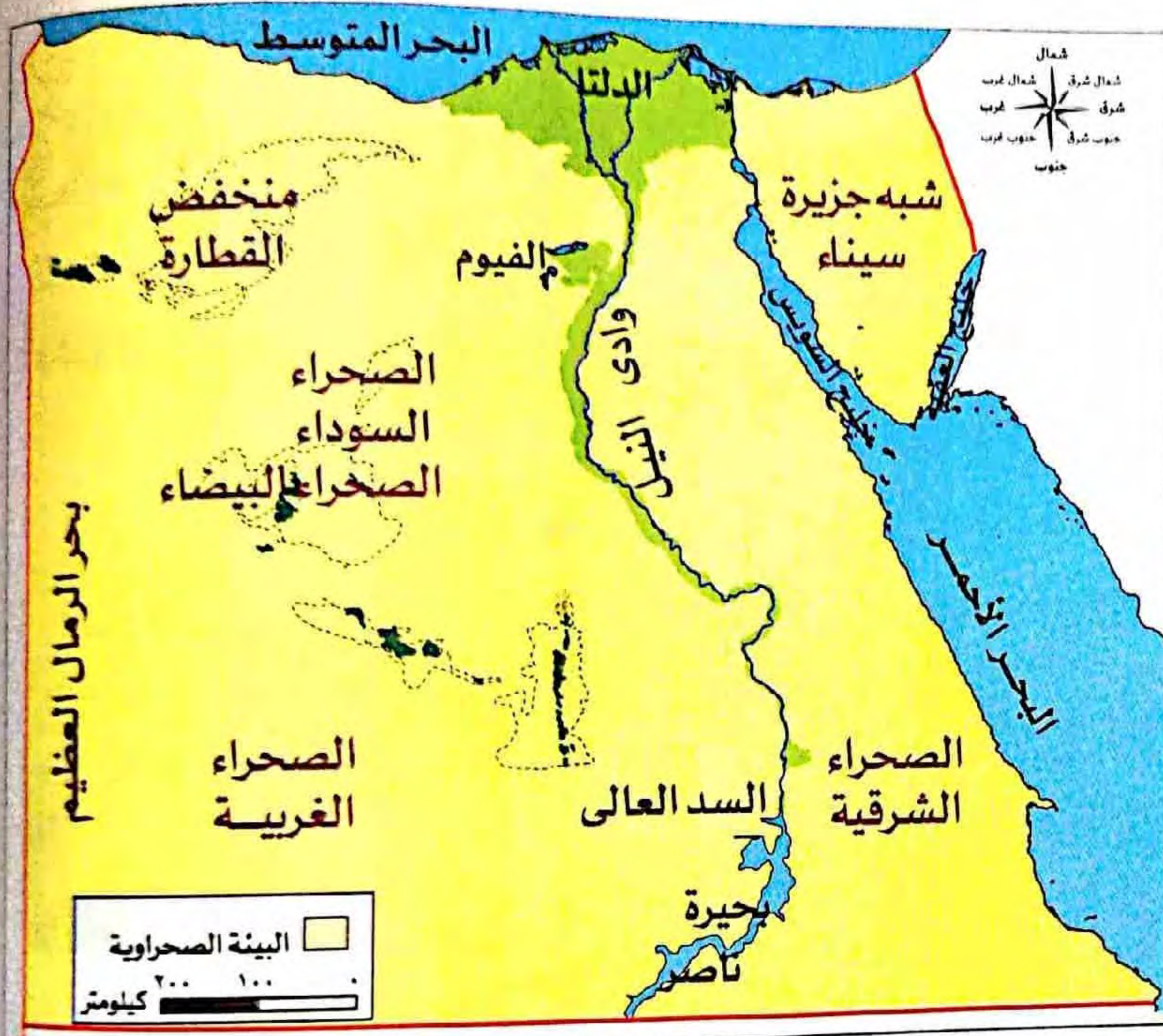
تمثل معظم مساحة مصر.

تشمل:

- ١ الصحراء الغربية.
- ٢ الصحراء الشرقية.
- ٣ شبه جزيرة سيناء.

خصائصها:

- ١ الصحراء الغربية: تنتشر فيها المنخفضات والكثبان الرملية وهي تجمعات كبيرة من الرمال، مثل: بحر الرمال العظيم.
- ٢ الصحراء الشرقية وشبه جزيرة سيناء تنتشر فيهما الجبال الشاهقة والرمال الذهبية.



أهم مواردها الطبيعية

سيناء

يوجد بها معدن المنجنيز

الصحراء الشرقية

يوجد بها معادن
كالنحاس والذهب



الصحراء الغربية

- يوجد بها المياه الجوفية وتقوم عليها الزراعة.
- تضم معادن كالحديد والفوسفات.



كما توجد في البيئة الصحراوية:

- مصادر متنوعة من الطاقة كالبتروول والغاز الطبيعي والفحم.
- الرمال البيضاء التي تدخل في صناعات الزجاج والخلايا الشمسية.



في الصحراء الغربية

الصحراء البيضاء: يغطيها اللون الأبيض، وتعتبر متحفاً مفتوحاً لدراسة المظاهر التضاريسية والحفريات والحياة البرية.

الصحراء السوداء: تتميز بجبالها وهضابها المغطاة باللون الأسود بسبب بقايا الانفجارات البركانية التي جفت على مدى ملايين السنين.

- وتعد الصحراء البيضاء والصحراء السوداء مقصدًا للمصريين والأجانب هواة السفاري، نظرًا لما تتميز به من مظاهر خلابة.

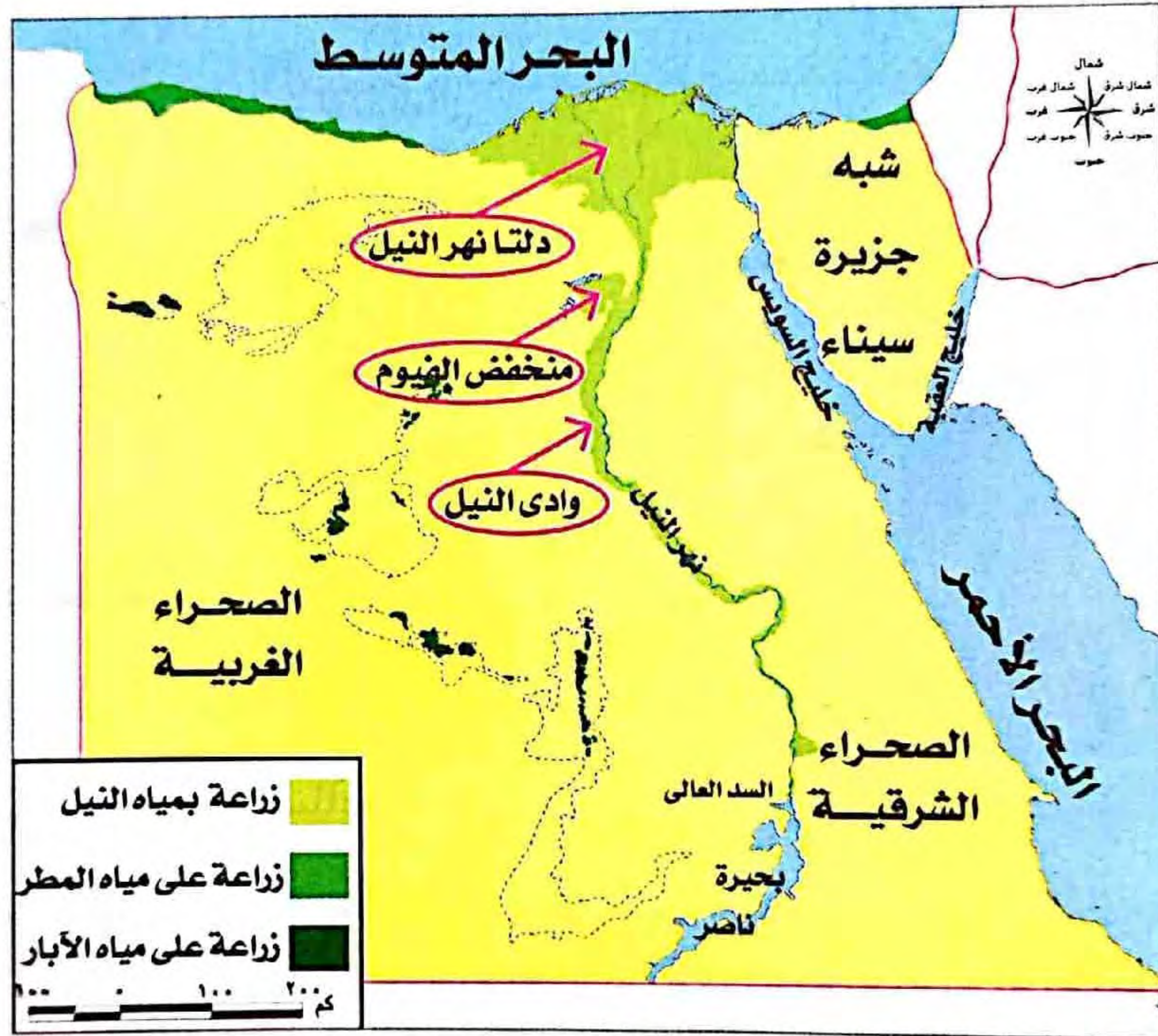
ثانيًا البيئة الزراعية:

تشمل:

- ١ دلتا النيل.
- ٢ وادي النيل.
- ٣ منخفض الفيوم.

خصائصها:

- تتميز بسطح مستوي.
- تزرع فيها جميع المحاصيل الصيفية والشتوية.



مواردها الطبيعية:

• أهم مواردها: المياه العذبة (نهر النيل)، والتربة الخصبة.

• إذا تتبعنا مسار نهر النيل جنوبًا فستجد:

بحيرة ناصر

- توجد أمام السد العالي.
- تعتبر من أكبر البحيرات الصناعية في العالم.
- تعد موطنًا للكثير من الأسماك.



السد العالي بأسوان

- الذي يخزن المياه لرى المناطق الزراعية على طول نهر النيل على مدار العام.



كيف تستفيد الدولة من الموارد الطبيعية؟

- تقوم الدولة بعدد كبير من المشروعات للاستفادة من الموارد الطبيعية، ومن هذه المشروعات: مشروع إنشاء ١٠٠,٠٠٠ صوبة زراعية في مصر.



الصوبات الزراعية

خيم مصنوعة من مواد شفافة منفذة لأشعة الشمس، ويمكن التحكم في درجات حرارتها، وتزرع فيها الخضراوات والفاكهة.

أهداف مشروع ١٠٠,٠٠٠ صوبة زراعية:

- ١- زيادة إنتاج الخضراوات والفاكهة العضوية باستخدام مساحات أقل من الأراضي الزراعية وكميات قليلة من المياه العذبة.
- ٢- تلبية احتياجات المواطنين المصريين المتزايدة من المواد الغذائية نتيجة الزيادة السريعة في عدد السكان.
- ٣- توفير فرص عمل لأكثر من ربع مليون مواطن مصري.
- ٤- زيادة صادرات مصر من المحاصيل الزراعية، وزيادة دخل الدولة.

افهم وطبق

١- اقرأ المعلومات السابقة، ثم أكمل الجدول التالي:

	١- الموارد التي وردت في الفقرة.
	٢- اسم المشروع الذي جاء في الفقرة.
	٣- الهدف من هذا المشروع.
	٤- نتائج هذا المشروع.
	٥- في رأيك، كيف تستفيد أنت وأسرتك من هذا المشروع؟
	٦- اقترح أفكارًا لأعمال تجارية أخرى يمكنك إنشاؤها.

قيم نفسك

- أميز بين الموارد الطبيعية في البيئات المصرية المختلفة.
 - جيد جدًا جيد بحاجة إلى مجهود أكبر
- أحدد طرق الاستفادة من الموارد الطبيعية في محافظتي.
 - جيد جدًا جيد بحاجة إلى مجهود أكبر

٢- ابحث وأكمل:

باستخدام شبكة المعلومات الدولية، اقترح بعض الأساليب لتحقيق الاستخدام الأمثل للموارد الطبيعية في الجدول التالي، كما في المثال:

الموارد الطبيعية	البيئة الموجودة بها المورد	الأساليب المقترحة لتحقيق الاستخدام الأمثل للموارد الطبيعية
الرمال السوداء	البيئة الساحلية	منع تصدير الرمال السوداء خامًا؛ أي دون تصنيع - إنشاء مصانع لفصل الرمال السوداء - بناء مصانع للاستفادة من كل معدن من المعادن الموجودة في الرمال السوداء.
المياه العذبة		
الرمال البيضاء		

(الدراسات الاجتماعية في حياتي اليومية)

٣- مشروع صغير

«قام شباب في إحدى القرى المصرية بزراعة نحو ١٥٠٠ فدان بالنباتات الطبية والعطرية وتصديرها إلى الخارج، وقد ساعد هذا المشروع في توفير فرص عمل لشباب القرية والحد من البطالة فيها». في ضوء الخبر السابق، اكتب فكرة مشروع صغير لاستثمار أحد موارد محافظتك، بحيث يساهم هذا المشروع في حل إحدى مشكلاتها محققًا ربحًا لك ولمحافظتك، مستعينًا بالنموذج التالي:

اسم المشروع	
الهدف من المشروع	
المورد الطبيعي الرئيسي للمشروع	
النشاط الاقتصادي الذي يساهم هذا المشروع في تنميته	<input type="checkbox"/> زراعي <input type="checkbox"/> صناعي <input type="checkbox"/> سياحي <input type="checkbox"/> تعديني <input type="checkbox"/> آخر
مكان تنفيذ المشروع	
منتجات المشروع	

قيم نفسك

• أعدد طرق الاستفادة من الموارد الطبيعية في بيئتي ومحافظتي.

• أستنتج نوع البيئة الذي تتميز به محافظتي.

جيد جدًا جيد بحاجة إلى مجهود أكبر

جيد جدًا جيد بحاجة إلى مجهود أكبر

اقرأ الدرس مرة أخرى ولاحظ الخرائط، ثم انسب المظاهر التالية إلى البيئة الطبيعية التي تنتمي إليها:

البيئة الساحلية	البيئة الزراعية	البيئة الصحراوية	العبرة
	✓		١- المياه العذبة حيث نهر النيل وفرعاه.
			٢- الرمال السوداء في بعض المناطق على طول سواحل البحر المتوسط.
			٣- جبال شاهقة وهضاب متعددة.
			٤- تجمعات كبيرة من الرمال لها أشكال مختلفة.
			٥- شعاب مرجانية ذات ألوان خلابة.
			٦- تربة خصبة تزرع فيها المحاصيل الصيفية والشتوية.

قيم نفسك

• أُميّز بين الموارد الطبيعية في البيئات المصرية المختلفة. جيد جدًا جيد بحاجة إلى مجهود أكبر

طابق وسجل:

طابق خريطة محافظات مصر ص ٣٩ مع خريطة مستويات ارتفاعات سطح مصر ص ٦٧ مع خريطة البيئات المصرية ص ٨٩، وأكمل الجدول التالي:

محافظة	البيئات الموجودة فيها	أهم مظاهر السطح الموجودة فيها	أهم الموارد الطبيعية الموجودة فيها
محافظة			
المحافظة المجاورة رقم (١)			
محافظة			
المحافظة المجاورة رقم (٢)			
محافظة			

قيم نفسك

• استنتج نوع البيئة الذي تتميز به محافظتي. جيد جدًا جيد بحاجة إلى مجهود أكبر

التكامل مع التربية الموسيقية والمسرحية

فكر وعبر:

- ١- اكتب مسرحية من فصل واحد تتناول بيئة من البيئات (الزراعية أو الصحراوية أو الساحلية) توضح فيها خصائصها الطبيعية وأهم ما يميزها، ثم اكتب عنواناً للمسرحية وملخصاً لأهم أحداثها.
- ٢- استخدم شبكة المعلومات الدولية (الإنترنت)، واجمع معلومات عن أهم المظاهر التضاريسية المنتشرة في كل من الصحراء البيضاء والسوداء، ثم اعرضها على زملائك في الفصل، موضحاً كيف تمثل مصدر جذب للسياح.
- ٣- فسّر سبب تسمية كل من الصحراء البيضاء والسوداء بهذا الاسم.

قيم نفسك

- أتعرف بعض البيئات المصرية وأحدّد خصائصها. جيد جدًا جيد بحاجة إلى مجهود أكبر
- أستنتج نوع البيئة الذي تتميز به محافظتي. جيد جدًا جيد بحاجة إلى مجهود أكبر

استكشف وراجع

استكشف:

حدّد موقع محافظتك على الخريطة وصف البيئة التي تنتمي إليها وأهم الموارد الطبيعية التي توجد بها.

- محافظتي
- وصف بيئتي
- أهم الموارد الطبيعية

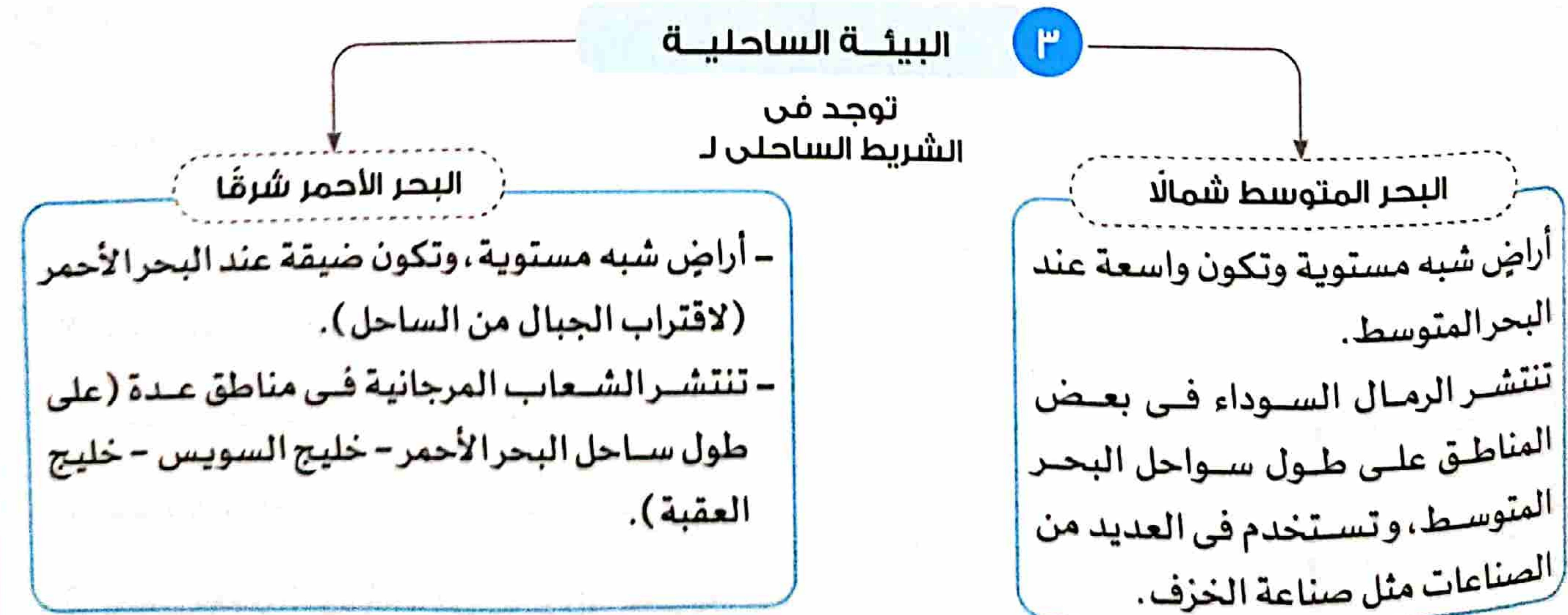
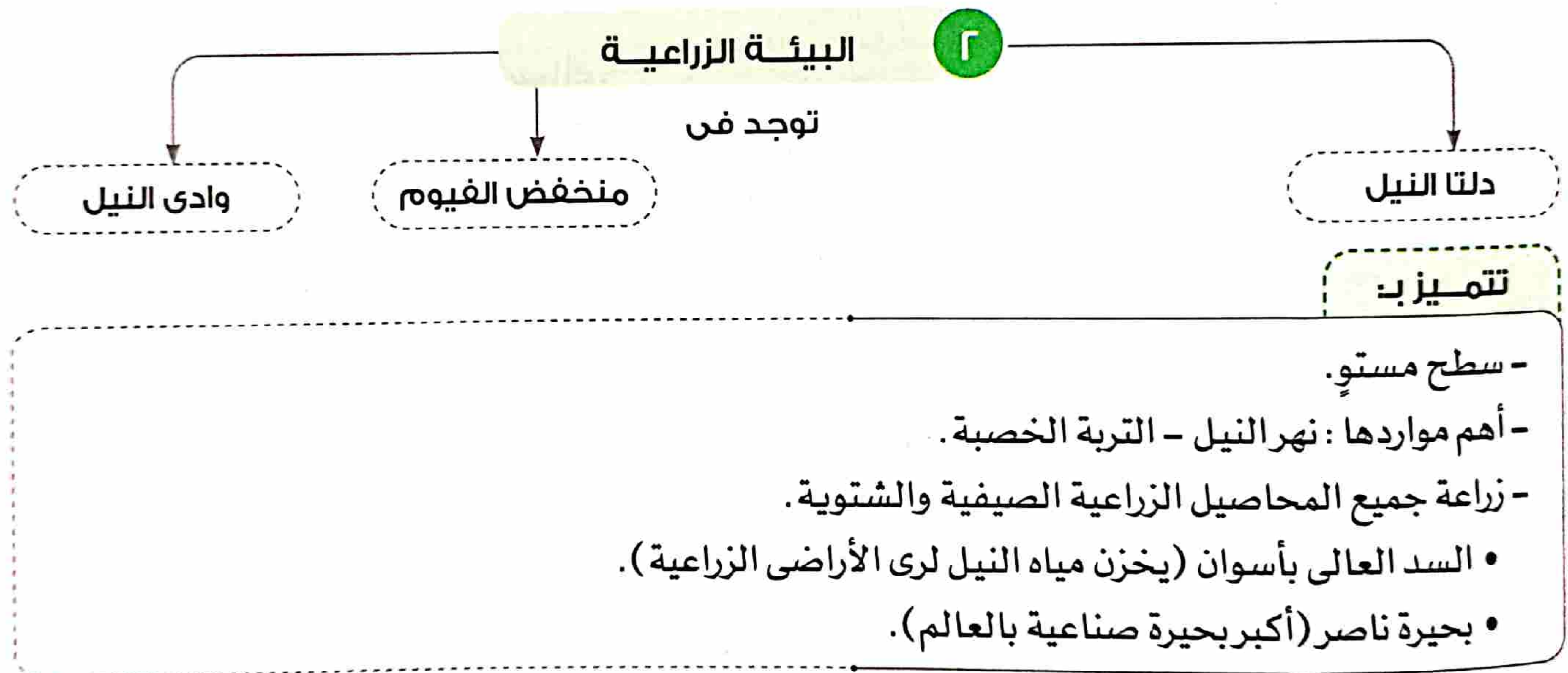
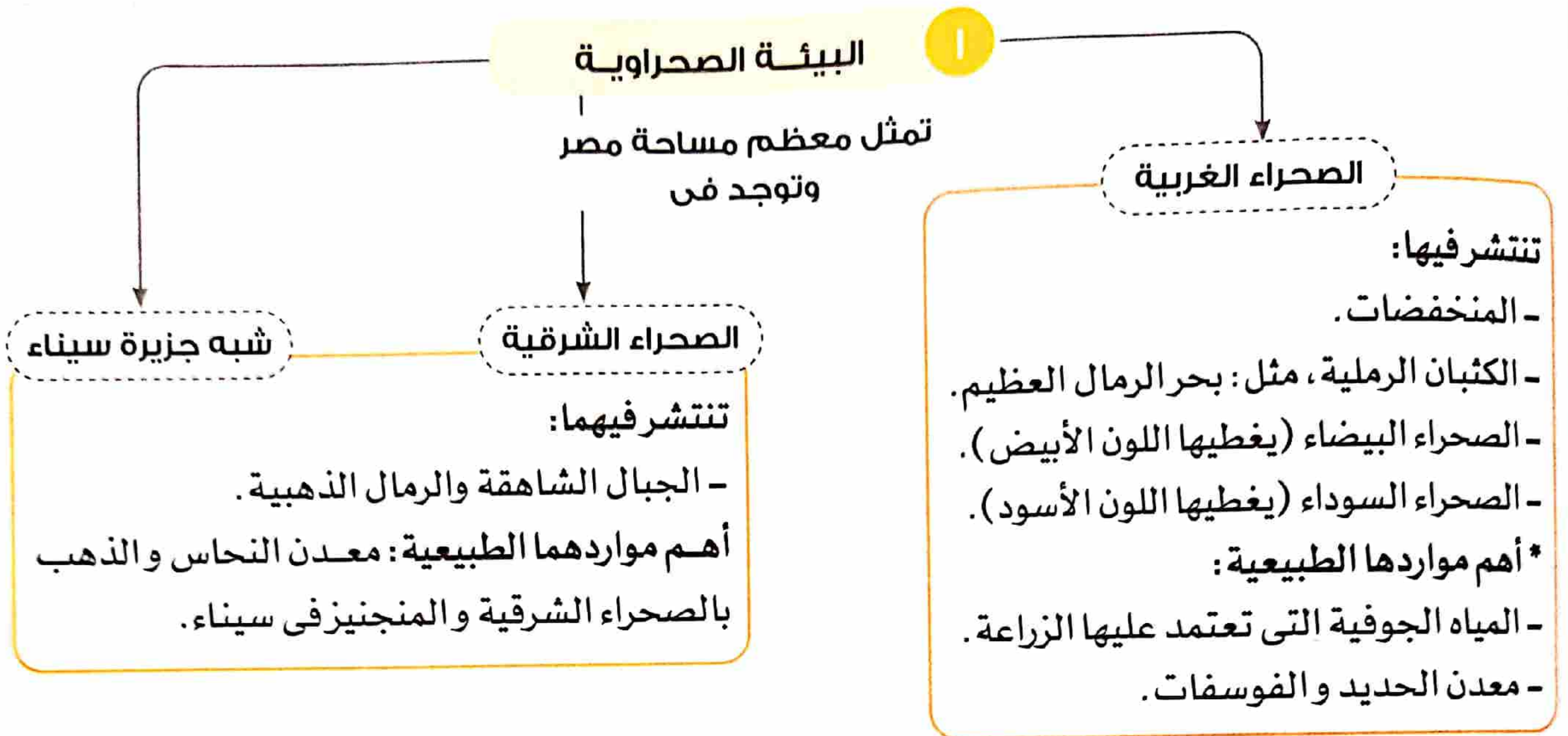
راجع:

حدّد أوجه التشابه والاختلاف بين البيئة الزراعية والبيئة الصحراوية والبيئة الساحلية (من حيث الخصائص والموارد).





تتنوع البيئات المصرية، ولكل بيئة خصائص طبيعية تميزها:





السؤال الأول

أكمل العبارات الآتية بما يناسبها من كلمات:

- ١ تتنوع البيئات الطبيعية في مصر بسبب اتساع
- ٢ تشغل معظم مساحة مصر البيئة
- ٣ ينتشر في شبه جزيرة سيناء معدن
- ٤ الصحراء البيضاء في مصر جزء من الصحراء
- ٥ تشمل البيئة الزراعية في مصر وادي النيل و..... و.....
- ٦ تنتشر الرمال السوداء على طول ساحل

المستوى الأول

السؤال الثاني

ضع علامة (✓) أمام العبارة الصحيحة، وعلامة (X) أمام العبارة غير الصحيحة:

- ١ تعتمد الحياة في البيئة الصحراوية على مياه نهر النيل.
- ٢ بحيرة ناصر موطن لكثير من الأسماك.
- ٣ ساعد الموقع الجغرافي ومظاهر السطح على تنوع البيئات الطبيعية في مصر.
- ٤ المحاصيل الزراعية في مصر تتنوع بين محاصيل صيفية وشتوية.
- ٥ تنتشر الكثبان الرملية في الصحراء الغربية.
- ٦ تقوم الزراعة في الصحراء الغربية على المياه الجوفية.
- ٧ بحيرة السد العالي من البحيرات الطبيعية في العالم.
- ٨ تدخل الرمال السوداء في صناعات الزجاج والخلايا الشمسية.

السؤال الثالث

صوب ما تحته خط:

- ١ يوجد معدن الذهب في الصحراء الغربية.
- ٢ توجد بحيرة السد العالي وبحيرة ناصر شمال نهر النيل.
- ٣ بحر الرمال العظيم يوجد في الصحراء الشرقية.
- ٤ السد العالي يوجد في شمال نهر النيل.
- ٥ بحيرة ناصر أصغر بحيرة صناعية في العالم.
- ٦ ينتشر معدن الفوسفات في الصحراء الشرقية.

المستوى الثاني

السؤال الرابع ضع دائرة حول الإجابة الصحيحة مما يلي:

- ١ تنتشر الأراضي الزراعية في مصر في
- (ساحل البحر الأحمر - الصحراء الشرقية - وادي النيل - الصحراء البيضاء)
- ٢ يوجد معدن المنجنيز في (الصحراء الشرقية - الصحراء الغربية - شبه جزيرة سيناء - دلتا النيل)
- ٣ الموقع الجغرافي ومظاهر السطح ومساحة مصر الكبيرة، كل ذلك أدى إلى
- (تنوع البيئات - توحيد البيئات - ثبات البيئات - اختلال البيئات)
- ٤ الكثبان الرملية تنتشر في البيئة (الزراعية - الصناعية - الصحراوية - الساحلية)
- ٥ يخزن المياه لرى المناطق الزراعية على مدار العام. (الترع - السد العالي - البحر الأحمر - البحر المتوسط)
- ٦ تتميز البيئة الساحلية بأن أرضها (متعرجة - مستوية - شبه مستوية - صخرية)
- ٧ الشعاب المرجانية في مصر تنتشر على ساحل (البحر المتوسط - البحر الأحمر - الدلتا - الخليج العربي)
- ٨ تخلو مصر من البيئة (الزراعية - الجليدية - الصحراوية - الساحلية)
- ٩ تعتمد الزراعة على المياه الجوفية في (الصحراء الغربية - الصحراء الشرقية - الدلتا - وادي النيل)
- ١٠ تتميز الصحراء الغربية بعدة ظاهرات تضاريسية، أهمها
- (بحر الرمال العظيم - البحر الأحمر - الشعاب المرجانية - البحيرات المالحة)
- ١١ السد العالي يوجد في محافظة (قنا - سوهاج - الأقصر - أسوان)
- ١٢ أكبر البحيرات الصناعية في العالم بحيرة (المنزلة - ناصر - البردويل - قارون)
- ١٣ تدخل الرمال السوداء في صناعة
- (الخزف - البلاستيك - الزجاج - السيارات)

السؤال الخامس صنف المحافظات التالية حسب وجودها في البيئات المصرية في الجدول التالي:

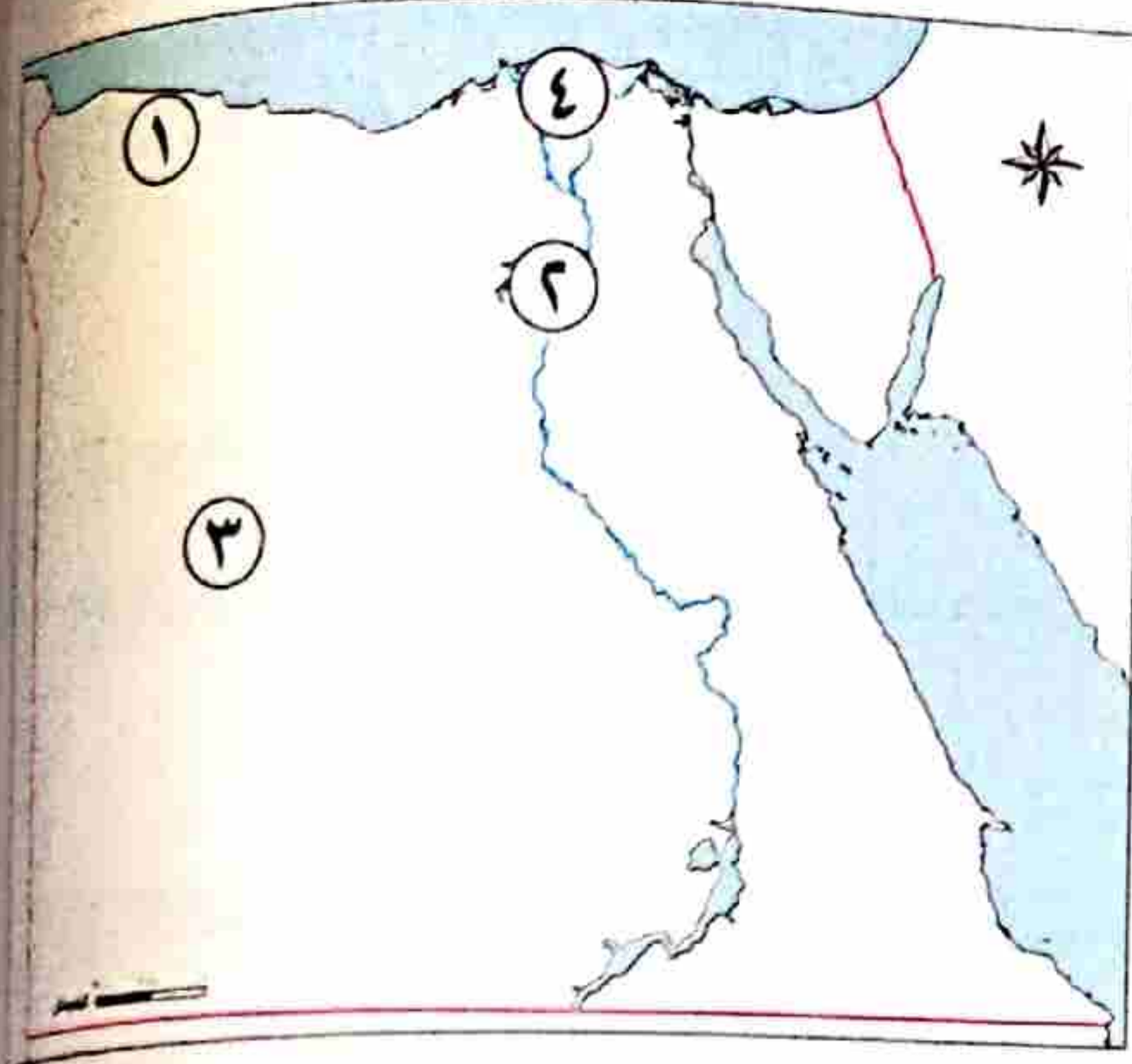
(الإسكندرية - بورسعيد - القليوبية - جنوب سيناء - أسوان - الوادي الجديد - الشرقية)

البيئة الزراعية	البيئة الساحلية	البيئة الصحراوية
.....
.....

السؤال السادس أجب عن الأسئلة التالية:

- ١ اشرح أسباب تنوع البيئات الطبيعية في مصر.
- ٢ حدد أحد أوجه التشابه بين الصحراء الشرقية وشبه جزيرة سيناء.
- ٣ بم تفسر: وجود زراعة في الصحراء الغربية؟

السؤال الأول: لاحظ خريطة مصر جيدًا ثم استنتج مدلول الأرقام.



- ١- يشير رقم (١) على الخريطة إلى البيئة (سوهاج ٢٠٢٣)
- ٢- يشير رقم (٢) على الخريطة إلى البيئة (الغربية ٢٠٢٢)
- ٣- يشير رقم (٣) على الخريطة إلى البيئة (الإسكندرية ٢٠٢٣)
- ٤- يشير رقم (٤) إلى منطقته زراعية (الجيزة ٢٠٢٣)

السؤال الثاني: اختر الإجابة الصحيحة مما بين الأقواس:

- ١- السد العالي يوجد في محافظة (سوهاج - قنا - الأقصر - أسوان) (القاهرة ٢٠٢٣)
- ٢- يخزن المياه لرى المناطق الزراعية على مدار العام (الترع - البحر الأحمر - السد العالي - البحر المتوسط) (القاهرة ٢٠٢٣)
- ٣- البيئات الساحلية مرتبطة بوجود (الأنهار - الجبال - البحار - المنخفضات) (القاهرة ٢٠٢٣)
- ٤- تنتشر الزراعة في محافظة الدقهلية؛ لذلك فهي تنتمي إلى البيئة (الصحراوية - الساحلية - الصناعية - الزراعية) (الشرقية ٢٠٢٣)
- ٥- الكثبان الرملية تنتشر في البيئة (الزراعية - الصناعية - الصحراوية - الساحلية) (الزقازيق ٢٠٢٢)
- ٦- أكبر البحيرات الصناعية في مصر والعالم (قارون - ناصر - إدكو - المنزلة) (الجيزة ٢٠٢٣)

السؤال الثالث: اكتب كلمة (صواب) أمام العبارة الصحيحة، وكلمة (خطأ) أمام العبارة غير الصحيحة:

- ١- تضم البيئة الصحراوية الجزء الأكبر من الأراضي المصرية. () (قنا ٢٠٢٢)
- ٢- تعد بحيرة السد العالي من البحيرات الطبيعية في العالم. () (دمياط ٢٠٢٢)
- ٣- توجد الكثبان الرملية في الصحراء الشرقية مثل بحر الرمال العظيم. () (الجيزة ٢٠٢٣)
- ٤- تنتشر الشعاب المرجانية على طول سواحل البحر المتوسط. () (المنيا ٢٠٢٣)
- ٥- عند زيارتك للبيئة الزراعية يمكن ملاحظة الكثبان الرملية. () (سوهاج ٢٠٢٣)

السؤال الرابع: أكمل العبارات الآتية:

- ١- تنتشر الشعاب المرجانية على ساحل البحر (الجيزة ٢٠٢٣)
- ٢- الصحراء الغربية ينتشر بها (القليوبية ٢٠٢٣)

السؤال الخامس: أجب عن الأسئلة التالية:

- ١- ماذا يحدث إذا اختفت الشعاب المرجانية من البحر الأحمر؟ (الجيزة ٢٠٢٣)
- ٢- حدد سببًا واحدًا لتنوع البيئات الطبيعية في مصر. (القاهرة ٢٠٢٣)



السؤال الأول: (١) ضع دائرة حول الإجابة الصحيحة مما يلي:

١- البيئات الساحلية مرتبطة بوجود

(الأنهار- البحار - المنخفضات - الجبال)

٢- البيئة التي تشغل معظم مساحة مصر هي البيئة

(الساحلية - الزراعية - الصحراوية - الصناعية)

٣- السهول الساحلية على البحر الأحمر ضيقة بسبب اقتراب

(الجزر- الجبال - المنخفضات - الأنهار)

٤- تنتشر على طول ساحل البحر الأحمر وخليج السويس والعقبة

(الجزر- الكثبان الرملية - الهضاب - الشعاب المرجانية)

(ب) ماذا كان سيحدث إذا كانت مساحة مصر صغيرة؟

السؤال الثاني: (١) صوب ما تحته خط :

١- بحيرة البرلس تعد أكبر بحيرة صناعية في العالم. (.....)

٢- بحر الرمال العظيم يوجد في الصحراء الشرقية. (.....)

٣- تنتشر الرمال السوداء على طول ساحل البحر الأحمر. (.....)

(ب) حدد المختلف في عناصر المجموعة التالية :

١- الصحراء الشرقية - وادي النيل ودلتاه - الصحراء الغربية - شبه جزيرة سيناء.

٢- البحر الأحمر - بحيرة البرلس - بحيرة ناصر - البحر المتوسط.

السؤال الثالث : اكتب ما تشير إليه العبارات الآتية:

١- بيئة تتميز بوجود الرمال والجبال والهضاب. (.....)

٢- بيئة تزرع فيها المحاصيل الصيفية والشتوية. (.....)

٣- بيئة شبه مستوية السطح وتمتد على طول ساحل البحر. (.....)

٤- بحيرة صناعية تعد من أكبر البحيرات في العالم. (.....)

٥- بناء يخزن مياه النيل لرى المناطق الزراعية على مدار العام. (.....)



الدرس الرابع نحو حياة مستدامة في بلدنا



تفاعل

ما الموارد الطبيعية الموجودة في بيئتك؟ وما المشكلات التي تواجهها؟ وكيف تستخدمها استخدامًا مسؤولًا للحفاظ عليها؟

تعلم


الموارد الطبيعية المتجددة وغير المتجددة

• تتنوع الموارد الطبيعية وتختلف من بيئة إلى أخرى.

تنقسم الموارد الطبيعية إلى:

موارد غير متجددة

موارد متجددة



هي الموارد التي تنفذ باستخدامنا لها.

مثل

مصادر الطاقة

الحفرية

(البتروول - الفحم - الغاز

الطبيعي)



الموارد المعدنية

(الحديد - المنجنيز -

النحاس - وغيرها)



• هذه الموارد تحتاج لآلاف السنين لتشكيلها.

• وتكون كمياتها محدودة.

هي الموارد التي لا تنفذ رغم استخدامنا المستمر لها.

مثل

التربة



المياه



الهواء



• الطاقة الحفرية

هي الطاقة التي نستخرجها من باطن الأرض؛ مثل: البتروول، الفحم، الغاز الطبيعي.

• وقد أدى سوء استخدامنا للموارد الطبيعية المختلفة إلى ظهور العديد من المشكلات التي تضر بها وتهدد

الإنسان وحياة الكائنات الحية على سطح الأرض، ولذلك تبذل الدولة جهودًا كبيرة للحفاظ على موارد البيئة

المحافظة على موارد البيئة لتحقيق التنمية المستدامة

الحياة المستدامة

- هي أسلوب حياة يهدف إلى التعامل بشكل مسئول مع موارد بيئتنا وترشيد استهلاكنا لها، وبالتالي تقليل النفايات.
- لتحقيق الحياة المستدامة لا بد من المحافظة على الموارد كالمياه.

أولا المياه

أسباب تلوث المياه:

- ١- إلقاء مياه الصرف الصحي ومياه الصرف الزراعي الملوثة بالأسمدة الكيميائية والمبيدات الحشرية.
- ٢- إلقاء نفايات المصانع.

كيفية المحافظة على المياه من التلوث

الفرد

غلق صنبور
المياه أثناء
تنظيف
الأسنان.

يمكنك ترشيد
استهلاك المياه؛
وذلك باستخدام
الدش بدلاً من
حوض الاستحمام.



الدولة

توفر مصادر
جديدة للمياه
العذبة، مثل:
• حفرة الآبار.
• تحلية مياه البحر.
• بناء السدود
لتخزين مياه
الأمطار.

تعمل على
استخدام وسائل
ري حديثة
لتقليل فقدان
الكثير من
المياه.

تفرض عقوبات على
كل من يلوث مياه
نهر النيل.



سؤال

فسر:

١- أسباب تلوث المياه.

٢- تسعى الدولة إلى استخدام وسائل ري حديثة.

ثانياً الطاقة

- إن الاستخدام غير المسئول لمصادر الطاقة غير المتجددة يعرضها للنفاذ؛ لذلك اتجهت مصر كباقي دول العالم لاستخدام مصادر الطاقة المتجددة، مثل: (الشمس - الرياح - الطاقة الكهرومائية المولدة من المياه).
- لأنها: طاقة نظيفة لا تلوث البيئة.

كيفية المحافظة على الطاقة

الفرد

لترشيد استهلاك الطاقة عليك:

- إطفاء المصابيح والأجهزة الكهربائية غير المستخدمة.
- استخدام مصابيح موفرة للطاقة.



الدولة

قامت مصر بإنشاء محطات توليد الكهرباء من الطاقة المتجددة مثل:

- محطة كهرباء السد العالى لتوليد الكهرباء من المياه.
- محطة الكريمت فى الجيزة لتوليد الكهرباء من الطاقة الشمسية.
- محطة الزعفرانة فى محافظة البحر الأحمر لتوليد الكهرباء من طاقة الرياح.



ثالثاً التربة

- تُعد التربة مورداً طبيعياً مهماً ل: زراعة المحاصيل الزراعية التى نعتد عليها فى الغذاء والصناعة.
- تتعرض التربة لأخطار متعددة منها: - التلوث نتيجة إسراف المزارعين فى استخدام الأسمدة الكيميائية والمبيدات الحشرية.
- تجريف الأرض الزراعية.

كيفية المحافظة على التربة

تنصح الدولة المزارعين بـ:

- استخدام السماد العضوى.
- وضعت قوانين تُجرّم تجريف التربة.



رابعاً الهواء

• يتعرض الهواء للتلوث نتيجة:

- عوادم السيارات ودخان المصانع.


- حرق قش الأرز.

كيفية خفض نسبة تلوث الهواء

الدولة

لخفض نسبة تلوث الهواء تبذل الدولة جهوداً كبيرة في ذلك، مثل:

استخدام السيارات التي تعمل بالغاز الطبيعي بدلاً من البنزين.
التوعية بضرورة تقليل الاعتماد على السيارات الخاصة في التنقل لخفض نسبة العوادم.



الفرد

يمكنك خفض نسبة تلوث الهواء من خلال:

استخدام الدراجات بدلاً من السيارات.
زراعة النباتات في البيئة المحيطة.



جهود الدولة لتحقيق التنمية المستدامة

- للحفاظ على الحياة المستدامة والبيئة النظيفة تعمل مصر على تنفيذ أهداف خطة التنمية المستدامة التي أعدتها الأمم المتحدة لمساعدة البلدان على حماية مواردها وتوفير حياة مستدامة.
- لذلك: أطلقت الدولة مبادرة «**اتحضر للأخضر**»؛ لحث المواطنين على:

اتحضر للأخضر

١ المشاركة في الحفاظ على البيئة.

٢ ترشيد استهلاك الغذاء والطاقة.

٣ التوعية بأهمية التشجير وإعادة تدوير المخلفات.

سؤال؟

دلل على: دور الدولة المبذول في تقليل نسبة تلوث الهواء.

افهم واطبق

(أ) فكروا جواب:

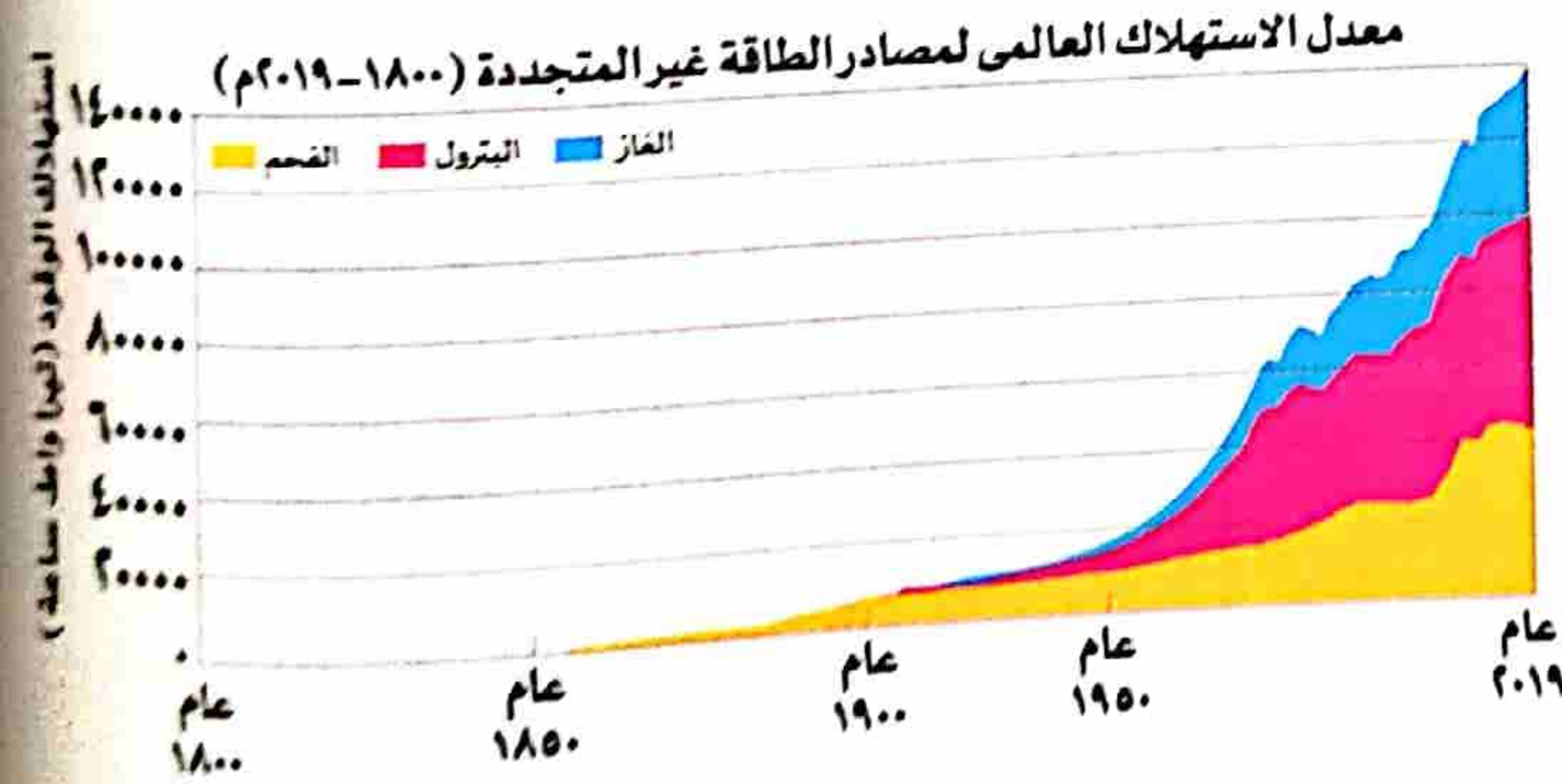
- اقرأ الجمل التالية والتي تشير إلى سلوكيات التعامل مع الموارد، ثم ضع علامة (✓) أمام الجملة التي تعبر عن سلوك إيجابي، وعلامة (X) أمام الجملة التي تعبر عن سلوك سلبي:
- 1- يسكب سليم مواد الطلاء على الأرض. (X)
 - 2- تغلق سارة صنبور المياه أثناء تنظيف أسنانها بالفرشاة والمعجون. ()
 - 3- يحتفظ وائل بقشور الفاكهة التي يتناولها ليصنع منها سمادًا لحديقته. ()
 - 4- تتناول نسمة كميات قليلة جدًا من الطعام، وترمي الباقي في سلة المهملات. ()
 - 5- تلقى دينا القمامة في مجرى المياه. ()
 - 6- يطفئ يوسف المصباح عند خروجه من الحجرة. ()
 - 7- يترك مينا التليفزيون مفتوحًا وينام. ()
 - 8- تحرص صفاء على شراء كميات كبيرة من الطعام وتخزينها. ()

(ب) فكروا جواب:

- راجع السلوكيات السلبية في النشاط السابق، ثم اشرح لزميلك لماذا تعد سلبية، وكيف يمكن تغييرها لسلوكيات إيجابية.

(التفكير الناقد)

(ج) اقرأ وأجب:



- يُظهر الرسم البياني معدل الاستهلاك العالمي لمصادر الطاقة غير المتجددة منذ عام ١٨٠٠م حتى ٢٠١٩م.
- ١- متى بدأ استهلاك الطاقة غير المتجددة في التغيير السريع؟ في رأيك، لماذا تغير؟

٢- ما النتائج المترتبة على زيادة استخدام مصادر الطاقة غير المتجددة؟

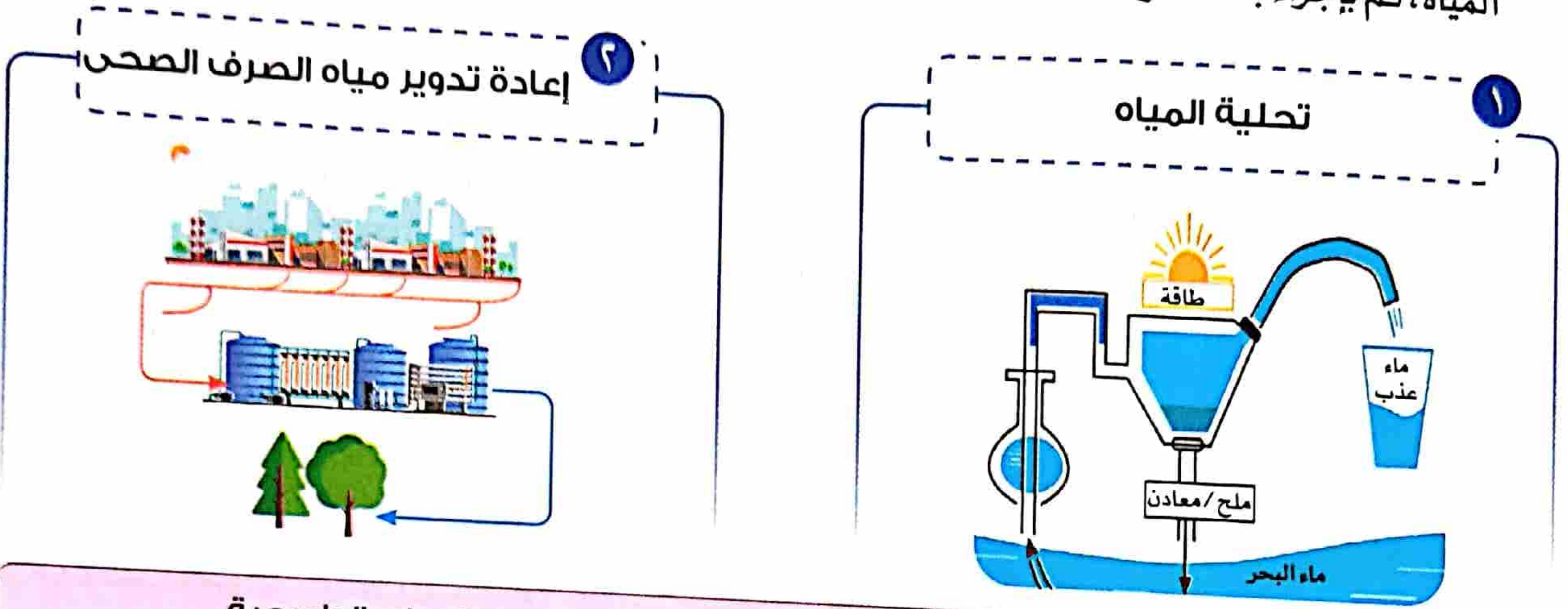
٣- اقترح بدائل لمصادر الطاقة غير المتجددة.

قيم نفسك

- أحدد المشكلات التي تتعرض لها بعض الموارد في بيئتي. جيد جدًا جيد بحاجة إلى مجهود أكبر
- أشرح أهمية الحفاظ على الموارد الطبيعية. جيد جدًا جيد بحاجة إلى مجهود أكبر

ابحث واكتب:

- في كل من الصورتين التاليتين خطة حكومية تهدف إلى استخدام الموارد الطبيعية لتأمين كميات أكبر من المياه، قم بإجراء بحث حول كل خطة منهما:



كيف يمكن استخدام الموارد الطبيعية من خلال هذه الخطة لمساعدتنا؟	الخطة
	تحلية المياه.
	إعادة تدوير مياه الصرف الصحي.

قيم نفسك • اقترح أكبر عدد من الوسائل والأساليب لترشيد استهلاك الموارد في بيتي. جيد جدًا جيد بحاجة إلى مجهود أكبر

استكشف وراجع

استكشف: اختر أحد الموارد الطبيعية في بيتك، وحدد أهميته لك وأهم المشكلات التي يتعرض لها والأساليب المبتكرة للمحافظة عليه وتنميته.

راجع:

- 1- ما السلوكيات التي يجب عليك الالتزام بها للمحافظة على الموارد ولعيش حياة مستدامة؟
- 2- فسّر اتجاه دول العالم حاليًا لاستخدام مصادر الطاقة المتجددة.

ملخص الدرس

الدرس الرابع



الموارد الطبيعية تنقسم إلى:

موارد متجددة

- لا تنفذ رغم استخدامها المستمر لها.
- مثل المياه والتربة والهواء.

موارد غير متجددة

- تنفذ باستخدامنا لها.
- مثل الموارد المعدنية ومصادر الطاقة الحفوية.
- تحتاج لآلاف السنين لتشكيلها.
- كمياتها محدودة.

• الحياة المستدامة ليست مسؤولية الحكومة وحدها، بل مسؤولية كل فرد في المجتمع.

المياه

- مورد طبيعي متجدد.

المحافظة عليها من التلوث:

الدولة:

- فرض العقوبات على كل من يلوث مياه نهر النيل.
- استخدام وسائل ري حديثة.

• توفير مصادر جديدة للمياه مثل حفر الآبار وبناء السدود.

الفرد:

- ترشيد استهلاك المياه وغلق صنابير المياه.

الطاقة

- اتجهت الدول لاستخدام مصادر الطاقة المتجددة لأنها طاقة نظيفة لا تلوث البيئة.

المحافظة عليها من التلوث:

الدولة:

• أنشأت مصر محطات توليد الكهرباء من الطاقة المتجددة مثل:

- محطة السد العالي - محطة الكريما - محطة الزعفران.

الفرد:

• إطفاء المصابيح والأجهزة الكهربائية واستخدام مصابيح موفرة للطاقة.

الهواء

- مورد طبيعي متجدد.

المحافظة عليه من التلوث:

الدولة:

- استخدام سيارات تعمل بالغاز الطبيعي بدلاً من البنزين.
- التوعية بضرورة تقليل الاعتماد على السيارات الخاصة.

الفرد:

- استخدام الدراجات بدلاً من السيارات.
- زراعة نباتات في البيئة المحيطة.

التربة

- مورد طبيعي مهم لزراعة المحاصيل.

- التربة تتعرض لأخطار، منها: التلوث والتجريف.

- الإفراط في زراعة المحاصيل المجهدة للتربة.

الدولة: تنصح المزارعين بـ:

- استخدام السماد العضوي.
- زراعة المحاصيل غير المجهدة للتربة.

جهود الدولة لتحقيق التنمية المستدامة:

- تعمل على تنفيذ أهداف خطة التنمية المستدامة التي أعدتها الأمم المتحدة لمساعدة البلدان على حماية مواردها.
- أطلقت مبادرة (اتحضر للأخضر) للحد من التلوث.
- المحافظة على البيئة - ترشيد استهلاك الغذاء والطاقة - التوعية بأهمية التشجير.



مجاب عنها

الدرس الرابع

نحو حياة مستدامة فى بلدنا



تدريب

السؤال الأول ضع علامة (✓) أمام العبارة الصحيحة، وعلامة (X) أمام العبارة غير الصحيحة:

- ١ مصادر الطاقة الحفرية تحتاج إلى فترة صغيرة لتكوينها فى باطن الأرض. ()
- ٢ إطفاء المصابيح غير المستخدمة يعد شكلاً من أشكال ترشيد استهلاك الطاقة. ()
- ٣ إلقاء المخلفات فى النيل مفيد للبيئة. ()
- ٤ مبادرة «اتحضر للأخضر» تدعو إلى التوعية البيئية وزراعة الأشجار. ()
- ٥ أنشأت الدولة محطة الزعفرانة لتوليد الكهرباء من الشمس. ()
- ٦ تتنوع الموارد الطبيعية المتجددة فى مصر ومنها البترول. ()

السؤال الثانى أكمل الجدول التالى:

حدد أوجه الشبه والاختلاف بين الموارد المتجددة وغير المتجددة مستخدماً بنك الكلمات:
(لا تنفذ - تنفذ - موارد طبيعية - التربة - المياه - البترول - الشمس - المنجنيز)

الموارد غير المتجددة	الموارد المتجددة	وجه المقارنة
		الشبه
		الاختلاف
		أمثلة

السؤال الثالث ضع دائرة حول الإجابة الصحيحة مما يلى:

- ١ أى من الموارد الطبيعية التالية يعتبر مورداً متجدداً؟ (الحديد - البترول - الماء - الفحم)
- ٢ أى من الصور التالية تمثل توليد الطاقة من الهواء؟



(د)



(ج)



(ب)



(أ)

- ٣ من الموارد الطبيعية غير المتجددة (الهواء - الماء - الفحم - الشمس)
- ٤ الهدف من استخدام السيارات التى تعمل بالغاز الطبيعى بدلاً من البنزين تقليل تلوث (الهواء - الأنهار - التربة - البحار)
- ٥ المورد الطبيعى المتجدد الذى لا ينفد باستخدام الإنسان له هو (الحديد - البترول - الشمس - المنجنيز)

السؤال الرابع صوب ما تحته خط:

- ١ محطة الزعفرانة تولد الكهرباء من الشمس.
- ٢ تنصح الدولة المزارعين باستخدام الأسمدة الكيميائية للحفاظ على التربة.
- ٣ اتجهت دول العالم إلى استخدام مصادر الطاقة المتجددة مثل الرياح والفحم.
- ٤ تولد الكهرباء في محطة كهرباء السد العالي من الرياح.
- ٥ أنشأت مصر محطة الكريما لتوليد الكهرباء من الرياح.

السؤال الخامس صل من العمود (أ) الاستخدام السلبي للموارد بالاستخدام الإيجابي للموارد في العمود (ب):

(ب)	(أ)
(أ) استخدام الأسمدة العضوية.	١- استخدام البنزين في السيارات.
(ب) استخدام لمبات موفرة للطاقة.	٢- استخدام الأسمدة الكيميائية.
(ج) شراء اللازم من الطعام.	٣- استخدام لمبات مستهلكة للطاقة.
(د) استخدام الغاز الطبيعي في السيارات.	٤- تخزين كميات كبيرة من الطعام.

السؤال السادس حدد المختلف في المجموعتين التاليتين:

١ الشمس - الرياح - البترول - المياه.

٢ الفحم - الغاز الطبيعي - البترول - التربة.

السؤال السابع أجب عما يأتي:

١ ما العلاقة بين الشمس والطاقة المتجددة؟

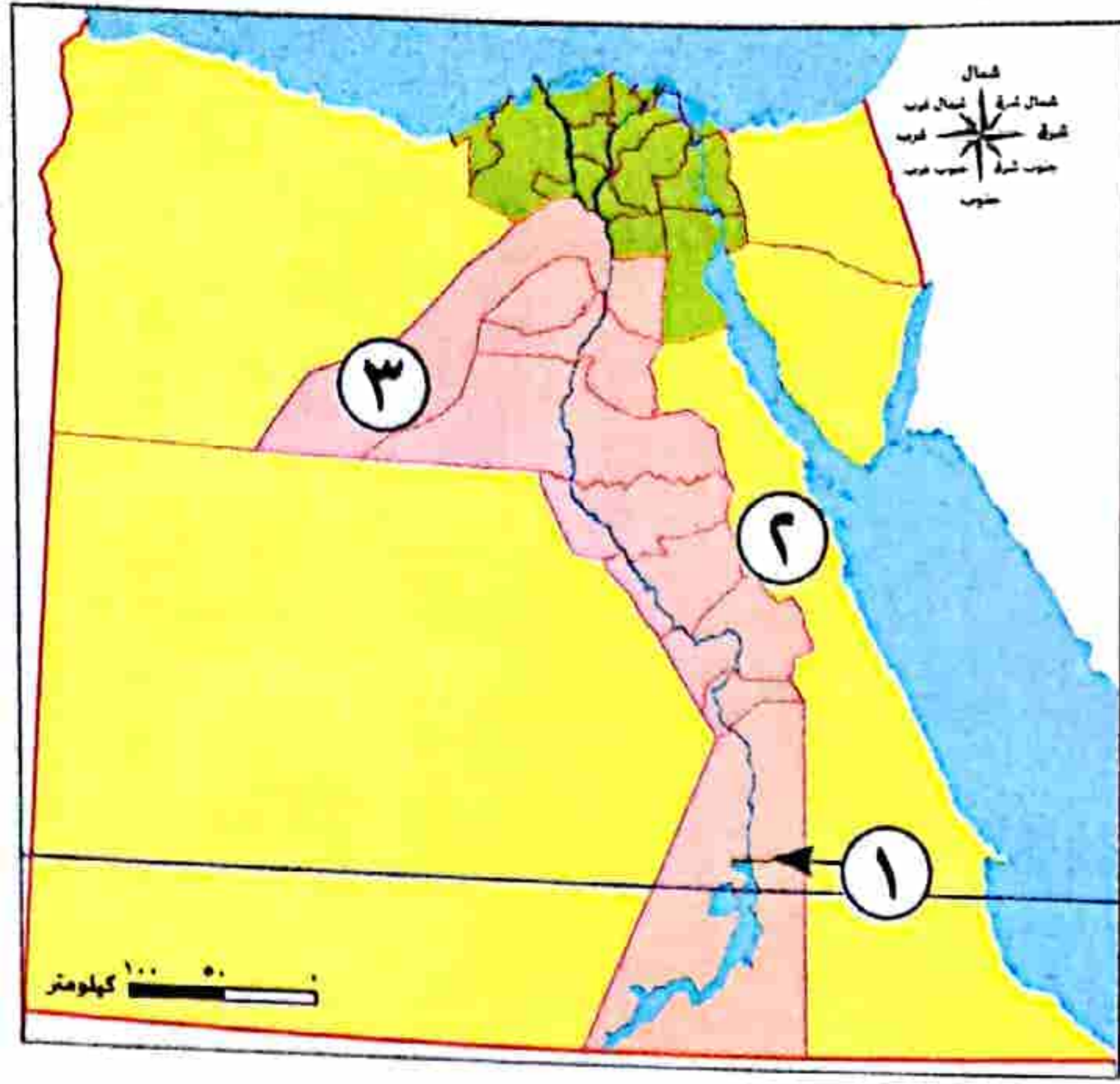
٢ اقترح إحدى الطرق للحفاظ على الموارد الطبيعية بالبيئة.

٣ بم تفسر: أسباب تلوث الهواء؟

٤ بم تفسر: أسباب تلوث المياه؟

٥ ما النتائج المترتبة على: سوء استخدامنا للموارد الطبيعية المختلفة؟

سؤال الأول: لاحظ الخريطة المقابلة واكتب مدلول الأرقام عليها: (القاهرة ٢٠٢٢)



١- يشير رقم (١) على الخريطة إلى محطة توليد الطاقة

الكهرومائية (البحيرة ٢٠٢٣)

٢- يشير رقم (٢) على الخريطة إلى محافظة يوجد بها محطة

الزعفرانة لتوليد الكهرباء

٣- يشير رقم (٣) على الخريطة إلى محافظة يوجد بها محطة

الكريمت لتوليد الكهرباء

سؤال الثاني: أكمل:

١- الموارد التي لا تنفذ بالرغم من استخدامها المستمر لها (الجيزة ٢٠٢٣)

٢- للحفاظ على الموارد الطبيعية للبيئة يجب ترشيد (المنوفية ٢٠٢٣)

٣- يعتبر الهواء والمياه والتربة من الموارد

سؤال الثالث: صوب ما تحته خط:

- أنشأت الدولة محطة الزعفرانة لتوليد الكهرباء من الشمس.

سؤال الرابع: صنف الموارد التالية إلى موارد متجددة وموارد غير متجددة:

- (الفحم - المياه - البترول - الهواء)

سؤال الخامس: اكتب كلمة (صواب) أمام العبارة الصحيحة، وكلمة (خطأ) أمام العبارة غير الصحيحة:

(المنوفية ٢٠٢٣) ()

(الأقصر ٢٠٢٣) ()

(الأقصر ٢٠٢٣) ()

(الشرقية ٢٠٢٣) ()

(الفيوم ٢٠٢٢) ()

(الشرقية ٢٠٢٢) ()

(الشرقية ٢٠٢٢) ()

١- تمتلك مصر مصادر متعددة لتوليد الطاقة.

٢- استخدام السيارات بدلًا من الدراجات يسهم في خفض نسب التلوث.

٣- تعتبر الشمس من مصادر الطاقة المهمة المتجددة في مصر.

٤- تتنوع الموارد الطبيعية المتجددة في مصر منها البترول والشمس.

٥- يتم توليد الطاقة الكهرومائية من السد العالي.

٦- كل الموارد الطبيعية لا تنفذ باستخدام الإنسان لها.

سؤال السادس: اختر الإجابة الصحيحة مما بين القوسين:

١- المورد الطبيعي المتجدد الذي لا ينفذ باستخدام الإنسان له

(الشمس - البترول - الحديد - المنجنيز) (أسيوط ٢٠٢٣)

(الشمس - المياه - الرياح - الوقود) (الدقهلية ٢٠٢٣)

(الكريمت - الزعفرانة - القاهرة - السد العالي) (القاهرة ٢٠٢٣)

(الرياح - الأنهار - الشمس - البترول) (المنوفية ٢٠٢٣)

٢- محطة الزعفرانة لتوليد الطاقة الكهربية من

٣- محطة لتوليد الكهرباء من المياه.

٤- الطاقة الكهرومائية مولدة من

٥- يتلوث الهواء بسبب

(دخان المصانع - الأسمدة الكيميائية والزراعية يؤدي إلى تلوث

٦- الإسراف في استخدام الأسمدة الكيميائية والزراعية يؤدي إلى تلوث

(البحار - التربة - الهواء - المحيطات) (الغربية ٢٠٢٣)

(الشرقية ٢٠٢٢)

(الأقصر ٢٠٢٣)

(الغربية ٢٠٢٣)

(الدقهلية ٢٠٢٣)

(الفيوم ٢٠٢٢)

(الشرقية ٢٠٢٣)

السؤال السابع: أجب عن الأسئلة التالية:

١- اكتب مقترحًا واحدًا لترشيد استهلاك المياه

٢- فسر: الموارد الطبيعية كالمياه والتربة والهواء لا تنفذ

٣- ما أهداف مبادرة (اتحضر للأخضر)؟

٤- حدد سببًا واحدًا لضرورة الاعتماد على الشمس والرياح في توليد الكهرباء

٥- اكتب دليلًا على صحة العبارة التالية: تتعرض التربة لأخطار متعددة



السؤال الأول: ضع دائرة حول الإجابة الصحيحة مما يلي:

١- أي من التالي يعد من مصادر الطاقة التي تحافظ على نظافة البيئة؟

(الفحم - الغاز - البترول - الرياح)

٢- للحفاظ على الموارد الطبيعية للبيئة يجب

(الإسراف في المياه - استهلاك الطاقة - استخدام الفحم - ترشيد الاستهلاك)

٣- لخفض نسبة التلوث تدعو الدولة إلى استخدام السيارات التي تعمل بالغاز الطبيعي بدلاً من

(الفحم - البنزين - الكهرباء - المازوت)

٤- الطاقة الكهرومائية مولدة من

(الرياح - الأنهار - الشمس - البترول)

٥- المورد الطبيعي المتجدد الذي لا ينفد باستخدام الإنسان له هو

(الحديد - الشمس - البترول - المنجنيز)

السؤال الثاني: (أ) أمامك مجموعة من محطات توليد الكهرباء، حدد الصورة المناسبة لها:

١- محطة توليد الكهرباء من الرياح.

(.....)

٢- محطة توليد الكهرباء من المياه.

(.....)

٣- محطة توليد الكهرباء من الشمس.

(.....)



(ج)



(ب)



(أ)

(ب) ما النتائج المترتبة على سوء استخدامنا للموارد المتجددة؟

السؤال الثالث: (أ) حدد المختلف في المجموعات التالية:

١- (الحديد - البترول - الفحم - الغاز الطبيعي).

٢- (الرياح - المياه - الفحم - الشمس).

٣- (أدخنة المصانع - عوادم السيارات - استخدام المبيدات الحشرية - حرق قش الأرز).

(ب) اقترح إحدى الطرق للحفاظ على البيئة من التلوث.





شخصيات مصرية مؤثرة



جمال حمدان

كان جمال حمدان عالماً جغرافياً، وكاتباً معروفاً بحبه الشديد لوطنه مصر وإخلاصه له.

مولده: ولد في محافظة القليوبية عام ١٩٢٨ م.

اهتم بـ:

- دراسة مصر؛ فكتب عن موقعها بالنسبة إلى العالم وخصائصها الجغرافية، وتاريخها، وحضاراتها.
- دراسة الجوانب السياسية والاقتصادية والاجتماعية لمصر. وذلك لتأثيرها في تشكيل شخصية مصر.

حياته:

- كرس حياته كلها للكتابة.
- ألف أكثر من ٢٥ كتاباً باللغتين العربية والإنجليزية.
- كما نُشرت له مقالات متعددة في الصحف والمجلات.
- أكثر كتبه شهرة كتابه الرائع «شخصية مصر» الذي احتاج لإتمامه إلى ١٠ سنوات من الجهد والعمل ونُشر عام ١٩٨٥ م، مما يدل على مثابرته من أجل تحقيق هدفه.

حصل على:

- العديد من الجوائز، وقد تم اختياره شخصية معرض القاهرة الدولي للكتاب الـ ٥١ لعام ٢٠٢٠ م؛ تقديراً لأعماله ومكانته كمفكر وعالم مصري قدير.

وفاته: • توفي جمال حمدان عام ١٩٩٣ م، وترك رصيماً علمياً لا يزال يتعلم منه الكثيرون.

افهم وطبق

(١) التفكير الناقد:

- ١- لماذا استمرت تأثير كتابات جمال حمدان في الحياة بمصر حتى اليوم؟ ناقش زميلاً لك في ذلك.
- ٢- فسّر لماذا اهتم جمال حمدان بدراسة الجوانب المختلفة لمصر.

(ب) تجربة شخصية:

- حدّد صفة مشتركة بينك وبين العالم جمال حمدان. كيف يمكنك الاستفادة من هذه الصفة لتحقيق أهدافك؟
- تم الحديث عن جمال حمدان في الوحدة الأولى الدرس الثالث (موقع مصر بالنسبة إلى العالم).



شخصيات مصرية مؤثرة

سيد درويش

كان سيد درويش مطربًا وملحنًا مصريًا، لحن وغنى العديد من الأغاني التي أصبحت جزءًا من التراث المصري، ولُقِّب بـ «أبو الموسيقى المصرية الشعبية».

مولده: ولد في محافظة الإسكندرية عام ١٨٩٢م.

حياته:

- عمل في شبابه في مجال البناء ليوفر المال لأسرته قبل أن تُكتشف مواهبه الموسيقية.
- عشق الموسيقى العربية القديمة، ومزجها بالفن الشعبي المصري (الفولكلور) والآلات الموسيقية الغربية ليؤلف ألحانًا ملهمة تجمع بين الأصالة والمعاصرة.
- اشتهرت موسيقاه بين الناس؛ بسبب موضوعاتها الاجتماعية والوطنية.

أفكاره:

- كان سيد درويش يرى أن: **الموسيقى وسيلة للتعبير عن المشاعر وليست فقط للترفيه.**
- قال عنه الموسيقار **محمد عبد الوهاب**: «سيد درويش هو الذي جعلني أستمع للغناء بحسى وعقلي».

أعماله:

- ألف سيد درويش خلال حياته العديد من الأغاني والمسرحيات الغنائية.
- كانت ألحان وأغاني سيد درويش تتصدر مظاهر الاحتفال في ثورة ١٩١٩م، مثل: «قوم يا مصري»، «أنا المصري كريم العنصرين»، وغيرها من أغانيه العظيمة الباقية حتى اليوم.
- ويُعد لحن أغنية «بلادى بلادى»، والتي أصبحت النشيد الوطنى المصرى، من أكثر أعماله شهرة.

وفاته: • توفي سيد درويش عام ١٩٢٣م، وترك تراثًا موسيقيًا وغنائيًا كبيرًا.



افهم وطبق

(١) التفكير الناقد:

- ١- فى رأيك، ما الإنجاز الأكثر أهمية لسيد درويش؟ دُل على إجابتك.
 - ٢- فى رأيك، كيف يمكن للموسيقى أن تؤثر فى الشعوب؟
- (ب) تجربة شخصية: صف شعورك عند سماعك النشيد الوطنى المصرى.
- تم الحديث عن الفنان سيد درويش فى الوحدة الأولى - الدرس الخامس: رموز بلدى.



السؤال الأول: أكمل العبارات الآتية بما يناسبها من كلمات:

- ١- البحر هو مساحة من الماء المالح من المحيط.
- ٢- تحيط بها المياه من ثلاث جهات.
- ٣- معظم الأراضي المصرية يسودها المناخ
- ٤- يمكننا قياس سرعة الرياح ب.....
- ٥- البيئة الزراعية في مصر توجد في وادي النيل و.....
- ٦- تنتشر على ساحل البحر الأحمر.....
- ٧- تقوم الزراعة في الصحراء الغربية اعتمادًا على المياه
- ٨- الحفاظ على الموارد الطبيعية لتلبية احتياجات الجيل الحاضر والقادم يطلق عليها

السؤال الثاني: اكتب كلمة (صواب) أمام العبارة الصحيحة، وكلمة (خطأ) أمام العبارة غير الصحيحة:

- ١- تلال المقطم هي المساحة الواسعة من الأرض المرتفعة مستوية أو شبه مستوية السطح. ()
- ٢- التلال أقل ارتفاعًا من الجبال. ()
- ٣- معرفة أحوال الطقس تساعدك في اتخاذ بعض القرارات اليومية. ()
- ٤- يعد بيان الهيئة العامة للأرصاد الجوية بانخفاض درجة الحرارة تنبؤًا بحالة الطقس. ()
- ٥- تعتمد الزراعة في البيئة الصحراوية على مياه نهر النيل. ()
- ٦- بحيرة ناصر موطن لكثير من الأسماك. ()
- ٧- تعد بحيرة البرلس من البحيرات العذبة. ()
- ٨- توجد جزيرة شدوان في البحر المتوسط. ()

السؤال الثالث: اختر الإجابة الصحيحة مما بين القوسين:

- ١- تتميز الصحراء الغربية بعدة ظاهرات تضاريسية أهمها
(البحيرات المالحة - البحر الأحمر - الشعاب المرجانية - بحر الرمال العظيم)
- ٢- تقع أرض شدوان بالكامل داخل البحر الأحمر وبذلك فهي تعد
(جزيرة - شبه جزيرة - هضبة - منخفضًا)
- ٣- ساعدنا اختراع الترمومتر على قياس
(كمية الأمطار - سرعة الرياح - اتجاه الرياح - درجة الحرارة)
- ٤- تسقط الأمطار في مصر.....
(طوال العام - شتاءً - صيفًا - ربيعًا)
- ٥- السد العالي يوجد في محافظة.....
(قنا - سوهاج - الأقصر - أسوان)
- ٦- تمتد الرمال السوداء على طول ساحل.....
(خليج العقبة - البحر الأحمر - خليج السويس - البحر المتوسط)

٧- منطقة تنتشر بها مناجم النحاس والذهب

(الصحراء الغربية - الصحراء الشرقية - شبه جزيرة سيناء - وادي النيل)

٨- أحد أسباب تلوث الهواء

(الصرف الصحي - الأسمدة الكيماوية - حرق قش الأرز - الصرف الزراعي)

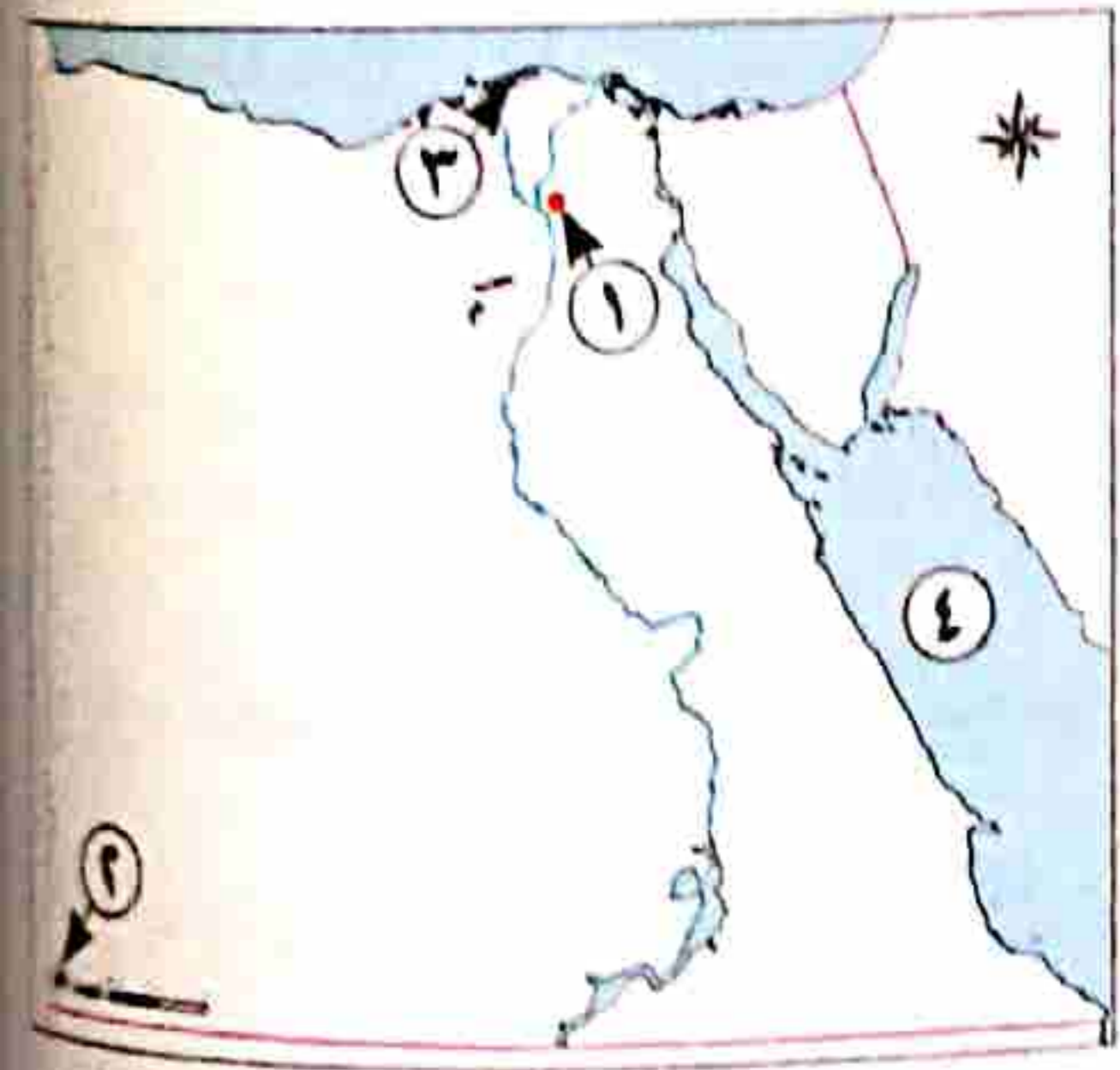
٩- الإسراف في استخدام الأسمدة الكيماوية في الزراعة يؤدي إلى تلوث

(الهواء - البحار - التربة - المحيطات)

السؤال الرابع: اكتب ما تشير إليه العبارات الآتية:

- ١- صحراء تقع شرق نهر النيل وتتميز بصخورها الصلبة وجبالها الشاهقة. (.....)
- ٢- أرض شديدة الارتفاع وبها قمة وجوانب منحدره. (.....)
- ٣- مساحة واسعة من الأرض مرتفعة مستوية أو شبه مستوية السطح. (.....)
- ٤- أرض منخفضة عن مستوى سطح البحر. (.....)
- ٥- بحيرة من أكبر البحيرات الصناعية في العالم. (.....)
- ٦- وصف حالة الجو في فترة زمنية قصيرة. (.....)
- ٧- مساحة من المياه المالحة أقل من المحيط. (.....)

السؤال الخامس: أمامك خريطة صماء لمصر، اكتب مدلول الأرقام عليها:



- ١- يشير رقم (١) إلى تلال
- ٢- يشير رقم (٢) إلى جبل
- ٣- يشير رقم (٣) إلى بحيرة
- ٤- يشير رقم (٤) إلى البحر

السؤال السادس: بم تفسر...؟

١- أهمية وجود سهول فيضية خصبة على جانبي نهر النيل

٢- تلوين منطقة جنوب غرب مصر باللون البنّي

٣- أهمية معرفة حالة الطقس اليومية.

٤- أسباب تنوع البيئات والموارد الطبيعية في مصر

٥- وجود زراعة في الصحراء الغربية

٦- أهمية الرمال البيضاء للاقتصاد المصري

٧- أسباب تلوث التربة في مصر

السؤال السابع: ما النتائج المترتبة على...؟

١- مساحة مصر وتنوع مظاهر السطح بها

٢- وجود مياه جوفية في الصحراء الغربية

٣- حرق قش الأرز

السؤال الثامن: ما العلاقة بين...؟ حالة الطقس والأقمار الصناعية

السؤال الأول: أكمل العبارات الآتية بما يناسبها من كلمات:

١- من البحيرات المالحة على البحر المتوسط

٢- يسود معظم الأراضي المصرية المناخ

السؤال الثاني: اكتب كلمة (صواب) أمام العبارة الصحيحة وكلمة (خطأ) أمام العبارة غير الصحيحة:

١- تقوم الزراعة في الصحراء الغربية اعتمادًا على المياه الجوفية.

٢- يلون البحر المتوسط على الخريطة باللون الأخضر.

٣- تعد بحيرة ناصر أكبر بحيرة صناعية في العالم.

٤- تنتشر مناجم الذهب والنحاس في الصحراء الغربية.

السؤال الثالث: اختر الإجابة الصحيحة مما بين القوسين:

١- تستخدم في صناعة الزجاج

(الرمال البيضاء - الفحم - البترول - الرمال السوداء) (الإسكندرية ٢٠٢٣)

٢- لمعرفة درجة الحرارة اليوم فإننا نستخدم

(الترمومتر - دارة الرياح - الأنيمومتر - جوب الرياح) (الشرقية ٢٠٢٣)

٣- مساحة واسعة من الماء المالح ذات أعماق كبيرة

(النهر - المحيط - الجزيرة - البحيرة) (المنيا ٢٠٢٣)

٤- تقع أرض شدوان بالكامل داخل البحر الأحمر، وهي بذلك تعد

(شبه جزيرة - جزيرة - هضبة - منخفضًا) (القليوبية ٢٠٢٣)

السؤال الرابع: ما المقصود بـ...؟ - النهر

(القاهرة ٢٠٢٣)

السؤال الخامس: أمامك خريطة لمصر، ادرسها، ثم اكتب ما تشير إليه الأرقام:



(الإسكندرية ٢٠٢٣)

(الأقصر ٢٠٢٣)

(البحيرة ٢٠٢٣)

(الدقهلية ٢٠٢٣)

(الأقصر ٢٠٢٣)

١- يشير رقم (١) إلى

٢- يشير رقم (٢) إلى البيئة

٣- يشير رقم (٣) إلى جبل

٤- يشير رقم (٤) إلى البيئة

السؤال السادس: إلى أي البيئات تنتمي الظواهر الآتية؟

١- بحر الرمال العظيم

٢- الشعاب المرجانية

السؤال السابع: اجب عن الأسئلة الآتية:

١- دلل على: تنوع مظاهر سطح مصر

٢- اكتب نتيجة واحدة: تترتب على حرق قش الأرز

٣- حدد أوجه الشبه بين: الطقس والمناخ

(البحيرة ٢٠٢٣)

(المنوفية ٢٠٢٣)

(المنوفية ٢٠٢٣)



السؤال الأول: ضع دائرة حول الإجابة الصحيحة مما يلي:

١- جبل سانت كاترين يقع ضمن محافظات

(الوجه البحرى - الوجه القبلى - الحدود الصحراوية - الساحلية)

٢- البيانات الدقيقة فى خرائط الطقس توفرها

(الأقمار الصناعية - الصور الجوية - برامج التليفزيون - برامج الراديو)

٣- كيس من القماش يستخدم فى تحديد اتجاه الرياح

(ميزان الرياح - دوارة الرياح - جورب الرياح - مقياس الرياح)

٤- السد العالى يوجد فى محافظة

(سوهاج - قنا - الأقصر - أسوان)

٥- تحيط المياد بشبه جزيرة سيناء من جهات.

(أربع - خمس - ثلاث - ست)

السؤال الثانى: صوب ما تحته خط:

١- أرض تحيط بها المياد من ثلاث جهات تسمى الجزيرة.

(.....)

٢- تدخل الرمال السوداء فى صناعة الخلايا الشمسية.

(.....)

٣- مناجم الذهب تنتشر فى الدلتا.

(.....)

٤- بحيرة البرلس تعد أكبر بحيرة صناعية فى العالم.

(.....)

٥- تنتشر الشعاب المرجانية فى البيئة الزراعية.

(.....)

السؤال الثالث: (أ) صنف المظاهر الطبيعية التالية فى الجدول التالى:

(وادي النيل - سانت كاترين - الجلف الكبير - ساحل البحر المتوسط - العوينات)

سهول

هضاب

جبال

(ب) اذكر اثنين من أهم الموارد الطبيعية للبيئة الصحراوية.



السؤال الأول : ضع دائرة حول الإجابة الصحيحة مما يلي:

- ١- المرتفعات والجبال الشاهقة تنتشر في (الصحراء الشرقية - الصحراء الغربية - الوادي - الدلتا)
- ٢- الزراعة في الصحراء الغربية تقوم على مياه (جوفية - الأنهار - البحار - الأمطار)
- ٣- أي من الصحارى التالية تعتمد فيها الزراعة على المياه الجوفية؟
(الصحراء الشرقية - الصحراء الغربية - الصحراء البيضاء - الصحراء السوداء)
- ٤- أكبر البحيرات الصناعية الموجودة في العالم بحيرة (المنزلة - ناصر - البردويل - قارون)
- ٥- الشعاب المرجانية توجد في مصر في منطقة (البحر الأحمر - البحر المتوسط - نهر النيل - بحيرة ناصر)

السؤال الثاني : ماذا أكون...؟

- ١- أطول أنهار العالم. (.....)
- ٢- أكبر بحيرة صناعية بالعالم. (.....)
- ٣- شبه جزيرة يوجد بها معدن المنجنيز. (.....)
- ٤- أدخل في صناعة الزجاج. (.....)
- ٥- أدخل في صناعه الخزف. (.....)

السؤال الثالث: (أ) صل كل عنصر من عناصر المناخ في العمود (أ) بأداة قياسه في العمود (ب):

(ب)	(أ)
(أ) الأنيمومتر	١- الحرارة.
(ب) دوارة الرياح	٢- المطر.
(ج) ميزان الحرارة	٣- اتجاه الرياح.
(د) مقياس المطر	٤- سرعة الرياح.

(ب) اشرح أسباب تنوع البيئات الطبيعية في مصر.

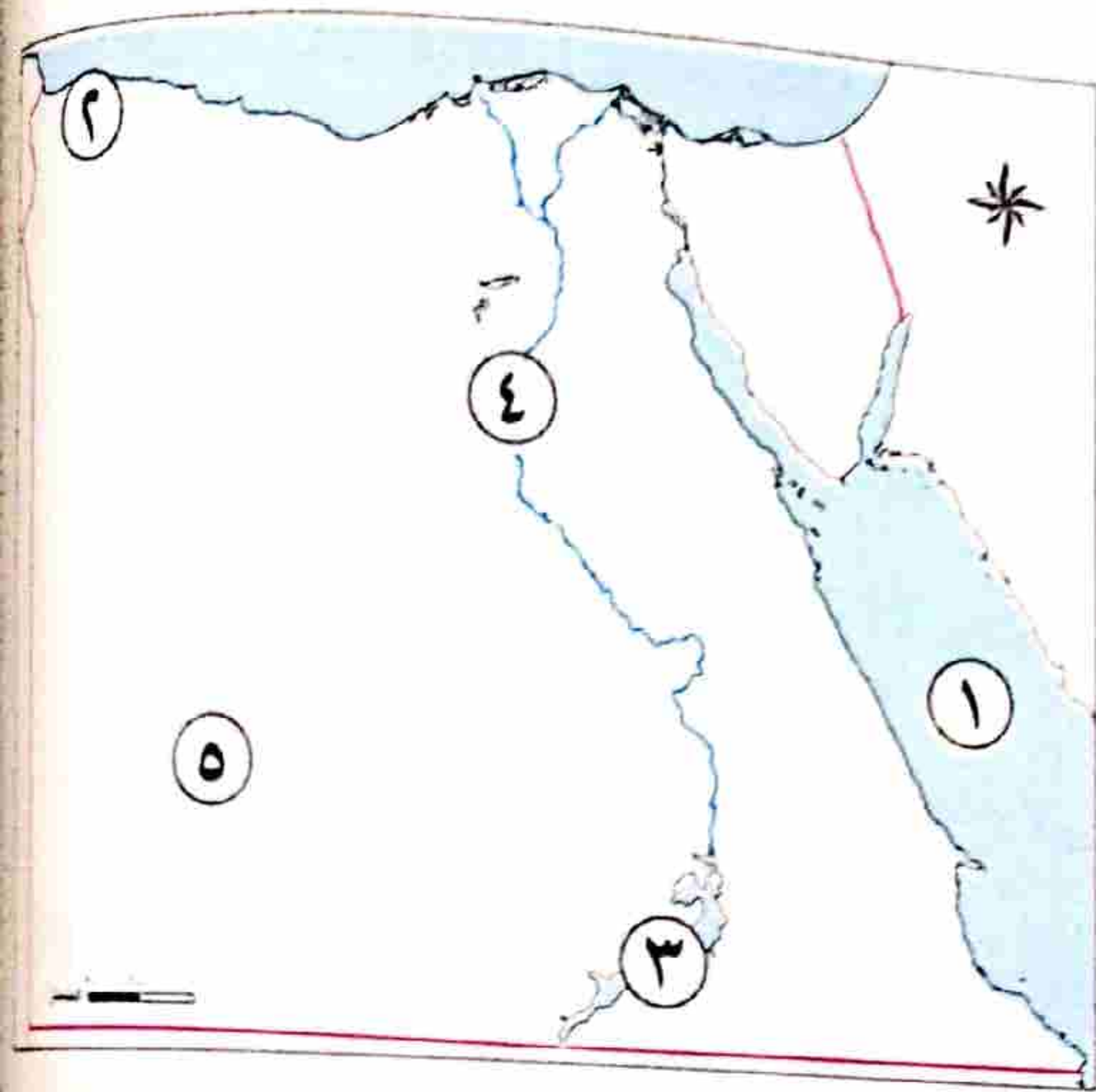
.....

.....





السؤال الأول: لاحظ الخريطة المقابلة واكتب مدلول الأرقام عليها:



- ١- يشير رقم (١) إلى
- ٢- يشير رقم (٢) إلى البيئة
- ٣- يشير رقم (٣) إلى بحيرة
- ٤- يشير رقم (٤) إلى مورد مياه عذبة
- ٥- يشير رقم (٥) إلى البيئة

السؤال الثاني: (أ) ضع دائرة حول الإجابة الصحيحة مما يلي:

- ١- يلون جبل سانت كاترين على الخريطة باللون (الأخضر - الأزرق - الأصفر - البني)
- ٢- بحر الرمال العظيم يوجد في (الصحراء الشرقية - الصحراء الغربية - شبه جزيرة سيناء - دلتا النيل)
- ٣- الطقس والمناخ يختلفان في (درجات الحرارة - سرعة الرياح - كمية المطر - الفترة الزمنية)
- ٤- تنتشر الشعاب المرجانية في البيئة (التجارية - الصناعية - الصحراوية - الساحلية)

(ب) حدد سببًا واحدًا لتلوث المياه.

السؤال الثالث: (أ) اكتب كلمة (صواب) أمام العبارة الصحيحة، وكلمة (خطأ) أمام العبارة غير الصحيحة

- ١- منخفض القطارة على الخريطة يلون باللون الأصفر. (.....)
- ٢- تعتمد الزراعة في الصحراء على مياه نهر النيل. (.....)
- ٣- ينتشر معدن الذهب في الصحراء الشرقية. (.....)
- ٤- يتغير المناخ بشكل يومي. (.....)

(ب) اكتب نتيجة واحدة ترتبت على وجود المياه الجوفية في الصحراء الغربية.

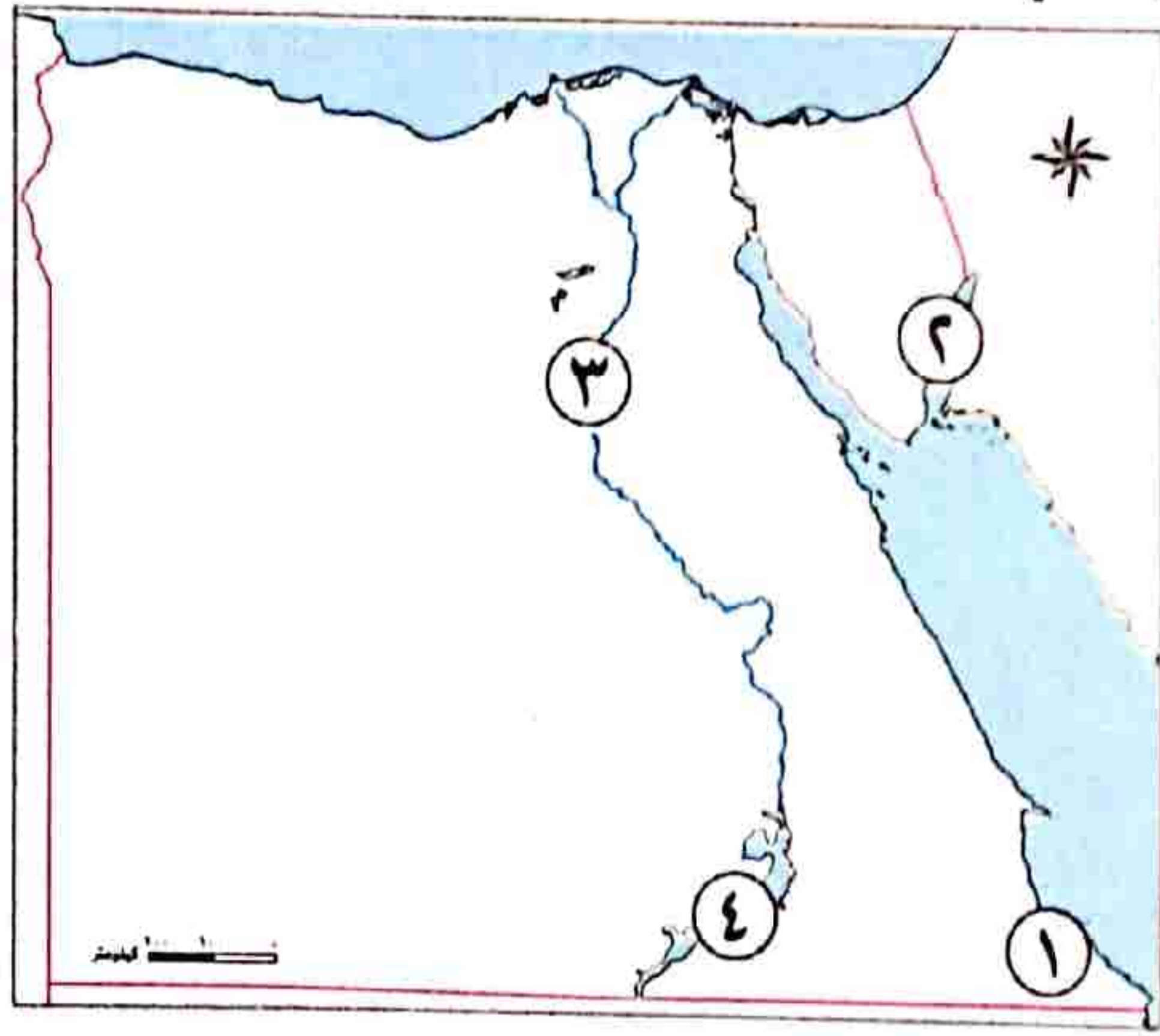




السؤال الأول: اختر الإجابة الصحيحة:

- ١- أرض شديدة الارتفاع تتميز بوجود قمة وجوانبها شديدة الانحدار..... (السهل - الهضبة - الجبل - الواحة)
- ٢- لقياس كمية الأمطار المتساقطة يستخدم
- (ميزان الحرارة - مقياس المطر - دوارة الرياح - الأنيمومتر)
- ٣- توجد الصحراء البيضاء والسوداء بداخل الصحراء (الشرقية - العربية - المغربية - الغربية)
- ٤- تعتمد الزراعة في الصحراء الغربية على المياه
- (البحيرات - الأنهار - البحار - الجوفية)
- ٥- تسقط الأمطار في مصر.....
- (طوال العام - شتاءً - صيفاً - ربيعاً)

السؤال الثاني: (أ) أمامك خريطة لمصر. اكتب ما تشير إليه الأرقام:



- ١- جبل
- ٢- خليج
- ٣- نهر
- ٤- بحيرة

(ب) قارن بين السهل الساحلي والسهل الفيضي من حيث المفهوم، واذكر مثلاً لكل منهما:

السهل الفيضي	السهل الساحلي	وجه المقارنة
.....	المفهوم
.....	المثال

السؤال الثالث: اكتب كلمة (صواب) أمام العبارة الصحيحة، وكلمة (خطأ) أمام العبارة غير الصحيحة:

- ١- النهر مجرى مائي مالح. (.....)
- ٢- مناخ مصر معتدل وممطر في الشتاء. (.....)
- ٣- بحيرة ناصر أصغر بحيرة صناعية في العالم. (.....)
- ٤- شبه جزيرة سيناء تحيط بها المياه من ثلاث جهات. (.....)
- ٥- المناخ هو حالة الجو لفترة زمنية قصيرة. (.....)



المفردات

(أ) اكتب وقارن:

- ١- الجبل والتل.
- ٢- المصادر الأولية والمصادر الثانوية.
- ٣- الطقس والمناخ.
- ٤- العَلم والشعار.
- ٥- الموارد المتجددة والموارد غير المتجددة.

أسئلة على الخرائط والصور

(ب) اقرأ وأجب:

١- استخدم الاتجاهات الأصلية والاتجاهات الفرعية لتحديد موقع محافظتك على خريطة مصر.

٢- انظر إلى خريطة مستويات ارتفاعات سطح مصر، ثم اذكر مكانين يقعان على مستوى مرتفع ومكانين آخرين يقعان على مستوى منخفض.

٣- لاحظ الصورة التي أمامك، وحدد المشكلة التي تشير إليها، ثم اقترح حلولاً لهذه المشكلة.

التفكير الناقد

(ج) فكّر وأجب:

- ١- حدد النتائج التي ترتبت على حفر قناة السويس.
- ٢- في رأيك، هل من الممكن زيادة مساحة الأراضي الزراعية في مصر؟ برر إجابتك.
- ٣- حدد الموارد المتاحة في بيتك، ووضح كيف يمكننا الاستفادة منها على نحو أفضل؟
- ٤- ترى عَلم وطننا الحبيب مصر يرفرف في أماكن متعددة. في رأيك، ما سبب ذلك؟
- ٥- اشرح دورك كمواطن مسنول للمحافظة على الموارد الطبيعية المتجددة وغير المتجددة.

السؤال الرئيس

(د) اكتب ملخصاً للتعريف ببلدك مصريتضمن: موقعها، وبيئاتها المختلفة ومظاهرها الطبيعية ومواردها وروموزها الوطنية.

نشاط

(هـ) صمم نشرة دعائية توضح مزايا موقع مصر ومناخها ومظاهر سطحها لجذب السياح لزيارتها.

الموارد والتنمية



مقدمة المحور الثاني

• كيف تستثمر الدولة الموارد في إقامة العديد من الصناعات التراثية في مصر وجهود الدولة في تطويرها.

سوف يوضح هذا المحور:

- كيف تم استثمار مداخلات المصريين من خلال قيام بنك مصر بدعم العديد من المشروعات.
- الخدمات التي تقدمها الدولة للمواطنين وكيفية حماية الأطفال؛ وذلك لتحقيق مستوى معيشة يتفق مع متطلبات التنمية المستدامة.

السؤال الرئيسي

كيف تستثمر الدولة موارد وطننا الحبيب مصر؟ وما الخدمات التي تقدمها لك؟ وما مسؤولياتك نحوها؟

الموارد والخدمات في بلدنا



الدرس الأول: الحرف التراثية

الدرس الثاني: المستثمر الصغير

الدرس الثالث: معاً لحياة أفضل

الدرس الرابع: حقوق الأطفال

شخصيات مصرية مؤثرة: طه حسين - محمد طلعت حرب باشا

المفاهيم الرئيسية:

- استثمار
- ادخار
- حاجات
- رغبات
- البنك
- الاستهلاك
- سلع
- خدمات

أبرز المواقع والشخصيات:

- منظمة اليونسكو
- معرض تراثنا
- قرية الحرابية
- شارع الخيامية
- بنك مصر
- الأمم المتحدة
- طه حسين
- مدينة الجلود في «الروبيكي»
- محمد طلعت حرب باشا



الحرف التراثية



تاريخ الحرف اليدوية

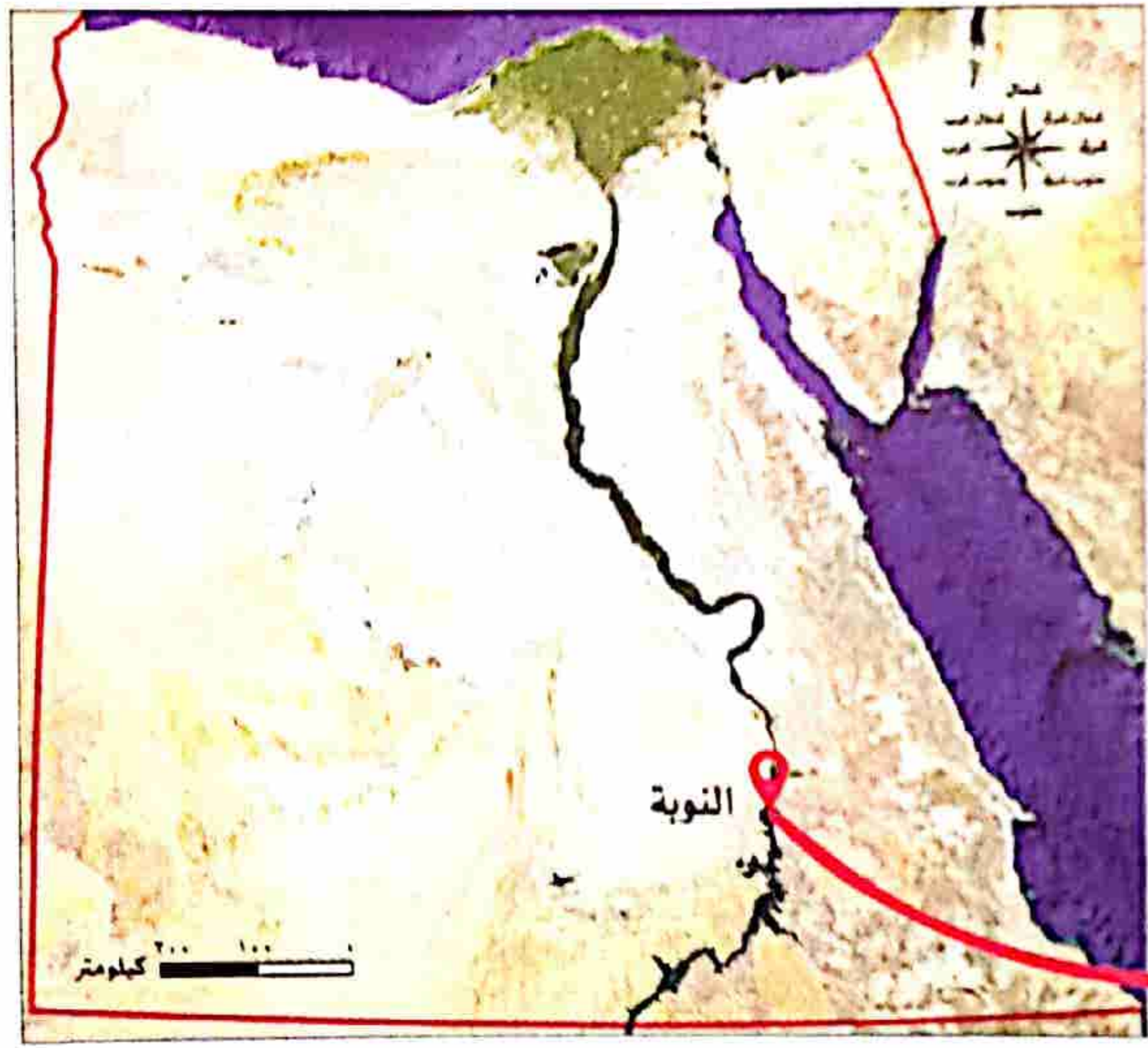
تفاعل

تزرخ مصر بالعديد من الحرف اليدوية التراثية منذ القدم. واشتهرت بصناعاتها الماهرة الذين أبدعوا في حرف عديدة، مثل (صناعة الزجاج والخيامية والفخار والسجاد اليدوي والمشغولات الذهبية والنحاسية والتطريز) وغيرها. ما الحرف التراثية الموجودة في محافظتك؟ لماذا تعتقد أنها ظلت موجودة حتى الآن؟

تعلم

ما المقصود بالحرف اليدوية التراثية؟

الحرف اليدوية التراثية هي الصناعات المعتمدة على الأيدي العاملة، وقد عرفتها مصر منذ القدم.



1 تعيش أمينة في منزل نوبى جميل يتميز بالوان وتصميمات رائعة.



تقع النوبة في محافظة أسوان جنوب مصر

2 يوجد في المنزل العديد من منتجات الحرف التراثية مثل:

الأطباق والسلال الملونة

التي أنتجتها والدتها من الخوص الذى يصنع من أوراق النخيل.



السجاد اليدوى

برسوماته البديعة التى نسجها والدها على النول اليدوى.



القلة

الموجودة فى الشرفة.



3 تحرص والدة أمينة على تعليم ابنتها العديد من الحرف التراثية للمشاركة فى معرض تراثنا لبيع منتجاتهم.

سؤال

أكمل العبارة الآتية:

- النوبة تقع فى محافظة جنوب مصر.

أنواع الحرف والصناعات التراثية في مصر

تتنوع الحرف والصناعات التراثية في مصر، حيث توجد:

صناعة النسيج والسجاد اليدوي

- من الحرف المدرجة على **قائمة التراث العالمي** في منظمة اليونسكو.
- يستخدم العمال معرفتهم الموروثة ومواهبهم الفنية لإنتاج منسوجات مطرزة.
- يعتمد العمال في صناعتهم على بعض الخامات مثل: **(الكتان - القطن - الصوف - الحرير)**
- وتعد **قرية الحرائية** في الجيزة مقصدًا لآلاف السائحين لتمييزها بهذه الصناعة.



الحرف والصناعات التراثية في مصر

صناعة الفخار

- من أقدم الصناعات اليدوية.
- تنتشر هذه الحرفة في العديد من القرى المصرية.
- تعتمد على الإبداع والإحساس الفني للصانع.
- يقوم الصانع بتشكيل طين الفخار بيديه ويتركه ليجف ثم يضعه في فرن خاص.



صناعة الخيامية

- من الحرف اليدوية.
- يستخدم فيها الصانع الإبرة والخيط لإنتاج قطع فنية من الخيام.
- تتركز في شارع الخيامية **بمنطقة الأزهر** في القاهرة.



صناعة الزجاج

- من الصناعات القديمة.
- يبدع الصانع في صناعة الزجاج وزخرفته في العديد من الأماكن مثل: **قرية (جراح)** في محافظة الدقهلية.



قائمة التراث العالمي

هي معالم تقوم لجنة التراث العالمي في اليونسكو بترشيحها؛ ليتم وضعها في برنامج مواقع التراث الدولية مثل المدن الأثرية.

أهمية الحرف التراثية

للحرف التراثية أهمية في دعم الاقتصاد المصري، حيث إنها:

تدعم السياحة المستدامة، حيث يقبل السائحون على شراء منتجات الحرف التراثية.

تساعد في حماية البيئة، حيث تستخدم بعض المخلفات في صناعة بعض منتجات الحرف التراثية.

توفر فرص عمل للشباب.

• السياحة المستدامة

هي السياحة التي تلبى احتياجات السياح ومجتمعات البلد المضيف للسياح دون الإضرار بالبيئة.



• جهود الدولة في إحياء منتجات الحرف التراثية

تبذل الدولة جهودًا كبيرة من أجل إحياء منتجات الحرف التراثية، منها:

- رعاية مصالح العمال.
- إعداد برامج تدريبية لتعليمهم المهارات الخاصة ببعض الحرف.
- تسويق المنتجات من خلال المهرجانات والاحتفالات السنوية، مثل: معرض تراثنا للحرف اليدوية.

افهم وطبق

(أ) فكرواكتب:

- 1- في رأيك، لماذا تُعتبر الحرف التراثية مهمة؟
- 2- تُعتبر الاحتفالات والمهرجانات السنوية وسيلة رائعة لإحياء الحرف التراثية. ما الطرق الأخرى التي يمكن اتباعها لإحياء هذه الحرف؟
- 3- ما الحرفة التراثية التي تتمنى أن تتعلمها؟ ولماذا؟

(ب) ابحث وارسم:

اختر إحدى الحرف التراثية واستخدم شبكة المعلومات الدولية (الإنترنت) لجمع معلومات عن تطورها عبر الزمن، ثم ارسم مخططًا زمنيًا لمراحل تطورها.

(ج) ابحث واستنتج:

أجر بحثًا عن الحرف التراثية التي تشتهر بها محافظتك، وأكمل الجدول.

محافظتي	الحرف التراثية التي تشتهر بها محافظتي	في أي أماكن يمكن مشاهدتها؟

قيم نفسك

- أوضح كيف يمكن للحرف اليدوية التراثية أن تدعم الاقتصاد المصري.
 - أوضح جهود الدولة في إحياء الحرف التراثية.
- جيد جدًا جيد بحاجة إلى مجهود أكبر
- جيد جدًا جيد بحاجة إلى مجهود أكبر

مدينة الجلود فى الروبيكى

أنشأتها الدولة فى مدينة بدر فى القاهرة لتشجيع صناعة الجلود:

صناعة الجلود

- تعد من أهم الحرف اليدوية التراثية فى مصر.
- ساهمت هذه الصناعة فى ازدهار الاقتصاد المصرى بدرجة كبيرة.

مدينة الروبيكى صديقة للبيئة

- تضم مناطق لإنتاج وفحص المنتجات الجلدية؛ للتأكد من جودتها.
- تعد «الروبيكى» مدينة صديقة للبيئة، حيث يتم إعادة تكرير مياه الصرف الصحى واستخدامها لرى الأشجار الموجودة بالقرب من هذا المكان.



متحف مدينة الروبيكى

- عندما تذهب لزيارة هذه المدينة تذكر زيارة متحف المنتجات الجلدية التراثية هناك؛ حيث يمكنك مشاهدة مراحل تطور هذه الصناعة فى مصر عبر العصور.

الحرفيون

- يحرص الحرفيون على مواكبة هذه المنتجات للعصر الحديث.
- لذلك يسعون إلى ابتكار الألوان والتصاميم الجديدة باستمرار.
- يشارك الصناع فى ورش عمل وتدريبات متخصصة لهذه الحرفة؛ مما يساعدهم على الحفاظ على مستوى عالٍ لجودة المنتجات.

افهم وطبق

أجب عن الأسئلة الآتية:

- 1- دُلّ على جهود الدولة لدعم الحرف اليدوية التراثية والحرفيين.
- 2- ما أهمية إجراء دورات تدريبية للحرفيين؟
- 3- فسّر أهمية إنشاء مدن متخصصة لبعض الصناعات.

قيم نفسك

• أوضح جهود الدولة فى إحياء الحرف التراثية. جيد جدًا جيد بحاجة إلى مجهود أكبر

استكشف وراجع

استكشف:

التكامل مع تكنولوجيا المعلومات والاتصالات:

استخدم شبكة المعلومات الدولية (الإنترنت) وشاهد فيلمًا عن الحرفة اليدوية المفضلة لديك، ثم صِف ما شاهدته، وما الذى أثار إعجابك بها؟ راجع:

- 1- اقترح أفكارًا لتطوير منتجات الحرف التراثية.
- 2- وضح كيف يمكن أن تساهم التكنولوجيا فى تطوير بعض الحرف التراثية.



ما أنواع الحرف والصناعات التراثية في مصر؟

صناعة الفخار

- أقدم صناعة يدوية، وتنتشر في العديد من القرى المصرية.
- يقوم الصانع بتشكيل طين الفخار بيديه.

صناعة النسيج والسجاد اليدوي

- مدرجة على قائمة التراث العالمي.
- يعتمد العمال على بعض الخامات مثل الكتان والقطن.
- قرية الحراية مقصد لكثير من السائحين؛ لتمييزها بهذه الصناعة.

الحرف والصناعات التراثية في مصر

صناعة الخيامية

- حرفة يدوية يستخدم فيها الصانع الإبرة والخيط لإنتاج قطع فنية من الخيام.
- تتركز في شارع الخيامية بمنطقة الأزهر في القاهرة.

صناعة الزجاج

- صناعة قديمة.
- يبدع الصناع في زخرفة وصناعة الزجاج.
- توجد في أماكن عديدة مثل قرية الجراح في محافظة الدقهلية.

مدينة الجلود في الروبيكي:

- أنشأتها الدولة في مدينة بدر.
- تعد من أهم الحرف التراثية في مصر وساهمت في ازدهار الاقتصاد المصري.
- تضم مناطق لإنتاج وفحص المنتجات الجلدية للتأكد من جودتها.
- مدينة صديقة للبيئة لإعادة تكمير مياه الصرف الصحي.
- يوجد بها متحف للمنتجات الجلدية التراثية.
- يحرص الحرفيون على مواكبة منتجات العصر الحديث ويشاركون في ورش عمل وتدريبات متخصصة لهذه الحرفة.

جهود الدولة في إحياء منتجات الحرف التراثية

- رعاية مصالح العمال.
- إعداد برامج تدريبية لتعليمهم المهارات الخاصة ببعض الحرف.
- تسويق المنتجات من خلال المهرجانات والاحتفالات السنوية مثل معرض تراثنا للحرف اليدوية.

أهمية الحرف التراثية

- للحرف التراثية أهمية في دعم الاقتصاد المصري حيث إنها:
- توفر فرص عمل للشباب.
- تساعد في حماية البيئة حيث تستخدم بعض المخلفات في صناعة بعض الحرف اليدوية.
- تدعم السياحة المستدامة.



السؤال الأول

أكمل العبارات الآتية بما يناسبها من كلمات:

- ١ أقدم الصناعات اليدوية وتنتشر في العديد من القرى المصرية هي صناعة
- ٢ القطن من الخامات التي تدخل في صناعة
- ٣ مدينه أنشأتها الدولة لتشجيع صناعة الجلود
- ٤ تنتشر صناعة الفخار في البيئة
- ٥ السياحة التي تلبى احتياجات السياح ومجتمعات البلد المضيف للسياحة هي
- ٦ إحدى الحرف التراثية في منطقة الأزهر
- ٧ تنتشر صناعة الزجاج في مصر بمحافظة
- ٨ إحدى الحرف التراثية المدرجة على قائمة التراث العالمي لليونسكو
- ٩ إحدى الحرف التراثية التي يُستخدم الطين في صناعتها

المستوى الأول

السؤال الثاني ضع علامة (✓) أمام العبارة الصحيحة، وعلامة (X) أمام العبارة غير الصحيحة:

- ١ صناعة السيارات من الحرف اليدوية التي توجد في مصر. ()
- ٢ الأطباق والسلال الملونة تصنع من الخوص. ()
- ٣ صناعة الزجاج تتركز في شارع الخيامية في منطقة الأزهر. ()
- ٤ الحرف والصناعات التراثية انتشرت في مصر حديثاً. ()
- ٥ الحرف التراثية لها أهمية في دعم الاقتصاد المصري. ()
- ٦ صناعة الفخار من الصناعات التي وضعتها منظمة اليونسكو على قائمة التراث العالمي. ()
- ٧ يعد معرض تراثنا دليلاً على اهتمام الدولة بإحياء الحرف التراثية. ()

السؤال الثالث صوب ما تحته خط:

- ١ قامت الدولة بإنشاء مدينة الروبيكي لتشجيع صناعة النسيج. ()
- ٢ الحرف التراثية من أهميتها تقليل فرص عمل الشباب. ()
- ٣ صناعة الزجاج تم إدراجها ضمن قائمة التراث العالمي. ()

المستوى الثاني




السؤال الرابع ضع دائرة حول الإجابة الصحيحة مما يلي:

- ١ قرية الحرائية تعد مقصدًا لكثير من السياح لتمييزها بصناعة (النسيج - الزجاج - الفخار - الخيامية)
- ٢ الصورة التي أمامك تمثل إحدى الصناعات التراثية وهي صناعة
(الفخار - السجاد اليدوي - الزجاج - المشغولات النحاسية)
- ٣ أى الموارد الطبيعية الآتية يدخل فى صناعة الزجاج؟
(الحديد - الرمال - التربة - النحاس)
- ٤ الحرف التراثية تساعد فى دعم الاقتصاد المصرى من خلال توفير
(فرص عمل - رعاية اجتماعية - فرص دراسية - رعاية صحية)
- ٥ أى من المواد الخام التالية يدخل فى صناعة النسيج؟ (القطن - الخوص - القش - الرمال)
- ٦ صناعة السجاد اليدوي تنتشر فى محافظة (القاهرة - الجيزة - الدقهلية - أسوان)
- ٧ الحرفة التي يوجد شارع باسمها فى محافظة القاهرة (النسيج - الخيامية - السجاد اليدوي - الزجاج)
- ٨ من الحرف التراثية المدرجة على قائمة التراث العالمى لليونسكو
(ورق البردى - السجاد اليدوي - الفخار - الزجاج)
- ٩ إذا أردت شراء العديد من منتجات الحرف التراثية فعليك زيارة معرض
(ديارنا - الكتاب - تراثنا - الملابس)

السؤال الخامس اكتب ما تشير إليه العبارة الآتية:

- صناعات تعتمد على الأيدي العاملة وقد عرفتها مصر منذ القدم. (.....)

السؤال السادس صل صور الصناعات من العمود (أ) بما يناسبها من موارد فى العمود (ب):

(ب) الموارد	(أ) الصناعات
(أ) رمال	١- 
(ب) كتان	٢- 
(ج) طين	٣- 

السؤال السابع فسر:

- أهمية الحرف التراثية.

السؤال الأول: اختر الإجابة الصحيحة مما بين القوسين:

- ١- من أمثلة المنتجات اليدوية فى مصر..... (السلال - السيارات - الطائرات - الهواتف) (المنوفية ٢٠٢٣)
- ٢- من أقدم الصناعات اليدوية (الآلات - الفخار - الكمبيوتر - الصلب) (الإسكندرية ٢٠٢٣)
- ٣- يقصد آلاف السياح قرية الحرائية بسبب اشتهارها بصناعة (الفخار - النسيج - الزجاج - الخيامية) (الأقصر ٢٠٢٣)
- ٤- تعد من أقدم الصناعات وتنتشر فى العديد من القرى المصرية صناعة (الزجاج - الفخار - الخيامية - النسيج) (الإسكندرية ٢٠٢٣)
- ٥- من الحرف المدرجة على قائمة التراث العالمى لليونسكو صناعة (ورق البردى - الفخار - السجاد اليدوى - الزجاج) (الإسكندرية ٢٠٢٣)
- ٦- الحرفة التى يوجد شارع باسمها فى محافظة القاهرة هى (النسيج - الخيامية - السجاد اليدوى - الزجاج) (الجيزة ٢٠٢٣)
- ٧- صناعة تنتشر فى العديد من الأماكن ومنها محافظة الدقهلية (صناعة النسيج - صناعة الخيامية - صناعة السجاد اليدوى - صناعة الزجاج) (الإسماعيلية ٢٠٢٢)

السؤال الثانى: اكتب ما تشير إليه العبارة الآتية:

- من الحرف المدرجة على قائمة التراث العالمى فى منظمة اليونسكو صناعة. (.....) (سوهاج ٢٠٢٣)

السؤال الثالث: صوب ما تحته خط:

- ١- صناعة الفخار يتم إنتاجها فى شارع الخيامية بالأزهر. (سوهاج ٢٠٢٣)
- ٢- صناعة الزجاج تم إدراجها ضمن قائمة التراث العالمى. (الجيزة ٢٠٢٣)
- ٣- معرض تقيمه الدولة لإحياء الحرف التراثية هو معرض ديارنا. (الجيزة ٢٠٢٣)

السؤال الرابع: أكمل:

- ١- إحدى الحرف التى تستخدم الطين فى صناعتها حرفة (الجيزة ٢٠٢٣)
- ٢- أقدم صناعة يدوية، وتنتشر فى العديد من القرى المصرية: صناعة (دمياط ٢٠٢٣)

السؤال الخامس: اكتب كلمة (صواب) أمام العبارة الصحيحة، وكلمة (خطأ) أمام العبارة غير الصحيحة

- ١- يمكن الاستفادة من مخلفات البيئة فى بعض الحرف اليدوية. () (القليوبية ٢٠٢٣)
- ٢- صناعة الفخار أقدم صناعة يدوية فى مصر. () (القاهرة ٢٠٢٣)
- ٣- للحرف التراثية أهمية فى دعم الاقتصاد المصرى. () (الأقصر ٢٠٢٣)
- ٤- يعد معرض تراثنا دليلاً على اهتمام الدولة بإحياء الحرف التراثية. () (الجيزة ٢٠٢٣)
- ٥- يقصد العديد من السياح قرية الحرائية بالجيزة؛ لتمييزها بصناعة المنسوجات. () (القاهرة ٢٠٢٢)
- ٦- صناعة النسيج والسجاد اليدوى من الحرف المدرجة على قائمة التراث العالمى فى منظمة اليونسكو. () (القاهرة ٢٠٢٢)
- ٧- لشراء المنتجات الخيامية فإنك تذهب إلى منطقة الأزهر بالقاهرة. () (بورسعيد ٢٠٢٢)

السؤال السادس: أجب عما يأتى:

- ١- دلل على صحة العبارة الآتية: اهتمام الدولة بإحياء الحرف التراثية. (الجيزة ٢٠٢٣)
- ٢- فسر: أهمية الحرف التراثية. (المنيا ٢٠٢٣)
- ٣- فسر: تعد مدينة الروبيكى مدينة صديقة للبيئة. (الجيزة ٢٠٢٣)
- ٤- قدم مقترحاً لإحياء الحرف التراثية فى مصر. (القاهرة ٢٠٢٢)



السؤال الأول: ضع دائرة حول الإجابة الصحيحة :

- ١- مدينة صديقة للبيئة في مصر وبها متحف عن المنتجات الجلدية
(الجراح - الحرانية - الروبيكي - الجيزة)
- ٢- قرية الحرانية في الجيزة مقصد لآلاف السائحين لشهرتها بصناعة
(الزجاج - الفخار - الجلود - السجاد اليدوي)
- ٣- صناعة أدرجتها منظمة اليونسكو ضمن قائمة التراث العالمي
(صناعة النسيج - صناعة الزجاج - صناعة الجلود - صناعة الفخار)
- ٤- تعد من أقدم الصناعات، وتنتشر في العديد من القرى، صناعة (الزجاج - الفخار - الخيامية - النسيج)
- ٥- صناعة تنتشر في العديد من الأماكن ومنها محافظة الدقهلية
(النسيج - الخيامية - السجاد اليدوي - الزجاج)

السؤال الثاني: صوب ما تحته خط :

- ١- صناعة الفخار يتم إنتاجها في شارع الخيامية بالأزهر. (.....)
- ٢- صناعة النسيج أقدم صناعة يدوية في مصر. (.....)
- ٣- صناعة النسيج توجد بداخل مدينة الروبيكي. (.....)
- ٤- صناعة الزجاج تنتشر في محافظة القاهرة. (.....)
- ٥- تبذل الدولة جهودًا لدعم الحرف التراثية من خلال المعارض مثل معرض الكتاب. (.....)

السؤال الثالث: (١) صف الصناعات التالية حسب المكان الذي تتركز فيه:

(صناعة الخيامية - صناعة الجلود - صناعة الزجاج)

قرية الجراح	
مدينة الروبيكي	
شارع الخيامية	

(ب) وضع أهمية الحرف التراثية في دعم الاقتصاد المصري.



المستثمر الصغير

الدرس الثاني



تفاعل

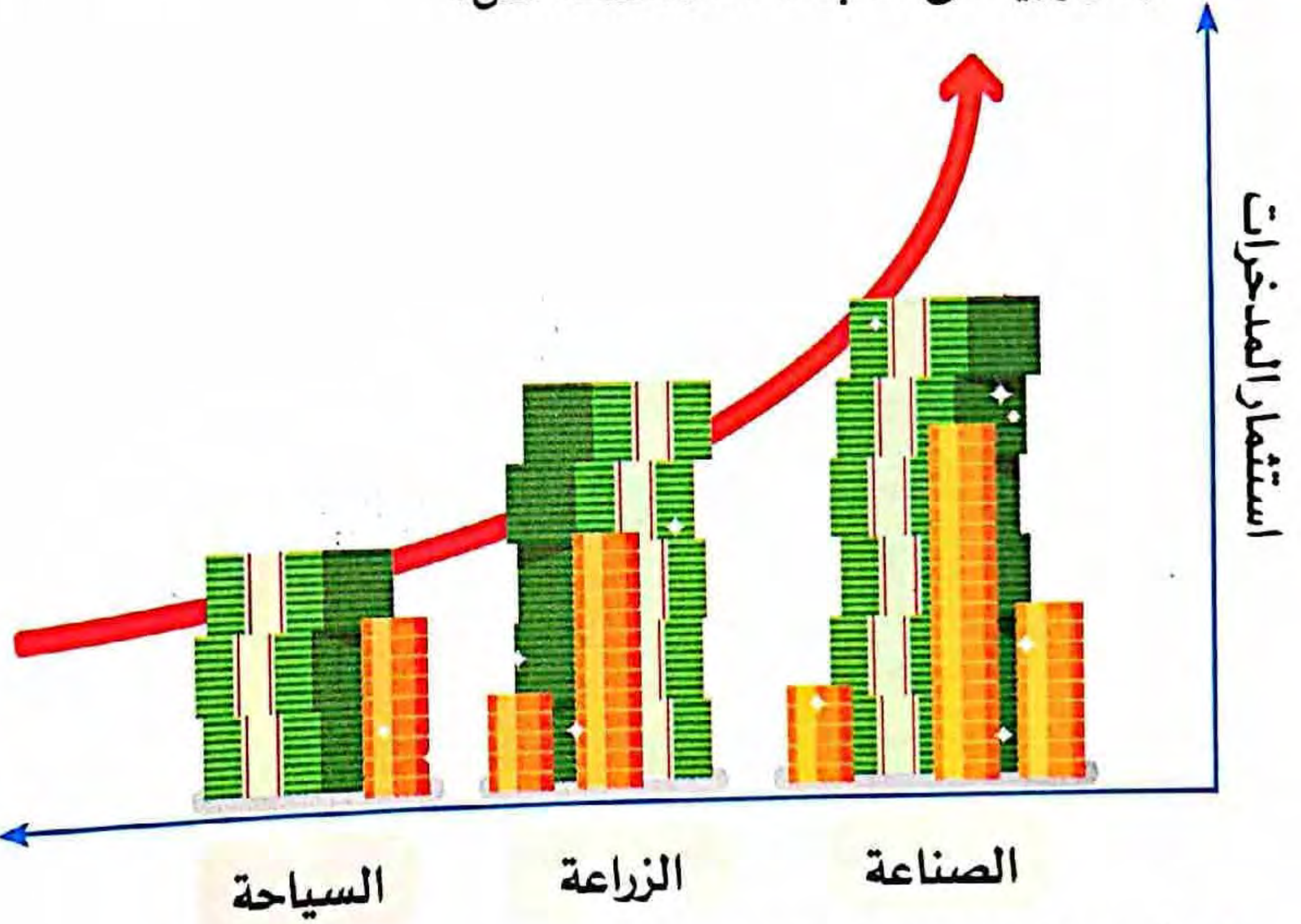
وماذا تفعل بالأموال التي تدخرها؟

هل تدخر جزءًا من مصروفك؟

تعلم

إنشاء أول بنك وطني في مصر

- في أحد الأيام، طرأت للخبير الاقتصادي (محمد طلعت حرب باشا) فكرة رائعة، فقام في عام ١٩٢٠م بتأسيس «بنك مصر» وهو أول بنك وطني في تاريخ مصر لاستثمار مدخرات الشعب المصري في دعم مئات المشروعات في جميع أنحاء الجمهورية في المجالات المختلفة مثل:



مجالات الاستثمار

- وقد ساعد ذلك على ازدهار الاقتصاد المصري.

الخدمات التي تقدمها البنوك

- تزايد عدد البنوك وأصبح لها فروع في محافظات مصر المختلفة. تقدم جميع هذه البنوك خدمات مالية متنوعة تشمل:



إعطاء أموال إلى المستثمرين
في شكل قروض



فتح الحسابات المختلفة



قبول الودائع

البنك

مؤسسة تقدم خدمات مالية للأفراد والشركات، مثل: حفظ وتحويل الأموال ومنح القروض.



- يقدم البريد المصري أيضًا خدمات مصرفية، مثل:
 - حسابات التوفير والادخار.
 - وتنتشر مكاتب البريد في جميع أرجاء مصر.
 - لذلك، فمن المؤكد أنك ستجد أحد مكاتب البريد بالقرب من مسكنك.

• وتم إنشاء «**البنك المركزي المصري**» بهدف إصدار النقود والإشراف على جميع البنوك والمؤسسات المصرفية في مصر، بما في ذلك البريد المصري.



هل ترغب في ادخار المال فعلاً؟

- إذا كانت الإجابة **بنعم**، يمكنك اتباع ما يلي:
 - 1- احسب مجموع الأموال التي تحصل عليها.
 - 2- كم تستهلك منها لشراء حاجاتك؟
 - 3- كم تستهلك منها لإشباع رغباتك؟

الرغبات

هي الأشياء التي سيكون من الجيد الحصول عليها، ولكنك تستطيع العيش بدونها.

الحاجات

هي الأشياء التي يجب أن تحصل عليها لتعيش.

الاستهلاك

يعني إنفاق النقود لشراء الحاجات والرغبات.



- يمكنك أن تدخر المال الذي عادة ما تُنفقه في إشباع رغباتك؛ نظرًا لأن استهلاك هذه الأموال ليس ضروريًا، وإذا فعلت ذلك فأنت تطبق قاعدة اقتصادية مهمة وهي: «كلما قل الاستهلاك زاد الادخار وزاد الاستثمار وازدهر الاقتصاد».
- إذن الأموال التي وفرتها تسمى **مدخرات**.

سؤال؟

اكتب ما تشير إليه العبارتان الآتيتان:

- 1- أشياء من الجيد الحصول عليها، ولكن يمكن العيش بدونها.
- 2- أشياء يجب أن تحصل عليها لتعيش.

(.....)

(.....)

(التفكير الناقد)

- فكروا جواب:

خرجت أسرة آدم للتسوق، فاشتري آدم سيارة لعبة (٢٠ جنيهاً) وأدوات مدرسية (٣٠ جنيهاً)، واشترت أخته بسطة (٥٠ جنيهاً) وصابوناً (٣٠ جنيهاً)، أما والد آدم فقد اشترى ساعة يد (١٠٠ جنيه) ومعجون أسنان (٢٠ جنيهاً) والدته مواد غذائية (١٠٠ جنيه) وقلادة (٥٠ جنيهاً).

١- صنف مشتريات أسرة آدم في الجدول التالي:

الاحتياجات	الترغبات

٢- اختر واحدة من الاحتياجات وواحدة من الترغبات، ووضح لماذا صنفتها بهذا الشكل.

٣- لو لم تنفق الأسرة أي أموال على مشتريات تعد من الترغبات، فكم من المال كانت ستوفر؟

٤- في رأيك، إذا كان مصروفك في الشهر ٤٠٠ جنيه، فما أفضل اختيار؟
 (أ) أستهلك (أنفق) ٤٠٠ جنيه لشراء الاحتياجات والترغبات.
 (ب) أدخر ٢٠٠ جنيه، وأستهلك ٢٠٠ جنيه لشراء الاحتياجات والترغبات.
 (ج) أدخر ٤٠٠ جنيه.

قيم نفسك

• استلج العلاقة بين الادخار والاستثمار والاستهلاك.
 • اوضح أهمية الادخار.

جيد جدًا جيد بحاجة إلى محقق

جيد جدًا جيد بحاجة إلى محقق

- اقرأ وقارن: اقرأ النص التالي وأجب عن الأسئلة:

لم يدخر شريف أي مقدار من المال في حياته من قبل، فعندما كان صغيراً كان ينفق مصروفه الخاص على شراء الحلويات واللُّعَب. وعندما كبر صار ينفق المال على شراء هاتف محمول جديد كل عام. يبلغ شريف الآن ٢٤ عامًا، ويعيش في شقة بالإيجار.

كان عمر يدخر الأموال دائمًا، فعندما كان صغيراً، كان يوفر جزءاً من مصروفه الخاص ويضعه في درج موجود في غرفته، وعندما كبر فتحت حساباً في البنك وأودع فيه مدخراته. يبلغ عمر الآن ٢٤ عامًا وقد استخدم مدخراته لشراء مزرعة دجاج. وهو يودع أرباحه من المزرعة في حسابه بالبنك.

- ١- كيف أثرت قرارات كل من شريف وعمر في حياتهما؟
- ٢- ماذا يجب على شريف تعلمه عن الادخار؟
- ٣- أي من الشخصيتين تود أن تتخذها قدوة لك؟ ولماذا؟
- ٤- اشرح كيف يساهم عمر في دعم الاقتصاد المصري.
- ٥- كيف يمكن للمواطنين المصريين المساهمة في دعم الاقتصاد المصري بطرق أخرى؟

قيم نفسك

• أستنتج العلاقة بين الادخار، والاستثمار، والاستهلاك. جيد جدًا جيد بحاجة إلى مجهود أكبر

• أوضح أهمية الادخار. جيد جدًا جيد بحاجة إلى مجهود أكبر

استكشف وراجع

استكشف:

لنفترض أنك واثنين من زملائك في الفصل تحصلون على مصروف أسبوعي قدره ١٠٠ جنيه مصري. تحدثوا معاً عما تحتاجون إليه من مال لإنفاقه على حاجاتكم، واحسبوا مقدار المال الذي يمكنكم ادخاره.

١- قوموا بإعداد مخطط توضيحي معاً تذكرون فيه الأشياء التي تحتاجون إلى إنفاق المال للحصول عليها.

٢- كيف يمكنكم أن تدخروا أو تستثمروا المبلغ المتبقى لديكم في الأسبوع؟

راجع:

١- في رأيك، ما العلاقة بين كلٍّ من الاستهلاك والادخار والاستثمار؟

- وماذا يحدث إذا أنفق الأفراد والمؤسسات كل الأموال؟

٢- في رأيك، ماذا يحدث إذا اختفت البنوك والمؤسسات المصرفية؟

٣- افترض أنك ادخرت ١٠٠٠ جنيه مصري. ماذا ستفعل بهذا المبلغ؟ هل تستثمره، أم تُنفقه؟ ولماذا؟

ملخص الدرس

الدرس الثاني



بنك مصر

الهدف من إنشائه

استثمار مدخرات الشعب المصري في دعم مناسبات المشروعات في مجالات: الصناعة - الزراعة - السياحة.


اهم ما يميزه

هو أول بنك وطني في تاريخ مصر.

فكرة إنشائه

طرأت فكرته للخبير الاقتصادي (محمد طلعت حرب باشا) فقام في عام ١٩٢٠م بتأسيس «بنك مصر».

الخدمات التي تقدمها البنوك



إعطاء أموال إلى المستثمرين في شكل قروض



فتح الحسابات المختلفة



قبول الودائع

البريد المصري



يقدم البريد المصري خدمات مصرفية، مثل: حسابات التوفير والادخار.

البنك المركزي المصري

الهدف من إنشائه:

- إصدار النقود.
- الإشراف على جميع البنوك والمؤسسات المصرفية في مصر.

إذا أردت أن تدخر المال فيجب عليك التعرف على

رغباتك

الأشياء التي سيكون من الجيد الحصول عليها، ولكنك تستطيع العيش بدونها.

حاجاتك

الأشياء التي يجب أن تحصل عليها لتعيش.

الاستهلاك

يعني إنفاق النقود لشراء الحاجات والرغبات.

«كلما قل الاستهلاك زاد الادخار وزاد الاستثمار وازدهر الاقتصاد».



السؤال الأول

أكمل العبارات التالية بما يناسبها من كلمات:

- ١ أول بنك وطنى فى تاريخ مصر هو بنك
- ٢ شراء هانى منزل لأسرته يعد من
- ٣ اقتصادى مصرى أسس بنك مصر
- ٤ أشياء يجب أن نحصل عليها لتعيش هى
- ٥ إنفاق النقود لشراء الحاجات والرغبات تسمى
- ٦ تم إنشاء البنك بهدف إصدار النقود والإشراف على جميع البنوك.

السؤال الثانى

ضع علامة (✓) أمام العبارة الصحيحة، وعلامة (X) أمام العبارة غير الصحيحة:

- ١ الرغبات هى الأشياء التى يجب أن تحصل عليها لتعيش. ()
- ٢ يشرف البنك المركزى المصرى على جميع المؤسسات المصرفية فى مصر. ()
- ٣ البريد المصرى يقدم قروضاً للمستثمرين. ()
- ٤ المسكن الذى تعيش فيه يعد من الرغبات. ()
- ٥ الاستهلاك يعنى إنفاق النقود لشراء الحاجات والرغبات. ()
- ٦ أنشأ طلعت حرب باشا بنك مصر. ()
- ٧ كلما قل الاستهلاك زاد الادخار وزاد الاستثمار. ()

السؤال الثالث

صوب ما تحته خط:

- ١ يقوم البنك الأهلى بإصدار النقود الورقية.
- ٢ الرغبات هى الأشياء التى يجب أن نحصل عليها لتعيش.

السؤال الرابع ضع دائرة حول الإجابة الصحيحة مما يلي:

١ أسس بنك مصر الاقتصادي المصري

(طلعت حرب - سيد درويش - جمال حمدان - طه حسين)

٢ يقوم البنك بإعطاء الأموال للمستثمرين على شكل

(خدمات - قروض - ودائع - سلع)

٣ البنك الذي يشرف على جميع البنوك المصرية هو

(البنك الأهلي - بنك مصر - البنك المركزي المصري - بنك القاهرة)

٤ أول بنك وطني في تاريخ مصر هو بنك

(الأهلي - العربي - مصر - الإفريقي)

٥ الماء بالنسبة للإنسان يعتبر من

(الرفاهيات - الرغبات - الأعمال - الحاجات)

٦ البنك الذي من مهامه إصدار النقود

(بنك مصر - البنك المركزي - بنك القاهرة - البنك الأهلي)

٧ إنفاق النقود لشراء الحاجات والرغبات يعد

(ادخارًا - استثمارًا - استهلاكًا - إسرافًا)

السؤال الخامس أمامك مجموعة من الصور، اكتب أسفل كل صورة: أي منها حاجة؟ وأي منها رغبة؟

		
٣	٢	١

السؤال السادس أجب عن الأسئلة التالية:

١ ما الفرق بين الحاجات والرغبات؟

٢ اكتب نتيجة واحدة لتأسيس طلعت حرب لبنك مصر ومؤسساته الاقتصادية.

السؤال الأول: اختر الإجابة الصحيحة:

- ١- كلما زاد الاستثمار ازدهر.....
- ٢- تم إنشاء..... بهدف إصدار النقود والإشراف على جميع البنوك.
(البنك المركزي المصري - البنك الأهلي - بنك مصر - بنك القاهرة) (الغربية ٢٠٢٣)
- ٣- أنشأ محمد طلعت حرب باشا بنك.....
(القاهرة - الإسكندرية - مصر - الكويت) (الدقهلية ٢٠٢٣)
- ٤- يمكن للفرد ادخار أمواله في.....
(مكاتب البريد - مراكز الشرطة - المكتبات - الحدائق) (سوهاج ٢٠٢٣)

السؤال الثاني: اكتب كلمة (صواب) أمام العبارة الصحيحة وكلمة (خطأ) أمام العبارة غير الصحيحة:

- ١- تقدم البنوك خدمات مالية متنوعة للمواطنين.
- ٢- يشرف بنك مصر على جميع البنوك المصرية حالياً.
- ٣- تنتشر مكاتب البريد في جميع أرجاء مصر.
- ٤- ساعد بنك مصر على ازدهار الاقتصاد المصري.
- ٥- يقوم بنك مصر بإصدار النقود الورقية نيابة عن الدولة.

السؤال الثالث: أكمل العبارات الآتية:

- ١- أسس..... بنك مصر.
- ٢- قام طلعت حرب بتأسيس بنك.....
- ٣- الأشياء التي يجب أن تحصل عليها لتعيش تعرف ب.....

السؤال الرابع: صوب ما تحته خط:

- أسس بنك مصر الاقتصادي المصري سيد درويش.

السؤال الخامس: قارن بين كل من: (الحاجات - الرغبات):

- ١- الحاجات.....
- ٢- الرغبات.....

السؤال السادس: أجب عن السؤال الآتي:

- وضح العلاقة بين الاستهلاك والادخار والاستثمار.

السؤال السابع: ضع دائرة حول الإجابة الصحيحة:

- ١- الخبز.....
- ٢- التليفزيون.....
- ٣- زيارة المتاحف.....
- ٤- الملابس.....

(حاجات - رغبات) (الجيزة ٢٠٢٣)

(حاجات - رغبات) (الجيزة ٢٠٢٣)

(حاجات - رغبات) (القاهرة ٢٠٢٢)

(حاجات - رغبات) (القاهرة ٢٠٢٢)



السؤال الأول: (١) ضع دائرة حول الإجابة الصحيحة:

(الاستثمار - الخدمات - السلع - الواجبات

١- ادخار المال يساعد على

٢- تتشابه البنوك ومكاتب البريد في أن كليهما يقدم خدمات

(مصرفية - تجارية - صناعية - سياحية

٣- يمكن للفرد ادخار أمواله في

(الحدائق العامة - مراكز الشرطة - المكتبات العامة - مكاتب البريد

(الصحة - التعليم - الاقتصاد - الأمن

٤- كلما زاد الاستثمار ازدهر

(ب) صنف العناصر الآتية حسب الحاجات والرغبات:

(الخبز - الذهاب إلى الملاهى - الملابس - التليفزيون - المسكن المناسب - زيارة المتاحف)

الرغبات

الحاجات

السؤال الثانى: (١) ضع علامة (✓) أمام العبارة الصحيحة، وعلامة (X) أمام العبارة غير الصحيحة:

١- يوجد فرع واحد فقط للبريد المصرى داخل كل محافظة.)

٢- إصدار العملات الورقية من مهام البريد المصرى.)

٣- كلما قل الاستهلاك ازدهر الاقتصاد.)

(ب) وضح أهمية الادخار فى حياتك.

السؤال الثالث: (١) أكمل العبارات الآتية:

١- أول بنك وطنى فى تاريخ مصر هو

٢- قبول الودائع وفتح الحسابات من الخدمات المالية التى تقدمها

٣- تم إنشاء البنك بهدف إصدار النقود الورقية.

(ب) ما العلاقة بين الادخار والاستثمار؟

تابع مستنواك

★★★★★



٧:٠

داختر شرح الدرس صفة اخرى

١٠:٨

حل تدريبات أكثر

١٣:١١

حل امتحانات أكثر

١٥:١٤

ابحث وانظر

١٤٢



مركز التعليم الإلكتروني

الدرس الثالث

معًا لحياة أفضل



تفاعل

ما أهم الخدمات المتوفرة في محافظتك؟
وكيف تستفيد منها؟
وما الخدمات التي تتمنى توفيرها في محافظتك؟ ولماذا؟

تعلم

المنتجات التي نصنعها تسمى بالسلع، مثل:

- السجاد اليدوي.
- السلال.
- المشغولات اليدوية.

الفرق بين السلع والخدمات

الخدمات

هي أي عمل أو نشاط تقوم به الدولة لتلبية حاجات أو رغبات المواطنين مثل: **المدارس والمستشفيات.**



السلع

هي التي تعنى كل ما يتم إنتاجه، ونقوم بشرائه مثل: **المنتجات الغذائية والأجهزة الكهربائية.**



سؤال؟

قارن بين كل من السلع والخدمات من حيث التعريف، مع ذكر أمثلة.

الخدمات	السلع	وجه المقارنة
.....	التعريف
.....	الأمثلة

الخدمات التي تقدمها الدولة

تتنوع الخدمات التي تقدمها الدولة للمواطنين، فتوجد:



الخدمات الصحية

- توفر الدولة المستشفيات والرعاية الصحية والأدوية والأمصال.



الخدمات التعليمية

- توفر الدولة التعليم للجميع، وتبنى المدارس والجامعات.
- توفر المنح والبعثات الدراسية للطلاب.



الخدمات الترفيهية والثقافية

تقوم الدولة بـ:

- إنشاء الأندية الرياضية والحدائق.
- إنشاء دور السينما والمتاحف، مثل: المتحف القومي للحضارة المصرية.
- رعاية المواهب ونشر الفنون والثقافة.



الخدمات البيئية

- تعمل الدولة على نظافة الشوارع والميادين وتجميلها.
- مراقبة الأنشطة التي يمكن أن تؤثر على البيئة، مثل: نشاط المصانع والنشاط الزراعي.



الخدمات الأمنية

- يقوم رجال الشرطة بحماية المؤسسات، والقبض على الخارجين عن القانون.
- يحمي جنود جيشنا الباسل حدود الوطن ويسهرون على حمايته وأمنه.

جهود الدولة لتحسين معيشة المواطن

تهدف الدولة إلى تحسين معيشة المواطنين من خلال عدة مبادرات هي:

١ حملة ١٠ مليون صحة

١٠ مليون
صحة

مبادرة رئيس الجمهورية
للقيام على فيروس سى
و الكشف عن الأمراض غير السارية

- هي إحدى المبادرات التي تهتم بصحة المواطن.
- انطلقت عام ٢٠١٨ م.
- استهدفت الكشف المبكر عن الإصابة ببعض الأمراض مثل: مرض الالتهاب الكبدى الوبائى.
- تقدم الدولة خدمات العلاج والمتابعة للمرضى.

٢ مبادرة حياة كريمة



حياة
كريمة

لكل مواطن لكل صحة

- تهدف إلى التخفيف عن المواطنين فى المجتمعات الأكثر احتياجًا.
- وذلك بتوفير كافة المرافق والخدمات الصحية والتعليمية والأنشطة الرياضية والثقافية.

٣ التطوير العمرانى



- إقامة العديد من المدن الجديدة وإنشاء الطرق والكبارى وتطوير العشوائيات.

٤ الخدمات الإلكترونية

- توفر الدولة خدمات إلكترونية من خلال شبكة الإنترنت دون الحاجة إلى الذهاب إلى المؤسسات المسئولة عن تقديم تلك الخدمات.
- يوفر ذلك المزيد من الوقت والجهد والمال على المواطنين.

أمثلة للخدمات الإلكترونية




- ونظرًا لما تقوم به الدولة من خدمات للمواطنين يجب علينا:
- احترام مؤسسات الدولة.
- تقدير جهود العاملين فيها.
- المحافظة على الممتلكات العامة.

سؤال

ما النتائج المترتبة على: توفير الدولة للخدمات الإلكترونية للمواطنين؟

يوم فى حياة اميرت



- استيقظت أميرة فى الصباح واستعدت للذهاب إلى المدرسة.
- فى البداية، غسلت وجهها ونظفت أسنانها بالفرشاة والمعجون باستعمال ماء نظيف وبارد من الصنبور.
- ثم ارتدت ملابس المدرسة وتناولت وجبة الفطور.
- اتجهت أميرة إلى موقف الحافلات حيث ركبت الحافلة التى ستنقلها إلى المدرسة.

- سارت الحافلة على الطريق المشيّد حديثًا فى منطقة أميرة خن.
- وصلت إلى المدرسة وبدأت يومها الدراسى بحماس.
- ثم ذهبت مع زملائها فى رحلة إلى المتحف الجديد.
- بعد عودتهم من المتحف، بدءوا فى كتابة رسائل إلى مدير المتحف لشكره على تلك الزيارة.
- سيأخذ المعلمون هذه الرسائل إلى مكتب البريد لإرسالها.



- بعد المدرسة، ذهبت أميرة برفقة أمها إلى المستشفى لزيارة جدتها المريضة.
- فى الوقت الذى كانت خلاله أميرة وأمها فى المستشفى، كان والدها وأخوها يعدان طعام العشاء للأسرة.
- وعند عودتهما، استمتع أفراد الأسرة معًا بتناول الطعام.



افهم وطبق

(١) اقرأ وأجب:

- ١- صف كيف تستفيد أميرة وأسرته من الخدمات التالية:
 - التعليم
 - الصحة
 - الثقافة

٢- استنتج خدمات أخرى وردت فى الفقرات، وحدد كيف استفادت منها أميرة وأسرته.

(ب) لنبحث عن المعرفة <https://egy-map.com>

ابحث ولخص

- استخدم الموقع الخاص بخريطة مشروعات مصر.
- اختر أحد المشروعات وشاهد فيلمًا عنها، ثم لخص أهمية هذا المشروع، ودوره فى تطوير حياة المصريين.



أبراج العلمين الجديدة

قيم نفسك

- أربط بين الخدمة وبين المؤسسة التى تقدمها أو الشخص الذى يقدمها.

جيد جدًا جيد بحاجة إلى مجهود

(الدراسات الاجتماعية في حياتي اليومية)

(أ) فكروا وأجب:

صف لزملائك يوماً في حياتك، ثم حدد ثلاث خدمات حكومية تستفيد منها خلال ذلك اليوم، وشرح كيف تستخدمها.

(قضايا وتحديات)

(ب) فكروا واقترح:

- اختر خدمة متاحة في محافظتك وسجلها في الجدول التالي، ثم اكتب رسالة إلى المحافظ تشرح له فيها كيف استفدت من هذه الخدمة، واطرح أفكاراً متنوعة لتحسين جودة هذه الخدمة.

الخدمة	أفكار متنوعة لتحسينها

سيادة المحافظ، لقد استخدمت، واستفدت من هذه الخدمة كثيرًا.
 أود أن أعرض على سيادتكم فكرة مقترحة لتحسين جودة هذه الخدمة.
 مع فائق الاحترام والتقدير،
 الاسم.....

قيم نفسك . أقدم أمثلة عن أنواع الخدمات في محافظتي. جيد جدًا جيد بحاجة إلى مجهود أكبر

استكشف وراجع

استكشف:

- حدد أسماء أماكن في محافظتك تذهب إليها لتحصل على الخدمات التالية:
- الثقافية:
 - الترفيهية:
 - التعليمية:
 - الصحية:

راجع:

- 1- ما الفرق بين السلع والخدمات؟ اذكر بعض الأمثلة عن السلع وأخرى عن الخدمات.
- 2- اذكر أكبر عدد من الخدمات التي تقدمها الحكومة للمواطنين. كيف نستفيد منها؟



الفرق بين السلع والخدمات

الخدمات

عمل أو نشاط تقوم به الدولة لتلبية حاجات المواطنين.

السلع

كل ما يتم إنتاجه ونقوم بشرائه مثل المنتجات الغذائية.

الخدمات التي تقدمها الدولة

١ الخدمات التعليمية

- توفير التعليم وبناء المدارس والجامعات.
- توفير المنح والبعثات الدراسية.

٢ الخدمات الصحية

- توفير المستشفيات والرعاية الصحية والأدوية والأمصال.

٣

الخدمات البيئية

- تنظيف الشوارع والميادين وتجميلها.
- مراقبة الأنشطة التي تؤثر على البيئة.

٥ الخدمات الأمنية

- يقوم رجال الشرطة بحماية المؤسسات والقبض على الخارجين على القانون.
- يحمي جنود جيشنا الباسل حدود الوطن.

٤ الخدمات الترفيهية والثقافية

الدولة تقوم بـ:

- إنشاء الأندية الرياضية، الحدائق، السينما، المتاحف.
- رعاية المواهب ونشر الفنون والثقافة.

جهود الدولة لتحسين معيشة المواطنين

تهدف للكشف المبكر عن الإصابة ببعض الأمراض.

مثل: مرض الالتهاب الكبدي الوبائي.

حملة ١٠ مليون صحة

تهدف إلى توفير المرافق والخدمات الصحية والتعليمية والأنشطة الرياضية والثقافية

مبادرة حياة كريمة

إقامة العديد من المدن الجديدة والطرق والكبارى وتطوير العشوائيات.

التطوير العمرانى

استخراج الوثائق الرسمية، **مثل:** (شهادات الميلاد - جوازات السفر).

الخدمات الإلكترونية

الاستعلام عن الفواتير، **مثل:** (المياه - الكهرباء - التليفونات - المخالفات المرورية

(من خلال شبكة الإنترنت)



معاً لحياة أفضل

السؤال الأول

أكمل العبارات الآتية بما يناسبها من كلمات:

- ١ إحدى المبادرات التي تهتم بصحة المواطن واستهدفت الكشف المبكر عن الإصابة ببعض الأمراض
- ٢ المبادرات التي قامت بها الدولة لرفع مستوى معيشة المواطنين مبادرة
- ٣ وفرت الدولة وقت المواطنين عن طريق الخدمات
- ٤ يعد بناء المستشفيات من الخدمات
- ٥ مبادرة تهدف للتخفيف عن المواطنين في المجتمعات الأكثر احتياجاً مبادرة

السؤال الثاني

ضع علامة (✓) أمام العبارة الصحيحة، وعلامة (X) أمام العبارة غير الصحيحة:

- ١ تسعى الدولة إلى إنشاء الطرق والكبارى وتطوير العشوائيات. ()
- ٢ تهدف مبادرة حياة كريمة إلى الكشف المبكر عن مرض الالتهاب الكبدى الوبائى. ()
- ٣ يقوم الأطباء بحماية المؤسسات. ()
- ٤ يعد تنظيف الشوارع والبيادين وتجميلها ضمن الخدمات التعليمية. ()
- ٥ تعد حملة ١٠٠ مليون صحة من الخدمات الثقافية التى تقدمها الدولة. ()

السؤال الثالث

ضع دائرة حول الإجابة الصحيحة مما يلى:

- ١ من أمثلة المنتجات اليدوية فى مصر (السلال - السيارات - الطائرات - الهواتف)
- ٢ كل ما يقوم الإنسان بإنتاجه أو شرائه يطلق عليه (الخدمات - السلع - المعادن - المصانع)
- ٣ المدارس والجامعات تقدم للمجتمع خدمات (بيئية - صحية - تعليمية - أمنية)
- ٤ أى من المؤسسات التالية تقدم الخدمات الصحية؟ (المدارس - المستشفيات - الجامعات - الأندية)
- ٥ إنشاء الحدائق والمتنزهات يعد من الخدمات (الترفيهية - الثقافية - الأمنية - الصحية)
- ٦ من الخدمات التى تقدمها الدولة (حملة ١٠٠ مليون صحة - مبادرة حياة كريمة - الخدمات الإلكترونية - كل ما سبق)
- ٧ قيام الطبيب بعمله فى المستشفى يعد للمجتمع. (خدمة - سلعة - تجارة - صناعة)
- ٨ توفير الدولة للمستشفيات والأدوية والأمصال يعد من الخدمات (الترفيهية - التعليمية - الصحية - الأمنية)
- ٩ حماية المواطنين وتوفير الأمن والاستقرار لهم يعد من الخدمات (التعليمية - الأمنية - الثقافية - الرقمية)

السؤال الرابع

صوب ما تحته خط:

(.....)

(.....)

١ إنشاء الدولة للأندية الرياضية والحدائق من الخدمات التعليمية.

٢ حملة ١٠٠ مليون صحة تهدف إلى تحقيق خدمات بيئية.

- ٣ نشاط تقوم به الدولة لتلبية حاجات أو رغبات المواطنين هو السلع .
 ٤ توفر الدولة الأدوية والأمصال كخدمة بيئية للمواطنين .
 ٥ من الخدمات الصحية بناء المدارس .

السؤال الخامس صنف الخدمات الآتية إلى الشخص الذي يقدمها:

(الضابط - المعلم - عامل النظافة - الطبيب)

التعليمية	البيئية	الصحية	الأمنية
.....

المستوى الثالث -

السؤال السادس أمامك مجموعة من الصور، اكتب أسفل كل صورة المبادرة التي تشير إليها مما بين القوسين:

(مبادرة حياة كريمة - حملة ١٠٠ مليون صحة - الخدمات الإلكترونية - التطور العمراني)



حياة
كريمة

لكل مصري - لكل مصرية

١٠٠ مليون
صحة



٢-

١-



٣-

٤-

السؤال السابع أجب عن الأسئلة التالية:

- ١ اذكر سببًا واحدًا لإطلاق حملة ١٠٠ مليون صحة .
 ٢ اذكر سببًا لإطلاق الدولة مبادرة حياة كريمة .
 ٣ اذكر نتيجة واحدة لمبادرة ١٠٠ مليون صحة التي أطلقتها الدولة .

المستوى الرابع

السؤال الأول : أكمل :

- ١- تعد من المبادرات التي تهتم بصحة المواطن مبادرة (الجيزة ٢٠٢٣)
- ٢- تهدف إلى التخفيف على المواطنين في المجتمعات الأكثر احتياجًا مبادرة (الإسكندرية ٢٠٢٣)
- ٣- المدارس والجامعات من الخدمات (الجيزة ٢٠٢٣)

السؤال الثاني : صوب ما تحته خط :

- ١- حصول الطفل على التطعيمات اللازمة يعد من حقوقه في التعليم. (البحيرة ٢٠٢٣)
- ٢- توفر الأدوية والأمصال كخدمة بيئية للمواطنين. (الإسكندرية ٢٠٢٣)

السؤال الثالث : اكتب ما تشير إليه العبارة الآتية:

- ١- إحدى المبادرات التي تهتم بصحة المواطن، واستهدفت الكشف المبكر عن الإصابة ببعض الأمراض. (الشرقية ٢٠٢٣)

السؤال الرابع : اكتب كلمة (صواب) أمام العبارة الصحيحة، وكلمة (خطأ) أمام العبارة غير الصحيحة:

- ١- لا توفر الخدمات الإلكترونية المزيد من الوقت والجهد والمال. (الدقهلية ٢٠٢٣)
- ٢- افتتاح طريق الكباش في محافظة الأقصر يعد من الخدمات الثقافية التي تقدمها الدولة. (الجيزة ٢٠٢٢)
- ٣- تعد حملة ١٠٠ مليون صحة من الخدمات الثقافية التي توفرها الدولة. (قنا ٢٠٢٢)
- ٤- تسعى الدولة إلى إنشاء الطرق والكبارى وتطوير العشوائيات. (الزقازيق ٢٠٢٢)
- ٥- استخراج الوثائق الرسمية مثل شهادات الميلاد من الخدمات الرقمية. (الدقهلية ٢٠٢٣)
- ٦- تهتم مبادرة حياة كريمة بالتشجير وإعادة تدوير المخلفات. (البحيرة ٢٠٢٣)
- ٧- تقدم مبادرة حياة كريمة العديد من الخدمات. (الأقصر ٢٠٢٣)
- ٨- إنشاء المتحف القومي للحضارة من الخدمات الأمنية. (الشرقية ٢٠٢٣)
- ٩- من الخدمات التي تقدمها الدولة للمواطنين مبادرة حياة كريمة. (المنيا ٢٠٢٣)

السؤال الخامس : اختر الإجابة الصحيحة مما بين القوسين:

- ١- بناء المستشفيات من الخدمات (الصحية - التعليمية - الأمنية - التجارية) (الإسماعيلية ٢٠٢٣)
- ٢- مبادرة تهتم بصحة المواطن (حياة كريمة - أهالينا - الأسمرات - ١٠٠ مليون صحة) (القاهرة ٢٠٢٣)
- ٣- حماية حدود مصر ضد أى خطر أو عدوان خارجى تعد من الخدمات (الصحية - الأمنية - الرقمية - التعليمية) (القاهرة ٢٠٢٢)
- ٤- إنشاء الحدائق والمتنزهات يعد من الخدمات (الصحية - الثقافية - الأمنية - الترفيهية) (الدقهلية ٢٠٢٣)
- ٥- التطعيم الذى يحصل عليه أطفال المدارس يعد من الخدمات (البيئية - التعليمية - الصحية - الأمنية) (دمياط ٢٠٢٣)
- ٦- حماية المواطنين وتوفير الأمن والاستقرار لهم يعد من الخدمات (التعليمية - الأمنية - الثقافية - الرقمية) (القاهرة ٢٠٢٢)
- ٧- بناء المدارس والجامعات من الخدمات (الصحية - التعليمية - الثقافية - الأمنية) (المنيا ٢٠٢٣)

السؤال السادس : أجب عن الأسئلة التالية:

- ١- اكتب نتيجة واحدة ترتبت على تقديم الخدمات الإلكترونية للمواطنين. (الغربية ٢٠٢٢)
- ٢- اكتب سببًا واحدًا طرحه الدولة مبادرة حياة كريمة. (الإسماعيلية ٢٠٢٢)
- ٣- اكتب مقترحًا لتطوير بعض الخدمات فى محافظتك. (الإسماعيلية ٢٠٢٢)



السؤال الأول: (أ) ضع دائرة حول الإجابة الصحيحة مما يلي:

- ١- المتحف القومي للحضارة المصرية يعد ضمن الخدمات (الثقافية - البيئية - الصحية - الأمنية)
- ٢- حماية جيشنا المصرى للحدود يعد ضمن الخدمات (البيئية - التعليمية - الصحية - الأمنية)
- ٣- اهتمت الدولة بالتطوير العمرانى عن طريق إنشاء (المدن - العشوائيات - المحافظات - الدول)
- ٤- قيام الطبيب بعمله فى المستشفى يعد للمجتمع. (سلعة - خدمة - تجارة - صناعة)

(ب) حدد المختلف فى عناصر المجموعة الآتية:

- (المدن الجديدة - إنشاء الطرق - تطوير العشوائيات - استخراج الوثائق)

السؤال الثانى: أكمل العبارات الآتية بكلمات مناسبة:

- ١- بناء المدارس والجامعات يعد ضمن الخدمات
- ٢- توفير الأدوية والرعاية الصحية من الخدمات
- ٣- مبادرة تهتم بصحة المواطنين هى
- ٤- كل ما يقوم الإنسان بإنتاجه أو شرائه يطلق عليه
- ٥- الخدمات الإلكترونية توفر الوقت والجهد والمال على

السؤال الثالث: (أ) صوب ما تحته خط:

- ١- تنظيف الشوارع والميادين ضمن الخدمات الأمنية التى تقدمها الدولة.
- ٢- رعاية المواهب ونشر الفنون من الخدمات التعليمية.
- ٣- مبادرة ١٠٠ مليون صحة تهدف إلى التخفيف عن المواطنين الأكثر احتياجًا.

(ب) اذكر إحدى المبادرات التى تقدمها الحكومة للمواطنين، موضحًا كيف تستفيد منها.





اسم الكتاب: حقوق الأطفال



تفاهل

توقع: ما حقوق الأطفال التي توفرها الدولة؟ وكيف يحصلون عليها؟

تعلم

ما حقوقك كطفل؟

تحرص الدولة على أن يتمتع جميع الأطفال بحقوقهم بشكل عادل ودون تمييز. ومن أمثلة حقوق الطفل:

الحق في الاسم المناسب

الرعاية الصحية والأسرية

التغذية الأساسية

المسكن اللائق

الحماية

التعليم، والترفيه



تلك الحقوق أكدت عليها الأديان السماوية، ووردت أيضاً في المواثيق الدولية والمحلية. ويتم الاحتفال باليوم العالمي للطفل ٢٠ نوفمبر من كل عام.

سؤال؟

كتب كلمة (صواب) أمام العبارة الصحيحة، وكلمة (خطأ) أمام العبارة غير الصحيحة:

()

١- جميع الأديان السماوية أكدت حقوق الطفل.

()

٢- المسكن اللائق والتغذية الأساسية من حقوق الطفل.

افهم وطبق

(مهارات حياتية)

ابحث وأكمل:

- اجمع المعلومات عن الأماكن التي يمكن أن تحصل منها على حقوقك، ثم أكمل الجدول التالي متبعاً المثال المعطى لك:

الحقوق	من يقدمها؟	أين أحصل عليها؟
الرعاية الصحية	الأطباء والممرضون	المستشفيات

قيم نفسك • اشرح حقوق الأطفال وكيف تكفل الدولة هذه الحقوق. جيد جداً جيد بحاجة إلى مجهود أكبر

الجهود الدولية والمحلية لحماية حقوق الطفل

أولا الجهود الدولية:

«اتفاقية حقوق الطفل عام ١٩٨٩م»: صدرت الاتفاقية عن الأمم المتحدة، حيث تنص الاتفاقية على أن لكل طفل الحق في:

الرعاية

توفير بيئة للطفل تساعد على نموه وتطوره. ويشمل ذلك توفير المسكن، والغذاء، والتعليم ووقت اللعب والترفيه.



الحماية

ضمان أن تكون البيئة التي يعيش فيها الطفل آمنة.



المشاركة

وهو أن يشارك الطفل في اتخاذ القرارات التي تؤثر في حياته.



ثانياً الجهود المحلية: لحماية حقوق الطفل، تمثلت في:

قانون الطفل المصري

وضعت الدولة قانوناً يتضمن مواد تشير إلى حقوق الطفل المصري، وحمائته من أي نوع من أنواع التمييز.



دستور مصر عام ٢٠١٤م

أكدت المادة رقم (٨٠) على حق الطفل في الرعاية والتعليم والصحة والمسكن.. وغيرها.

وفرت الدولة خط لجدة الطفل رقم (١٦٠٠٠) للإبلاغ عن الحالات التي يتعرض فيها الأطفال للعنف أو انتهاك حقوقهم.

خط نجدة الطفل رقم ١٦٠٠٠

تضمن الدستور المصري عام ٢٠١٤م مواد تتعلق بحماية حقوق ذوي الاحتياجات الخاصة في:

الخدمات التي تلبي احتياجاتهم في الأماكن العامة



الرعاية الصحية



التعليم



وتبذل الدولة جهودًا عدة لضمان حصول الأطفال ذوي الاحتياجات الخاصة على كل حقوقهم؛ وذلك لإيمان الدولة بأحقيتهم في الرعاية التي تساعد على أن يكون لهم دور في المجتمع.

هناك نماذج عدة من ذوي الاحتياجات الخاصة في مجتمعنا حققت مراكز متقدمة في مجالات مختلفة، مثل عميد الأدب العربي الدكتور طه حسين:



حصل على درجة الدكتوراه.



حصل على العديد من الجوائز.



تحدى إعاقة فقد البصر



ألف العديد من الكتب



واجباتك كطفل

مساعدة أفراد الأسرة في بعض الأعمال المنزلية.

المذاكرة وأداء الواجبات المدرسية.

المحافظة على البيئة التي نعيشون فيها.

الالتزام بالقواعد والقوانين.



افهم وطبق ٢

(التفكير الناقد)

اقرأ وأجب:

(١) اقرأ الفقرة المستخلصة من المادة (٨٠) في الدستور المصري لعام ٢٠١٤م، ثم أجب عن السؤال التالي:
«المادة (٨٠): يُعد طفلاً كل من لم يبلغ الثامنة عشرة من عمره، ولكل طفل الحق في رعاية صحية وأسرية وتغذية أساسية، ومسكن آمن، وحماية من جميع أشكال العنف والإساءة».

- توقع كيف تؤثر المادة (٨٠) في حياة الأطفال في مصر.....
(ب) اقرأ الفقرة المستخلصة من المادة (٨١) في الدستور المصري لعام ٢٠١٤م، ثم أجب عن السؤال التالي:
«المادة (٨١): تلتزم الدولة بضمان حقوق الأشخاص ذوي الإعاقة صحياً واقتصادياً واجتماعياً وثقافياً وترفيهياً ورياضياً وتعليمياً، وتوفير فرص العمل لهم، وتهيئة المرافق العامة والبيئة المحيطة بهم».

- كيف تؤثر المادة (٨١) في حياة الأشخاص ذوي الاحتياجات الخاصة في مصر؟

(الدراسات الاجتماعية في حياتنا اليومية)

(ج) فكر وأجب: وضح كيف ستكون حياتك مختلفة لو تم إضافة المادة (٨٠) إلى الدستور المصري.

(د) فكّر واكتب: ممارسة الرياضة حقٌّ تكفله الدولة للجميع. اختر إحدى الرياضات، وابحث عن تاريخها (متى وأين بدأت)، وكيف تفيد صحتنا. وسجّل النتائج التي توصلت إليها واعرضها على زملائك في الفصل لإقناعهم بالبدء في ممارسة هذه الرياضة.

التكامل مع التربية البدنية

قيم نفسك

• أشرح حقوق الأطفال وكيف تكفل الدولة هذه الحقوق. جيد جدًا جيد بحاجة إلى مجهود

افهم وطبق ٣

- لاحظ الصور التالية، ثم استنتج أنواع الحقوق التي يتمتع بها الأطفال، ثم اشرح لزملائك كيف يمكن الاستفادة من هذه الحقوق، وما أهمية وجود اتفاقيات وقوانين تتضمن هذه الحقوق.



الحق في الحق في الحق في

قيم نفسك

• أشرح حقوق الأطفال وكيف تكفل الدولة هذه الحقوق. جيد جدًا جيد بحاجة إلى مجهود

استكشف وراجع

استكشف:

اكتب قائمة بالحقوق التي تتمتع بها في بلدك، ثم حدد مسئولياتك تجاهها.
راجع:

١- اذكر أدلة توضح اهتمام الدولة بحقوق الأطفال.

٢- اذكر بعض واجباتك تجاه أسرتك ووطنك.

ملخص الدرس

الدرس الرابع



حقوقك كطفل

التعليم، والترفيه

الحماية

المسكن اللائق

التغذية الأساسية

الرعاية الصحية والأسرية

الحق في الاسم المناسب

الجهود الدولية (اتفاقية حقوق الطفل ١٩٨٩م)

أولاً

المشاركة:

مشاركة الطفل في اتخاذ القرارات التي تؤثر في حياته.



الرعاية:

توفير بيئة للطفل تساعد على نموه وتطويره.



الحماية:

أن تكون البيئة التي يعيش فيها الطفل آمنة.



ثانياً

الجهود المحلية

دستور مصر عام ٢٠١٤م

أكد على حق الطفل في التعليم والصحة والمسكن.

قانون الطفل المصري

يتضمن مواد تشير إلى حقوق الطفل المصري وحمايته من أنواع التمييز.

خط نجدة الطفل رقم ١٦٠٠٠

للإبلاغ عن الحالات التي يتعرض فيها الأطفال للعنف أو انتهاك حقوقهم.

حقوق ذوي الاحتياجات الخاصة

ضمن الدولة حقهم في الحصول على:
١- التعليم
٢- الرعاية الصحية
٣- الخدمات التي تلبي احتياجاتهم في الأماكن العامة.

واجباتك كطفل

المذاكرة وأداء الواجبات المدرسية

مساعدة أفراد الأسرة في بعض الأعمال المنزلية

الالتزام بالقواعد والقوانين

المحافظة على البيئة التي تعيشون فيها



السؤال الأول ضع علامة (✓) أمام العبارة الصحيحة، وعلامة (X) أمام العبارة غير الصحيحة:

- ١ أهمل الدستور المصرى حقوق ذوى الاحتياجات الخاصة. ()
- ٢ توفير المسكن المناسب من حقوق الطفل الدولية. ()
- ٣ للطفل الحق فى المشاركة فى اتخاذ القرارات التى تؤثر فى حياته. ()
- ٤ الالتزام بالقواعد والقوانين من واجبات الطفل. ()
- ٥ من الممكن أن يحقق ذوى الاحتياجات الخاصة مراكز متقدمة فى المجتمع. ()
- ٦ أكدت كافة الأديان السماوية على حقوق الأطفال. ()
- ٧ التحاق الطفل بالمدرسة دليل على تمتعه بحقه فى التعليم. ()
- ٨ يخلو الدستور المصرى من مواد لحقوق ذوى الاحتياجات الخاصة. ()
- ٩ التعليم والترفيه من الحقوق التى توفرها الدولة للأطفال. ()
- ١٠ أكد الدستور المصرى على حقوق ذوى الاحتياجات الخاصة. ()

المستوى الأول

السؤال الثانى أكمل العبارات الآتية بالكلمات المناسبة:

- ١ اتفاقية حقوق الطفل التى صدرت عن الأمم المتحدة تعد من الجهود
- ٢ وضعت الدولة قانون الطفل المصرى، وهذا يعد من الجهود
- ٣ كاتب مصرى استطاع تحدى الإعاقة البصرية وحصل على الدكتوراه وألف عددًا من الكتب وحصل على العديد من الجوائز

السؤال الثالث ضع دائرة حول الإجابة الصحيحة مما يلى:

- ١ أى من التالى يعد من حقوق الطفل فى مصر؟ الحق فى
- (الرعاية الصحية - أداء الواجبات المدرسية - المحافظة على البيئة - مساعدة أفراد الأسرة)
- ٢ يحصل الطفل على التعليم المناسب فى
- (المستشفيات - المدارس - الشوارع - النوادى)
- ٣ عند تعرض الطفل فى مصر للعنف فإن عليه الاتصال ب
- (خط نجدة الطفل - وزارة الصحة - المدرسة - الإسعاف)
- ٤ أى من الشخصيات المصرية التالية حقق مراكز متقدمة رغم إعاقة البصرية؟
- (سيد درويش - جمال حمدان - طه حسين - طلعت حرب)
- ٥ المادة ٨٠ من الدستور المصرى تم وضعها لرعاية
- (الوطن - الطفل - المرأة - الشباب)

المستوى الثانى

حدد المختلف في المجموعة التالية:

السؤال الرابع

(الاسم المناسب - المسكن اللائق - المحافظة على البيئة - التعليم المناسب)

لاحظ الصور التي أمامك ثم حدد في الجدول التالي:

السؤال الخامس

أي منها يعبر عن حقوق الطفل؟ وأي منها يعبر عن واجباته؟

واجبات	حقوق	الصورة
		
		
		
		

السؤال السادس

أجب عن الأسئلة الآتية:

١ ما رأيك في اهتمام مصر بحقوق الأطفال؟

٢ ما العلاقة بين دستور مصر عام ٢٠١٤م وذوى الاحتياجات الخاصة؟

٣ لماذا قامت الدولة بتوفير خط نجدة الطفل؟

السؤال الأول : أكمل:

- ١- من واجبات الطفل
- ٢- أصدرت اتفاقية لحماية حقوق الطفل عام ١٩٨٩.
- ٣- من حقوق الطفل الحصول على

السؤال الثاني : صوب ما تحته خط في الجملة التالية:

- أهمل الدستور المصري حقوق ذوي الاحتياجات الخاصة.

السؤال الثالث : اختر الإجابة الصحيحة مما بين القوسين:

١- لم تكن الإعاقة مانعًا له من الحصول على لقب عميد الأدب العربي

(جمال حمدان - عباس العقاد - طه حسين - طلعت حرب) (الأقصر)

٢- التحاق الطفل بالمدرسة يعد من حقوق الطفل في

(التعليم - الصحة - السكن - الأمن) (الإسكندرية)

٣- توفير منزل ملائم للطفل يشير إلى حق الطفل في

(التعليم - السكن - الترفيه - اللعب) (الجيزة)

٤- عند تعرض الطفل للعنف فإن عليه الاتصال ب.....

(خط نجدة الطفل - وزارة الصحة - المدرسة - الإسعاف) (القاهرة)

٥- توفير الدولة لخط نجدة الطفل رقم ١٦٠٠٠ يعبر عن حق الطفل في

(التعليم - الحماية - المشاركة - الترفيه) (القاهرة)

السؤال الرابع : اكتب كلمة (صواب) أمام العبارة الصحيحة، وكلمة (خطأ) أمام العبارة غير الصحيحة

١- يخلو الدستور المصري من مواد لحقوق ذوي الاحتياجات الخاصة.

() (الإسكندرية)

٢- لكل طفل الحق في الرعاية والتعليم والصحة.

() (الجيزة)

٣- تنص اتفاقية حقوق الطفل على أن لكل طفل حقًا في الرعاية والحماية والمشاركة.

() (المنوفية)

٤- أكدت كافة الأديان السماوية على حقوق الأطفال.

() (الشرقية)

٥- أهمل الدستور المصري حقوق ذوي الاحتياجات الخاصة.

() (الشرقية)

٦- التحاق الطفل بالمدرسة دليل على تمتعه بحقه في التعليم.

() (بورسعيد)

السؤال الخامس : أجب عما يأتي:

١- اذكر اثنين من حقوق الطفل المصري.

(الإسكندرية)

٢- اكتب دليلاً على اهتمام الدولة بذوي الاحتياجات الخاصة.

(الجيزة)

٣- حدد سببًا واحدًا لإصدار اتفاقية حقوق الطفل عام ١٩٨٩م.

(الشرقية)



السؤال الأول: (١) أكمل العبارات الآتية بالكلمات المناسبة مما بين القوسين:

(الأمم المتحدة - واجبات - الأمن - المستشفيات)

- ١- يحصل الطفل على الرعاية الصحية في
 - ٢- اتفاقية حقوق الطفل عام ١٩٨٩م من الجهود الدولية التي صدرت عن
 - ٣- يجب أن تتميز البيئة التي يعيش فيها الطفل ب.....
 - ٤- الالتزام بالقواعد والقوانين من الطفل.
- (ب) حدد سببًا واحدًا لإصدار اتفاقية حقوق الطفل عام ١٩٨٩م.**

السؤال الثاني: (١) ضع دائرة حول الإجابة الصحيحة مما يلي:

١- أي من الصور التالية يعبر عن حق الطفل في التعليم؟



(د)



(ج)



(ب)



(أ)

٢- يضمن دستور مصر عام ٢٠١٤م حقوق

- (الطفل فقط - ذوى الاحتياجات الخاصة فقط - المرأة فقط - الطفل وذوى الاحتياجات الخاصة معًا)
- ٣- يمكننا الاتصال بخط نجدة الطفل عند تعرضه ل.....
- (الحماية - العطف - العنف - الاحتواء)

(ب) وضع أهم الواجبات التي يجب أن يقوم بها الطفل.

السؤال الثالث: اكتب كلمة (صواب) أمام العبارة الصحيحة وكلمة (خطأ) أمام العبارة غير الصحيحة:

- ١- التحاق الطفل بالمدرسة دليل على تمتعه بحقه في التعليم. ()
- ٢- أهمل الدستور المصري حقوق ذوى الاحتياجات الخاصة. ()
- ٣- أكدت كافة الأديان السماوية على حقوق الأطفال. ()
- ٤- اتفاقية حقوق الطفل تنص على أن الطفل له الحق في الرعاية والحماية. ()
- ٥- للطفل الحق في الرعاية والصحة. ()





شخصيات مصرية مؤثرة




طه حسين

طه حسين كاتب ومفكر مصري، لُقِّب بعميد الأدب العربي.

مولده: ولد الدكتور طه حسين في محافظة المنيا عام ١٨٨٩ م.

حياته:

- لم تكن بداية حياته سهلة، حيث فقد بصره في صغره، وعاش في أسرة فقيرة.
- لكن المثابرة والعمل الجاد استطاع أن يصل إلى مكانة متميزة في المجتمع.
- فقد بدأ حياته العلمية بالتحاقه بكتاب قريته، فحفظ القرآن الكريم.
- ثم التحق بالأزهر لِيَتِمَّ تعليمه، ثم انتسب إلى الجامعة المصرية. حتى حصل على درجة الدكتوراه.
- عُيِّن أستاذًا للتاريخ في جامعة القاهرة عام ١٩١٩ م.
- كتب العديد من المؤلفات، منها كتاب «الأيام» الذي نشره عام ١٩٢٩ م. وتناول فيه سيرته الذاتية بأسلوب إبداعي.
- تولى منصب وزير المعارف (وزير التربية والتعليم حاليًا) خلال عامي ١٩٥١ م و١٩٥٢ م.
- كان مؤمنًا بحق التعليم المجاني لكل المصريين، حيث كان يرى أن «التعليم كالماء والهواء»، فأقر مجانية التعليم التي بدونها لم يكن باستطاعة الكثيرين من أطفال مصر الحصول على التعليم.
- وقد كان جديرًا بأن يكون مثلًا أعلى للكثيرين؛ وذلك بسبب تخطبه عقبات كثيرة خلال حياته مُثَبِّتًا عزمه وإصراره.



حصل على:

- حصل طه حسين أثناء مسيرته الأدبية على عدد من الجوائز والأوسمة، ورُشِّح لجائزة نوبل للآداب عدة مرات.

وفاته: توفي عام ١٩٧٣ م، حيث خسر الأدب العربي أحد أهم أعمدته.

افهم وطبق

(١) التفكير الناقد:

- ١- كيف لا تزال إسهامات الدكتور «طه حسين» في مجال التعليم تؤثر في الحياة بمصر حتى اليوم؟
- ٢- في رأيك، لماذا آمن الدكتور «طه حسين» بأهمية التعليم؟

(ب) تجربة شخصية:

- ١- ما أكثر السمات التي أعجبتك في شخصية الدكتور «طه حسين»؟ دلل على إجابتك.
- ٢- وضح كيف يحسّن التعليم حياتك.



شخصيات مصرية مؤثرة

محمد طلعت حرب

محمد طلعت حرب باشا مفكر واقتصادي من أعلام الاقتصاد في العصر الحديث في مصر، ولقب بـ «أبو الاقتصاد المصري».

مولده: ولد محمد طلعت حرب باشا في القاهرة عام ١٨٦٧م.

حياته:

- أحبَّ بلده مصر كثيرًا وأسهم في تطوره الاقتصادي والاجتماعي، وكان يعرف قيمة ادخار المال وأهمية الدور الذي تلعبه البنوك في التنمية الاقتصادية.
- كان يرى أن «أولى خطوات التحرر من الاستعمار هي تحرير الاقتصاد المصري من التبعية الأجنبية»؛ لذلك أسس بنك مصر.
- كان طلعت حرب أيضًا في بداية حياته كاتبًا بارعًا، وكتب عدة مؤلفات ناقشت قضايا مصر والعالم الإسلامي.

أعماله:

- أسس بنك مصر، وكان هذا البنك ملكًا للمصريين ويُدار بعقول مصرية، واستُخدمت اللغة العربية في كل أنظمتها ووسائل التواصل فيه.
- وتم تأسيس العديد من الشركات العملاقة بمساعدة هذا البنك وحملت اسم مصر مثل: (شركة مصر للغزل والنسيج - مصر للطيران - مصر للتأمين - استديو مصر، وغيرها).



وفاته:

- توفي عام ١٩٤١م.
- وبعد وفاته مُنح اسمه قلادة النيل العظمى نظير خدماته التي قدمها لمصر.
- وأطلق اسمه على أحد الشوارع التي تقع في وسط القاهرة.



افهم وطبق

التفكير الناقد:

- ١- في رأيك، أي من إسهامات طلعت حرب كان الأهم لمصر؟ دُلّ على إجابتك.
- ٢- كيف يمكنك ادخار المال أنت وأسرتك؟



السؤال الأول: أكمل العبارات الآتية بما يناسبها من كلمات :

- ١- القطن من الخامات التي تدخل في صناعة
- ٢- تنتشر صناعة الفخار في البيئة
- ٣- يعد بناء المستشفيات من الخدمات
- ٤- مبادرة تهدف للتخفيف عن المواطنين في المجتمعات الأكثر احتياجًا مبادرة
- ٥- كاتب مصري استطاع تحدى الإعاقة البصرية وحصل على الدكتوراه، وحصل على العديد من الجوائز
- ٦- أشياء يجب أن نحصل عليها لنعيش هي

السؤال الثاني: اكتب كلمة (صواب) أمام العبارة الصحيحة، وكلمة (خطأ) أمام العبارة غير الصحيحة:

- ١- الحرف والصناعات التراثية انتشرت في مصر حديثًا. ()
- ٢- الحرف التراثية لها أهمية في دعم الاقتصاد المصري. ()
- ٣- تهدف مبادرة «حياة كريمة» إلى الكشف المبكر عن مرض الالتهاب الكبدي الوبائي. ()
- ٤- يقوم الأطباء بحماية المؤسسات. ()
- ٥- أكد الدستور المصري على حقوق ذوى الاحتياجات الخاصة. ()
- ٦- أنشأ محمد طلعت حرب باشا بنك مصر. ()

السؤال الثالث: اختر الإجابة الصحيحة مما بين القوسين:

- ١- من الحرف التراثية المدرجة على قائمة التراث العالمى لليونسكو
- ٢- إذا أردت شراء العديد من منتجات الحرف التراثية، فعليك زيارة معرض
- ٣- توفير الدولة للمستشفيات والأدوية والأمصال يعد من الخدمات
- ٤- (ورق البردى - السجاد اليدوى - الفخار - الزجاج)
- ٥- (ديارنا - الكتاب - تراثنا - الملابس)
- ٦- (الترفيهية - التعليمية - الصحية - الأمنية)

٤- حماية المواطنين وتوفير الأمن والاستقرار لهم يعد من الخدمات

(التعليمية - الأمنية - الثقافية - الرقمية)

٥- قيام المعلم بعمله في المدرسة يعد للمجتمع.

(سلعة - خدمة - تجارة - صناعة)

٦- إنفاق النقود لشراء الحاجات والرغبات يعد

(ادخارًا - استثمارًا - استهلاكًا - إسرافًا)

السؤال الرابع: اكتب ما تشير إليه العبارات الآتية:

- ١- أسلوب حياة يهدف إلى التعامل بشكل مسئول مع موارد بيئتنا. (.....)
- ٢- كل ما يتم إنتاجه ونقوم بشرائه. (.....)
- ٣- عمل أو نشاط تقوم به الدولة لتلبية حاجات أو رغبات المواطنين. (.....)
- ٤- أشياء يجب أن تحصل عليها لتعيش. (.....)
- ٥- أشياء من الجيد الحصول عليها، ولكن تستطيع العيش بدونها. (.....)

السؤال الخامس: أمامك خريطة صماء لمصر، اكتب مدلول الأرقام عليها:



- ١- يشير رقم (١) إلى محافظة التي تقع بها قرية الحرائية
- ٢- يشير رقم (٢) إلى محافظة توجد بها صناعة الخيامية
- ٣- يشير رقم (٣) إلى البحر
- ٤- يشير رقم (٤) إلى الصحراء

السؤال السادس: بم تفسر...؟

- ١- أهمية الحرف التراثية.
- ٢- إطلاق الدولة لمبادرة «حياة كريمة».

السؤال السابع: ما النتائج المترتبة على...؟

- ١- مبادرة «١٠٠ مليون صحة» التي أطلقتها الدولة.
- ٢- تقديم خدمات إلكترونية للمواطنين.

السؤال الثامن: ما العلاقة بين...؟

- ١- دستور مصر عام ٢٠١٤ م وذوى الاحتياجات الخاصة.

السؤال الأول : أكمل العبارات الآتية بما يناسبها من كلمات:

١- أسس بنك مصر.

٢- كاتب ومفكر مصري لقب بعميد الأدب العربي وتحدى إعاقته البصرية هو

السؤال الثاني : اكتب كلمة (صواب) أمام العبارة الصحيحة، وكلمة (خطأ) أمام العبارة غير الصحيحة:

١- يعد معرض تراثنا دليلاً على اهتمام الدولة بإحياء الحرف التراثية. ()

٢- تهتم مبادرة «حياة كريمة» بالتشجير وإعادة تدوير المخلفات. ()

٣- استخراج الوثائق الرسمية مثل شهادات الميلاد من الخدمات الإلكترونية. ()

السؤال الثالث : اختر الإجابة الصحيحة مما بين القوسين:

١- مبادرة تهتم بصحة المواطن (حياة كريمة - أهالينا - الأسمرات - ١٠٠ مليون صحة) (القاهرة ٢٠٢٣)

٢- تم إنشاء بهدف إصدار النقود والإشراف على جميع البنوك.

(البنك المركزي - البنك الأهلي - بنك مصر - بنك القاهرة) (الغربية ٢٠٢٣)

٣- التطعيم الذي يحصل عليه الطلاب يعد من الخدمات

(البيئية - التعليمية - الصحية - الأمنية) (دمياط ٢٠٢٣)

السؤال الرابع : صوب ما تحته خط :

١- صناعة الزجاج تم إدارتها ضمن قائمة التراث العالمي.

٢- توفر الدولة الأدوية والأمصال كخدمة بيئية للمواطنين.

٣- أهم الدستور المصري حقوق ذوى الاحتياجات الخاصة.

٤- صناعة الفخار يتم إنتاجها فى شارع الخيامية بالأزهر.

السؤال الخامس : أجب عن الأسئلة الآتية:

١- فسر: تعد مدينة الروبيكى مدينة صديقة للبيئة.....

٢- اذكر اثنين من حقوق الطفل.....

السؤال الأول: (١) ضع دائرة حول الإجابة الصحيحة:

- ١- اهتمام الدولة بالنظافة العامة للميادين يعد من الخدمات
(الصحية - الأمنية - التعليمية - البيئية)
- ٢- «تلبية احتياجات السياح ومجتمعات البلد المضيف للسياح دون الإضرار بالبيئة». العبارة السابقة تشير إلى
(السياحة المستدامة - التنمية المستدامة - الحياة المستدامة - الطاقة المستدامة)
- ٣- محافظة الدقهلية تشتهر بصناعة
(الزجاج - الفخار - الخيامية - النسيج)
- ٤- أي من الشخصيات الآتية أثرت على الاقتصاد المصري؟
(طه حسين - طلعت حرب - سيد درويش - جمال حمدان)

(ب) بم تفسر: أهمية الحرف التراثية؟

السؤال الثاني: (١) ضع علامة (✓) أمام العبارة الصحيحة، وعلامة (x) أمام العبارة غير الصحيحة:

- ١- إقامة المهرجانات من مجهودات الدولة لإحياء الحرف التراثية. ()
 - ٢- مبادرة التطوير العمراني تهتم بصحة المواطن المصري. ()
 - ٣- البريد المصري مسئول عن إصدار النقود. ()
 - ٤- تشتهر قرية الحراية بصناعة السجاد اليدوي. ()
- (ب) صف السلوك الآتي إلى إيجابي أو سلبي:

- شراء الكثير من الألعاب. إيجابي سلبي

السؤال الثالث: أكمل العبارات الآتية بالكلمات المناسبة:

- ١- من الحرف التراثية المدرجة على قائمة اليونسكو
- ٢- مبادرة تهدف إلى التخفيف عن المواطنين
- ٣- اتفاقية حقوق الطفل من الجهود
- ٤- للإبلاغ عن العنف الذي يتعرض له الطفل وفرت الدولة خط
- ٥- إنفاق النقود لشراء الحاجات يسمى

السؤال الأول: ضع دائرة حول الإجابة الصحيحة:

- ١- إنشاء مصر أكبر متحف للآثار في العالم يعد من الخدمات
(البيئية - التعليمية - الصحية - الثقافية)
- ٢- إحدى الخدمات الصحية التي توفرها الدولة
(المدارس - المتاحف - المستشفيات - المسارح)
- ٣- يقصد آلاف السياح قرية الحرائية بسبب اشتهارها بصناعة
(الفخار - النسيج - الخيامية - الزجاج)
- ٤- تحرص الدولة على إنشاء مدن جديدة لإحياء الحرف اليدوية مثل مدينة
(الروبيكي - السادات - العبور - أكتوبر)
- ٥- «لم تكن الإعاقة مانعاً لحصوله على لقب عميد الأدب العربي». هذه العبارة تتحدث عن
(طه حسين - سيد درويش - جمال حمدان - طلعت حرب)

السؤال الثاني: صوب ما تحته خط:

- ١- التحاق الطفل بالمدرسة يعد من حقوق الطفل في الأمن. (.....)
- ٢- ما تقوم به الدولة لتلبية احتياجات السكان يطلق عليه سلعة. (.....)
- ٣- إنشاء طلعت حرب بنك القاهرة. (.....)
- ٤- الأشياء التي سيكون من الجيد الحصول عليها، ولكنك تستطيع العيش بدونها تسمى الحاجات. (.....)
- ٥- مساعدة أفراد الأسرة في بعض الأعمال تعد من حقوق الطفل. (.....)

السؤال الثالث: (١) صنف العناصر التي أمامك حسب الجدول التالي:

(الطعام - رحلة سياحية - الملابس - هاتف جديد)

الرجبات	الحاجات

(ب) ما العلاقة بين: الحرف التراثية وحماية البيئة؟

.....

السؤال الأول: اختر الإجابة الصحيحة مما بين القوسين:

- ١- من أمثلة المنتجات اليدوية في مصر.....
(السلال - السيارات - الطائرات - الهواتف)
- ٢- من الحرف المدرجة على قائمة التراث العالمى لليونسكو صناعة.....
(ورق البردى - الفخار - السجاد اليدوى - الزجاج)
- ٣- المدارس والجامعات تقدم للمجتمع خدمات.....
(صحية - بيئية - تعليمية - أمنية)
- ٤- أى من الشخصيات المصرية التالية حققت مراكز متقدمة رغم إعاقتها البصرية؟
(سيد درويش - جمال حمدان - طه حسين - طلعت حرب)
- ٥- البنك الذى يشرف على جميع البنوك المصرية هو.....
(البنك الأهلى - بنك مصر - البنك المركزى المصرى - بنك القاهرة)

السؤال الثانى: اكتب كلمة (صواب) أمام العبارة الصحيحة، وكلمة (خطأ) أمام العبارة غير الصحيحة:

- ١- لشراء منتجات الخيامية فإنك تذهب إلى منطقة الأزهر بالقاهرة. ()
- ٢- تهدف مبادرة «حياة كريمة» إلى الكشف المبكر عن مرض الالتهاب الكبدى الوبائى. ()
- ٣- الالتزام بالقواعد والقوانين من واجبات الطفل. ()
- ٤- استخراج الوثائق الرسمية مثل شهادات الميلاد من الخدمات الإلكترونية. ()
- ٥- الاستهلاك يعنى إنفاق النقود لشراء الحاجات والرغبات. ()

السؤال الثالث: (١) صوب ما تحته خط:

- ١- منتجات الفخار يتم إنتاجها فى شارع الخيامية بالأزهر. (.....)
- ٢- إنشاء الدولة للأندية الرياضية والحدائق من الخدمات التعليمية. (.....)
- ٣- أسس طه حسين بنك مصر. (.....)

أجب عن الأسئلة التالية:

١- ما العلاقة بين الاستهلاك والاقتصاد؟

٢- وضح أهمية الحرف التراثية فى دعم الاقتصاد المصرى.



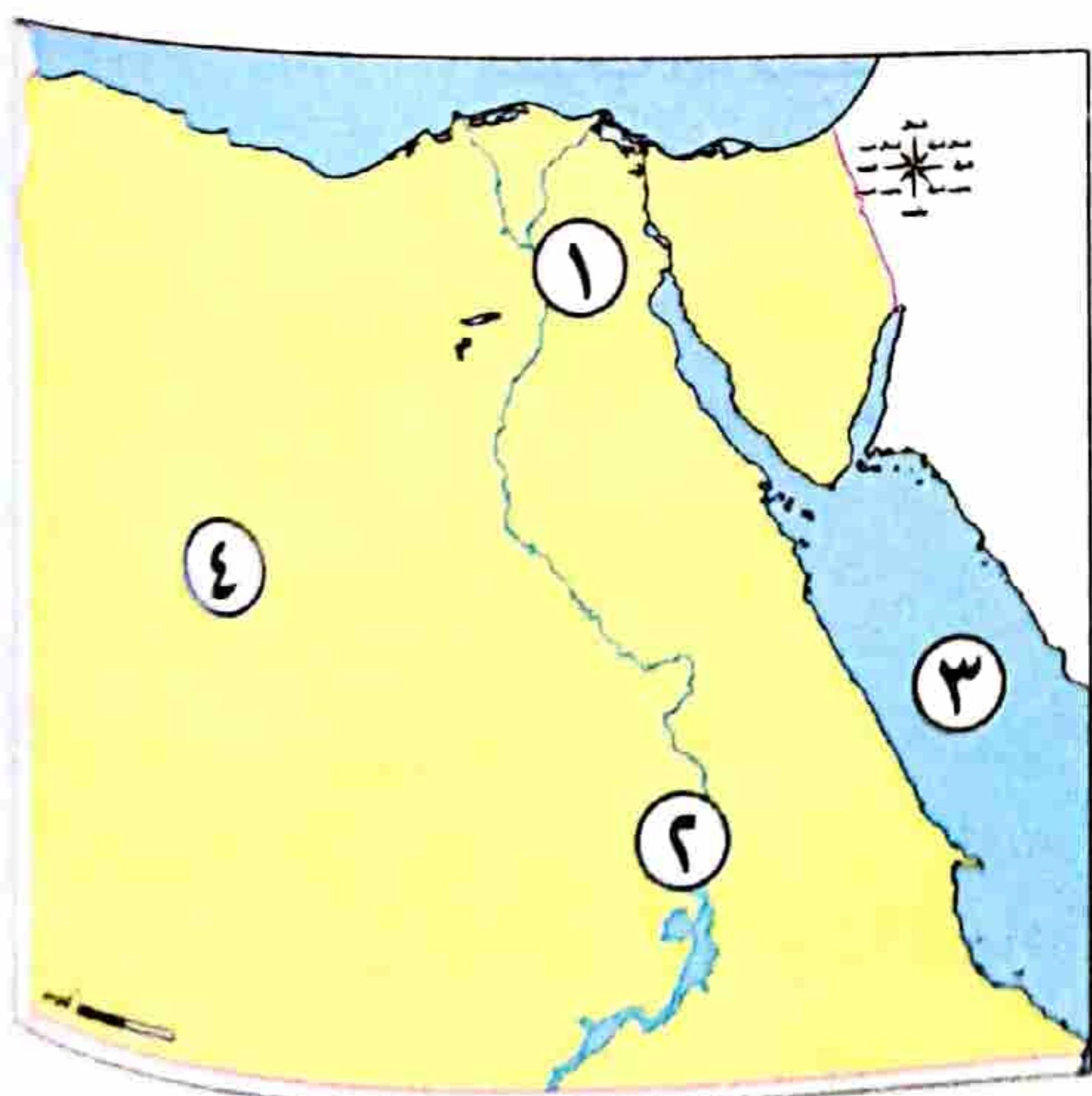
السؤال الأول: اكتب كلمة (صواب) أمام العبارة الصحيحة، وكلمة (خطأ) أمام العبارة غير الصحيحة.

- ١- صناعة الفخار مدرجة على قائمة التراث العالمى. ()
- ٢- أكدت كافة الأديان السماوية على حقوق الأطفال. ()
- ٣- السلع هي المنتجات التي يتم إنتاجها ونقوم بشرائها. ()
- ٤- من حقوق الطفل المشاركة في اتخاذ قرارات تؤثر في حياته. ()
- ٥- تسعى الدولة إلى إنشاء الطرق والكبارى وتطوير العشوائيات. ()

السؤال الثانى: أكمل العبارات الآتية بكلمات مناسبة:

- ١- قبول الودائع من الخدمات التي تقدمها
- ٢- وفرت الدولة وقت المواطنين عن طريق الخدمات
- ٣- الدكتور طه حسين تحدى إعاقة فقد
- ٤- تهتم الدولة بتجميل الميادين ونظافة الشوارع، ويعد ذلك ضمن الخدمات
- ٥- حرفة يدوية يعتمد فيها الصانع على الإبرة والخيط لعمل الخيام.

السؤال الثالث: (أ) أمامك خريطة لمصر، اكتب مدلول الأرقام عليها:



- ١- محافظة تتركز فيها صناعة الخيامية
- ٢- منطقة تنتشر فيها الصناعات اليدوية
- ٣- البحر
- ٤- الصحراء

(ب) فسر:

- إطلاق الدولة لمبادرة حياة كريمة.



المفردات

(أ) اكتب وقارن:

- اكتب جملة تشرح فيها الفرق بين كل مفهومين، ثم قارن بين جملك وجمل زميل لك.
- ١- السلع والخدمات.
 - ٢- الادخار والاستثمار.
 - ٣- الرغبات والحاجات.

اسئلة على الخرائط والصور

(ب) لاحظ وأجب



- ١- لاحظ الصورة التي أمامك وحدد نوع الحرفة التراثية التي تشير إليها.
- ٢- اذكر أمثلة أخرى للحرف التراثية، ووضح أهمية الحفاظ على استمراريتها.
- ٣- اذكر بعض المبادرات التي تقوم بها الدولة لإحياء وتطوير الحرف التراثية.

التفكير الناقد

(ج) فكروا وأجب:

- ١- اكتب دليلاً على صحة العبارة: «كفل الدستور المصري ٢٠١٤ م لأطفال مصر التمتع بحياة كريمة»
- ٢- يُعد كلٌ من التعليم، ومعالجة المياه، والرعاية الصحية، وتشديد الطرق، من الخدمات التي تقدمها الدولة. كيف نظهر احترامنا وتقديرنا للدولة لتقديمها هذه الخدمات؟
- ٣- فسّر أهمية توفير الدولة للخدمات الإلكترونية للمواطنين.
- ٤- اشرح العلاقة بين إنشاء البنوك والاقتصاد المصري.
- ٥- ما الفكرة المبتكرة لمحمد طلعت حرب باشا؟ وكيف دعمت هذه الفكرة الاقتصاد المصري؟
- ٦- وضح جهود الدولة لدعم الأطفال ذوي الاحتياجات الخاصة وضمان حصولهم على كافة حقوقهم.

السؤال الرئيسي

(د) اكتب قائمة بالحقوق التي كفلها لك الدستور المصري والخدمات التي تقدمها لك الدولة لتلبية تلك الحقوق، موضحاً مسنولياتك تجاهها.

نشاط

(هـ) يسعى أحد البنوك إلى تمويل مشاريع جديدة في منطقتك. اكتب مقترحاً يتضمن المشاريع التي ترى أنها قد تكون مفيدة لمجتمعك.

مشروع الفصل الدراسي الأول

١ اقرأ الموضوع التالي، واعمل على تنفيذه (سيعطيك المعلم خيارات إضافية).

الموضوع: صمم دليلًا سياحيًا عن محافظتك؛ لعرضه في المعرض السنوي للمحافظة، وسجل فيه بعض المعلومات عن المحافظة، مثل: الموقع الجغرافي، وصور للمظاهر الطبيعية فيها، وشعار المحافظة، وعيدها القومي، وغيرها من المعلومات.

٢ اختر أعضاء فريقك، مع من تعمل؟

.....

.....

٣ عصف ذهني:

ما المنتج؟ كيف سيكون شكله؟ ما الخطوات التي عليك اتباعها؟

.....

.....

٤ جمع المعلومات:

ما المعلومات التي يجب أن تعرفها؟

من أين ستحصل على معلوماتك؟
مكتبة المدرسة.

بنك المعرفة المصري.

مقابلة مع أفراد أسرتي وزملائي.

.....

.....

.....

.....

٥ مخططنا:

دوّن خطوات إنجاز مشروعك.

.....

٦ منتجنا النهائي:

اكتب وصفًا للمنتج النهائي.

.....

٧ عرض مشروعنا أمام زملائنا في الفصل:

كيف يمكننا عرض العمل؟ ماذا سنقول؟

.....

• موقع بنك المعرفة المصري <https://www.ekb.eg>

اكتب كلمة (صواب) أمام العبارة الصحيحة، وكلمة (خطأ) أمام العبارة غير الصحيحة:

- 1 تستخدم الأقمار الصناعية في التقاط الصور الجوية. ()
- 2 إذا أردت معرفة موقع مدينة القاهرة على الخريطة فانظر إلى مقياس الرسم. ()
- 3 الاستعانة بالنقوش الموجودة على جدران معبد الأقصر لكتابة بحث تاريخي يعد مصدرًا أوليًا. ()
- 4 «تقع مصر في منطقة الإقليم الصحراوي». هذه العبارة تعبر عن حقيقة. ()
- 5 إذا أردت الذهاب في رحلة إلى ساحل البحر الأحمر فعليك الاتجاه إلى غرب مصر. ()
- 6 إذا أردت الذهاب إلى العاصمة الإدارية الجديدة، فإن (GPS) يساعدك في تحديد اتجاهاتك. ()
- 7 ساعد نهر النيل قديمًا على زيادة التجارة بين مصر ودول وسط إفريقيا. ()
- 8 تشترك محافظة القاهرة في حدودها الشرقية مع محافظة السويس. ()
- 9 يدل النسر الذي يتوسط علم مصر على القوة والشجاعة. ()
- 10 يرتبط العيد القومي لمحافظة بذكرى تاريخية. ()
- 11 يعبر شعار محافظة عن نشاط السكان. ()
- 12 تُلون خريطة مستويات ارتفاعات سطح مصر بلون واحد. ()
- 13 معرفة أحوال طقس محافظتك يساعدك في تحديد نوع الملابس الواجب ارتداؤها. ()
- 14 يُعد بيان الهيئة العامة للأرصاد الجوية بانخفاض درجة الحرارة غدًا تنبؤًا بحالة الطقس. ()
- 15 عند زيارتك للبيئة الزراعية يمكنك ملاحظة الكثبان الرملية فيها. ()
- 16 يمكنك الاستمتاع بالشعاب المرجانية عند زيارتك لسواحل البحر المتوسط. ()
- 17 يتركز السكان في الواحات في مناطق وجود المياه الجوفية. ()
- 18 إذا أردت إنشاء مصنع للزجاج فأنت تحتاج إلى الرمال البيضاء المنتشرة على سواحل البحر المتوسط. ()
- 19 يساعد إنشاء محطات تحلية مياه البحر على زيادة كميات المياه العذبة. ()
- 20 يؤدي انتشار الجرف اليدوية إلى ارتفاع نسب البطالة. ()
- 21 تنص اتفاقية حقوق الطفل على أن لكل طفل الحق في الرعاية، والحماية، والمشاركة. ()
- 22 يقوم بنك مصر بإصدار النقود الورقية نيابة عن الدولة. ()

السؤال الثاني ضع خطًا تحت الإجابة الصحيحة فيما بين القوسين:

- ١ إذا أردت حساب المسافة بين محافظتى القاهرة والجيزة فى الطبيعة، فإنك تحتاج إلى معرفة
(عنوان الخريطة - مقياس رسم الخريطة - مفتاح الخريطة - وردة البوصلة)
- ٢ «مدينة شرم الشيخ أجمل المدن المصرية». تعبر هذه العبارة عن
(رأى - خيال - حقيقة - واقع)
- ٣ تقع مصر شمال شرق قارة.....
(إفريقيا - أستراليا - أمريكا الجنوبية - أوروبا)
- ٤ إذا أردت زيارة أكبر محافظات مصر مساحة، فعليك بالتوجه إلى محافظة.....
(دمياط - المنوفية - الغربية - الوادى الجديد)
- ٥ لون فى عَلم مصر يدل على ما تعرضت له من ظلم فى فترات الاستعمار، هو.....
(الذهبى - الأحمر - الأسود - الأبيض)
- ٦ تحتفل القاهرة بعيدها القومى فى ذكرى.....
(بناء مدينة القاهرة - بناء الجامع الأزهر - حفر قناة السويس - جلاء الإنجليز)
- ٧ ظاهرة تضاريسية فى محافظة جنوب سيناء يزيد ارتفاعها على ١٠٠٠ مترهى
(جبل - تل - منخفض - هضبة)
- ٨ يسود معظم مصر مناخ.....
(صحراوى - استوائى - مدارى - قطبى)
- ٩ تخلو البيئة الصحراوية فى مصر من.....
(المنخفضات - الهضاب - الجبال - الجزر)
- ١٠ إذا أراد شخص بناء مصنع لصناعة الخزف، فإنه يحتاج إلى أحد الموارد الطبيعية التالية، وهو
(الرمال البيضاء - الرمال السوداء - الطين - الرمال الصفراء)
- ١١ صناعة تنتشر فى العديد من الأماكن ومنها محافظة الدقهلية
(صناعة النسيج - صناعة الخيامية - صناعة السجاد اليدوى - صناعة الزجاج)
- ١٢ توفير الدولة لخط نجدة الطفل رقم ١٦٠٠٠ يعبر عن حق الطفل فى
(التعليم - الحماية - المشاركة - الترفيه)
- ١٣ البنك الذى يشرف على جميع البنوك المصرية هو
(بنك القاهرة - البنك الأهلى - بنك مصر - البنك المركزى المصرى)
- ١٤ الأشياء التى يكون من الجيد الحصول عليها، ولكن يمكن العيش بدونها تسمى
(الرغبات - الحاجات - الاستهلاك - الادخار)

السؤال الثالث اكتب تفسيرًا واحدًا لما يلي:

١ أهمية رسم وردة البوصلة على الخريطة.

٢ إنشاء الدولة للعاصمة الإدارية الجديدة.

٣ أهمية وجود علم لكل دولة.

٤ أهمية معرفتك أحوال الطقس يوميًا.

٥ أهمية الصحراء البيضاء والسوداء للاقتصاد المصري.

السؤال الرابع اكتب نتيجة واحدة ترتبت على كل مما يلي:

١ حفر قناة السويس الجديدة.

٢ وجود المياه الجوفية في الواحات.

٣ تقديم الخدمات الإلكترونية للمواطنين.

٤ إنشاء البنك المركزي المصري.

السؤال الخامس حدّد أوجه التشابه والاختلاف بين كل مما يلي:

١ السهول الفيضية والسهول الساحلية.

٢ المصدر الأولي والمصدر الثانوي.

٣ الطقس والمناخ.

٤ بنك مصر والبنك المركزي المصري.

السؤال السادس اكتب دليلاً واحدًا على صحة العبارات التالية:

١ مصدر دولة بحرية.

٢ تنوع مظاهر السطح في مصر.

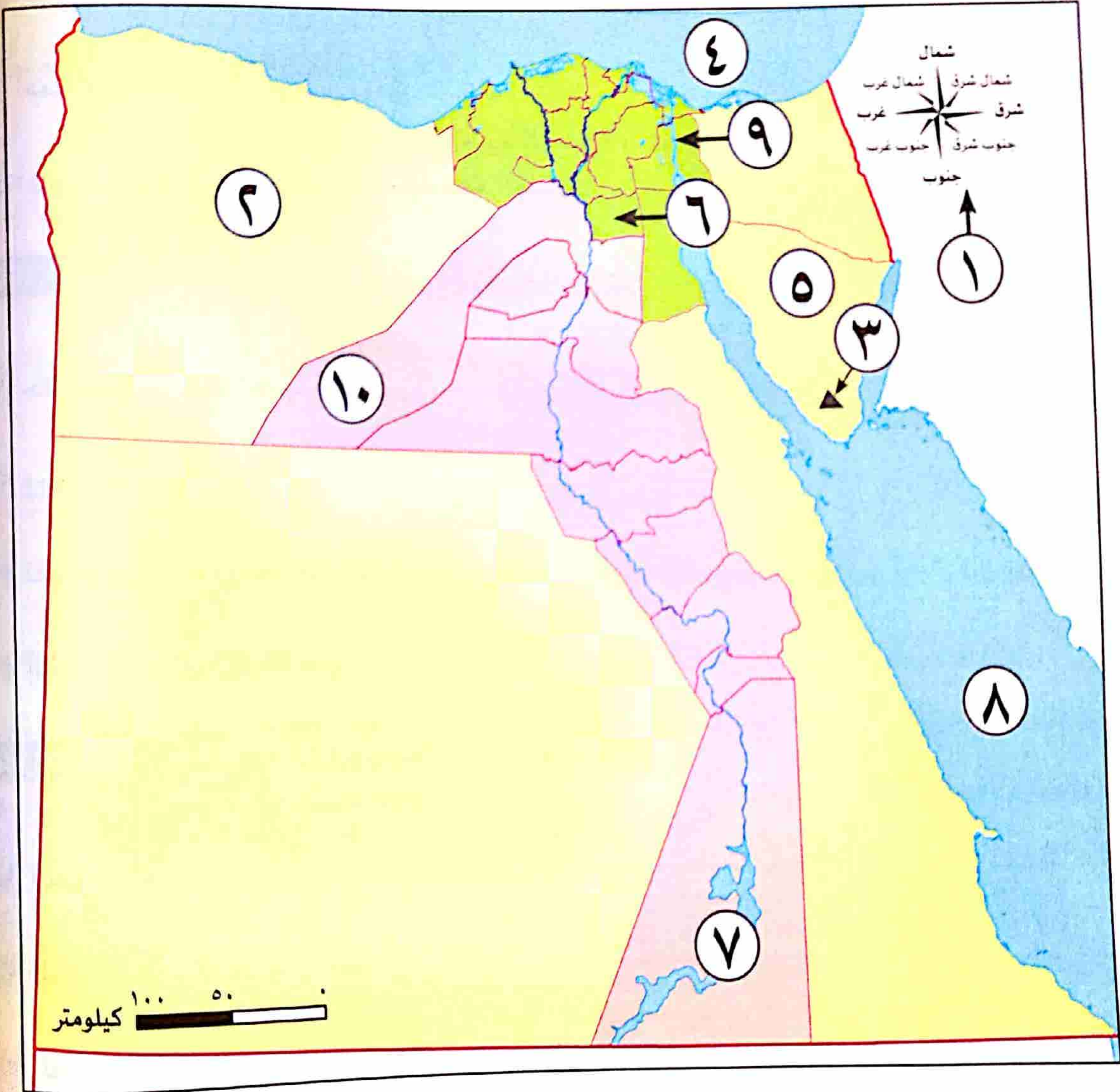
٣ تتعرض التربة لأخطار متعددة.

السؤال السابع اكتب مقترحًا واحدًا لما يلي:

١ ترشيد استهلاكك للكهرباء والمياه.....

٢ إحياء الجرف الترابية في مصر.....

السؤال الثامن اكتب مدلول الأرقام على الخريطة:



١ أحد عناصر الخريطة الذي يوضح الاتجاهات على الخريطة.....

٢ محافظة من محافظات الحدود الصحراوية.....

٣ جبل ٤ البحر ٥ محافظة

٦ محافظة تنتشر بها صناعة الخيامية.....

٧ بحيرة

٨ البحر ٩ قناة

١٠ محافظة تتميز بصناعة السجاد اليدوي.....

الملحق الداخلي

المعتمدة من الوزارة



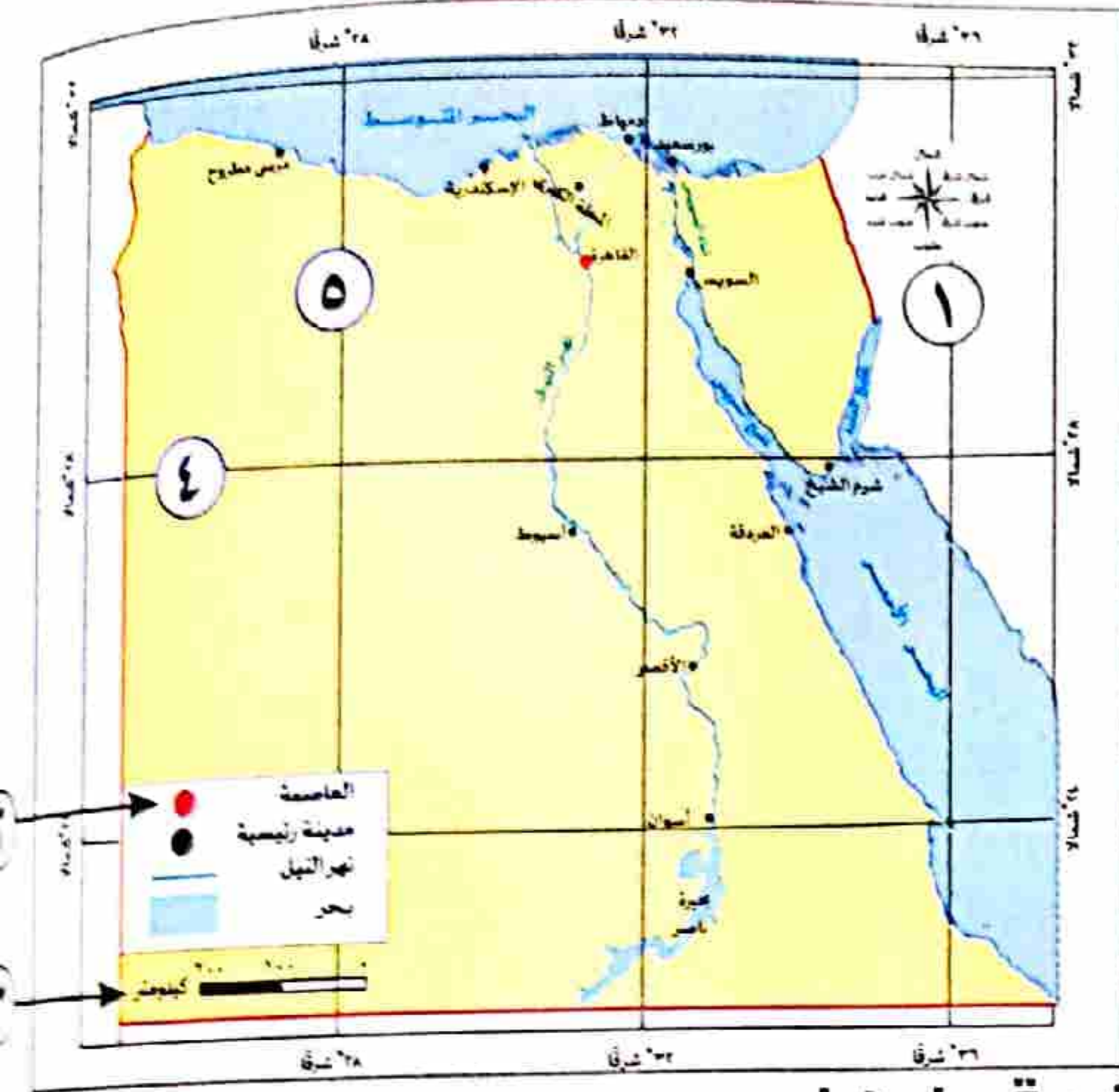
محتويات الملحق

- المراجعة النهائية.
- النماذج الاسترشادية على الشهرين الأول والثاني.
- المفاهيم الأدائية.
- امتحانات المحافظات والإدارات ٢٠٢٢/٢٠٢٣ م.
- الإجابات النموذجية.

المراجعة النهائية

أهم الخرائط

١- أمامك خريطة لمصر، اكتب مدلول الأرقام الموقعة عليها:



١ يشير رقم (١) إلى ودة البوصلة.

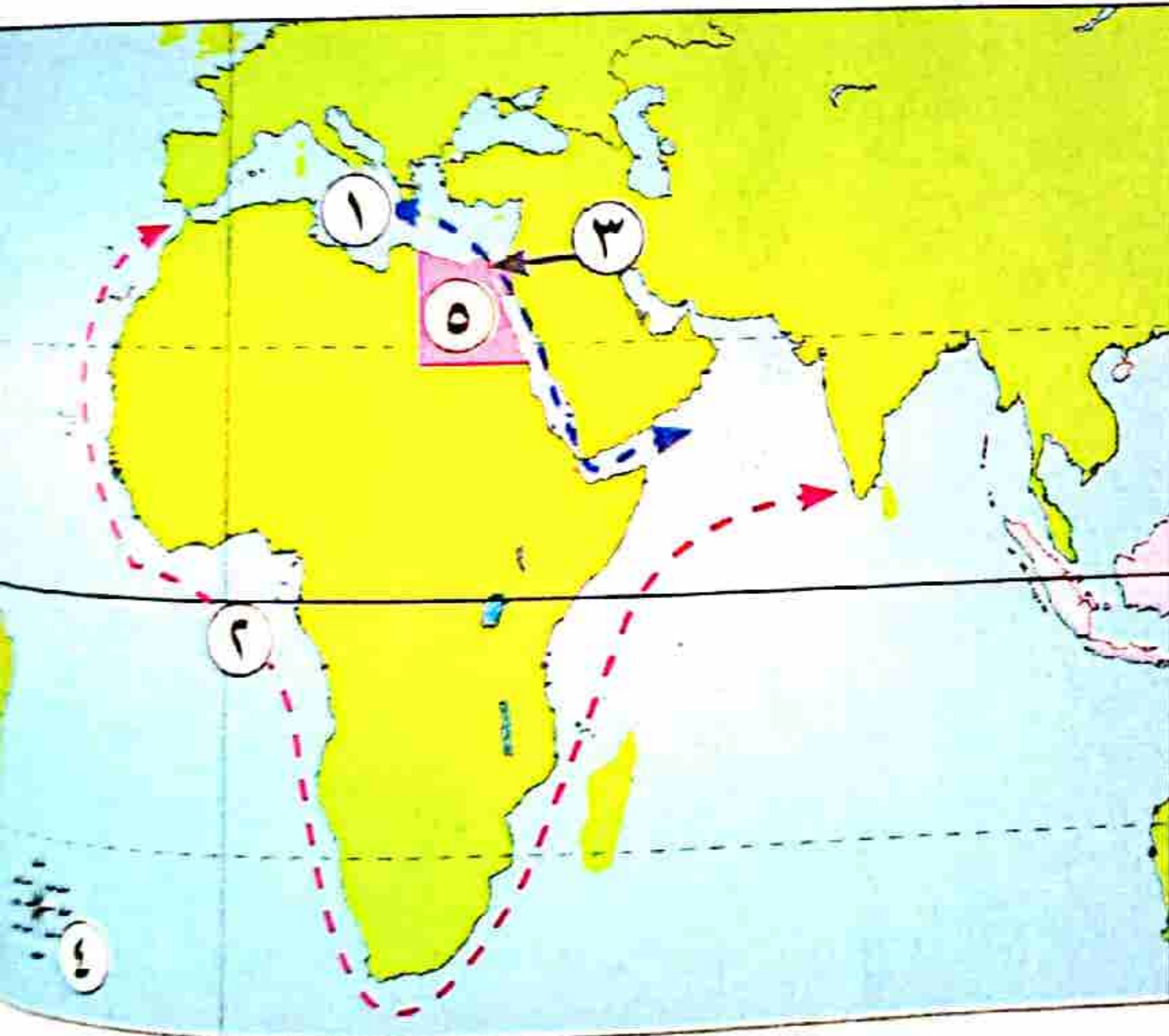
٢ يشير رقم (٢) إلى مفتاح الخريطة.

٣ يشير رقم (٣) إلى مقياس الرسم.

٤ يشير رقم (٤) إلى دائرة عرض.

٥ يشير رقم (٥) إلى خط طول.

٢- أمامك خريطة لقارة إفريقيا، اكتب مدلول الأرقام الموقعة عليها:



١ البحر المتوسط.

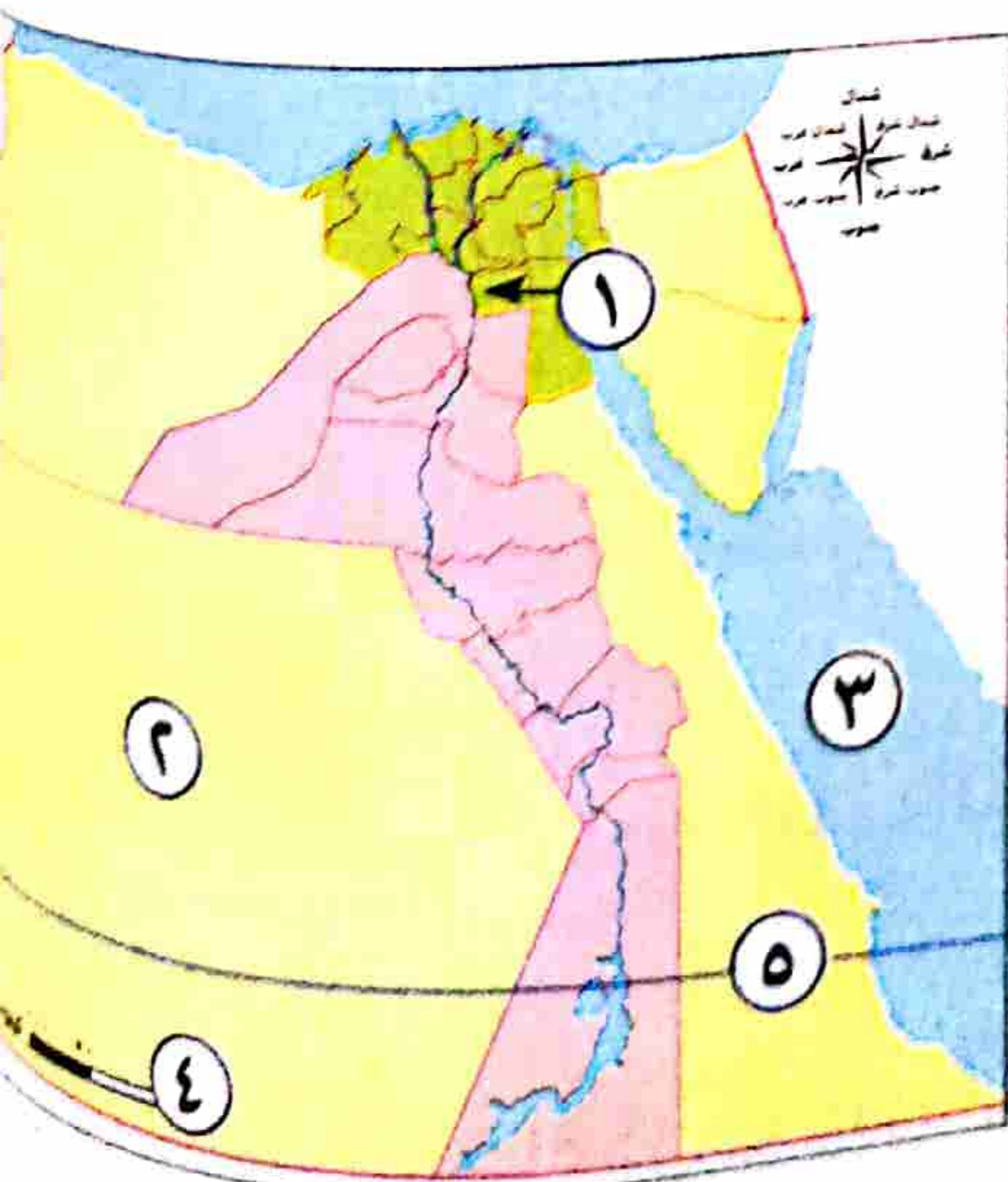
٢ طريق تجارى رأس الرجاء الصالح.

٣ قناة تربط بين البحرين قناة السويس.

٤ توضح الاتجاهات الأصلية ودة البوصلة.

٥ دولة مصر.

٣- أمامك خريطة لمصر، اكتب مدلول الأرقام الموقعة عليها:



١ يشير رقم (١) إلى عاصمة مصر القاهرة.

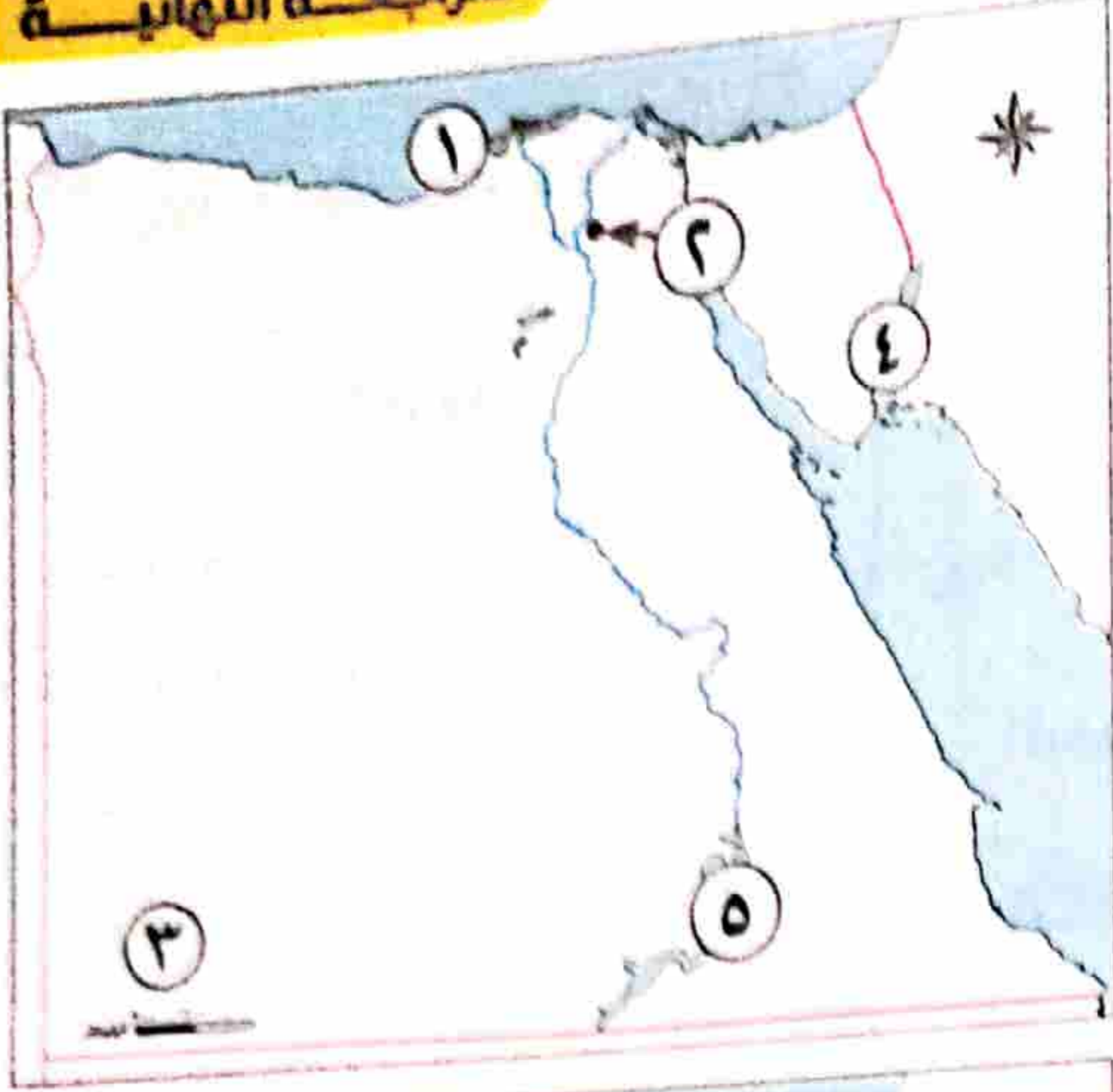
٢ يشير رقم (٢) إلى أكبر المحافظات مساحة الوادى الجديد.

٣ يشير رقم (٣) إلى البحر الأحمر.

٤ يشير رقم (٤) إلى مقياس الرسم.

٥ يشير رقم (٥) إلى دائرة عرض.

٢- امامك خريطة مصر، اكتب مدلول الأرقام الموقعة عليها:



١ بحيرة البرلس.

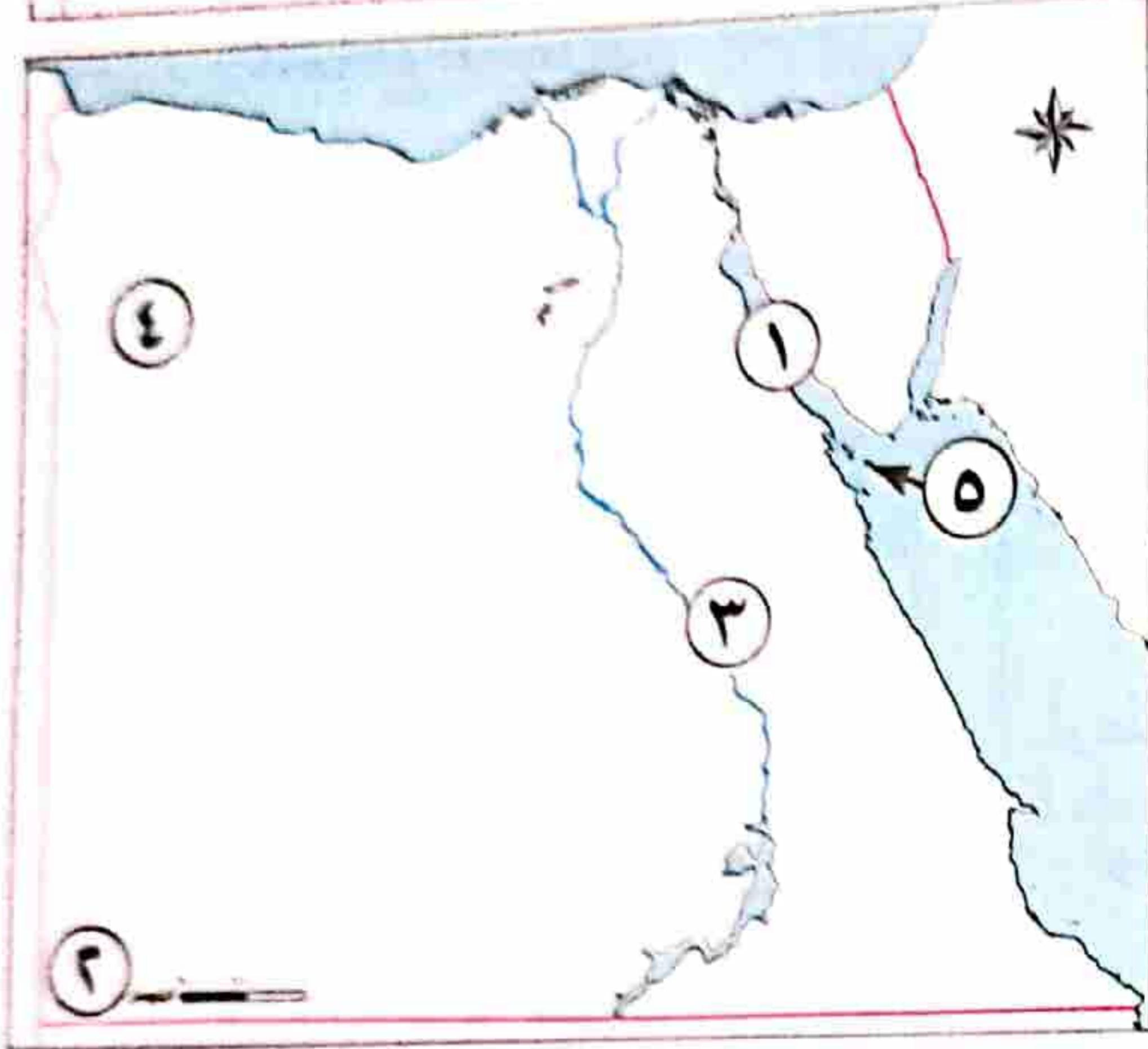
٢ نلال المقطم.

٣ هضبة الجلف الكبير.

٤ خليج العقبة.

٥ بحيرة ناصر.

٣- امامك خريطة تضاريس مصر، اكتب مدلول الأرقام الموقعة عليها:



١ خليج السويس.

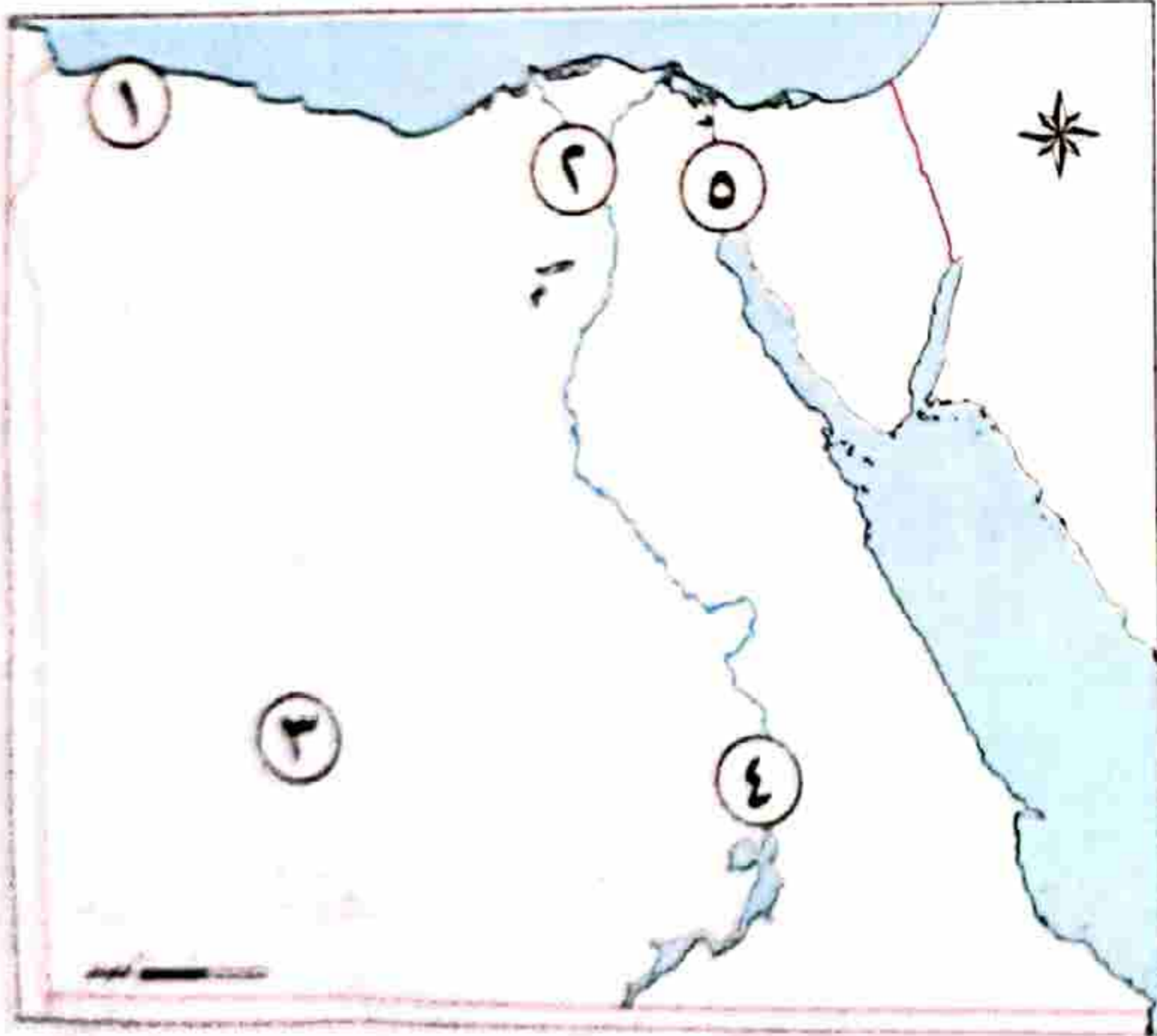
٢ جبل العوينات.

٣ نهر النيل.

٤ واحة سيوة.

٥ جزيرة شنوان.

٤- امامك خريطة صماء لمصر، اكتب مدلول الأرقام الموقعة عليها:



١ يشير الرقم (١) إلى البيئة الساحلية.

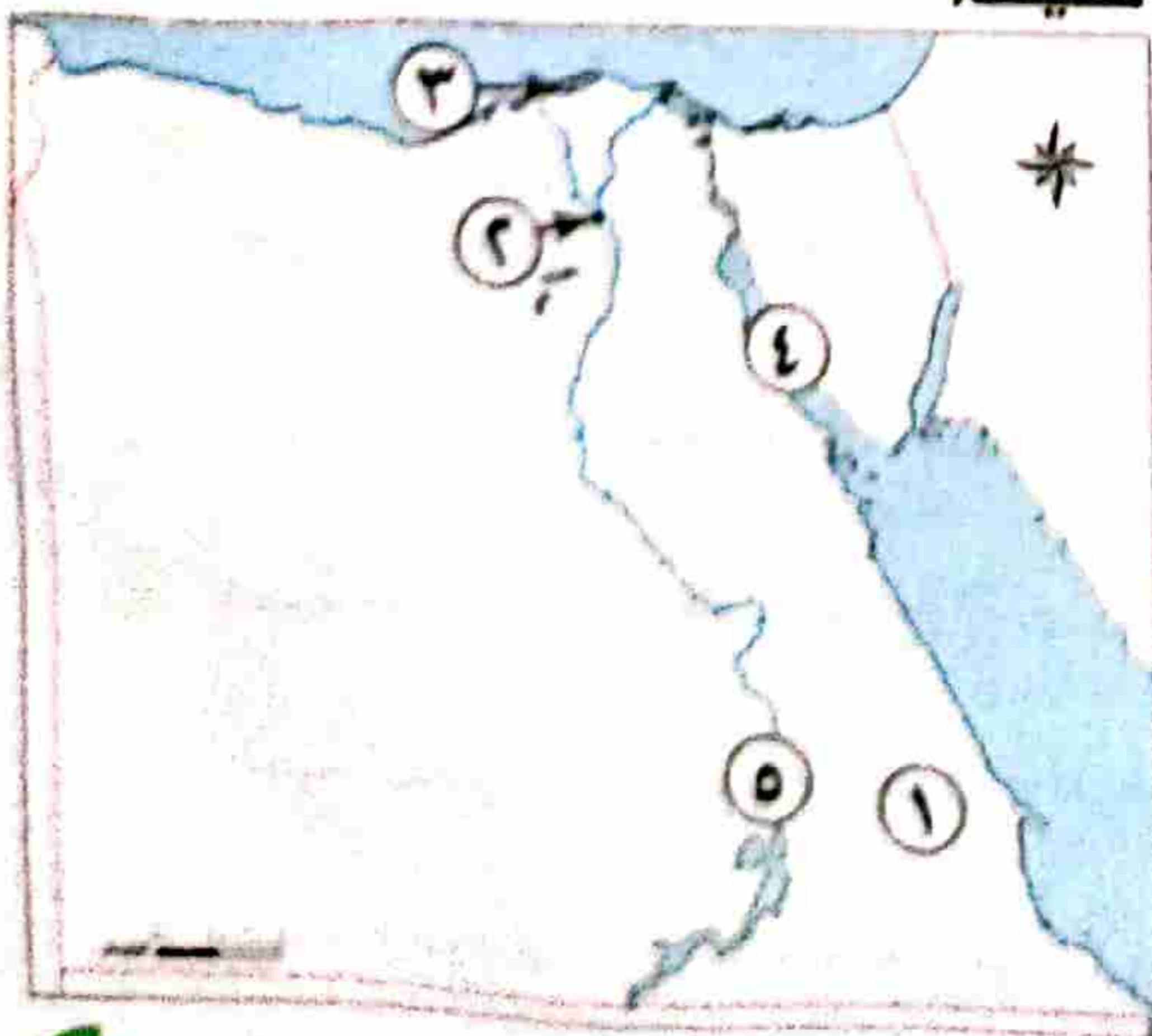
٢ يشير الرقم (٢) إلى البيئة الزراعية.

٣ يشير الرقم (٣) إلى البيئة الصحراوية.

٤ يشير الرقم (٤) إلى السد العالي.

٥ يشير الرقم (٥) إلى قناة السويس.

٥- امامك خريطة صماء لمصر، اكتب مدلول الأرقام الموقعة عليها:



١ يشير الرقم (١) إلى محافظة توجد بها محطة
الزعفرانة محافظة البحر الأحمر.

٢ يشير الرقم (٢) إلى محافظة توجد بها محطة الكريمات الجيزة.

٣ يشير الرقم (٣) إلى بحيرة مياه مالحة بحيرة البرلس.

٤ يشير الرقم (٤) إلى خليج السويس.

٥ يشير الرقم (٥) إلى محطة توليد الطاقة الكهرومائية السد العالي.

المصادر الثانوية

كل ما تم تدوينه بعد مرور زمن طويل من وقوع الحدث، وغالبًا ما يستند إلى المصادر الأولية.

المصادر الأولية

كل ما تم نقشه أو تدوينه سواء من قبل أشخاص عاصروا الحدث أو شاركوا فيه، ويرتبط بزمن وقوع الحدث.

الخريطة

رسم توضيحي لسطح الأرض أو جزء منه باستخدام مجموعة من: - الرموز. - الألوان - مقياس رسم محدد.

العَلَم

يرمز علم كل بلد لتاريخه وتراثه ولكل جزء فيه معنى خاص به.

المحافظة

مساحة من الأرض تضم مجموعة من المراكز أو الأحياء.

الموقع الجغرافي

موقع المكان بالنسبة لليابس والماء.

الطقس

يصف حالة الجو من حيث الحرارة والرياح والأمطار لفترة زمنية قصيرة.

الجبل

أرض شديدة الارتفاع ولها قمة وجوانبها شديدة الانحدار.

شعار المحافظة

راية تتخذها المحافظة رمزًا لها؛ لتعبر عن نشاط سكانها أو جزء من تاريخها.

الاستهلاك

يعنى إنفاق النقود لشراء الحاجات والرغبات.

الكثبان الرملية

تجمعات كبيرة من الرمال مثل بحر الرمال العظيم.

المناخ

حالة الجو من حيث الحرارة والرياح والأمطار خلال فترة زمنية طويلة.

الخدمات

عمل أو نشاط تقوم به الدولة لتلبية حاجات المواطنين.

السلع

كل ما يتم إنتاجه ونقوم بشرائه مثل المنتجات الغذائية.

البنك

مؤسسة تقدم خدمات مالية للأفراد والشركات، مثل: حفظ وتحويل الأموال ومنح القروض.

- 1 أهمية رسم وردة البوصلة؛ لتحديد الاتجاهات الأصلية والفرعية، والمساعدة في تحديد موقع معين على الخريطة.
- 2 أهمية وجود الخريطة للفلاح؛ لتحديد ملكية الأرض الزراعية.
- 3 أهمية الخريطة بالنسبة للجيش؛ لتحديد المواقع الحربية.
- 4 أهمية وجود مفتاح الخريطة؛ لتوضيح معنى الألوان والرموز الموجودة على الخريطة.



أهمية الخريطة في حياتنا؛ تستخدم للتعرف على الأماكن المختلفة وتحديد مواقعها.

وجود اختلاف بين الحقيقة والرأى؛ لأن الحقيقة تتميز بالدقة والموضوعية، والرأى ناتج عن تفكير شخص تجاه موضوع معين.

إنشاء قناة جديدة موازية لقناة السويس؛ لتسيير السفن في الاتجاهين، وتقليل زمن عبور السفن واستيعاب أكبر السفن حجمًا وحمولة.

أهمية الاعتماد على المصادر الأولية والثانوية لدراسة حدث تاريخي؛ للتأكد من صحة المعلومات الواردة.

أهمية موقع مصر الجغرافي بالنسبة للعالم؛ ساعدها على تسهيل الاتصال بجيرانها تجاريًا وحضاريًا.

أهمية وجود نهر النيل للمصريين؛ ساعد على قيام الحضارة المصرية القديمة وازدهار الاقتصاد المصري.

اختيار القاهرة كعاصمة لمصر لفترات طويلة؛ بسبب موقعها المتميز، فهي نقطة التقاء الوجه البحرى بالوجه القبلى.

تقوم مصر حاليًا بإنشاء عاصمة إدارية جديدة؛ لتخفيف الضغط السكاني عن العاصمة الحالية.

لكل دولة علم خاص بها؛ ليعبر عن تاريخها وتراثها.

وجود اللون الأحمر بالعلم المصري؛ ليعبر عن مرحلة النضال ودماء الشهداء من أجل الحرية.

وجود اللون الأبيض بالعلم المصري؛ ليعبر عن السلام.

وجود اللون الأسود بالعلم المصري؛ ليعبر عن الظلم الذى تعرضت له مصر فى فترات الاستعمار.

وجود النسب بالعلم المصري؛ ليرمز إلى قوة مصر وعراقة حضارتها.

رفع العلم فى جميع أرجاء الدولة؛ لأن العلم رمز للدولة.

احتفال محافظة القاهرة بعيدها القومى فى السادس من يوليو كل عام؛ لأنه اليوم الذى يوافق وضع القائد

جوهري الصقلي حجر الأساس لبناء مدينة القاهرة عام ٩٦٩م.

تتخذ كل محافظة شعارًا خاصًا بها؛ ليعبر عن نشاط سكانها أو جزء من تاريخها.

للأقمار الصناعية أهمية بالنسبة للطقس؛ لأنها تستخدم فى جمع بيانات دقيقة عن عناصر الطقس.

أهمية معرفة حالة الطقس اليومية؛ لكي يتخذ الإنسان بعض قراراته اليومية مثل ارتداء ملابس مناسبة.

تسمية كل من الصحراء البيضاء والصحراء السوداء بهذا الاسم؛ لأن الصحراء البيضاء يغطيها اللون الأبيض، أما

الصحراء السوداء فتتميز بجبالها وهضابها المغطاة باللون الأسود.

ضيق الشريط الساحلى للبحر الأحمر فى مصر؛ لاقترب جبال البحر الأحمر من الساحل.

تنوع النباتات والموارد الطبيعية فى مصر؛ بسبب موقعها الجغرافى الفريد ومظاهر سطحها المتعددة

ومساحتها الكبيرة.

للرمال البيضاء أهمية اقتصادية؛ لأنها تدخل فى صناعات الزجاج والخلايا الشمسية.

- ٢٧ أهمية الرمال البيضاء والسوداء للاقتصاد المصري؛ تستخدم الرمال البيضاء في العديد من الصناعات مثل صناعة الخلايا الشمسية والزجاج، والرمال السوداء تدخل في صناعات متعددة، مثل صناعة الخزف.
- ٢٨ أسباب تلوث الهواء في مصر؛ بسبب أدخنة المصانع وعوادم السيارات وحرق قش الأرز.
- ٢٩ أسباب تلوث التربة في مصر؛ لإسراف المزارعين في استخدام الأسمدة الكيميائية واستخدام المبيدات الحشرية وتجريف التربة.
- ٣٠ أسباب تلوث المياه في مصر؛ لإلقاء مياه الصرف الصحي والزراعي الملوثة بالأسمدة الكيميائية والمبيدات الحشرية - إلقاء نفايات المصانع.
- ٣١ تعمل الدولة على استخدام وسائل ري حديثة؛ لتقليل فقدان الكثير من المياه.
- ٣٢ اتجهت مصر لاستخدام موارد الطاقة المتجددة؛ لأنها طاقة نظيفة لا تتسبب في تلوث البيئة.
- ٣٣ تعد التربة موردًا طبيعيًا مهمًا؛ لزراعة المحاصيل الزراعية التي نعتمد عليها في الغذاء والصناعة.
- ٣٤ التوعية بضرورة تقليل استخدام السيارات الخاصة؛ لخفض نسبة العوادم.
- ٣٥ ضرورة الاعتماد على الشمس والرياح في توليد الكهرباء؛ لأنها طاقة نظيفة لا تسبب تلوثًا للبيئة.
- ٣٦ قيام الدولة بإنشاء مدينة الروبيكي؛ لتشجيع صناعة الجلود في مصر.
- ٣٧ أهمية صناعة الجلود بالنسبة للاقتصاد المصري؛ تساهم تلك الصناعة في ازدهار الاقتصاد المصري.
- ٣٨ قيام الدولة بطرح مبادرة حياة كريمة؛ للتخفيف عن المواطنين الأكثر احتياجًا وذلك بتوفير المرافق والخدمات والأنشطة.
- ٣٩ تبذل الدولة جهودًا لذوى الاحتياجات الخاصة؛ لإيمان الدولة بأحقيتهم في الرعاية التي تساعدهم على يكون لهم دور في المجتمع.
- ٤٠ إصدار اتفاقية حقوق الطفل عام ١٩٨٩م؛ لأن لكل طفل الحق في المشاركة والرعاية والحماية.
- ٤١ تأسيس أول بنك وطني (بنك مصر) في التاريخ؛ لاستثمار مدخرات الشعب المصري في دعم مئات المشروعات.
- ٤٢ للحرف التراثية أهمية في دعم الاقتصاد المصري؛ توفر فرص عمل للشباب - تساعد في حماية البيئة تدعم السياحة المستدامة.

أهم النتائج

- ١ موقع مصر الجغرافي أصبحت مركزًا تجاريًا ومعبرًا للتجارة الدولية بين الشرق والغرب وتسهيل اتصال بحيرانها حضاريًا وتجاريًا.
- ٢ مرور نهر النيل بأرض مصر أدى إلى قيام الحضارة المصرية وازدهار الاقتصاد المصري.
- ٣ حفر قناة السويس في مصر لتقليل مدة الإبحار بين قارتي آسيا وأوروبا وتوفير الوقت والجهد.

إنشاء قناة السويس الجديدة عام ٢٠١٥م تقليل زمن مرور السفينة من ٢٠ ساعة إلى ١١ ساعة فقط - استيعاب أكبر السفن حجمًا وحمولة - السماح بمرور السفن في الاتجاهين.

وجود السهول الفيضية على جانبي نهر النيل أدى إلى قيام حرفة الزراعة.

مساحة مصر وتنوع مظاهرها السطح أدى إلى تنوع البيئات والموارد الطبيعية فيها.

وجود مياه جوفية في الصحراء الغربية قيام حرفة الزراعة فيها.

حرق قش الأرز تلوث الهواء.

إلقاء نفايات المصانع في المياه تعرض المياه للتلوث.

استهلاك الموارد غير المتجددة تعريضها للنفاذ.

جهود الدولة لتحقيق التنمية المستدامة أطلقت مبادرة «تحضر للأخضر».

المبادرات التي تقوم بها الدولة تحسين معيشة المواطنين.

الخدمات الإلكترونية التي تقدمها الدولة أدى إلى توفير الوقت والجهد والمال على المواطنين.

أهم المبادرات والمشروعات في الدولة:

المبادرات والمشروعات

حملة ١٠٠ مليون صحة

للكشف المبكر
عن الإصابة ببعض الأمراض مثل
مرض التهاب الكبدى الوبائى.

مبادره اتحضر للأخضر

لحث المواطنين على:
المشاركة فى الحفاظ عن
البيئة - ترشيد استهلاك
الغذاء والطاقة - التوعية
بأهمية التشجير.

مشروع ١٠٠٠٠ صوبة زراعية

لتزاد إنتاج الخضراوات
والفاكهة العضوية - تلبية
الاحتياجات الغذائية
للمواطنين - توفير فرص عمل
- زيادة صادرات مصر.

التطوير العمرانى

إقامة المدن الجديدة - إنشاء
الطرق والكبارى - تطوير
العشوائيات.

الخدمات الإلكترونية

توفر الوقت والجهد والمال
للمواطنين .

مبادرة حياة كريمة

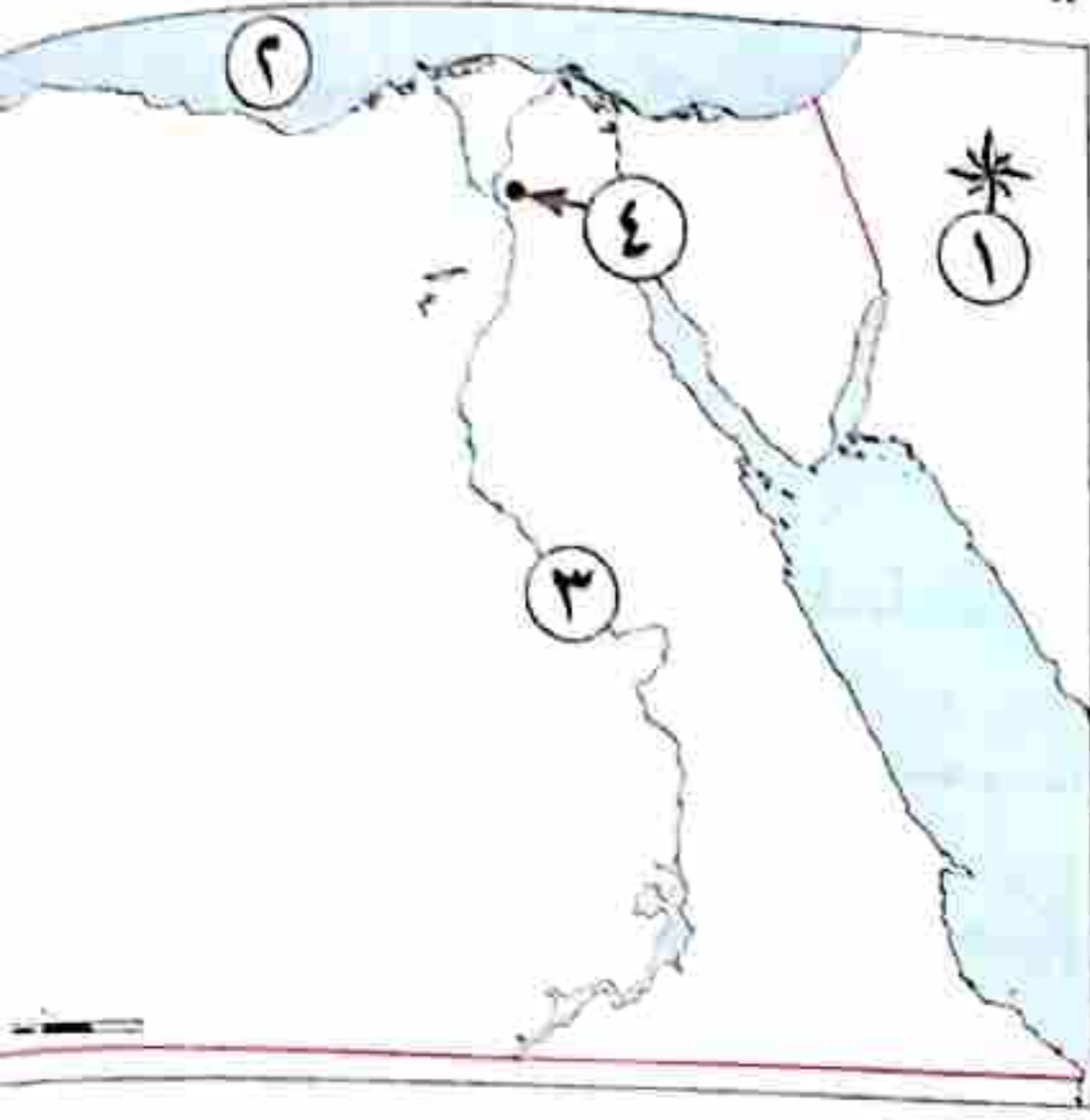
للتخفيف عن المواطنين
لأكبر احتياجًا بتوفير الخدمات
والمرافق والأنشطة .

النماذج الاسترشادية على الشهرين الأول والثاني

مجاب عنها

النموذج (أ) على الشهر الأول

السؤال الأول: (أ) أمامك خريطة لمصر، اكتب مدلول الأرقام عليها:



١- يشير (١) إلى

٢- يشير (٢) إلى

٣- يشير (٣) إلى

٤- يشير (٤) إلى

(ب) دلل على ...

- وجود معالم أثرية متعددة بمحافظة القاهرة .

السؤال الثاني: اختر الإجابة الصحيحة مما يلي:

١- يوضح النسبة بين المسافة على الخريطة وما يقابلها على الطبيعة هو

(عنوان الخريطة - وردة البوصلة - مقياس الرسم - مفتاح الخريطة)

٢- المقالات والكتب من مصادر المعلومات

(الثانوية - الأولية - الحقيقية - الخيالية)

٣- طريق تجارى كانت السفن تسير فيه حول إفريقيا هو طريق

(قناة السويس - رأس الرجاء الصالح - الحرير - البخور)

٤- حدود تفصل المحافظات المجاورة عن بعضها، هي الحدود

(الدولية - السياسية - الصحراوية - الإدارية)

٥- قام بتلحين النشيد الوطنى «بلادى بلادى» هو

(يونس القاضى - سيد درويش - طه حسين - نجيب محفوظ)

السؤال الثالث: اكتب كلمة (صواب) أمام العبارة الصحيحة، وكلمة (خطأ) أمام العبارة غير الصحيحة

١- قام جوهر الصقلى بوضع حجر الأساس لبناء مدينة الجيزة .

٢- الخريطة تساعد الطيار فى تحديد المواقع .

٣- المخاطبات والوثائق الرسمية من المصادر الأولية .

٤- ساعد موقع مصر على الاتصال بقارات العالم القديم .

٥- المحافظة هى مساحة من الأرض تضم الدول بداخلها .

- سؤال الأول: (١) اكتب كلمة (صواب) أمام العبارة الصحيحة، وكلمة (خطأ) أمام العبارة غير الصحيحة:
- ١- يعبر اللون الأبيض في العلم عن الظلم التي تعرضت إليه البلاد وقت الاستعمار. ()
 - ٢- من مظاهر الاحتفال بالعيد القومي للمحافظة إقامة احتفالات ومسابقات. ()
 - ٣- الصورة الجوية هي رسم توضيحي لمعالم سطح الأرض. ()
 - ٤- قناة سيزوستريس تم حفرها في عهد الملك سنوسرت الثالث. ()

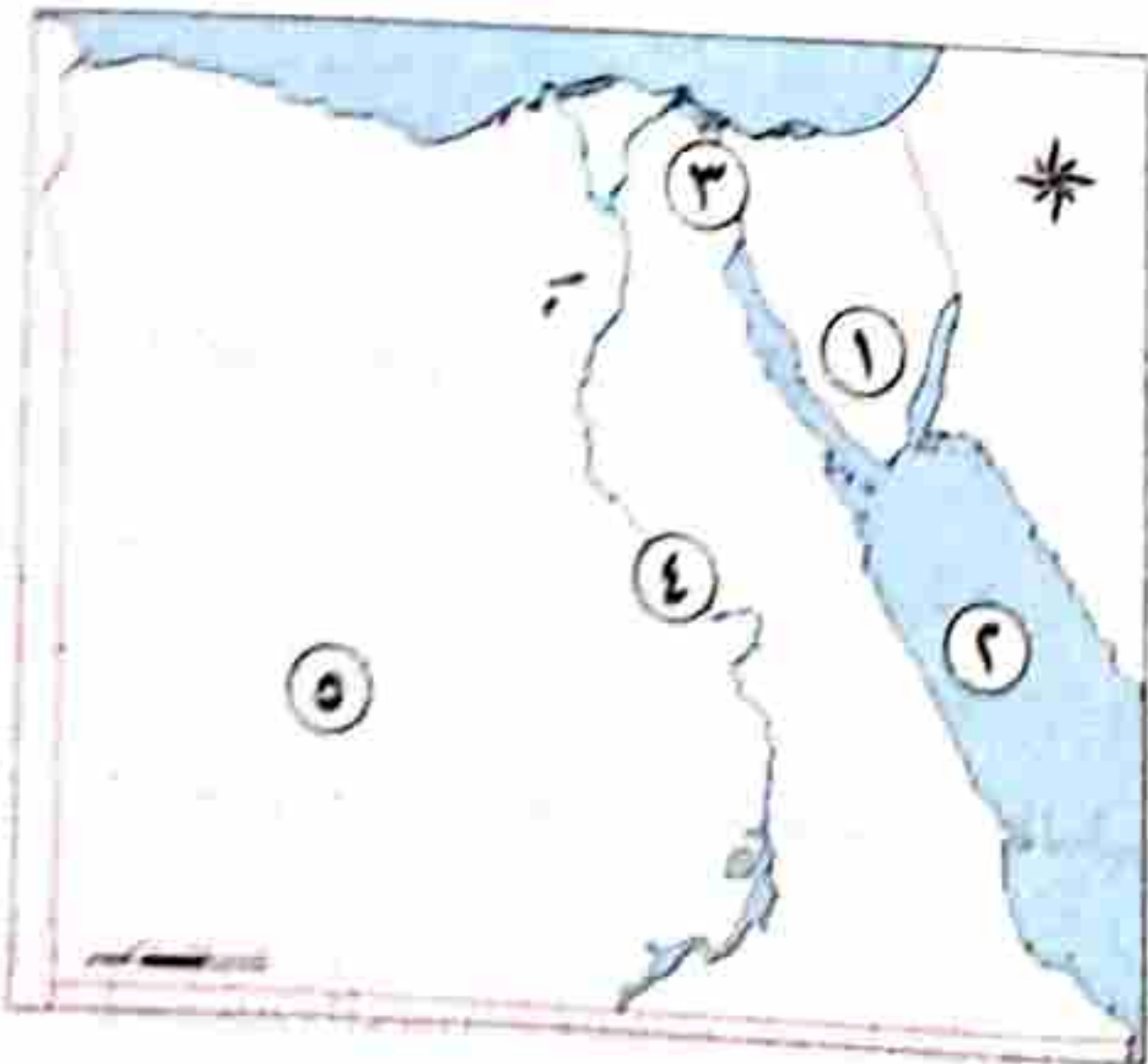
دلل على صحة العبارة الآتية:

أضاف نهر النيل أهمية كبيرة لموقع مصر.

سؤال الثاني: اختر الإجابة الصحيحة:

- ١- تعد محافظة نقطة التقاء الوجهين القبلي والبحري. (المنوفية - الإسكندرية - الإسماعيلية - القاهرة)
- ٢- لون في العلم المصري يعبر عن السلام هو (الأصفر - الأبيض - الأسود - الأحمر)
- ٣- تميز شعار محافظة القاهرة بوجود رمز لمسجد (محمد علي - عمرو بن العاص - الأزهر - الحسين)
- ٤- الصور الجوية يتم التقاطها باستخدام (الأقمار الصناعية - الطائرات الجوية - القطارات السريعة - المركبات البخارية)
- ٥- معلومات تم التأكد من صحتها هي (معتقدات - حقائق - آراء - نظريات)

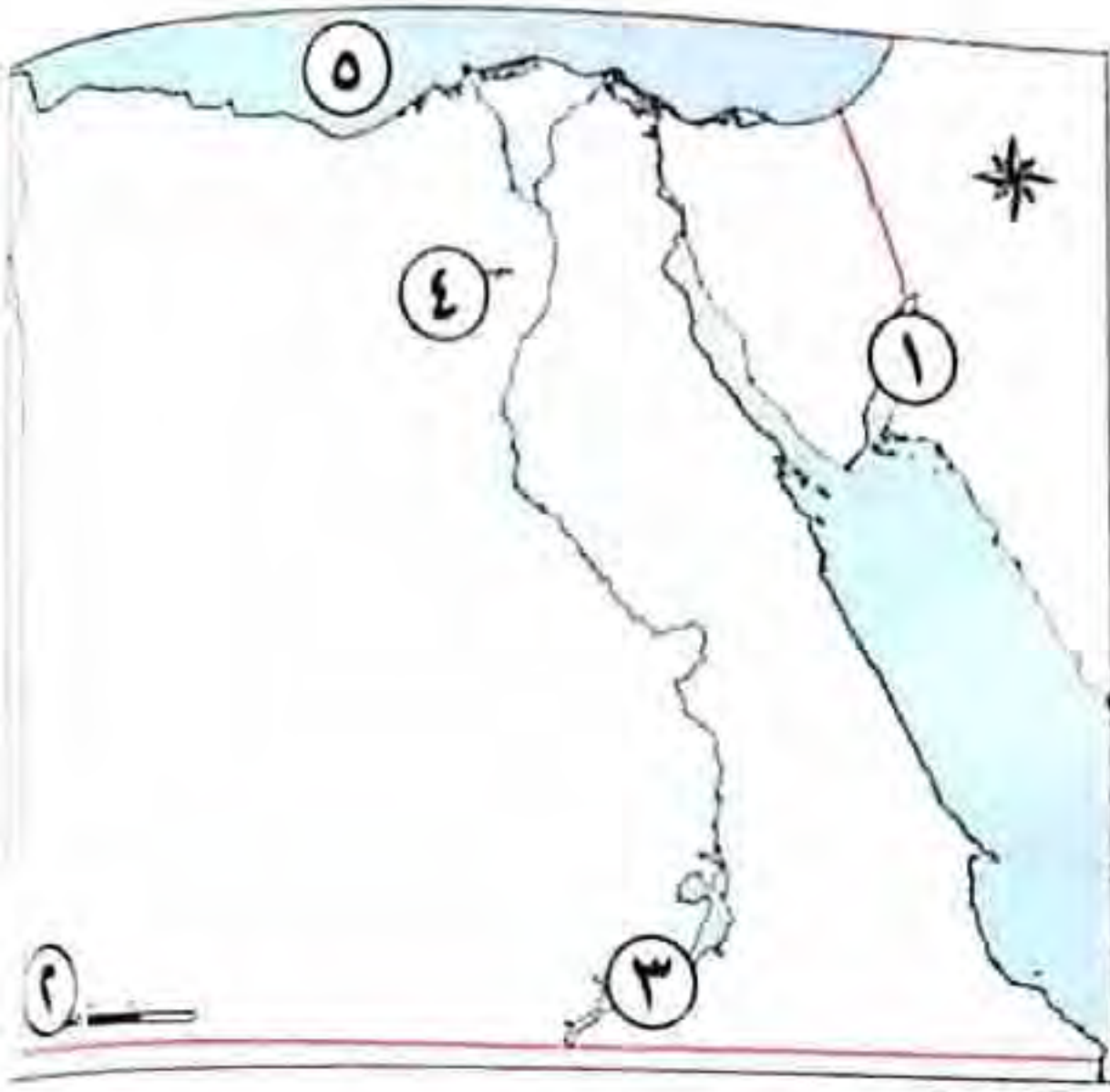
سؤال الثالث: أمامك خريطة لمصر، اكتب مدلول الأرقام عليها:



- ١- محافظة حدودية
- ٢- البحر
- ٣- قناة
- ٤- نهر
- ٥- الصحراء

النموذج (١) على الشهر الثاني

السؤال الأول: أمامك خريطة لمصر، اكتب مدلول الأرقام عليها:



- ١- خليج
- ٢- جبل
- ٣- بحيرة
- ٤- منخفض
- ٥- البحر

السؤال الثاني: أكمل العبارات الآتية:

١- وصف حالة الجو في فترة زمنية قصيرة، يعد ذلك مفهومًا ل.....

٢- بيئة تضم سواحل خلابة هي البيئة

٣- طاقه يتم استخراجها من باطن الأرض مثل البترول والفحم هي

٤- إلقاء مياه الصرف الصحي والزراعي الملوثة بالأسمدة والمبيدات في المياه، يعد ذلك أحد أسباب تلوث

٥- نوع من الرمال يدخل في صناعة الخزف هي الرمال

السؤال الثالث: اكتب كلمة (صواب) أمام العبارة الصحيحة، وكلمة (خطأ) أمام العبارة غير الصحيحة:

١- شبه جزيرة سيناء تقع بين خليجي السويس والعقبة. ()

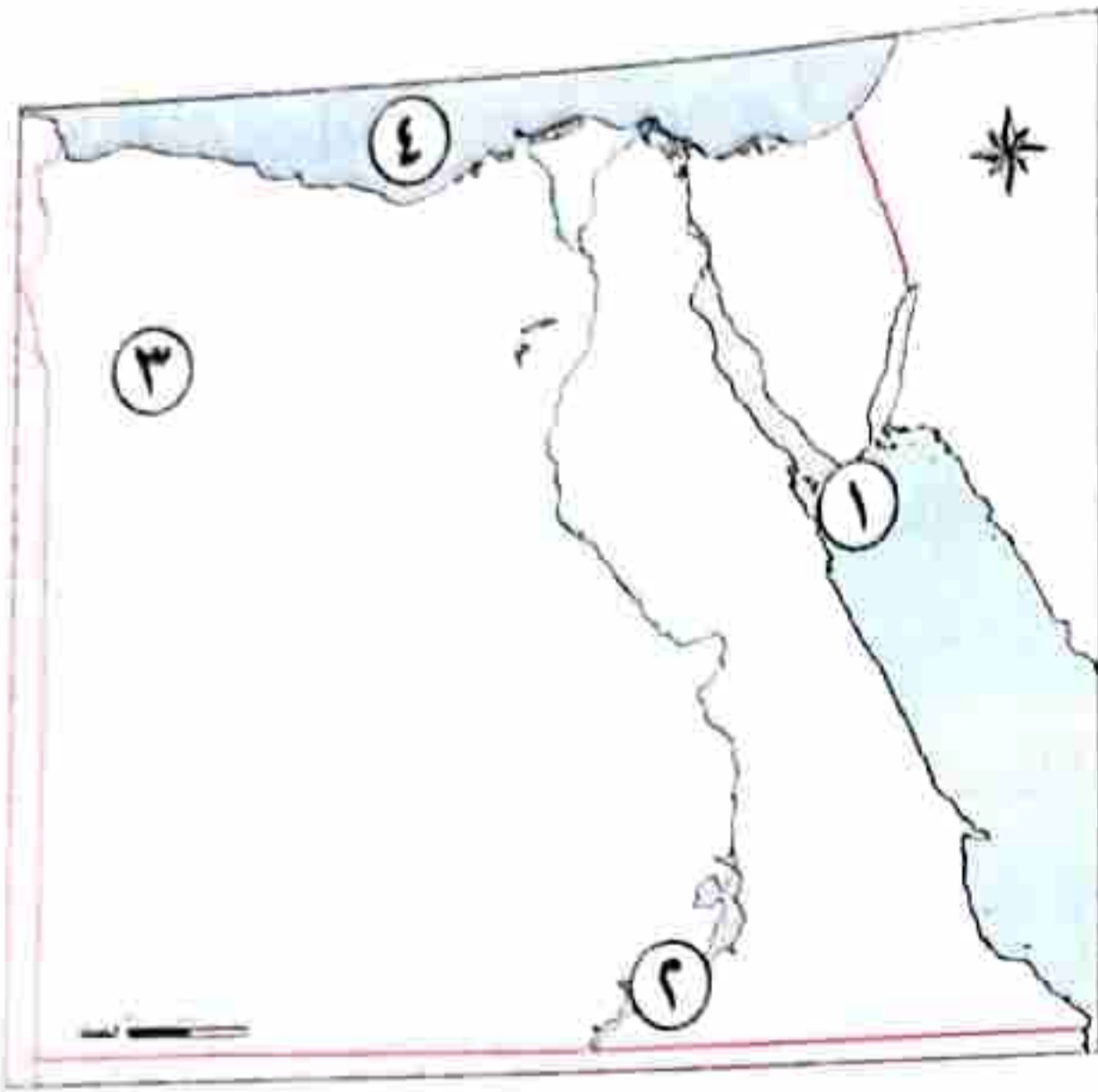
٢- ميزان الحرارة يستخدم في قياس سرعة الرياح. ()

٣- بحيرة ناصر أكبر بحيرة صناعية في العالم. ()

٤- تتميز مصر بتنوع بيئاتها ومواردها الطبيعية. ()

٥- دخان المصانع وعوادم السيارات من ملوثات التربة. ()

السؤال الأول: (١) أمامك خريطة لمصر، اكتب مدلول الأرقام عليها:



- ١- جزيرة
- ٢- بحيرة
- ٣- واحة
- ٤- البحر
- ٥- فلل

ضيق الشريط الساحلى عند ساحل البحر الاحمر.

السؤال الثانى: اكتب كلمة (صواب) أمام العبارة الصحيحة وكلمة (خطأ) أمام العبارة غير الصحيحة:

- ١- بحر الرمال العظيم يوجد فى الصحراء الشرقية . ()
- ٢- يتميز وادى النيل بصخوره الصلبة وجباله الشاهقة . ()
- ٣- يتميز مناخ مصر بأنه صحراوى حار . ()
- ٤- بحيرة البرلس من البحيرات المالحة فى مصر . ()
- ٥- محطة الكريما ت تولد الكهرباء من طاقة الرياح . ()

السؤال الثالث: اختر الإجابة الصحيحة:

- ١- مساحة واسعة من الأرض مرتفعة مستوية أو شبه مستوية تسمى بـ
- (جبل - هضبة - سهل - تل)
- ٢- تناس درجة حرارة الطقس باستخدام
- (الأنيومتر - جوب الرياح - الترمومتر - مقياس المطر)
- ٣- يوجد معدن المنجنيز فى الصحراء
- (الشرقية - الغربية - العربية - الجنوبية)
- ٤- تنتشر مناجم الحديد والفوسفات فى
- (شبه جزيرة سيناء - الصحراء الغربية - الصحراء الشرقية - الصحراء المغربية)
- ٥- استخدام المبيدات الحشرية يلوث
- (التربة - الهواء - المياه العذبة - المياه المالحة)

المهام الأدائية

محافظة

المهمة الأولى

أمامك خريطة لمحافظة مصر لاحظها جيداً، ثم نفذ المهمة التالية:

١ - لون محافظتك، واكتب أسماء المحافظات التي تحدها.

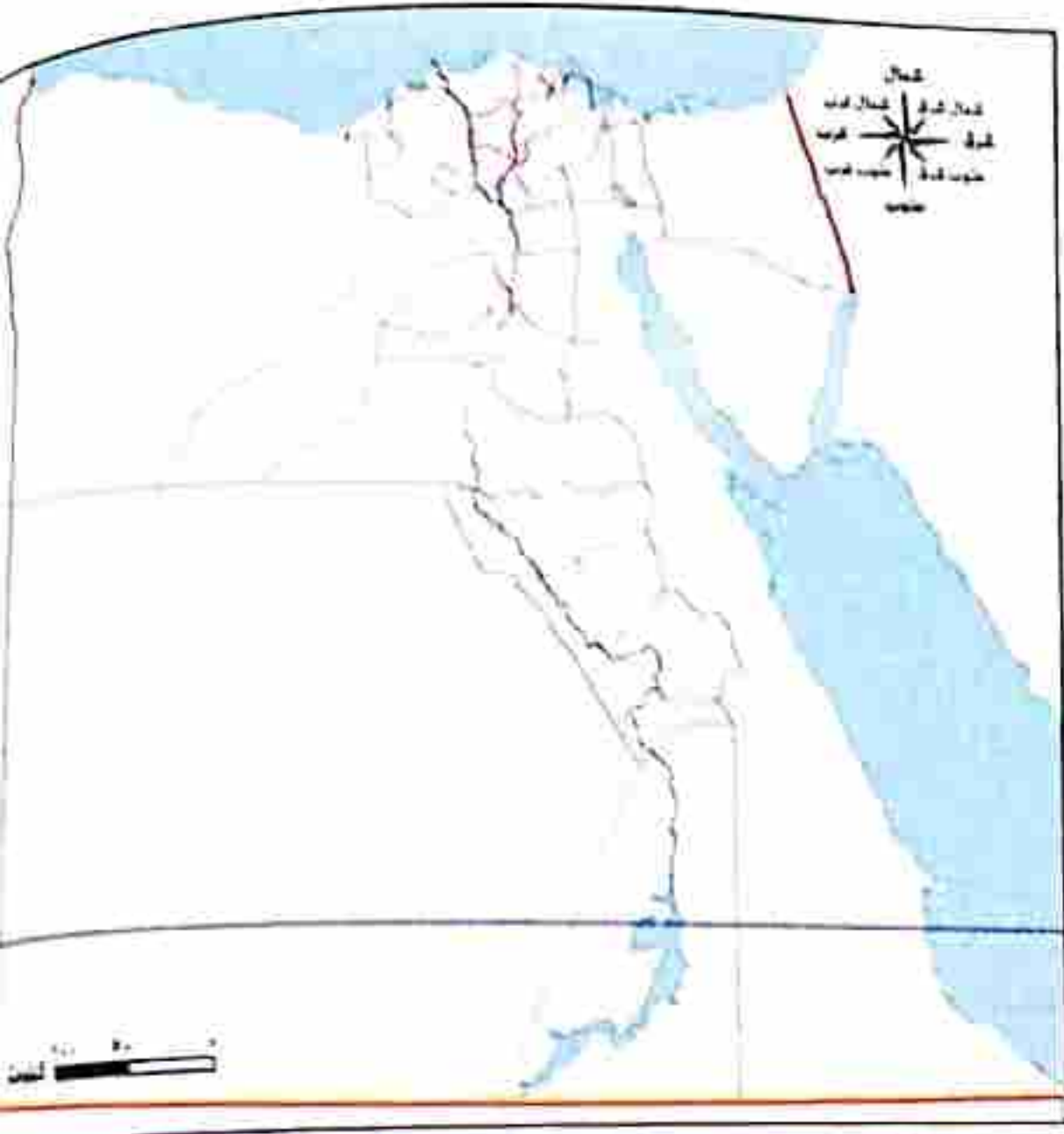
(٢ على الأقل)

٢ - حدد البيئة التي تقع فيها محافظتك.

٣ - حدد مشكلة بيئية تعاني منها محافظتك.

٤ - اقترح حلولاً لهذه المشكلة.

(يكتفى بمقترح واحد)



علم بلادي

المهمة الثانية

يعد علم مصر رمزاً للدولة، لاحظها جيداً ثم نفذ المهمة التالية:


١ - لَوْن علم مصر بألوانه الصحيحة.

٢ - اكتب جملة تعبر بها عن احترامك لعلم بلدك.

٣ - تخيل أنك طلب منك تصميم شعار لمدرستك ترفعه في المسابقات بين المدارس، حدّد لوناً ورمزاً تستخدمهما في رسم شعار مدرستك، مبرراً اختيارك.

اللون

سبب الاختيار



ظواهر تضاريسية

المهمة الثالثة

أمامك صورتان لظواهر تضاريسية موجودة بمصر:

١ - لَوْن كل ظاهرة تضاريسية بلونها الصحيح في ضوء دراستك لخريطة مستويات ارتفاعات سطح مصر.

٢ - اكتب اسم كل ظاهرة، ثم صفها:

اسم الظاهرة (١) ووصفها:

اسم الظاهرة (٢) ووصفها:

٣ - حدد ظاهرة تضاريسية مميزة في محافظتك، ثم صفها.



(١)



(٢)

تتطلب المعلمة للتلاميذ أن الأهرامات تعد من أجمل المعالم السياحية في مصر، وتوجد في منطقة الجيزة، وأن الهرم
يسمى بهرم خوفو، ويتميز بضخامة حجمه، ويبلغ ارتفاعه الحالي ١٣٨ مترًا. وقال خالد: إن منطقة الأهرامات
جذابة، وقالت مريم: إن لدى والدها العديد من الكتب والموسوعات عن منطقة الأهرامات. كلفت المعلمة
بإجراء بحث عن الأهرامات ووجهتهم لاستخدام بنك المعرفة المصري وموقع وزارة السياحة والآثار المصرية
المعلومات عنها. وقال أحمد: يمكنني زيارة منطقة الأهرامات لالتقاط بعض الصور والاستعانة بها في البحث.
استخرج من الفقرة السابقة مصدرًا أوليًا ومصدرًا ثانويًا يمكن الرجوع إليهما عند إجراء بحث عن الأهرامات
وسجلهما في الجدول التالي:

مصدر ثانوي


مصدر أولي

استخرج من الفقرة السابقة ما يلي:

رأي:

حقيقة:

في رأيك: أي من الشكلين أدناه يعد مصدرًا للمعلومات عن أهرامات الجيزة؟ (برر إجابتك)



(شكل ٢)



(شكل ١)



حالة الطقس المتوقعة

من الثلاثاء 14 مارس 2023 إلى الأحد 19 مارس 2023

- **الثلاثاء 14 مارس** : انخفاض في درجات الحرارة وسقوط أمطار متفاوتة الشدة تكون رعدية أحيانا على بعض المناطق قد تصل إلى حد السيول على سيناء ومحافظه البحر الأحمر
- ليصود طقس معتدل الحرارة نهائياً على القاهرة الكبرى والوجه البحري والسواحل الشمالية مائل للدفء على جنوب سيناء وشمال الصعيد مائل للحرارة على جنوب الصعيد، بارد ليلاً على أغلب الأنحاء.
- نشاط الرياح العاصيب للمسحب الرعدية قد يكون مثير للرمال والأترية على بعض المناطق.

درجات الحرارة العظمى والصغرى المتوقعة كالتالي:

المنطقة	الثلاثاء 14 مارس	الأربعاء 15 مارس	الخميس 16 مارس	الجمعة 17 مارس	السبت 18 مارس	الأحد 19 مارس
القاهرة والوجه البحري	عظمى 20 صغرى 12	عظمى 21 صغرى 12	عظمى 24 صغرى 14	عظمى 24 صغرى 13	عظمى 21 صغرى 12	عظمى 20 صغرى 12
السواحل الشمالية	عظمى 18 صغرى 13	عظمى 20 صغرى 11	عظمى 24 صغرى 13	عظمى 20 صغرى 11	عظمى 19 صغرى 11	عظمى 19 صغرى 11
جنوب سيناء	عظمى 23 صغرى 17	عظمى 24 صغرى 16	عظمى 26 صغرى 17	عظمى 26 صغرى 16	عظمى 27 صغرى 17	عظمى 24 صغرى 15
شمال الصعيد	عظمى 22 صغرى 11	عظمى 22 صغرى 10	عظمى 25 صغرى 12	عظمى 26 صغرى 12	عظمى 23 صغرى 11	عظمى 22 صغرى 11
جنوب الصعيد	عظمى 30 صغرى 14	عظمى 25 صغرى 12	عظمى 28 صغرى 17	عظمى 31 صغرى 14	عظمى 30 صغرى 14	عظمى 27 صغرى 14

الثلاثاء 14 مارس 2023

- أمطار متوسطة قد تكون غزيرة ورعدية أحيانا بنسبة حدوث (70:60% تقريبا)
 - أمطار متوسطة تكون رعدية أحيانا بنسبة حدوث (60:50% تقريبا)
 - أمطار خفيفة قد تكون متوسطة بنسبة حدوث (40% تقريبا)
 - نشاط رياح
 - اضطراب الملاحة البحرية
- على مناطق من (طابا، نويبع، دهب، شرم الشيخ، الطور، سانت كاترين- رفح- رأس سدر- الزعفرانة- رأس غارب- الغردقة- القصير- مرسى علم) على فترات متقطعة
- على مناطق من السواحل الشمالية الغربية وشمال الوجه البحري ومدن القناة وشمال ووسط الصعيد على فترات متقطعة.
- على مناطق من جنوب الوجه البحري والقاهرة الكبرى على فترات متقطعة.
- على مناطق من القاهرة الكبرى والوجه البحري والسواحل الشمالية وجنوب سيناء قد تكون مثيره للرمال والأترية على جنوب البلاد على فترات متقطعة.
- على البحر الأحمر وسرعة الرياح (50 : 60 كم /س) وارتفاع الأمواج (2.5 : 3.5 متر)

الأربعاء 15 مارس 2023

- أمطار خفيفة إلى متوسطة بنسبة حدوث (40% تقريبا)
 - نشاط رياح
- على مناطق من السواحل الشمالية الشرقية وشمال الوجه البحري على فترات متقطعة.
- على مناطق من السواحل الشمالية وجنوب سيناء على فترات متقطعة.

الخميس 16 مارس 2023

- أمطار خفيفة بنسبة حدوث (20% تقريبا)
 - نشاط رياح
- على مناطق من السواحل الشمالية الغربية على فترات متقطعة.
- على مناطق من القاهرة الكبرى والوجه البحري والسواحل الشمالية وشمال الصعيد على فترات متقطعة.

من الجمعة 17 مارس إلى الأحد 19 مارس 2023

- أمطار خفيفة إلى متوسطة بنسبة حدوث (40% تقريبا)
 - نشاط رياح
- على مناطق من السواحل الشمالية الغربية وشمال الوجه البحري على فترات متقطعة.
- على مناطق من القاهرة الكبرى والوجه البحري والسواحل الشمالية وشمال الصعيد وجنوب سيناء على فترات متقطعة.

" يتم تحديث التنبؤ يوميا "

يرجى اتخاذ كافة الاستعدادات والتدابير اللازمة للحد من الآثار الناجمة عن الظواهر الجوية المتوقعة
الهيئة العامة للأرصاد الجوية تمنى السلامة للجميع

١- حدد عناصر الطقس التي وردت بالفقرة.

٢- سجل الأداة التي تستخدم لقياس كل عنصر من عناصر الطقس الواردة بالفقرة.

الأداة

العنصر



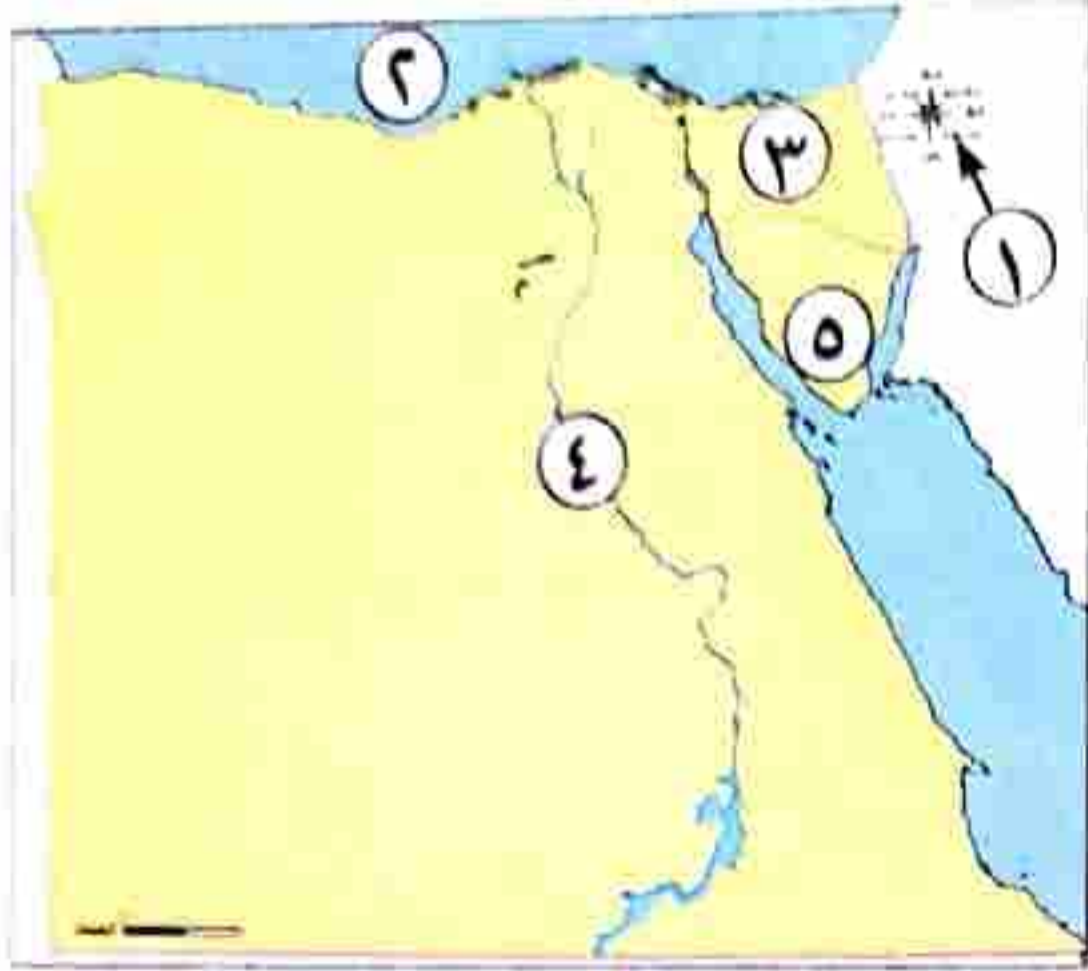
امتحانات المحافظات والإدارات ٢٠٢٢/٢٠٢٣ م

(*) تم تعديل الامتحانات طبقاً لأحدث تعديلات وزارة لسنة ٢٠٢٤ م

مجاب عليه

١ محافظة القاهرة (إدارة المعادى التعليمية)

(١) لاحظ الخريطة، ثم أجب:



- عنصر من عناصر الخريطة
- البحر
- إحدى محافظات الحدود
- مورد للمياه العذبة
- شبه جزيرة

أجب عن السؤالين الآتيين:

اكتب تفسيراً: للرمال البيضاء أهمية اقتصادية* .

اكتب نتيجة واحدة تترتب على وجود المياه الجوفية في الصحراء الغربية* .

١) اختر الإجابة الصحيحة مما بين القوسين:

- المعلومات التي تم التأكد من صحتها هي (حقائق - آراء - خيال - معتقدات)
- مساحة شاسعة من المياه المالحة ذات أعماق كبيرة، تنطبق هذه العبارة على (نهر النيل - البحر المتوسط - المحيط الهادى - بحيرة ناصر)
- يدل اللون في علم مصر على السلام. (الذهبي - الأسود - الأحمر - الأبيض)
- تحتفل العاصمة المصرية بعيدها القومي في ذكرى (بناء مدينة القاهرة - بناء الجامع الأزهر - حفر قناة السويس - جلاء القوات الإنجليزية)
- إنشاء الحدائق والمنتزهات، يعتبر من الخدمات (الترفيهية - الثقافية - الأمنية - الصحية)
- مساحة واسعة من اليابس تضم عددًا من الدول، تنطبق هذه العبارة على (إفريقيا - مصر - أسبوط - الدلتا)

صوب ما تحته خط:

لمعرفة اتجاه الرياح نستخدم الترمومتر.
يقوم البنك الأهلي بإصدار النقود الورقية.

السؤال الثالث (١) اكتب كلمة (صواب) أمام العبارة الصحيحة، وكلمة (خطأ) أمام العبارة غير الصحيحة:

- ١ تلون بحيرة البرلس على الخريطة باللون البنى.
- ٢ يتم توليد الطاقة الكهربائية من السد العالى.
- ٣ تنتشر صناعة الفخار فى شارع الخيامية فى القاهرة.
- ٤ لكل محافظة شعاري عبر عن نشاط سكانها أو جزء من تاريخها.
- ٥ البترول والفحم من مصادر الطاقة التى تحتاج لآلاف السنين لتكوينها.

(ب) صنف المصدرين التاليين داخل الجدول:

- موسوعة التاريخ الحديثة - خطاب رسمى للملك فاروق

مصدر ثانوى

مصدر اولى

السؤال الرابع (١) صل من العمود (أ) ما يناسب العمود (ب):

(ب)

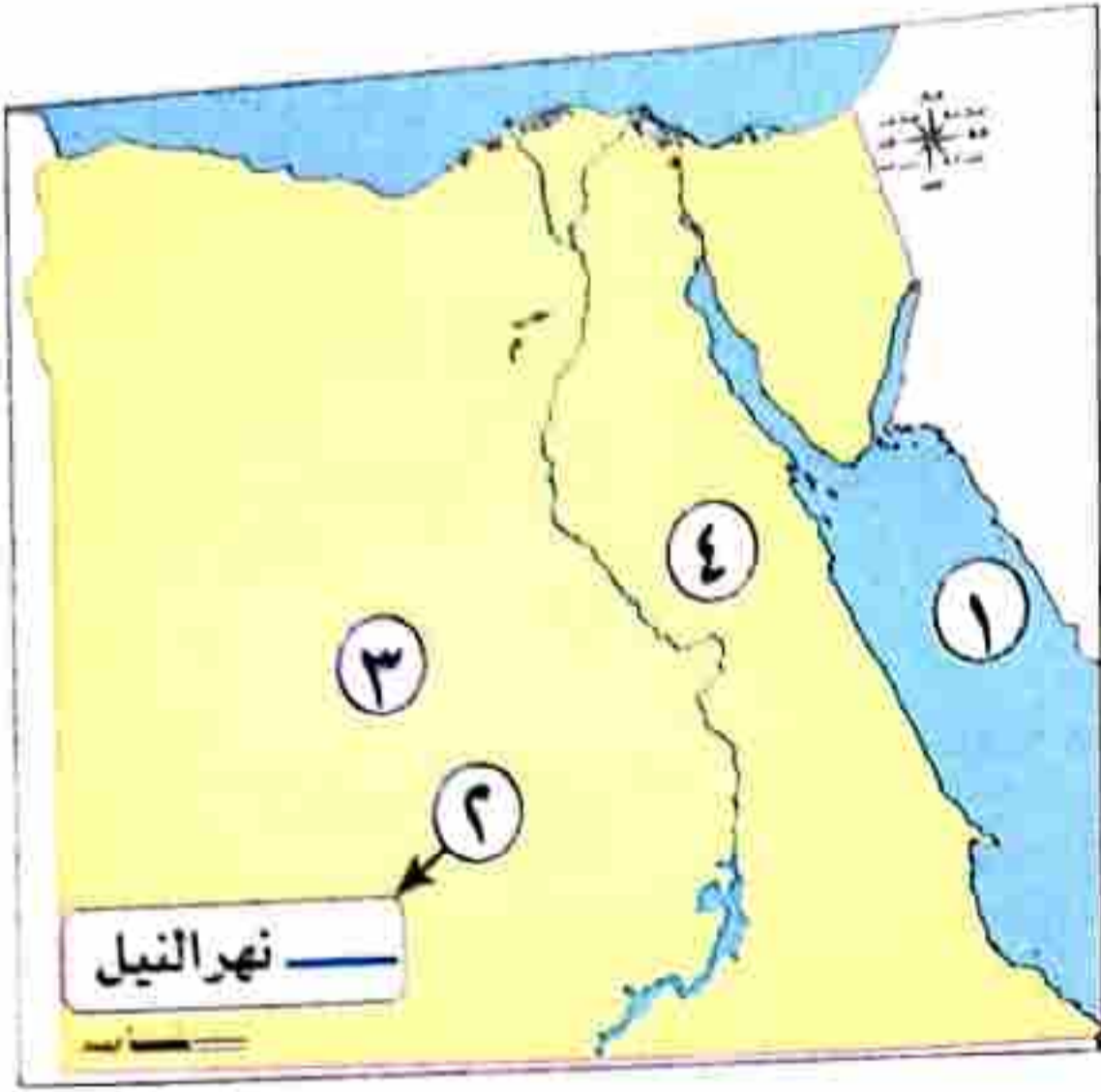
(أ)

- | | |
|------------------------------------|---|
| أ- حق التغذية السليمة | ١- يقوم بتصغير المسافات الحقيقية لرسمها على الخريطة |
| ب- تخزين مياه الأمطار* | ٢- السجاد اليدوى من الحرف |
| ج - مقياس الرسم | ٣- حصول الأطفال الرضع على الألبان المليئة بالفيتامينات. |
| د- المدرج على قائمة التراث العالمى | ٤- تسعى الدولة لتوفير المياه من خلال* |

(ب) أكمل العبارات الآتية بما يناسبها من كلمات:

- ١ تلتقط الصور الجوية بواسطة.....
- ٢ تعد محافظة الأقصر من محافظات الوجه.....
- ٣ أطول أنهار العالم يقع فى البيئة.....
- ٤ يسبب حرق قش الأرز تلوثًا.....

(أ) أمامك خريطة صماء لمصر، وضح مدلول الأرقام عليها:



يشير رقم (١) إلى البحر

يشير رقم (٢) إلى

يشير رقم (٣) إلى محافظة

الصحراء

اصل الجمل الآتية بما يناسبها من العمود الآخر:

(ب)	(أ)
الخريطة	١- جزيرة تقع في البحر الأحمر
القطارة	٢- تستخدم في تحديد المواقع
شدوان	٣- أكبر المنخفضات في مصر

(أ) صنف العلاقات المتشابهة:

الأنيمومتر - الأزهر - الهواء - البنك المركزي

تقوم بإصدار النقود	تُقاس سرعة الرياح بـ	* أدخنة المصانع تلوث	توجد صناعة الخيامية في

١- صوب ما تحته خط فيما يلي:

١- يعبر اللون الأسود في علم مصر عن السلام.

٢- من مصادر الطاقة الحفرية الشمس.

٣- من الخدمات الصحية بناء المدارس.

٤- لحل مشكلة تلوث المياه استخدام الدراجات.

السؤال الثالث (١) اختر الإجابة الصحيحة مما بين القوسين:

- ١ من الحرف المدرجة على قائمة التراث العالمي لليونسكو صناعة
(ورق البردي - الفخار - الزجاج - السجاد المصري)
 - ٢ «قناة السويس تصل بين البحر الأحمر والبحر المتوسط». هذه العبارة تعبر عن
(حقيقة - رأى - وجهة نظر - معلومة)
 - ٣ آسيا هي مساحة واسعة من اليابسة، تضم عدة دول، فهي بذلك تكون
(محافظة - دولة - قارة - جزيرة)
 - ٤ عند كتابة بحث عن أهمية موقع مصر الجغرافي، يمكنك الاستعانة بأحد مؤلفات
(طه حسين - جمال حمدان - محمد يونس - سيد درويش)
 - ٥ وضع حجر الأساس لمدينة القاهرة
(أحمد بن طولون - عمرو بن العاص - خالد بن الوليد - جوهر الحظي)
- (ب) اكتب سببًا واحدًا لإطلاق الدولة حملة ١٠٠ مليون صحة.

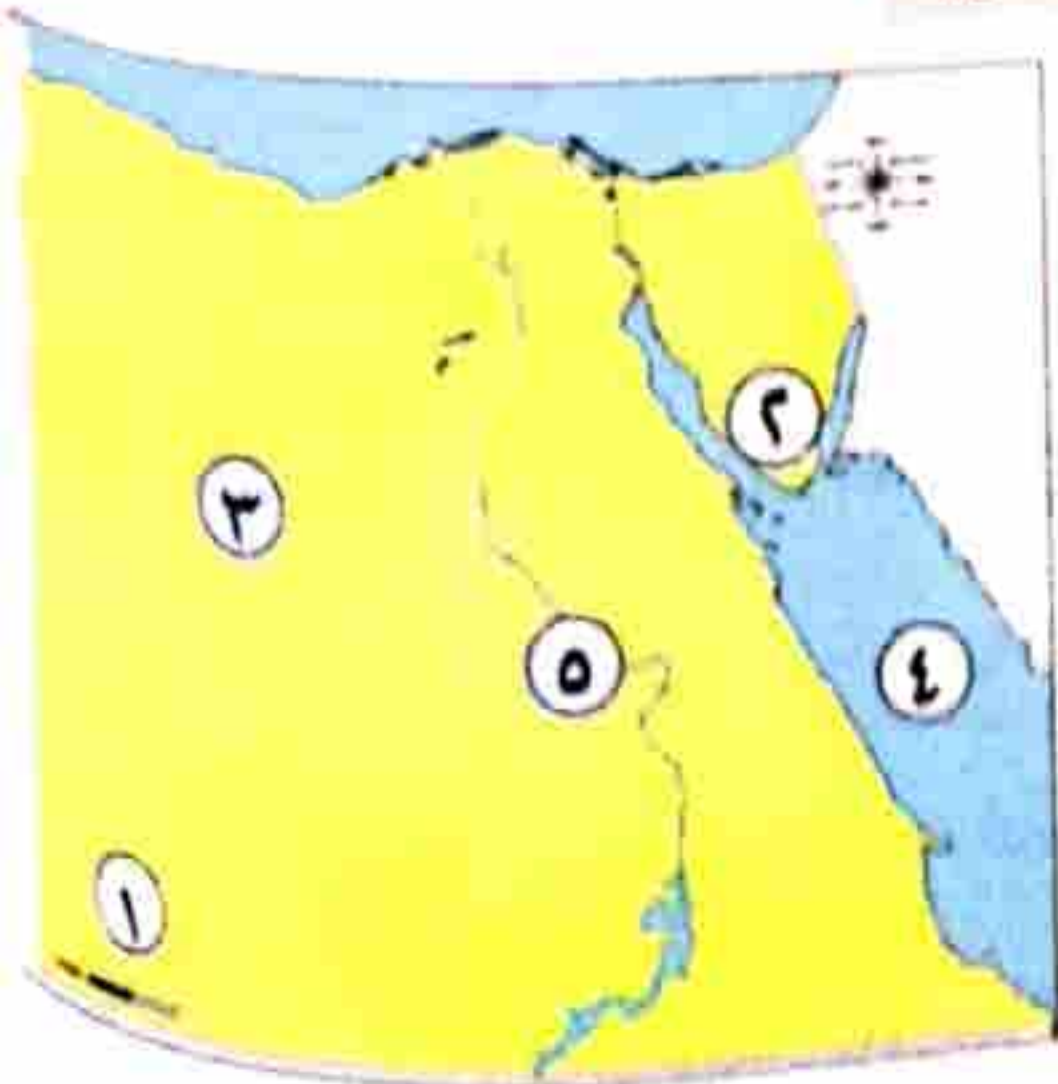
السؤال الرابع (١) اكتب كلمة (صح) أمام العبارات الصحيحة، وكلمة (خطأ) أمام العبارات غير الصحيحة:

- ١ يتكون العالم من سبع قارات وثلاثة محيطات.)
- ٢ الحياة المستدامة هي أسلوب حياة يهدف إلى التعامل بشكل مسنول مع موارد بيئتنا وترشيد استهلاكنا لها* .)
- ٣ استخدم نهر النيل كطريق للتجارة بين مصر ودول آسيا.)
- ٤ أنت تتمتع بحقوق، ولديك واجبات لا بد من القيام بها.)
- ٥ نعرف المسافة بين القاهرة والإسكندرية من عنوان الخريطة.)
- ٦ تعتبر محافظة الجيزة من محافظات الحدود.)

(ب) ما النتائج المترتبة على : سوء استخدامنا للموارد الطبيعية ؟

٣ محافظة الجيزة (إدارة الشيخ زايد التعليمية) غير مجاب عنه

السؤال الأول (١) أمامك خريطة صماء لمصر، وضح مدلول الأرقام عليها:



- ١ هضبة
- ٢ جبل
- ٣ الصحراء
- ٤ البحر
- ٥ نهر

أجب عن السؤالين الآتيين:
ما سبب تلوث الهواء؟

حدد سببًا واحدًا لأهمية الخريطة.

السؤال الثاني (1) ضع علامة (✓) أمام العبارة الصحيحة، وعلامة (X) أمام العبارة غير الصحيحة فيما يلي:

- لكل طفل الحق في الرعاية والتعليم والصحة. ()
يمكنك الاستمتاع بالشعاب المرجانية عند زيارتك لسواحل البحر المتوسط. ()
يتغير المناخ من يوم إلى آخر كما يتغير عدة مرات في اليوم الواحد. ()
إطفاء المصابيح غير المستخدمة يعد من أشكال ترشيد استهلاك الطاقة. ()

أبم تفسر...؟

أهمية قناة السويس.

الأهمية الاقتصادية للرمال البيضاء.

السؤال الثالث (1) اختر الإجابة الصحيحة مما بين القوسين فيما يلي:

- تقع مصرفي الركن من قارة إفريقيا.
(الشمالي الغربي - الشمالي الشرقي - الجنوبي الغربي - الشمالي)
عاصمة جمهورية مصر العربية
(الجيزة - الدقهلية - أسيوط - القاهرة)
يوجد في شعار الخاص بمحافظة القاهرة جامع
(عمرو بن العاص - أحمد بن طولون - الأزهر الشريف - السلطان حسن)

ما النتائج المترتبة على...؟

حرق قش الأرز.

وجود المياه الجوفية في الصحراء الغربية* .

السؤال الرابع (١) أكمل العبارات التالية بكلمات مناسبة من بين القوسين:

(الزعفرانة - السجاد اليدوي - مصر - ١٠٠ مليون صحة)

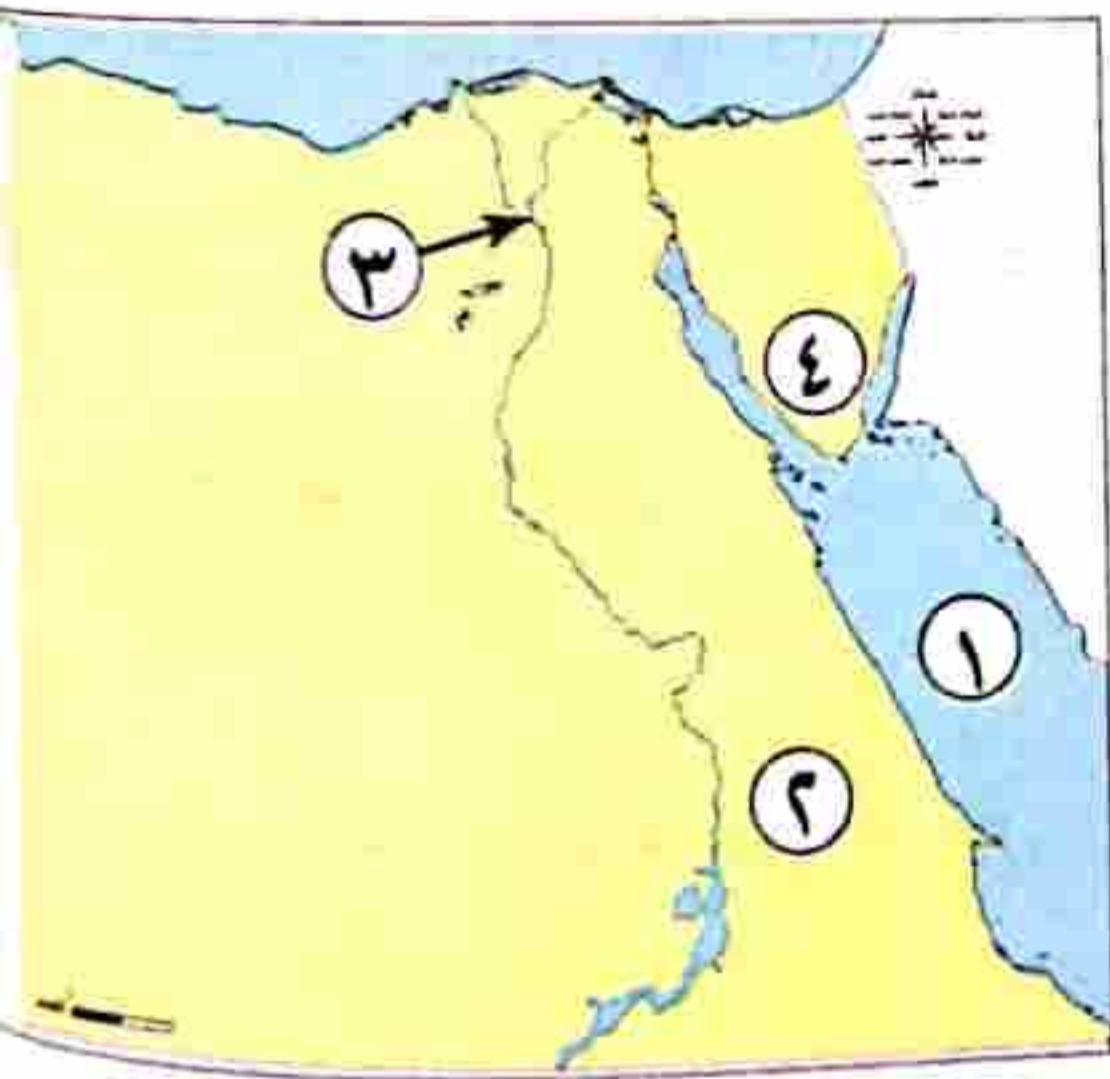
- ١ أول بنك وطنى فى تاريخ مصر هو بنك
- ٢ صناعة من الصناعات التى وضعتها منظمة اليونسكو على قائمة التراث العالمى.
- ٣ تهدف مبادرة إلى الكشف المبكر عن الأمراض .
- ٤ يتم توليد الكهرباء من الرياح فى محطة

(ب) صوب ما تحته خط فى العبارات التالية:

- ١ تنتشر حرفة الزراعة وتربية الحيوانات فى البيئة الصحراوية .
- ٢ يتوسط علم مصر صقر لونه أصفر ذهبى .
- ٣ تطل مصر من الشمال على البحر الأحمر .
- ٤ الحاجات هى الأشياء التى سيكون من الجيد الحصول عليها ، ولكنك تستطيع العيش بدونها .

٤ محافظة الجيزة (إدارة بولاق الدكرور التعليمية) **مجاب عنه**

السؤال الأول (١) أمامك خريطة صماء لمصر، وضح مدلول الأرقام عليها:



- ١ البحر
- ٢ الصحراء
- ٣ محافظة بها محطة الكريما
- ٤ جبل

(ب) حدد سببًا واحدًا لكل من:

- ١ إنشاء العاصمة الإدارية الجديدة .
- ٢ وجود النسرفى وسط علم مصر .

السؤال الثالث (١) اكتب كلمة (صواب) أمام العبارة الصحيحة، وكلمة (خطأ) أمام العبارة غير الصحيحة:

- ١ مقياس الرسم من العناصر الأساسية فى الخريطة .
- ٢ تتميز الحقيقة بالدقة والموضوعية .
- ٣ محافظة الإسكندرية من محافظات الوجه القبلى .

٤ يرتبط العيد القومي للمحافظة بحدث تاريخى أو ذكرى.

٥ نهر النيل من موارد المياه المالحة فى مصر.

٦ تنتشر الكثبان الرملية فى الصحراء الغربية.

(ب) اكتب نتيجة واحدة:

- وجود المياه الجوفية فى الصحراء الغربية* .

السؤال الثالث (١) اختر الإجابة الصحيحة مما بين القوسين:

١ البيئة التى تشغل معظم مساحة مصر هى البيئة (الساحلية - الزراعية - الصحراوية - الصناعية)

٢ الإسراف فى استخدام الأسمدة الكيماوية فى الزراعة يؤدى إلى تلوث (الهواء - البحار - التربة - المحيطات)

٣ يعد من الموارد الطبيعية المتجددة (الفحم - الماء - البترول - الحديد)

٤ صناعة السجاد اليدوى تنتشر فى محافظة (القاهرة - الجيزة - الدقهلية - أسوان)

٥ حماية جيشنا المصرى للحدود تعد ضمن الخدمات (الثقافية - البيئية - الصحية - الأمنية)

(ب) ماذا يحدث إذا...؟

- لم توجد وردة البوصلة على الخريطة .

السؤال الرابع (١) أكمل العبارات الآتية بكلمات مناسبة:

١ تقع مصر فى الركن الشمالى الشرقى من قارة

٢ الحدود التى تفصل المحافظات عن بعضها تسمى حدودًا

٣ الصحراء البيضاء فى مصر جزء من الصحراء

٤ اتجهت مصر إلى استخدام مصادر الطاقة

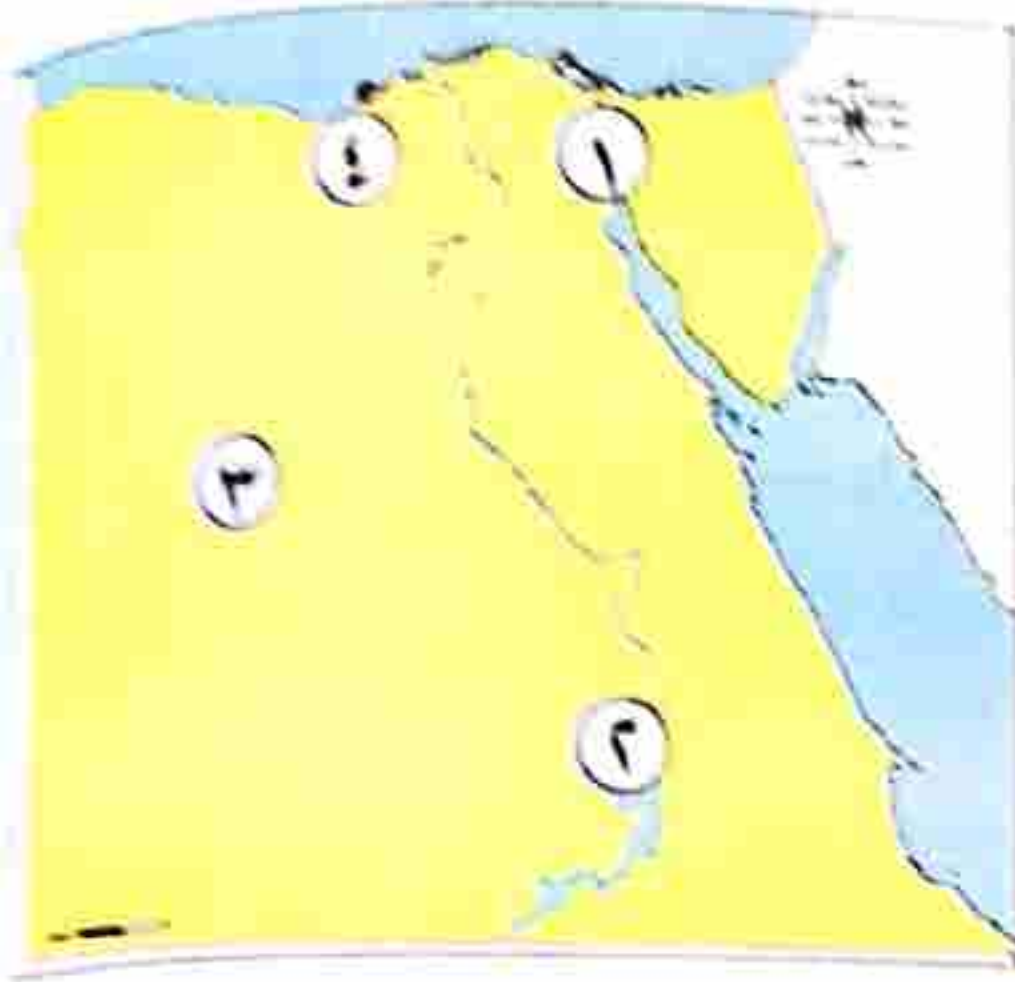
٥ الأطباق والسلال الملونة تصنع من

٦ اتفاقية حقوق الطفل التى صدرت عن الأمم المتحدة تعد من الجهود

(ب) دال على صحة العبارة الآتية:

- تنوع مظاهر السطح فى مصر.

السؤال الأول (١) أمامك خريطة صماء لمصر، وضع مدلول الأرقام عليها:



- ١ قناة
- ٢ بحيرة
- ٣ الصحراء
- ٤ محافظة

(ب) اكتب ثلاثة أماكن ترى علم مصر يرفرف بها.

(ج) صوب ما تحته خط:

- السهول الفيضية تمتد على طول ساحل البحر.

السؤال الثاني (١) أكمل العبارات التالية مما بين القوسين:

(الفخار - الخريطة - الشعاب المرجانية - الدولية)

- ١ من أدوات تحديد المواقع
- ٢ تنتشر على ساحل البحر الأحمر
- ٣ اتفاقية حقوق الطفل من الجهود
- ٤ أقدم الصناعات اليدوية، وتنتشر في العديد من القرى المصرية هي صناعة

(ب) اكتب ما تشير إليه العبارة الآتية:

- هي رسم توضيحي لسطح الأرض أو جزء منه باستخدام مجموعة من الرموز والألوان ومقياس رسم محدد.

(ج) صوب ما تحته خط:

- محطة الزعفرانة تولد الكهرباء من الشمس.

السؤال الثالث (١) اكتب كلمة (صواب) أمام العبارة الصحيحة، وكلمة (خطأ) أمام العبارة غير الصحيحة:

- ١ تعد حملة ١٠٠ مليون صحة من الخدمات الثقافية التي توفرها الدولة.)
- ٢ الرمال البيضاء تدخل في صناعة السيارات.)
- ٣ تمر السفن في الاتجاهين بقناة السويس بعد حفر قناة السويس الجديدة.)
- ٤ يستخدم مقياس الرسم في تحديد الاتجاهات على الخريطة.)
- ٥ يتخذ علم مصر شكل المستطيل * .)

(ب) اكتب تفسيرًا واحدًا لاهتمام الدولة بذوى الاحتياجات الخاصة.

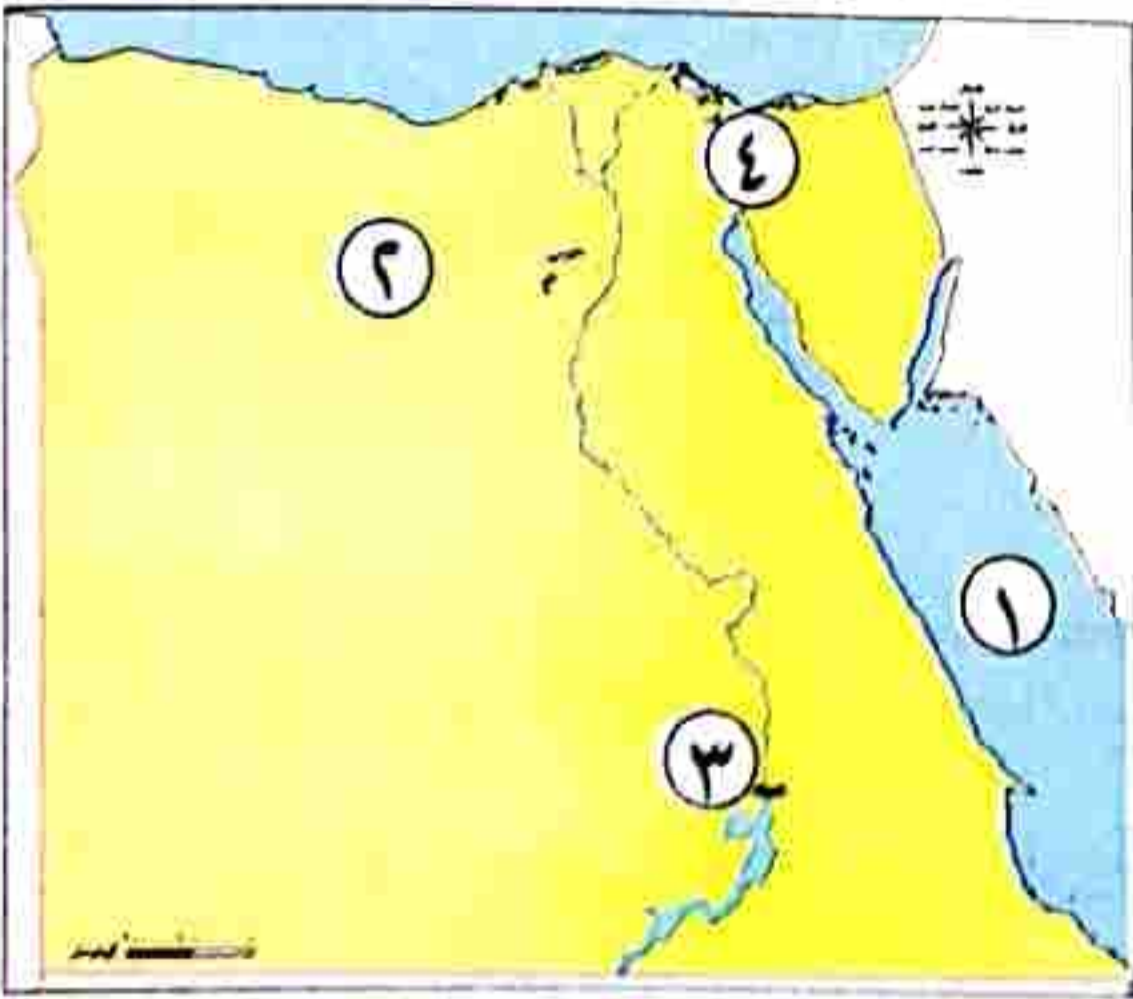
السؤال الرابع (١) اختر الإجابة الصحيحة مما بين القوسين:

- ١ إذا أردت الذهاب إلى عاصمة مصر فعليك التوجه إلى محافظة
(الإسكندرية - القاهرة - الجيزة - أسوان)
 - ٢ لمعرفة درجة الحرارة في اليوم فإننا نستخدم
(دوارة الرياح - الترمومتر - الأنيمومتر - مقياس المطر)
 - ٣ يمكننا تقليل نسبة تلوث الهواء من خلال استخدام السيارات التي تسير بـ
(البنزين - السولار - الغاز الطبيعي - الفحم)
 - ٤ يلون جبل سانت كاترين على الخريطة باللون
(الأخضر - البنى - الأصفر - الأزرق)
 - ٥ عند التقاط صورة حقيقية تفصيلية لجزء من سطح الأرض فإننا نستخدم
(الطائرة - القمر الصناعي - الصاروخ - سفينة الفضاء)
 - ٦ الحرفة التي يوجد باسمها شارع في محافظة القاهرة
(الزجاج - النسيج - الخيامية - السجاد اليدوى)
- (ب) اكتب نصيحة للفلاح للمحافظة على التربة من التلوث.

مجاب عنه

٦ محافظة القليوبية (إدارة العبور التعليمية)

(١) أمامك خريطة صماء لمصر، وضع مدلول الأرقام عليها:



- ١ البحر
- ٢ بيئة
- ٣ محطة لتوليد الكهرباء من المياه
- ٤ قناة

(ب) اكتب ما تشير إليه العبارات الآتية:

- ١ مساحات واسعة من اليابس تضم عددًا من الدول.
- ٢ تجمعات كبيرة من الرمال مثل بحر الرمال العظيم.
- ٣ وصف حالة الجو من حيث الحرارة والرياح والأمطار في فترة زمنية طويلة.

(.....)

(.....)

(.....)

(١) ضع خطًا تحت الإجابة الصحيحة فيما بين القوسين:

- ١ تقع مصرفى الركن الشمالى الشرقى لقارة (إفريقيا - آسيا - أوروبا - أستراليا)
- ٢ توجد أرض شدوان بكاملها داخل البحر الأحمر فهى بذلك (جزيرة - شبه جزيرة - منخفض - هضبة)
- ٣ الحرفة التى يوجد شارع باسمها فى محافظة القاهرة هى ... (النسيج - السجاد اليدوى - الخيامية - الزجاج)
- ٤ التحاق الطفل بالمدرسة يعد من حقوق الطفل فى (الصحة - السكان - الأمن - التعليم)
- ٥ من محافظات الحدود محافظة (الإسكندرية - الجيزة - مطروح - الأقصر)

(ب) أجب عن الأسئلة التالية:

١ اذكر أحد السلوكيات التى تعبر عن احترامك لعلم مصر.

٢ اكتب تفسيراً لأهمية الخريطة للفلاح.

(١) اكتب كلمة (صواب) أمام العبارة الصحيحة، وكلمة (خطأ) أمام العبارة غير الصحيحة:

- ١ يستخدم مقياس الرسم فى تحديد الاتجاهات على الخريطة.)
 - ٢ المخاطبات الرسمية والنقوش على جدران المعابد من المصادر الأولية.)
 - ٣ يدل النسرا الذى يتوسط علم مصر على القوة والشجاعة.)
 - ٤ يرتبط العيد القومى للمحافظة بحدث تاريخى أو ذكرى مهمة.)
 - ٥ تعتمد الحياة فى البيئة الصحراوية على مياه نهر النيل.)
 - ٦ تسعى الدولة إلى إنشاء الطرق والكبارى وتطوير العشوائيات.)
- (ب) اكتب نتيجة واحدة تترتب على حرق قش الأرز.

(١) صوب ما تحته خط:

- ١ تزرع المحاصيل الصيفية والشتوية فى البيئة الساحلية.
- ٢ محطة الزعفرانة تولد الكهرباء من الشمس.
- ٣ الصور الفضائية يتم التقاطها باستخدام الطائرات.*
- ٤ مسجد عمرو بن العاص يقع فى محافظة الجيزة.

(ب) صنف المظاهر الطبيعية التالية في الجدول التالي:

(سانت كاترين - الجلف الكبير - ساحل البحر المتوسط - العوينات)

سهول

هضاب

جبال

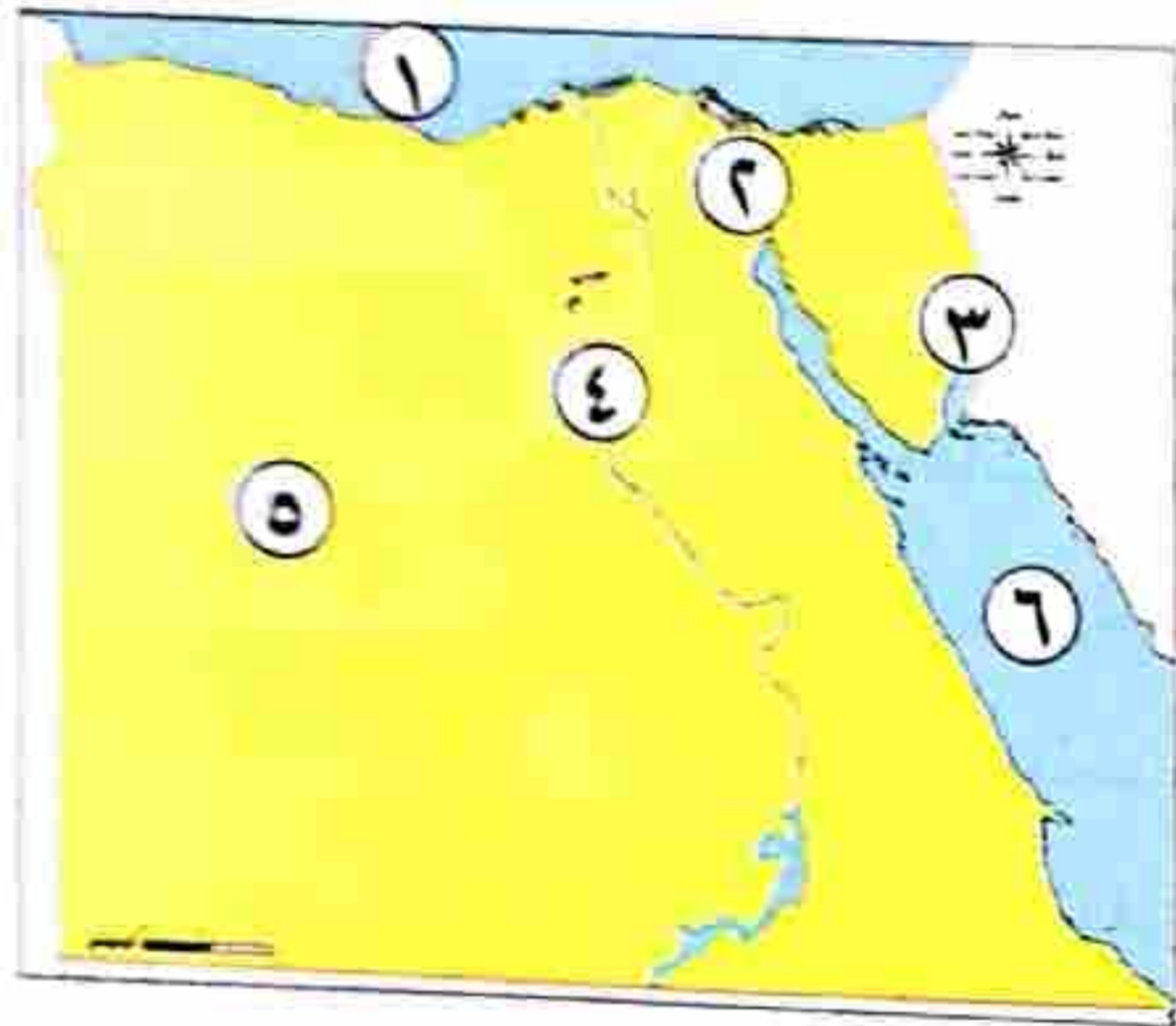
غير مجاب عنه

محافظة المنوفية (إدارة الشؤون التعليمية)

٧

(١) أمامك خريطة صماء لمصر، وضح مدلول الأرقام عليها:

السؤال الأول



- ١ البحر
- ٢ قناة
- ٣ خليج
- ٤ نهر
- ٥ الصحراء
- ٦ البحر

(ب) بم تفسر...؟

- أهمية مبادرة حياة كريمة من الدولة.

(١) ضع علامة (✓) أمام العبارة الصحيحة، وعلامة (X) أمام العبارة غير الصحيحة:

السؤال الثاني

- ١ أدى حرق قش الأرز إلى زيادة نسبة تلوث الهواء * .
- ٢ يسود المناخ الصحراوي الحار معظم الأراضي المصرية * .
- ٣ تساعد الخريطة الفلاح في تحديد الأماكن السياحية والأثرية .
- ٤ تعد إفريقيا وأوروبا وأمريكا الجنوبية من قارات العالم الجديد .
- ٥ تبذل الدولة جهودًا كبيرة لضمان حصول الأطفال ذوي الاحتياجات الخاصة على حقوقهم .
- ٦ صناعة الزجاج من الحرف المدرجة على قائمة التراث العالمي في منظمة اليونسكو .
- ٧ نهر النيل من أهم مصادر المياه العذبة في مصر .

(ب) فسر:

- ضيق السهل الساحلي للبحر الأحمر.

السؤال الثالث (١) اختر الإجابة الصحيحة مما بين الأقواس:

- ١ يدل اللون الأبيض في العلم المصري على
(الحرب - السلام - الاستعمار - التضحية)
 - ٢ من محافظات الوجه البحرى فى مصر.....
(شمال سيناء - المنوفية - أسوان - البحر الأحمر)
 - ٣ من حقوق الطفل
(الرعاية - الحماية - المشاركة - كل ما سبق)
 - ٤ أبو الاقتصاد المصرى
(أحمد عرابى - سعد زغلول - طلعت حرب - مصطفى كامل)
 - ٥ تمثل معظم مساحة مصر البيئة
(الصحراوية - الزراعية - الساحلية - الصناعية)
 - ٦ تقاس سرعة الرياح بجهاز.....
(الترمومتر - دوازة الرياح - مقياس المطر - الأنيمومتر)
- (ب) وضح الأسباب:
- التى أدت إلى تلوث الهواء.

السؤال الرابع (١) أكمل العبارات الآتية بكلمة مناسبة:

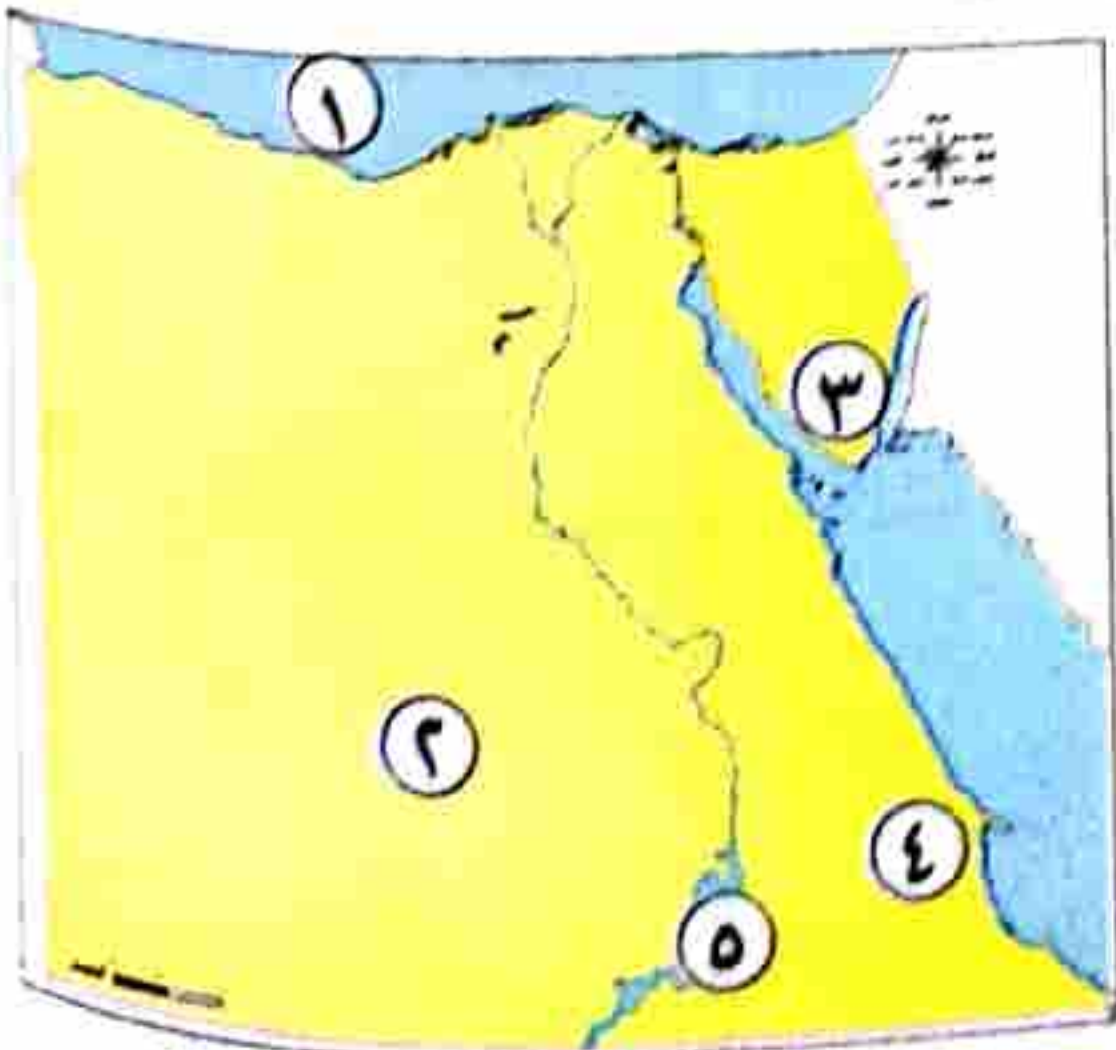
- ١ توضح الاتجاهات الأصلية والاتجاهات الفرعية.
 - ٢ تعد محطة من أهم المحطات لتوليد الكهرباء من الرياح فى البحر الأحمر.
 - ٣ استخراج الوثائق الرسمية من الخدمات.....
 - ٤ تعد الكتب والمقالات والأبحاث من المصادر.....
 - ٥ من البحيرات المالحة فى مصر.....
 - ٦ الأشياء التى يجب أن تحصل عليها لتعيش هى.....
 - ٧ يلون جبل العوينات على الخريطة باللون.....
- (ب) أجب عما يلى:
- اذكر مصدرًا للمياه العذبة فى مصر*.

غير مجاب عنه

محافظة المنوفية (إدارة تلى التعليمية)

٨

السؤال الاول (١) أمامك خريطة صماء لمصر، اكتب ما تشير إليه الأرقام:



- ١ يشير رقم (١) إلى بحر.....
- ٢ يشير رقم (٢) إلى أكبر محافظات مصر مساحة هى.....
- ٣ يشير رقم (٣) إلى جبل.....
- ٤ يشير رقم (٤) إلى منطقة استخراج الذهب.....
- ٥ يشير رقم (٥) إلى أكبر بحيرة صناعية فى العالم.....

(ب) ما أوجه الشبه بين الصور الجوية والصور الفضائية؟

السؤال الثاني (١) اكتب كلمة (صواب) أو (خطأ) أمام العبارات الآتية:

- ١ مصر نقطة التقاء قارتى إفريقيا وأوروبا. ()
٢ تحتفل جميع محافظات مصر بعيد قومي واحد. ()
٣ الحرف التراثية لها أهمية في دعم الاقتصاد المصري. ()
٤ حرق قش الأرز يلوث الهواء* . ()

(ب) حدد سببًا واحدًا لكل مما يأتي:

١- أهمية الصحراء البيضاء والسوداء للاقتصاد المصري.

٢- طرح الدولة مبادرة «حياة كريمة».

السؤال الثالث (١) أكمل العبارات الآتية:

- ١ عند رسم البحر الأحمر في ورقة صغيرة نستخدم.....
٢ «مدينة شرم الشيخ من أجمل المدن المصرية» هذه المقولة تعبر عن.....
٣ اللون الأحمر في العلم يشير إلى مرحلة.....
٤ يقوم..... بإصدار النقود والإشراف على جميع البنوك.

(ب) دلل على: وجود نماذج مشرفة من ذوى الاحتياجات الخاصة في بلدنا.

السؤال الرابع (١) اختر الإجابة الصحيحة مما بين القوسين:

- ١ يوضح مدلول الألوان الموجودة على الخريطة.....*
(مقياس الرسم - عنوان الخريطة - مفتاح الخريطة - وردة البوصلة)
٢ الكهرباء المولدة من خلف السد العالي تعتمد على.....
(الرياح - المياه - الشمس - البترول)
٣ الطقس والمناخ يختلفان في.....
(درجات الحرارة - سرعة الرياح - كمية الأمطار - الفترة الزمنية)
٤ هضبة الجلف الكبير في مصر تقع بالجزء.....
(الشمال الشرقي - الجنوب الشرقي - الشمال الغربي - الجنوب الغربي)

(ب) ما النتائج المترتبة على...؟

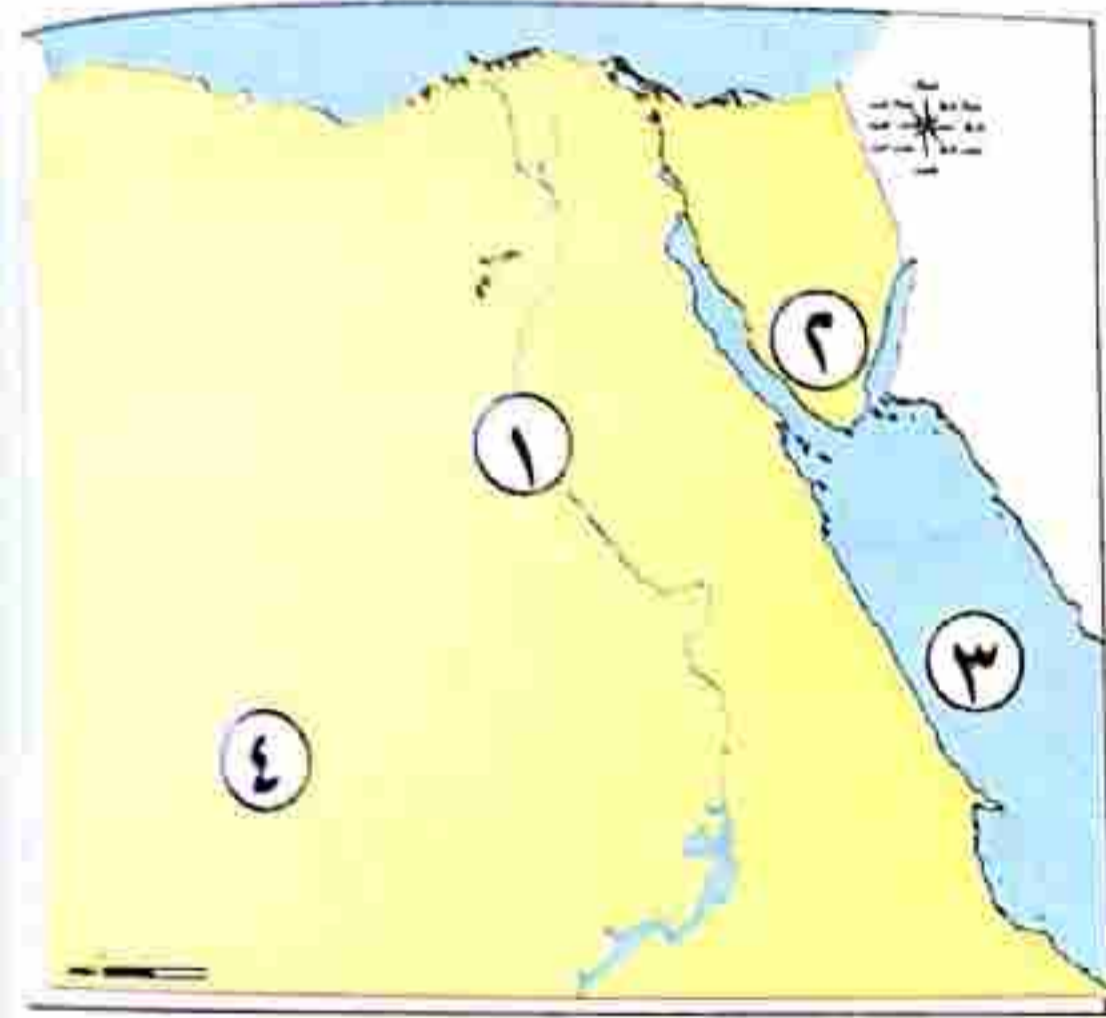
١- وجود مياه جوفية في الصحراء الغربية*.

٢- دعم الاقتصاد المصرى للحرف التراثية.

مجاب عليه

٩ محافظة الغربية (إدارة شرق طنطا التعليمية)

السؤال الأول (١) انظر إلى الخريطة التي أمامك، ثم أجب:



١ يشير رقم (١) إلى نهر

٢ يشير رقم (٢) إلى جبل

٣ يشير رقم (٣) إلى البحر

٤ يشير رقم (٤) إلى أكبر المحافظات مساحة

(ب) اكتب ما تشير إليه كل عبارة من العبارات التالية:

١ مساحة واسعة من الأرض مرتفعة مستوية أو شبه مستوية. (.....)

٢ وصف حالة الجو من حيث الحرارة والرياح والأمطار خلال فترة زمنية طويلة «فصل، سنة». (.....)

٣ تجمعات كبيرة من الرمال مثل بحر الرمال العظيم. (.....)

السؤال الثاني (١) اكتب كلمة (صح) أمام العبارة الصحيحة، وكلمة (خطأ) أمام العبارة غير الصحيحة:

١ الطاقة الحفزية هي طاقة غير متجددة تحتاج لآلاف السنين لتشكلها. ()

٢ يستخدم مقياس الرسم في تحديد الاتجاهات على الخريطة. ()

٣ مؤلف النشيد الوطنى هو سيد درويش*. ()

٤ تعد محافظة البحر الأحمر من محافظات الحدود الصحراوية. ()

(ب) بم تفسر...؟

١ اتخاذ كل محافظة شعارًا خاصًا بها

٢ إنشاء الدولة العاصمة الإدارية الجديدة

السؤال الثالث (١) تخير الإجابة الصحيحة مما بين القوسين:

١ من الحرف المدرجة على قائمة التراث العالمى لليونسكو صناعة

(الخيامية - الفخار - السجاد اليدوى - الزجاج)

إنشاء الدولة للأندية الرياضية والحدائق من الخدمات

(التعليمية - الصحية - الأمنية - الترفيهية والثقافية)

«مدينة الفردقة هي أجمل مدينة في مصر»، هذه العبارة تعبر عن (حقيقة - رأى - خيال - مقترح)

يعبر عن فترة السلام في العلم المصرى اللون (الأسود - الأحمر - الأبيض - الأصفر)

صوب ماتحته خط:

محطة الزعفرانة تولد الكهرباء من الشمس.

تربط قناة بنما بين البحر الأحمر والبحر المتوسط.

(أ) أكمل العبارات التالية من الكلمات الموجودة بين القوسين:

سؤال الرابع

(الأنيمومتر - الموارد الطبيعية - الرعاية الصحية - سيد درويش)

من حقوق الطفل الحصول على

ملحن النشيد الوطنى «بلادى بلادى» هو

يستخدم جهاز لقياس سرعة الرياح.

..... خلقها الله لنا لتساعدنا على الحياة ونستخدمها فى إشباع حاجاتنا.

ما النتائج المترتبة على؟

حرق قش الأرز

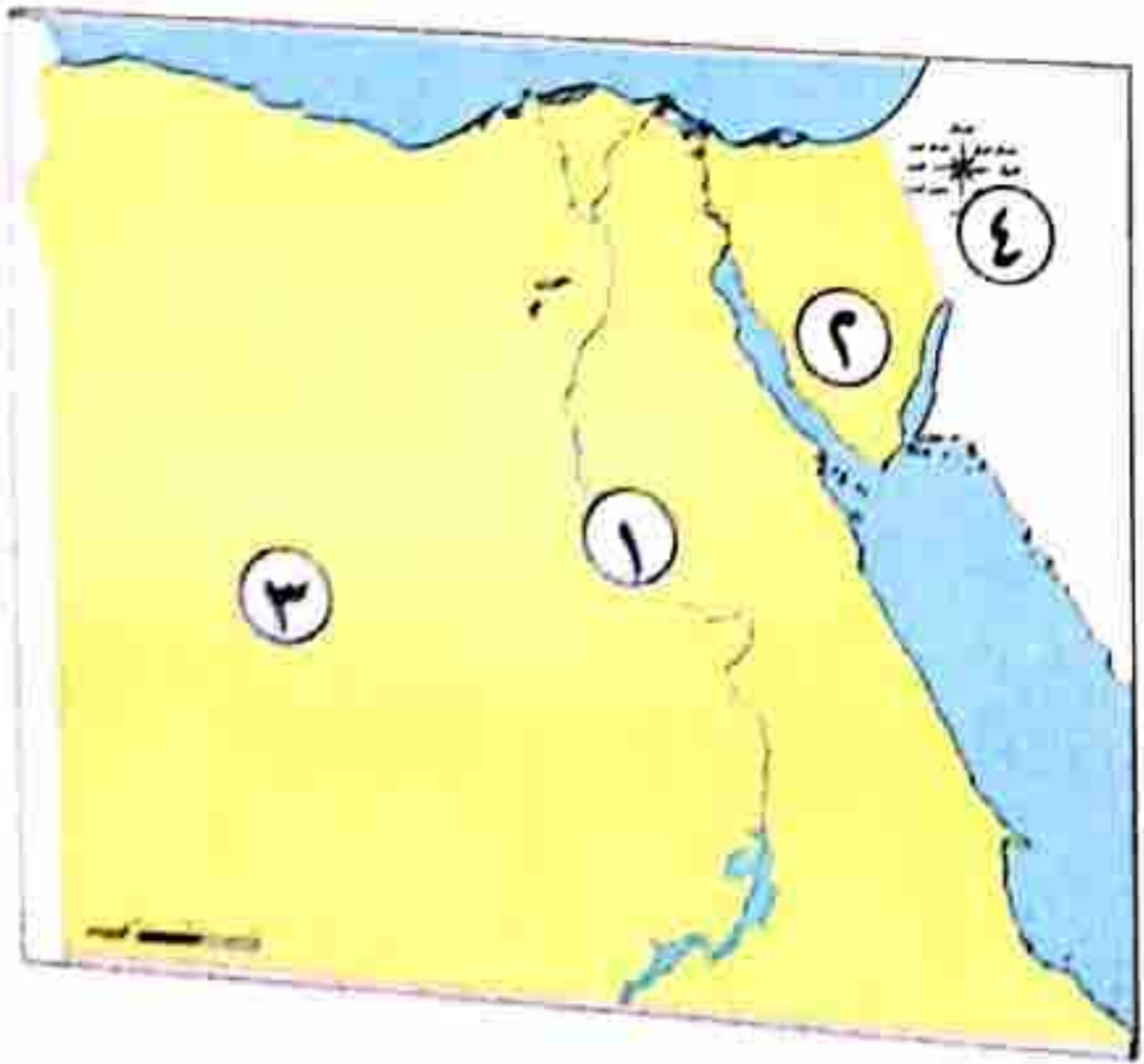
وجود المياه الجوفية فى الصحراء الغربية*

غير مجاب عنه

١٠ محافظة الدقهلية (إدارة غرب المنصورة التعليمية)

سؤال الأول

(أ) لاحظ الخريطة، ثم أجب:



بشير رقم (١) إلى مورد للمياه العذبة

بشير رقم (٢) إلى شبه جزيرة

بشير رقم (٣) إلى البيئة

بشير رقم (٤) إلى عنصر من عناصر الخريطة وهو

حدد الكلمة غير المناسبة: (الدقهلية - الشرقية - الغربية - الأقصر).

سب تفسيراً واحداً لتلوين منطقة جنوب سيناء على خريطة سطح مصر باللون البنى.

السؤال الثاني (١) تعبر الصورتان عن حرفتين تراثيتين هما:

٢ تعبر الصورة (٢) عن حرفة



(٢)

١ تعبر الصورة (١) عن حرفة



(١)

(ب) أكمل العبارتين الآتيتين من بين الكلمات: (الصحراوية - الزراعية - الهواء - البنوك)

١ حرق قش الأرز وأدخنة المصانع تؤدي إلى تلوث*

٢ مؤسسات تقدم خدمات مالية للأفراد والشركات*

(ج) اكتب مقترحين لترشيد استهلاكك للكهرباء.

السؤال الثالث (١) تخير الإجابة الصحيحة من بين القوسين:

١ آسيا مساحة شاسعة من اليابس تضم عدة دول فهي بذلك تكون (محافظة - دولة - قارة - جزيرة)

٢ «مدينة شرم الشيخ أجمل المدن المصرية»، تُعبر هذه العبارة عن (رأى - خيال - حقيقة - واقع)

٣ يتخذ علم مصر شكل (دائرة - مثلث - مستطيل - مربع)

٤ إنشاء الحدائق يعد من الخدمات (الترفيهية - الثقافية - الأمنية - الصحية)

٥ توفير منزل ملائم للطفل يشير لحق الطفل في (التعليم - السكن - الترفيه - العمل)

(ب) اكتب نتيجة واحدة ترتبت على تقديم الخدمات الإلكترونية للمواطنين.

السؤال الرابع (١) اكتب كلمة (صواب) أمام العبارة الصحيحة، وكلمة (خطأ) أمام العبارة غير الصحيحة:

١ تستخدم الأقمار الصناعية في التقاط الصور الجوية. ()

٢ يدل اللون الأبيض في علم مصر على السلام. ()

٣ يُعبر شعار محافظة القاهرة عن جزء من نشاط سكانها. ()

٤ لكل مستوى من مستويات ارتفاعات سطح مصر لون مختلف. ()

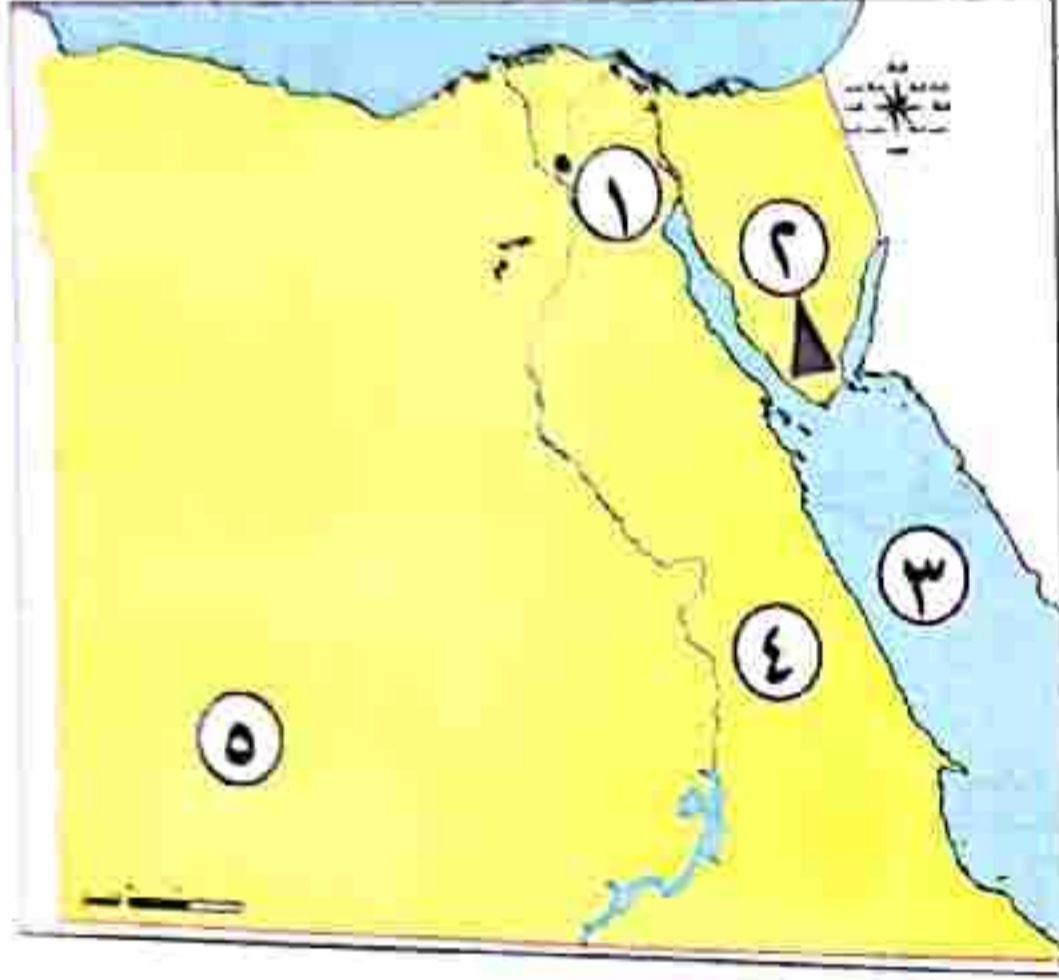
يحدد مناخ الدولة نوع المحاصيل الزراعية .
يمكنك الاستمتاع بالشعاب المرجانية عند زيارتك لسواحل البحر المتوسط .

()
()

غير مجاب عنه

محافظة البحيرة (إدارة المحمودية التعليمية)

(١) أمامك خريطة اكتب مدلول الأرقام عليها فيما يلي:



- يمثل الرقم (١) عاصمة مصر
- يمثل الرقم (٢) جبل
- يمثل الرقم (٣) البحر
- يمثل الرقم (٤) الصحراء
- يمثل الرقم (٥) هضبة
- اكتب سببًا واحدًا لـ:

إنشاء الدولة العاصمة الإدارية الجديدة

(١) ضع كلمة (صح) أمام العبارة الصحيحة، وكلمة (خطأ) أمام العبارة غير الصحيحة:

()
()
()
()
()
()

- يتميز ساحل البحر الأحمر في شرق مصر بالاتساع .
- تستخدم الرمال البيضاء بالصحاري في صناعة الزجاج .
- تبذل الدولة جهودًا كبيرة للحفاظ على البيئة ومواردها .
- صناعة الفخار وضعتها منظمة اليونسكو على قائمة التراث العالمي .
- الالتزام بالقواعد والقوانين من واجبات الطفل .
- أثرت شخصية طه حسين على الاقتصاد المصري .
- أما النتائج التي ترتبت على ...؟ (يكتفى باثنتين):
- خزف قناة السويس التي تصل البحر الأحمر بالبحر المتوسط .

(١) تخير الإجابة الصحيحة مما بين القوسين فيما يلي:

(أولية - اقتصادية - اجتماعية - ثانوية)

(البحر المتوسط - البحر الأحمر - نهر النيل - قناة السويس)

(الشرقية - البحيرة - جنوب سيناء - المنيا)

تعد من محافظات الوجه القبلي محافظة

- ٤ اللون الذي يعبر عن النضال من أجل الحرية اللون (الأحمر - الأبيض - الأسود - الأصفر الذهبي)
- ٥ الطقس والمناخ يختلفان في
- (ب) وضع: أهمية الخريطة للفلاح المصري

السؤال الرابع (١) صوب ما تحته خط فيما يلي:

- ١ تعد من أكبر البحيرات العذبة في العالم بحيرة البرلس .
- ٢ يعد دخان المصانع من أسباب تلوث التربة .
- ٣ قام بتلحين النشيد الوطني « بلادى بلادى » محمد يونس القاضى .
- ٤ يتم توليد الكهرباء من محطة كهرباء السد العالى من الرياح .
- ٥ حملة « ١٠٠ مليون صحة » تهدف إلى تحقيق خدمات بيئية .
- ٦ مناخ مصر معتدل ممطر في فصل الصيف * .

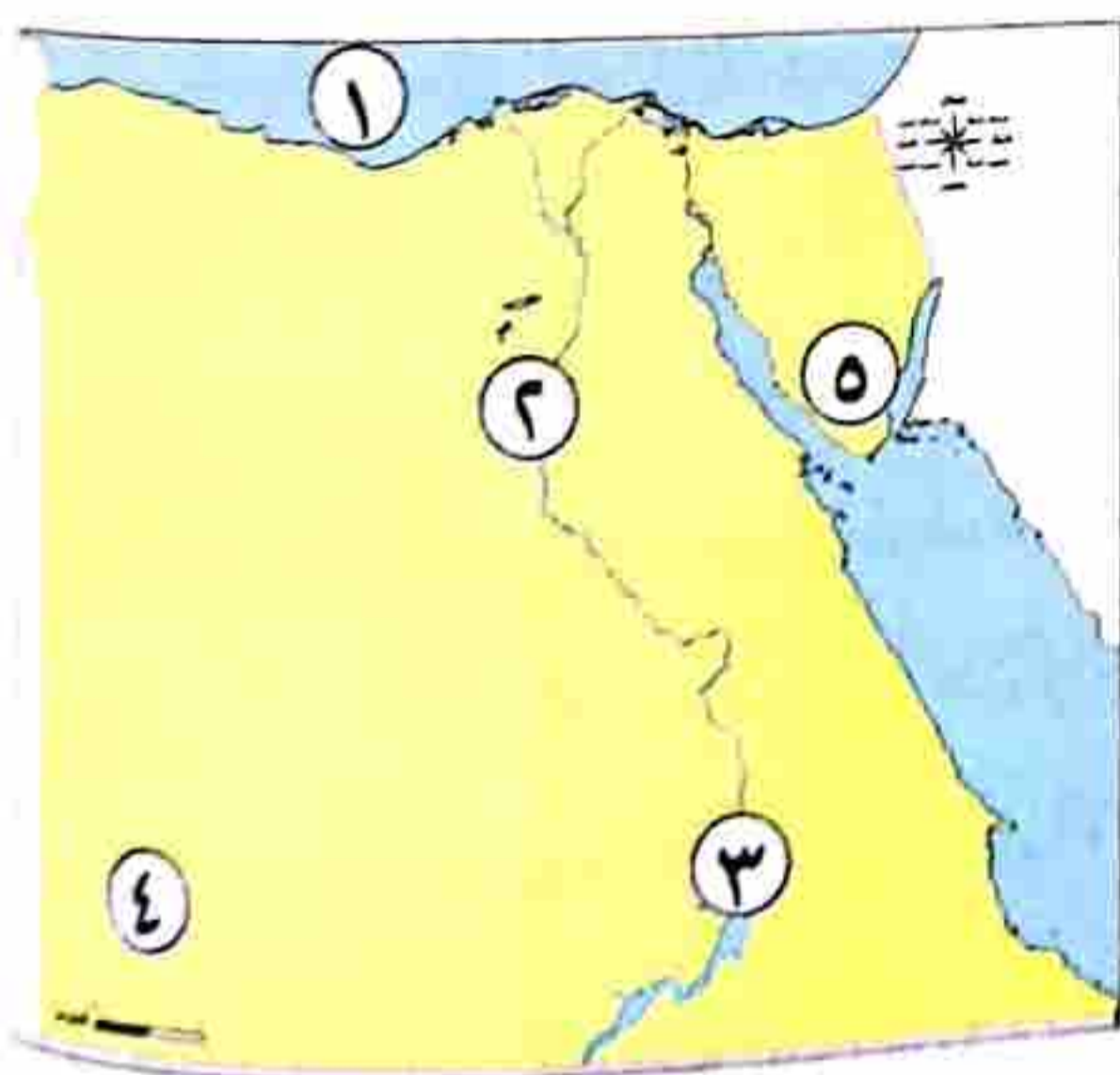
(ب) اكتب ما تشير إليه كل عبارة:

- ١ راية تتخذها المحافظة رمزاً لها لتعبر عن نشاط سكانها أو تاريخها. (.....)
- ٢ مساحة من المياه المالحة أقل مساحة من المحيط . (.....)

مجاوب عنه

١٢ محافظة دمياط (إدارة الزرقا التعليمية)

(١) أمامك خريطة صماء، اكتب مدلول الأرقام التي عليها:



- ١ البحر
- ٢ نهر
- ٣ بحيرة
- ٤ هضبة
- ٥ جبل

(ب) اذكر سبباً واحداً:

- إنشاء العاصمة الإدارية الجديدة.

(١) اختر الإجابة الصحيحة مما بين القوسين:

- ١ أكبر محافظات مصر مساحة
 - ٢ إذا أردت تحديد المسافة بين مدينة الأقصر وأسوان فاستخدم
 - ٣ تقع تلال المقطم في محافظة
 - ٤ تقاس سرعة الرياح باستخدام
- (دمياط - المنوفية - الغربية - الوادى الجديد)
- (وردة البوصلة - مقياس الرسم - مفتاح الخريطة - عنوان الخريطة)
- (القاهرة - الجيزة - دمياط - قنا)
- (الترمومتر - مقياس المطر - الأنيمومتر - جوب الرياح)

البنك الذي يشرف على جميع البنوك المصرية

(بنك القاهرة - البنك الأهلي - بنك مصر - البنك المركزي)

(النسيج - الخيامية - الفخار - الزجاج)

حرفة تنتشر في العديد من القرى المصرية

(ب) اكتب ما تشير إليه العبارة الآتية:

- رمز يتخذ كل بلد ليعبر عن تاريخه .

(.....)

السؤال الثالث (١) ضع كلمة (صح) أمام العبارة الصحيحة، وكلمة (خطأ) أمام العبارة غير الصحيحة:

١ يعبر شعار محافظتى على نشاط السكان .

()

٢ يسود معظم سطح مصر فى الإقليم الصحراوى .

()

٣ يؤدى انتشار الحرف اليدوية إلى ارتفاع نسبة البطالة .

()

٤ تعتمد الزراعة فى الصحراء الغربية على المياه الجوفية * .

()

٥ تحرص الدولة على تمتع الأطفال بحقوقهم .

()

(ب) اذكر نتيجة واحدة لـ:

- اقتراب الجبال فى بعض الجهات على ساحل البحر الأحمر

السؤال الرابع (١) أكمل العبارات الآتية بما يناسبها :

١ يحد مصر من جهة الشمال

٢ حرق قش الأرز يلوث

٣ كلما قل الاستهلاك زاد

٤ الكشف المبكر لمرض الالتهاب الكبدى من الخدمات

٥ مبادرة تهتم بصحة المواطن وأطلقتها الدولة عام ٢٠١٨م

٦ لكل محافظة حدود

(ب) من يكون ...؟

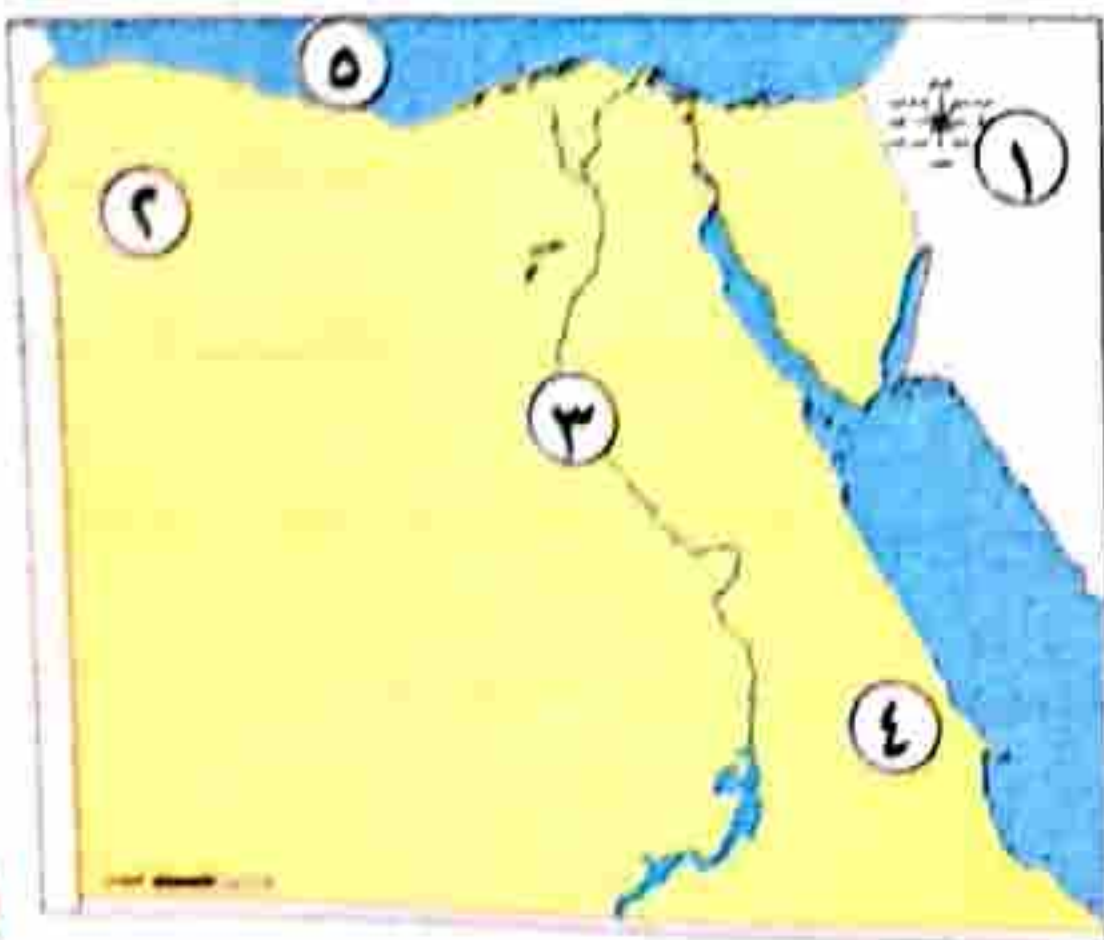
- لقب بـ «أبو الاقتصاد المصرى» .

(.....)

غير مجاب عنه

١٣ محافظة دمياط (إدارة الروضة التعليمية)

السؤال الاول (١) أمامك خريطة صماء، اكتب ما تشير إليه الأرقام الموقعة عليها:



١ من عناصر الخريطة

٢ محافظة من محافظات الحدود

٣ نهر

٤ الصحراء

٥ البحر

(ب) اذكر سببًا واحدًا لما يأتي:

١- تقسيم مصر إلى عدة محافظات.

٢- أهمية الرمال البيضاء.

السؤال الثاني (١) اكتب كلمة (صواب) أمام العبارة الصحيحة، وكلمة (خطأ) أمام العبارة غير الصحيحة:

- ١) تعد المصادر الأولية والثانوية مصادر لتوثيق المعلومات والأحداث.
- ٢) ساعد موقع مصر على تسهيل الاتصال بجيرانها تجاريًا فقط.
- ٣) تتعرض التربة الزراعية للتلوث نتيجة الإسراف في استخدام الأسمدة والمبيدات.
- ٤) استخدام الغاز الطبيعي في السيارات بدلًا من البنزين يقلل من تلوث الهواء.
- ٥) كل ما يتم إنتاجه ونقوم بشرائه هو خدمات.
- ٦) يقوم البنك المركزي بإصدار النقود والإشراف على جميع البنوك والمؤسسات المصرفية.

(ب) صنف ما يلي (حالة الجو في فترة طويلة - حالة الجو في فترة قصيرة):

المناخ

الطقس

السؤال الثالث (١) اختر الإجابة الصحيحة مما بين القوسين:

- ١) يعبر اللون الأبيض في علم مصر عن (السلام - الظلم - الرخاء الاقتصادي - النضال)
- ٢) من الموارد الطبيعية المتجددة التي لا تنفذ (المعادن - البترول - المياه - الفحم)
- ٣) تتركز صناعة السجاد اليدوي في قرية (الحرانية - الخيامية - جراح - الزعفران)
- ٤) الأشياء التي يجب أن نحصل عليها لنعيش هي (رغبات - حاجات - استثمار - ادخار)
- ٥) أسس بنك مصر (سيد درويش - طلعت حرب - السادات - طه حسين)

(ب) اكتب المصطلح الذي تشير إليه العبارات التالية:

- ١) راية تتخذها المحافظة رمزًا لها لتعبر عن نشاط سكانها أو جزء من تاريخها.
- ٢) أهم ممر ملاحى يربط بين البحر المتوسط والبحر الأحمر.

(أ) صل من المجموعة (أ) ما يناسبه من المجموعة (ب):

(أ)

١- تقع مصرفى قارة

٢- مؤلف كلمات النشيد الوطنى

٣- أقدم الصناعات اليدوية

(ب)

الفخار

الرعاية والتعليم

إفريقيا

محمد يونس القاضى

أكمل العبارات التالية من الكلمات الموجودة بين القوسين:

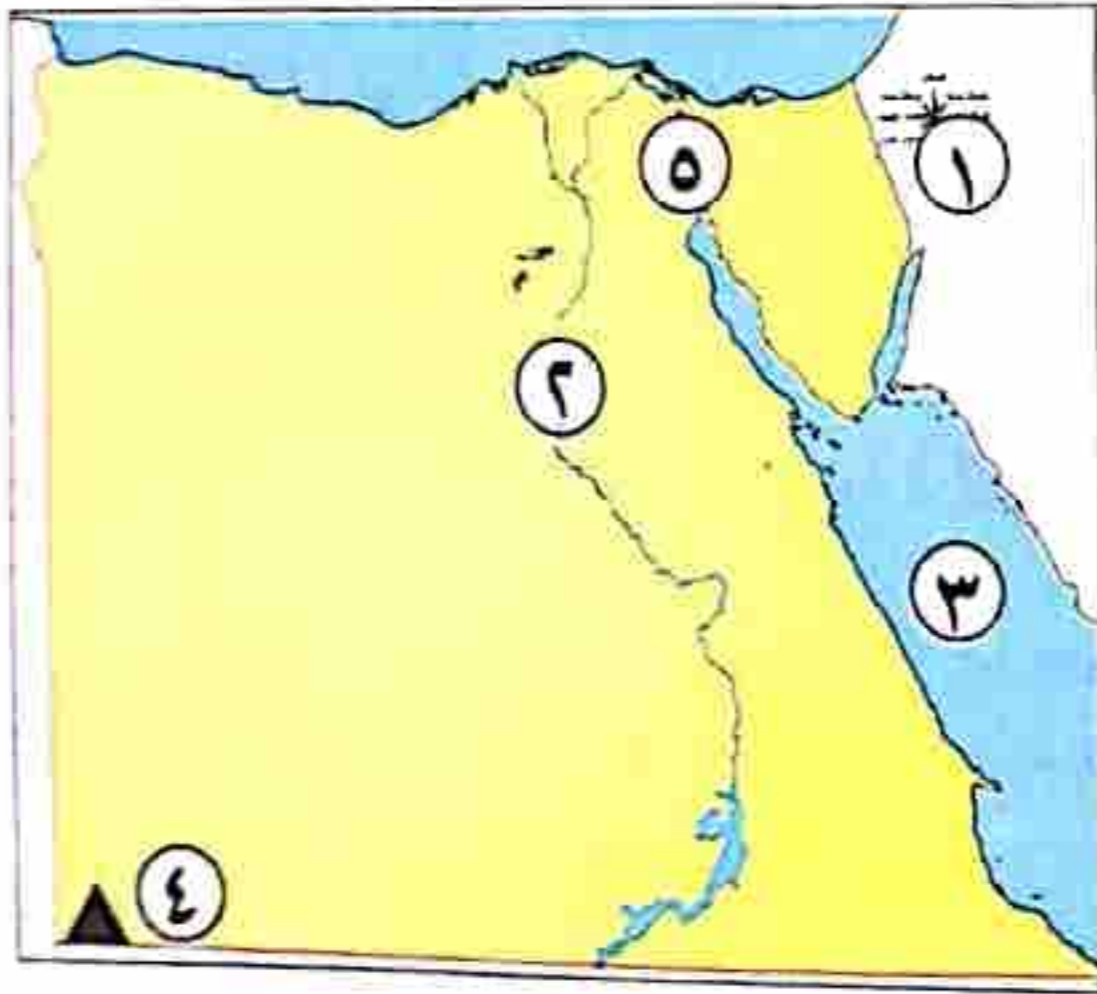
(الخريطة - المصادر الأولية - المناطق الصحراوية)

١- يحتاج الفلاح لتحديد ملكية الأرض الزراعية إلى

٢- مصادر توثيق المعلومات والأحداث وتكون معاصرة للحدث هي

١٤ محافظة الشرقية (إدارة الحسينية التعليمية) غير مجاب عنه

(أ) لاحظ الخريطة، ثم أجب:



١- أحد عناصر الخريطة

٢- نهر

٣- البحر

٤- جبل

٥- ممر ملاحى هام

٦- اكتب سببًا واحدًا لكل من:

أ- أهمية الخريطة للسائح.

ب- تلوث الهواء.

(أ) أكمل العبارات التالية بما يناسبها باستخدام هذه الكلمات:

طلعت حرب - السجاد اليدوى - الرغبات - المناخ - القاهرة - الحدود - الرعى - آسيا -

الزجاج - جمال حمدان - دوارة الرياح - إفريقيا)

١- أشياء سيكون من الجيد الحصول عليها، ولكن تستطيع العيش بدونها

٢- تعد محافظة مطروح من محافظات

٣- تقع مصرفى شمال شرق

٤- دراسة حالة الجولف فترة زمنية طويلة يسمى

٥ إحدى الحرف المدرجة على قائمة التراث العالمى لليونسكو.....

٦ أطلق لقب «أبو الاقتصاد المصرى» على.....

(ب) حدد اثنين من: حقوق الطفل المصرى.

٢

١

السؤال الثالث (١) اكتب كلمة (صواب) أمام العبارة الصحيحة، وكلمة (خطأ) أمام العبارة غير الصحيحة:

- ١ يعد الحديد والمنجنيز من الموارد المتجددة.
- ٢ التعليم والترفيه من الحقوق التى توفرها لك الدولة.
- ٣ يعد كتاب شخصية مصر من أبرز مؤلفات الجغرافى جمال حمدان.
- ٤ الحدود التى تفصل محافظتى عن المحافظات المجاورة حدود سياسية.
- ٥ تحتفل محافظة القاهرة بعيدها القومى فى ذكرى رحيل الإنجليز عن مصر.

(ب) اكتب ما تشير إليه كل عبارة من العبارات الآتية:

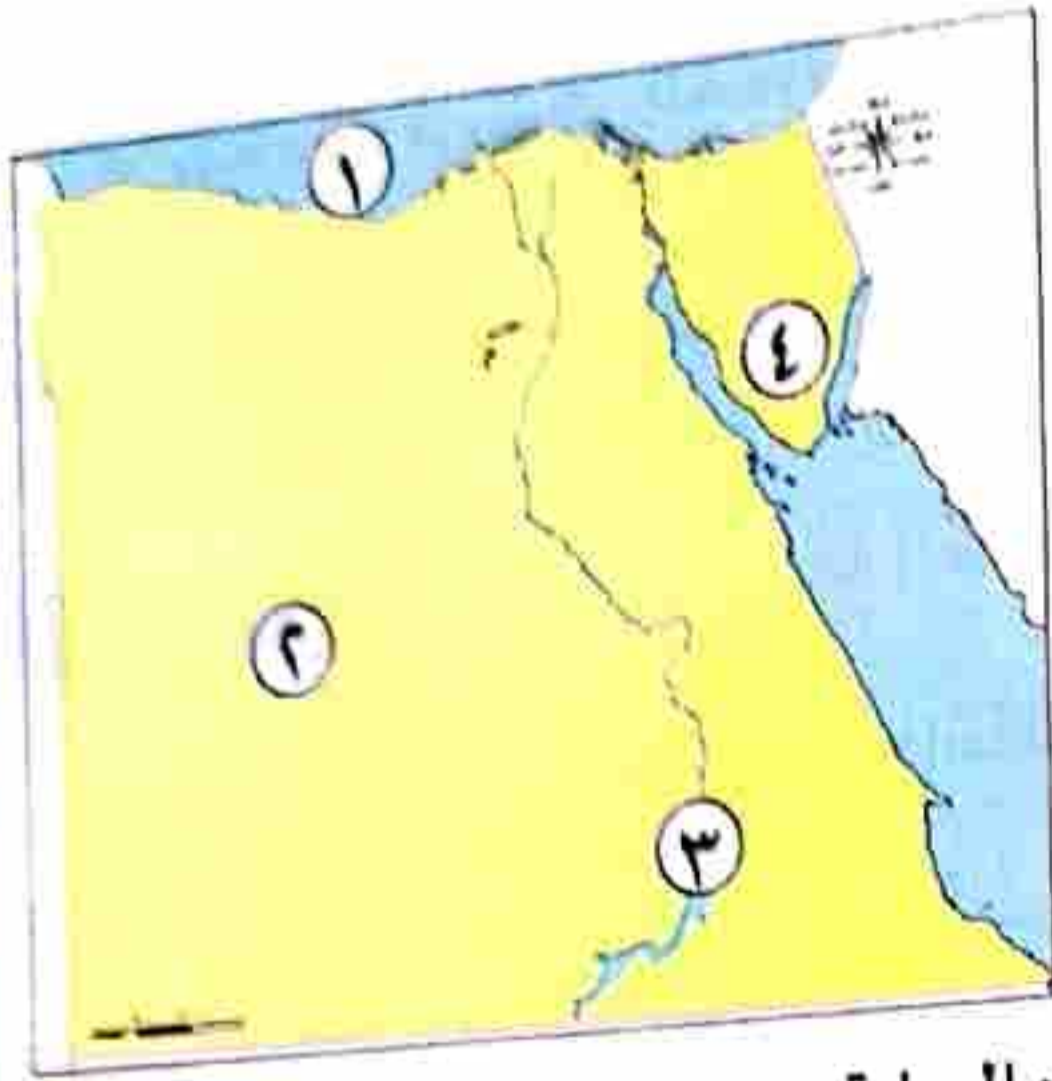
- ١ الأشياء التى يجب أن تحصل عليها لتعيش.
- ٢ راية تتخذها المحافظة رمزاً لها وتعبّر عن جزء من تاريخها.

السؤال الرابع (١) اختر الإجابة الصحيحة مما بين القوسين:

- ١ اللون المناسب للدلتا على خريطة التضاريس (الأخضر - الأصفر - البنى - الأزرق)
- ٢ الأشياء التى يكون من الجيد الحصول عليها ولكن يمكن العيش بدونها تسمى * (الرغبات - الحاجات - الاستهلاك - الادخار)
- ٣ البنك الذى من مهامه إصدار النقود (بنك مصر - البنك المركزى - بنك القاهرة - البنك الأهلى)
- ٤ لحن النشيد الوطنى لمصر (يونس القاضى - طه حسين - سيد درويش - محمد عبدالوهاب)
- ٥ أكبر البحيرات الصناعية فى العالم بحيرة (المنزلة - إدكو - قارون - ناصى)
- ٦ أحد ألوان علم مصر يدل على السلام (الذهبى - الأحمر - الأبيض - الأسود)

(ب) حدد نتيجة واحدة ل: حفر قناة السويس الجديدة.

(١) انظر إلى الخريطة التي أمامك ثم أجب:



بشير رقم (١) إلى البحر

بشير رقم (٢) إلى الصحراء

بشير رقم (٣) إلى بحيرة

بشير رقم (٤) إلى جبل

(١) هي مساحة واسعة من المياه المالحة ذات أعماق كبيرة». تعبر هذه العبارة عن مصطلح هو:

أحدى المبادرات التي تهدف للتخفيف عن المواطنين في المجتمعات الأكثر احتياجًا بتوفير كافة المرافق.

(١) أكمل الجمل التالية من بين الكلمات:


(البنى - المياه الجوفية - نهر النيل - أخضر)

تعتمد الزراعة في الصحراء الغربية على

يلون جبل الشايب على الخريطة باللون

في ضوء ما درست : أي الصورتين التاليتين يؤثر على المناخ بشكل إيجابي؟ وأيها يؤثر بشكل سلبي؟

(٢)



تؤثر بشكل

(١)



تؤثر بشكل

كتب تفسيرًا واحدًا لأهمية قناة السويس.

()

()

نشأ محمد طلعت حرب باشا بنك مصر*.

عند زيارتك للبيئة الزراعية يمكنك ملاحظة الكثبان الرملية فيها*.

٣ يرتبط العيد القومي بمحافظتى بذكرى تاريخية .

٤ تنتشر صناعة الخيامية فى مدينة أسوان .

٥ تقع مصرفى الركن الشمالى الغربى لقارة إفريقيا .

(ب) ما النتائج المترتبة على ...؟ سوء استخدام الموارد الطبيعية .

السؤال الرابع (١) تخير الإجابة الصحيحة من بين القوسين:

١ لمعرفة درجات الحرارة اليوم فإننا نستخدم (الترمومتر - دواراة الرياح - الأنيمومتر - جورب الرياح)

٢ البنك الذى يشرف على جميع البنوك المصرية هو

(البنك الأهلى - بنك القاهرة - بنك مصر - البنك المركزى)

٣ «نهر النيل أطول أنهار العالم»، تعد هذه العبارة

(حقيقة - رأياً - ادعاء - خيالاً)

٤ إحدى قارات العالم القديم ولا توجد بها مصرهى

(إفريقيا - آسيا - أستراليا - أوربا)

٥ إذا أردت استخدام مصدر طاقة فإنك سوف تعتمد على

(الشمس - الحديد - الفوسفات - النحاس)

٦ الطائر الموجود وسط علم مصر

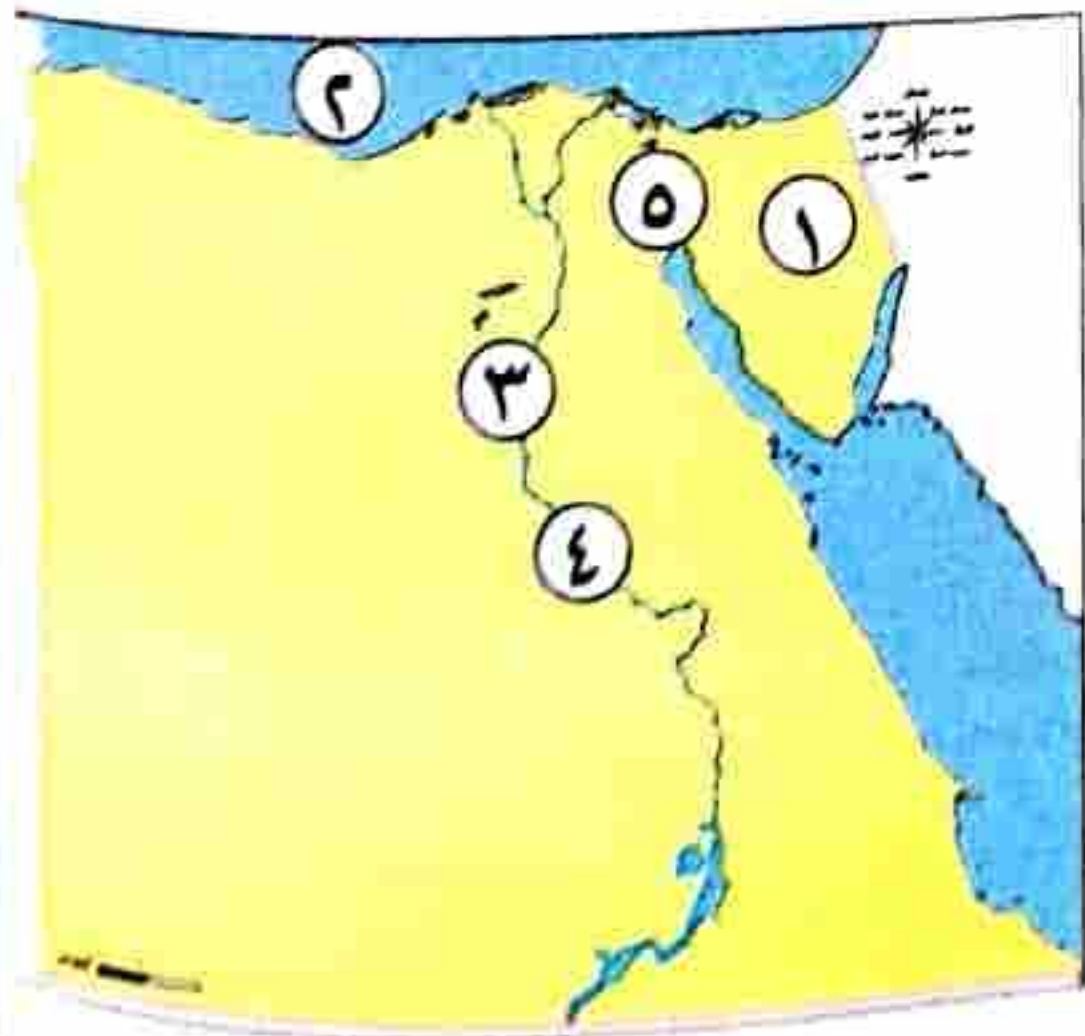
(الصقر - الحمامة - الطاووس - النسر)

(ب) بم تفسر: أهمية موقع مصر الجغرافى؟

غير مجاب عنه

١٦ محافظة بورسعيد (إدارة شمال التعليمية)

السؤال الأول (١) لاحظ الخريطة المقابلة واكتب مدلول الأرقام عليها:



١ يشير رقم (١) إلى شبه جزيرة

٢ يشير رقم (٢) إلى البحر

٣ يشير رقم (٣) إلى البيئة

٤ يشير رقم (٤) إلى مصدر المياه العذبة فى مصر

٥ يشير رقم (٥) إلى قناة

(ب) اكتب سبباً واحداً لكل من:

١ أهمية الخريطة للفلاح .

٢ أهمية الحرف التراثية فى دعم الاقتصاد .

السؤال الثاني

(أ) اكتب كلمة (صواب) أمام العبارة الصحيحة، وكلمة (خطأ) أمام العبارة غير الصحيحة:

١ يعبر شعار محافظة القاهرة عن نشاط سكانها.

٢ لشراء منتجات الخيامية فإنك تذهب إلى منطقة الأزهر بالقاهرة.

٣ عند شرائك بعض المنتجات من السوق فأنت بذلك تشتري سلعة.

٤ التحاق الطفل بالمدرسة دليل على تمتعه بحقه في التعليم.

٥ تستخدم الأقمار الصناعية في التقاط الصور الجوية.

٦ تشجع الدولة استخدام السيارات الخاصة لتقليل تلوث الهواء.

(ب) اكتب اثنين من الأماكن التي ترى علم مصر يرفرف بها.

السؤال الثالث

(أ) تخير الإجابة الصحيحة من بين القوسين:

١ «مدينة شرم الشيخ أجمل المدن المصرية»، تعبر هذه العبارة عن (رأى - خيال - واقع - حقيقة)

٢ إذا أردت الذهاب إلى عاصمة مصر فعليك التوجه إلى محافظة

(الجيزة - الإسكندرية - القاهرة - أسوان)

٣ إنشاء الحدائق والمتنزهات يعد من الخدمات (الأمنية - الصحية - الثقافية - الترفيهية)

٤ المورد الطبيعي الذي يتعرض للنفاذ نتيجة الإسراف في استخدامه

(الشمس - المياه - البترول - الهواء)

٥ من الحرف المدرجة على قائمة التراث العالمي لليونسكو صناعة

(ورق البردي - الفخار - السجاد اليدوي - الزجاج)

٦ تحتفل القاهرة بعيدها القومي في ذكرى

(بناء مدينة القاهرة - بناء الجامع الأزهر - حفر قناة السويس - جلاء الإنجليز)

(ب) ماذا تقول لزميلك الذي يترك صنبور المياه مفتوحًا؟

السؤال الرابع (أ) حدد أوجه التشابه والاختلاف بين الجزيرة وشبه الجزيرة في الجدول التالي مستخدمًا الكلمات بين القوسين:

(شدوان - سيناء - اليابس - ثلاث جهات - أربع جهات)

الجزيرة	شبه الجزيرة	أوجه المقارنة
	مساحة من	أوجه الشبه
تحيط بها المياه من	تحيط بها المياه من	أوجه الاختلاف
جزيرة	شبه جزيرة	مثال

(ب) أجب عن الأسئلة الآتية:

١ اكتب تشابهاً واحداً بين المصدر الأول والثانوي.

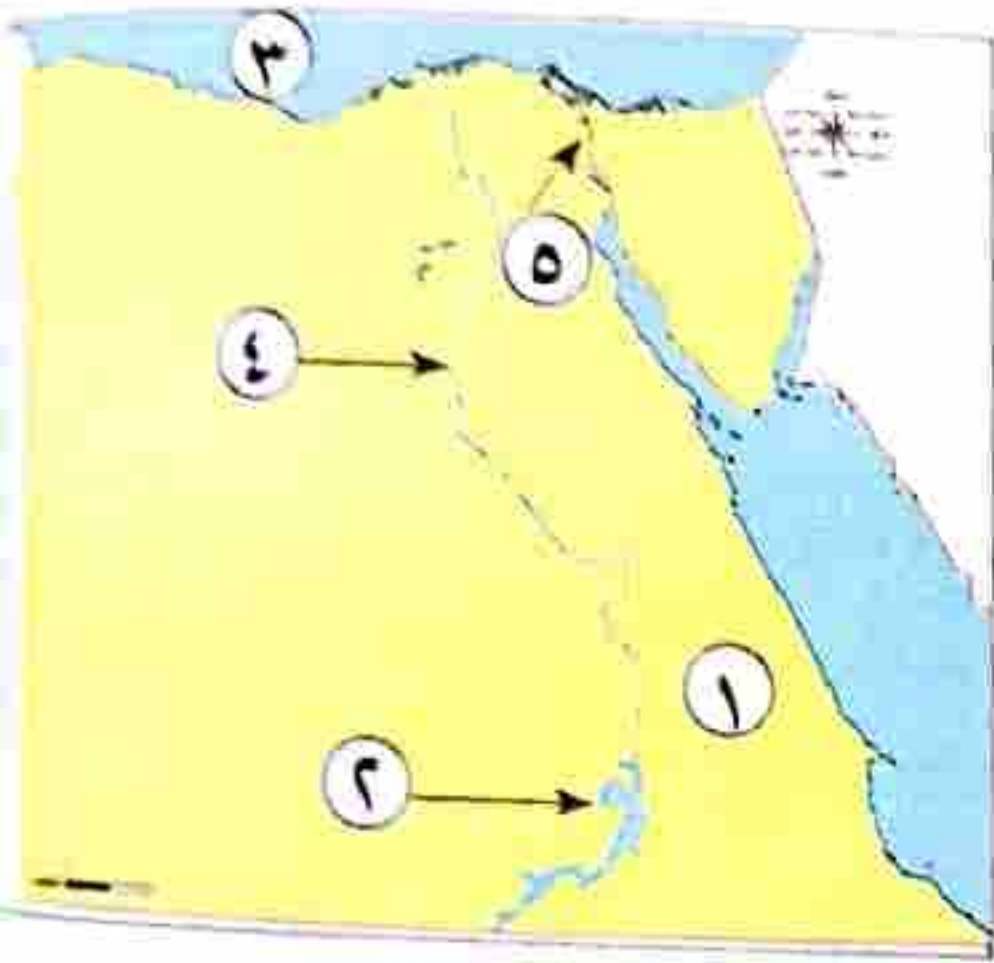
٢ اكتب سبباً واحداً لضرورة استخدام المصاييح الموفرة للطاقة.

٣ اكتب تفسيراً واحداً لوجود النسر في وسط علم مصر.

غير مجاب عنه

١٧ محافظة السويس (إدارة شمال السويس التعليمية)

(السؤال الأول) (١) انظر إلى الخريطة التي أمامك، ثم أجب:



- ١ الصحراء
- ٢ بحيرة
- ٣ البحر
- ٤ وادي
- ٥ قناة

(ب) حدد سبباً واحداً لإنشاء الدولة للعاصمة الإدارية الجديدة.

(السؤال الثاني) (١) أكمل العبارات التالية بكلمات مناسبة:

- ١ يطلق على خطوط الطول ودوائر العرض اسم
- ٢ هو وصف حالة الجو في فترة زمنية قصيرة.
- ٣ حرق قش الأرز يؤدي إلى تلوث

(ب) اذكر المصطلح الذي تشير إليه العبارة التالية:

- صناعات تعتمد على الأيدي العاملة وقد عرفت مصر منذ القدم.

(السؤال الثالث) (١) ضع علامة (✓) أمام العبارة الصحيحة، وعلامة (X) أمام العبارة غير الصحيحة:

- ١ تعد الكتب والمؤلفات من المصادر الأولية.
- ٢ سيناء شبه جزيرة يحيط بها الماء من ثلاث جهات.

- بحيرة السد العالي من البحيرات الطبيعية في العالم.
- بعد معرض تراثنا دليلاً على اهتمام الدولة بإحياء الحرف التراثية.
- تعد حملة ١٠٠ مليون صحة من الخدمات الثقافية التي تقدمها الدولة.
- (ب) حدد المختلف في عناصر المجموعة:
- (وردة البوصلة - عنوان الخريطة - مقياس الرسم - الصور الجوية)

السؤال الرابع (١) تخير الإجابة الصحيحة مما بين القوسين:

- ١ تقع مصرفى الركن الشمالى الشرقى من قارة
- ٢ من الموارد الطبيعية غير المتجددة
- ٣ تشتهر قرية الحرائية بصناعة
- (إفريقيا - أوروبا - أستراليا - آسيا)
- (الهواء - الماء - الفحم - الشمس)
- (الزجاج - الفخار - السجاد اليدوى - الجلود)

(ب) أكمل الجدول التالى لتحديد أيها من قارات العالم القديم أو الجديد مستخدماً الكلمات التالية:

(أمريكا الشمالية - إفريقيا - آسيا - أستراليا)

من قارات العالم الجديد

من قارات العالم القديم

.....
.....

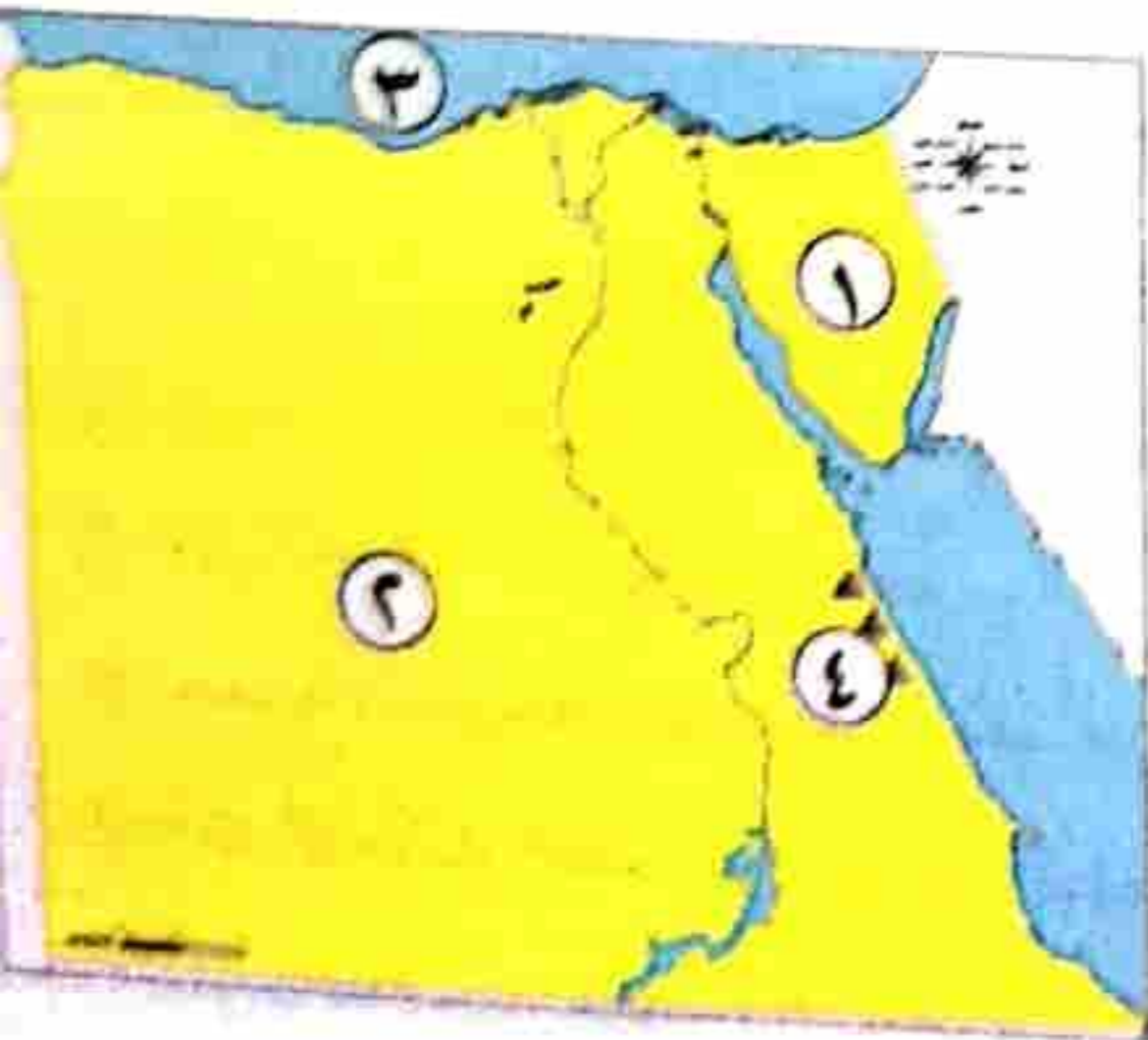
.....
.....

مجاب عنه

محافظة المنيا (ادارة المنيا التعليمية)

١٨

السؤال الاول (١) اكتب ما تدل عليه الأرقام على الخريطة:



- ١ شبه جزيرة
- ٢ الصحراء
- ٣ البحر
- ٤ جبال

(ب) اكتب ما تشير إليه العبارتان:

- ١ رسم توضيحي لسطح الأرض أو جزء منه باستخدام الرموز والألوان.
- ٢ أرض شديدة الارتفاع ولها قمة وجوانبها شديدة الانحدار.

(.....)
(.....)

السؤال الثاني (١) اكتب كلمة (صح) أمام العبارة الصحيحة ، وكلمة (خطأ) أمام العبارة غير الصحيحة:

١ المصادر الأولية أكثر دقة من المصادر الثانوية .

٢ تعتبر قارة أستراليا من قارات العالم القديم .

٣ تتكون مصر من ٢٧ محافظة .

٤ يدل اللون الأحمر في علم مصر على السلام .

(ب) لمن ينسب العملان الآتيان ؟...

١ ألف كتاب «شخصية مصر» . (.....)

٢ أسس بنك مصر عام ١٩٢٠م . (.....)

السؤال الثالث (١) اختر الإجابة الصحيحة مما بين القوسين:

١ أحد مظاهر الاحتفال بالعيد القومي للمحافظة هو

(تزيين الشوارع - إقامة صلاة العيد - غلق الأسواق - ذبح الأضحية)

٢ تقاس درجة الحرارة ب.....

(الترمومتر - الأنيمومتر - البارومتر - جوب الوياح)

٣ تعد بحيرة من أكبر البحيرات الصناعية في العالم .

(البردويل - المنزلة - البرلس - لاص)

٤ تنتشر في الصحارى المصرية العديد من مصادر الطاقة مثل

(الحديد - البترول - الفوسفات - النحاس)

(ب) بم تفسر...؟

١ تلوث الهواء .

٢ استخدام أساليب الري الحديثة .

السؤال الرابع (١) أكمل العبارات الآتية بما يناسبها من الكلمات التالية:

(السجاد البدوي - السلع - التعليم - الأمنية - البنك)

١ هي كل ما يتم إنتاجه ونقوم بشرائه .

٢ من الحرف الترانزية في مصر

٣ حماية الشرطة للمؤسسات تعد من الخدمات

٤ أكد الدستور المصري على حق الطفل في

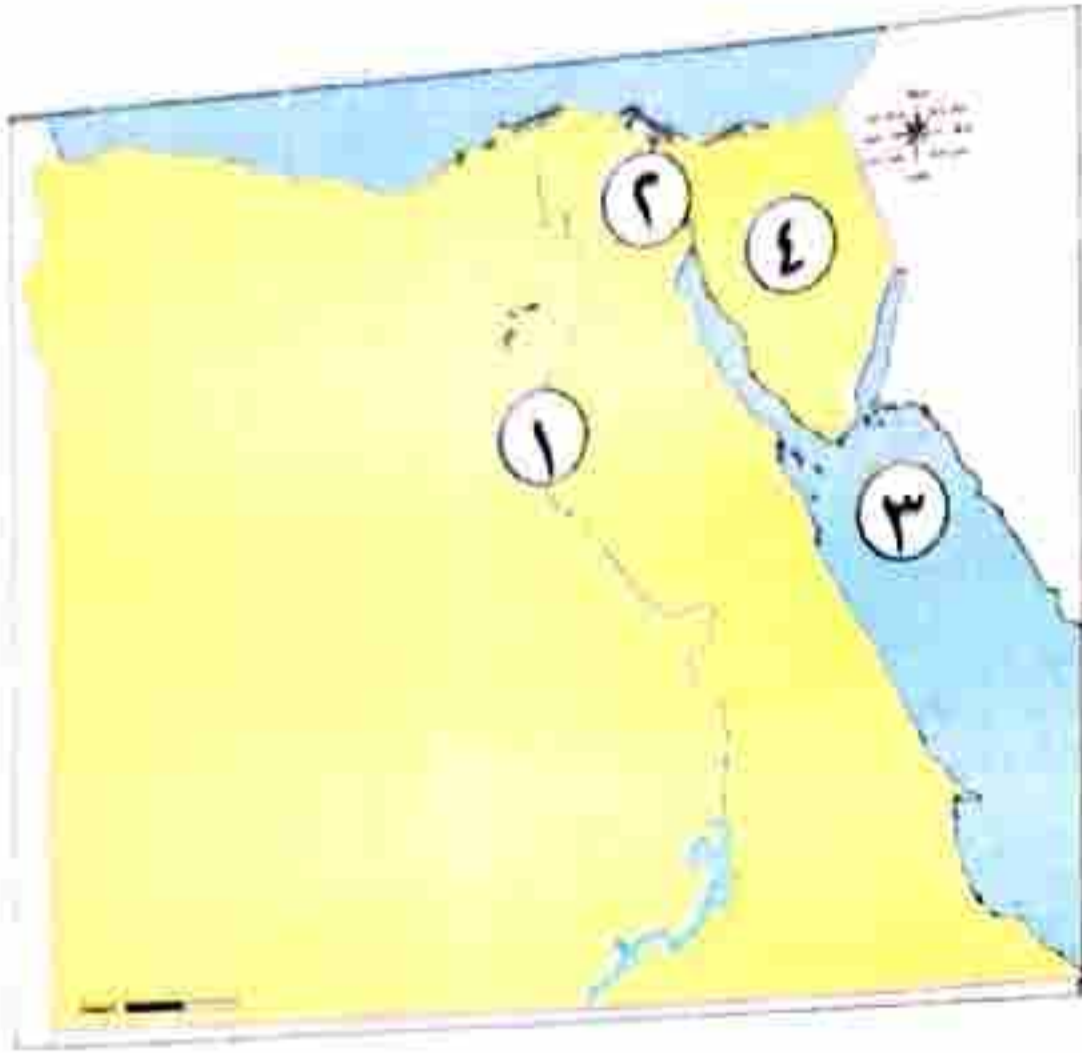
(ب) صوب ما تحته خط:

١ يقوم بنك مصر بإصدار النقود

٢ الطقس هو حالة الجو في فترة زمنية طويلة .

(١) أمامك خريطة صماء لمصر، لاحظها جيدًا، ثم أجب:

سؤال الأول



- نهر
 - قناة
 - البحر
 - شبه جزيرة
- اكتب تفسيرًا واحدًا لـ:

تأسيس بنك مصر عام ١٩٢٠م.

إقامة الدولة حملة «١٠٠ مليون صحة».

سؤال الثاني (١) اكتب كلمة (صواب) أمام العبارة الصحيحة، وكلمة (خطأ) أمام العبارة غير الصحيحة:

- () ساعد نهر النيل قديمًا على زيادة التجارة بين مصر ودول وسط إفريقيا.
- () موقع الماء في الجزيرة هو نفسه موقع الماء في البحيرة.
- () الكتب والموسوعات والمقالات من المصادر الأولية.
- () يرتبط العيد القومي لمحافظة المنيا بذكرى تاريخية.

ما النتائج المترتبة على ...؟

وجود المياه الجوفية في الصحراء الغربية*.

سوء استخدام الموارد الطبيعية.

سؤال الثالث (١) اختر الإجابة الصحيحة مما بين القوسين:

(خدمة - سلعة - نشاط - مبادرة)

(الأبيض - الأحمر - الأسود - الأخضر)

الأرز الذي تشتريه عبارة عن

اللون الذي يدل على نضال الشعب المصري هو

أراد قبطان السفينة معرفة السرعة التي يتحرك بها الهواء؛ لذا فعلية استخدام

(البارومتر - دوارة الرياح - جورب الرياح - الأنيمومتر)



٤ من الحرف المدرجة على قائمة التراث العالمى لليونسكو صناعة

(ورق البردى - الفخار - السجاد اليدوى - الزجاج)

(ب) اكتب ما تشير إليه العبارات التالية:

١ كل ما يتم إنتاجه، ونقوم بشرائه مثل المنتجات الغذائية.

٢ أرض مرتفعة قليلاً ولها قمة يقل ارتفاعها عن ١٠٠٠ متر.

السؤال الرابع (١) أكمل العبارات بما يناسبها من الكلمات التالية:

(ناصر - دمياط - القاهرة - الأقمار الصناعية - الطائرات)

١ تلتقط الصور الجوية بواسطة

٢ تعتبر محافظة هي عاصمة مصر.

٣ أصغر محافظات مصر من حيث المساحة محافظة

٤ من أكبر البحيرات الصناعية فى العالم بحيرة

(ب) صوب ما تحته خط:

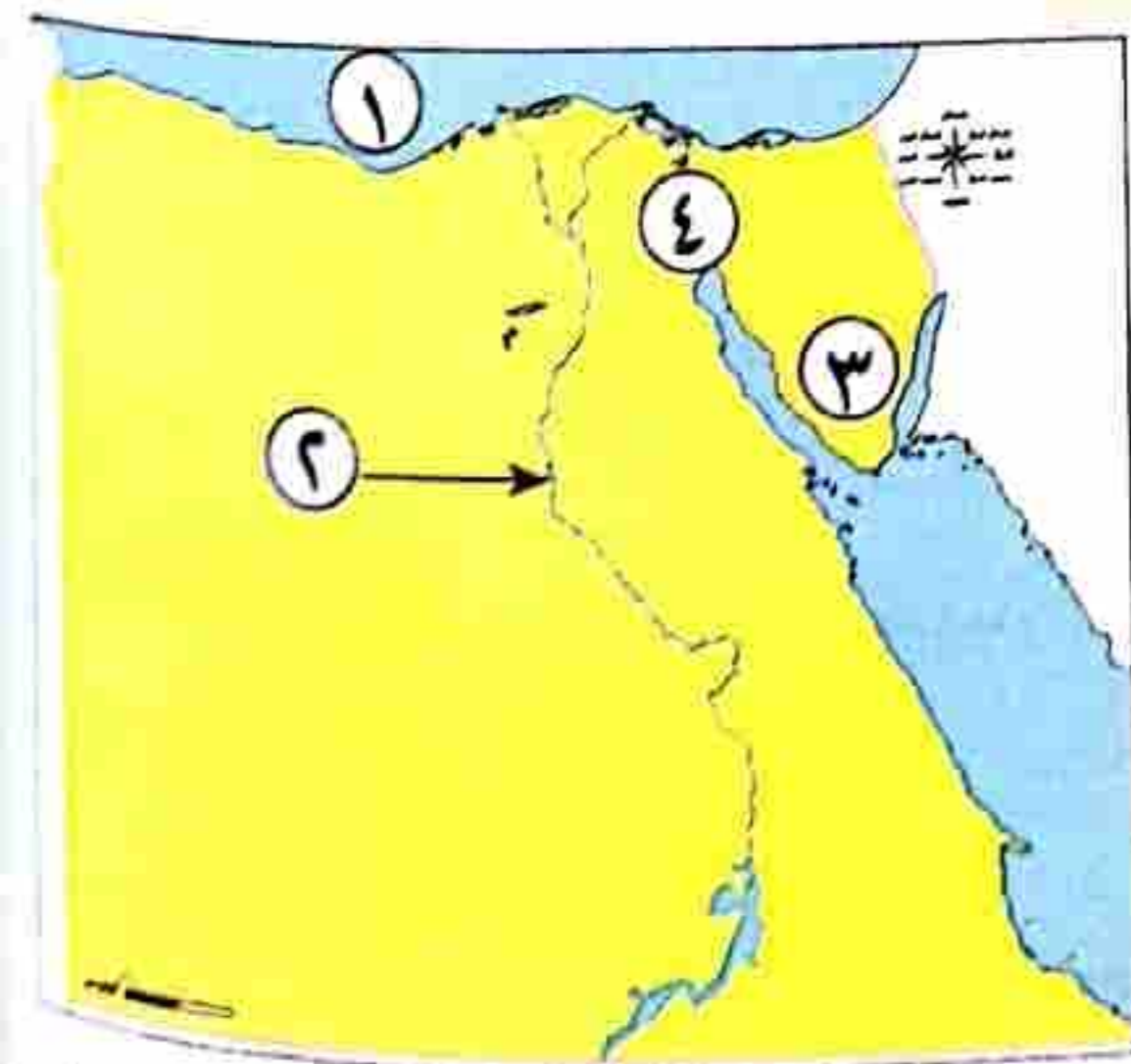
١ تقع معظم الأراضى المصرية فى الإقليم الاستوائى.

٢ الصور الفضائية تلتقط بالطائرات *.

مجاب عنه

٢٠ محافظة أسيوط (إدارة أسيوط التعليمية)

السؤال الأول (١) أمامك خريطة لمصر، اكتب مدلول الأرقام التى عليها:



١ البحر

٢ نهر

٣ شبه جزيرة

٤ قناة

(ب) اكتب تفسيراً واحداً لأهمية الخريطة للفلاح.

السؤال الثانى (١) اكتب كلمة (صح) أمام العبارة الصحيحة، وكلمة (خطأ) أمام العبارة غير الصحيحة:

١ الحقائق هى معلومات تم إثبات صحتها والتأكد منها.

٢ المحيط الهادى يمثل مساحة واسعة من الماء المالح قليلة العمق.

محافظة الوادى الجديد أكبر محافظات مصر من حيث المساحة.
يؤدي انتشار الحرف اليدوية إلى توفير فرص العمل.
اكتب تفسيراً واحداً لوجود اللون الأحمر فى علم مصر.

()
()

(1) اختر الإجابة الصحيحة مما بين القوسين:

بعد بناء المستشفيات وتوفير الأدوية للمواطنين من الخدمات

(التعليمية - الصحية - الثقافية - الرقمية)

يمكننا تحديد اتجاه الرياح باستخدام (الترمومتر - مقياس المطر - طواحين الهواء - جوب الرياح)

ينتسب حرق قش الأرز فى تلوث (التربة - المياه - الهواء - الفضاء)

من أكبر البحيرات الصناعية فى مصر والعالم بحيرة (قارون - ناصر - إدكو - المنزلة)

دلل على: اهتمام الدولة بأحقية الطفل فى التعليم* .

(1) اكتب المصطلح الجغرافى للعبارات التالية:

(.....) فى مساحة واسعة من المياه المالحة ذات أعماق كبيرة.

(.....) الصور التى يتم التقاطها باستخدام الأقمار الصناعية.

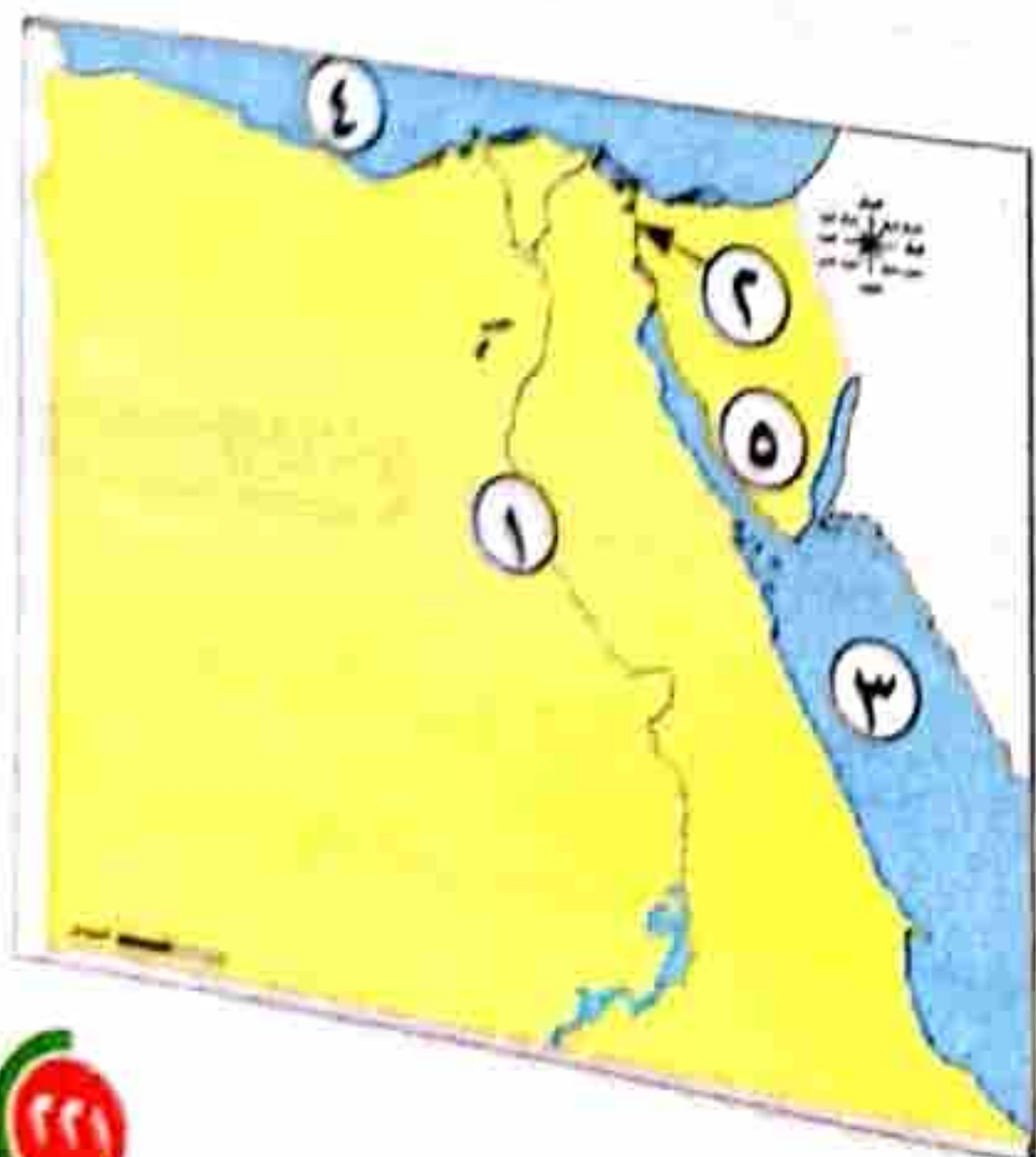
(.....) وصف حالة الجو من حيث الرياح والأمطار ودرجة الحرارة لفترة زمنية طويلة.

(.....) أرض شديدة الارتفاع ولها قمة وجوانبها شديدة الانحدار.

سر: تعد مدينة الرويكي مدينة صديقة للبيئة* .

مجاب عنه

محافظة قنا (إدارة نجع حمادى التعليمية)



(1) لاحظ الخريطة، ثم أجب:

.....
.....
.....
.....
.....
.....
.....

(ب) بم تفسر...؟

١ وجود الزراعة فى الصحراء الغربية.

٢ وجود النسرفى علم مصر.

السؤال الثانى (١) اختر الإجابة الصحيحة مما بين القوسين:

- ١ من الخدمات التعليمية بناء (المستشفيات - المدارس - النوادى - السينما)
- ٢ اللون الذى يدل على السلام فى علم مصر هو (الأبيض - الأحمر - الأسود - الذهبى)
- ٣ التحاق الطفل بالمدرسة من حقوقه فى (الصحة - الأمن - التعليم - المسكن)
- ٤ تقع مصر فى الركن الشمالى الشرقى لقارة (آسيا - أوربا - إفريقيا - أستراليا)
- ٥ يتسبب حرق قش الأرز فى تلوث (التربة - الماء - الغذاء - الهواء)

(ب) ما المقصود بالحياة المستدامة؟

السؤال الثالث (١) اكتب كلمة (صواب) أمام العبارات الصحيحة، وكلمة (خطأ) أمام العبارات غير الصحيحة:

- ١ يدل اللون الأحمر فى علم مصر على الظلم. ()
- ٢ المناخ حالة الجو لفترة طويلة. ()
- ٣ يعبر شعار المحافظة عن نشاط سكانها. ()
- ٤ من الخدمات الترفيهية إنشاء الحدائق. ()
- ٥ يستخدم مقياس الرسم فى تحديد المسافات. ()

(ب) حدد سبباً واحداً لأهمية رسم وردة البوصلة على الخريطة.

السؤال الرابع (١) اكتب المفهوم الجغرافى الدال على:

- ١ أرض شديدة الارتفاع ولها قمة. ()
- ٢ الأشياء التى يجب أن تحصل عليها لتعيش آمناً. ()
- ٣ كل ما يتم إنتاجه ونقوم بشرائه. ()

(.....)

(.....)

٤ موارد لا تنفذ رغم استخدامنا المستمر لها.

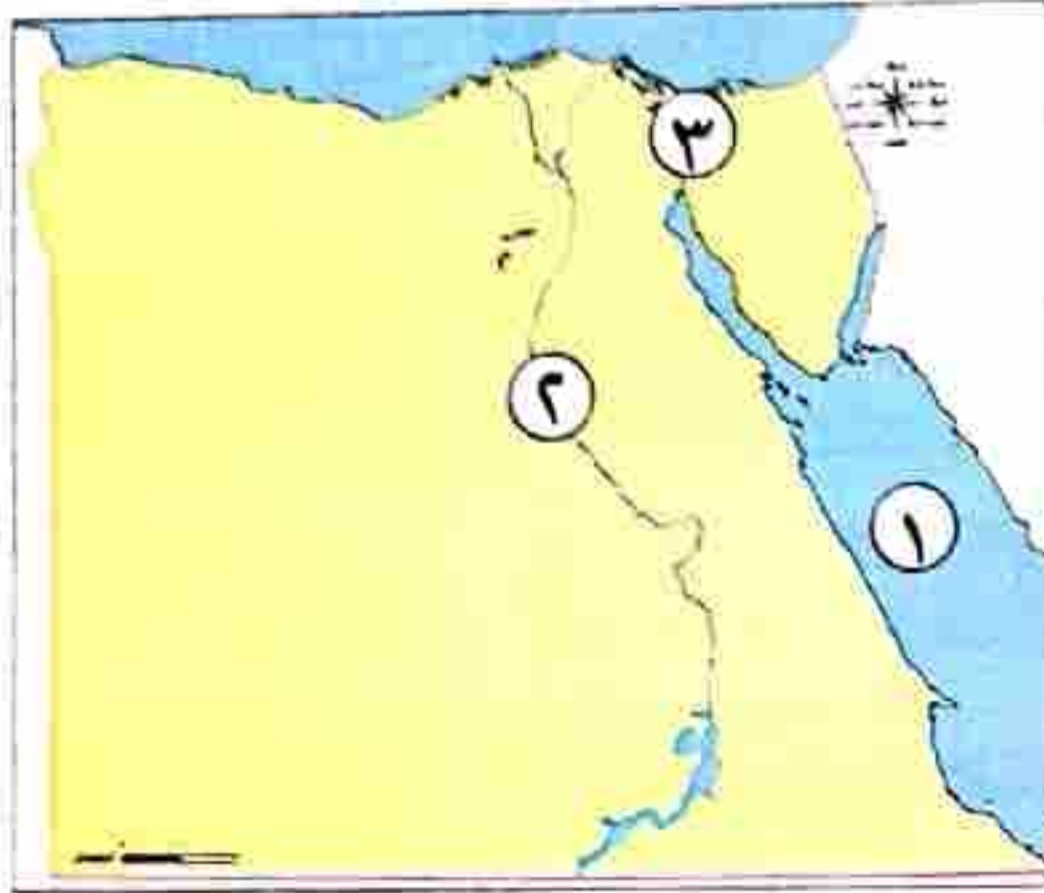
٥ موارد خلقها الله لتساعدنا على الحياة.

(ب) فسر: قيام الزراعة فى الصحراء الغربية *

غير مجاب عنه

٢٢ محافظة سوهاج (إدارة طهطا التعليمية)

السؤال الأول (١) لاحظ الخريطة التالية، وأجب عن الأسئلة:



١ يشير الرقم (١) إلى البحر.....

٢ يشير الرقم (٢) إلى نهر.....

٣ يشير الرقم (٣) إلى قناة.....

(ب) اكتب تفسيراً واحداً لأهمية الخريطة للفلاح.

.....
.....

السؤال الثانى (١) اختر الإجابة الصحيحة مما بين الأقواس:

(البيئية - التعليمية - الصحية - الفنية)

١ تطعيم أطفال المدارس يعد من الخدمات

(الاستوائى - الصحراوى - المدارى - القطبى)

٢ يسود معظم الأراضى المصرية المناخ

(الفخار - الأجهزة الكهربائية - السيارات - الدواء)

٣ من الحرف التراثية فى مصر صناعة

(ب) أكمل الجدول الآتى: (علم مصر)

يدل على	اللون
	الأبيض
	الأحمر

السؤال الثالث (١) اكتب كلمة (صح) أمام العبارة الصحيحة، وكلمة (خطأ) أمام العبارة غير الصحيحة:

()

١ يحتوى الدستور المصرى على مواد تؤكد حقوق الطفل.

()

٢ أسس طلعت حرب باشا بنك مصر ١٩٢٠م.

()

٣ توليد الكهرباء من الرياح يؤدى إلى تلوث الهواء.

(ب) اذكر سببًا واحدًا لقيام الزراعة في بعض المناطق الصحراوية.

السؤال الرابع (١) صنف الموارد الآتية إلى موارد متجددة وغير متجددة:

(البتروول - الرياح - الشمس - الفحم)

موارد غير متجددة

موارد متجددة

(ب) وضح: أى من العبارتين الآتيتين (حقيقى) وأيهما (رأى)؟

(.....)

١ جبل سانت كاترين أعلى قمة جبلية فى مصر.

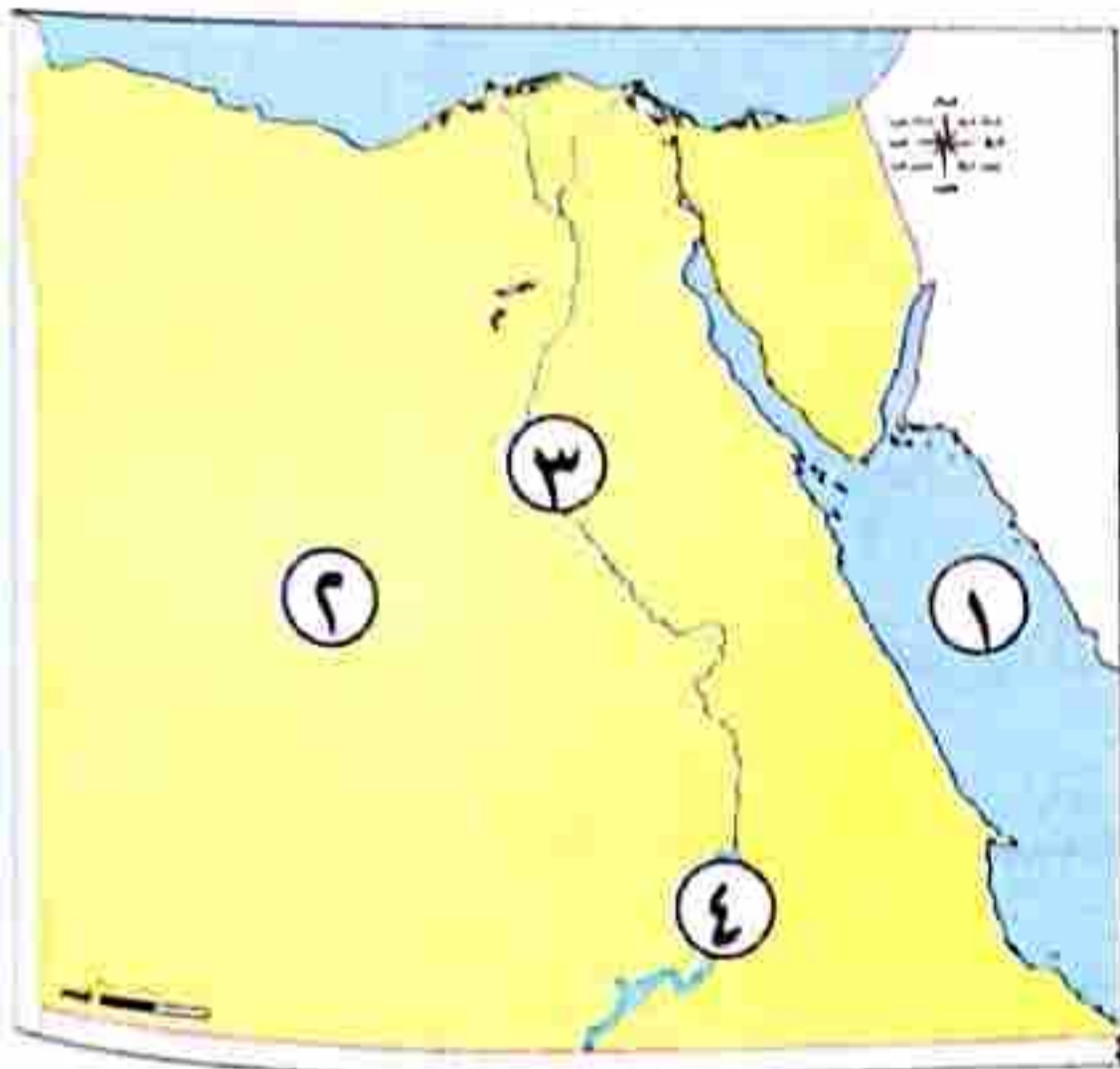
(.....)

٢ هذه صورة رائعة للريف المصرى.

مجاب عنه

٢٣ محافظة الأقصر (مديرية التربية والتعليم)

السؤال الأول (١) اكتب ما تدل عليه الأرقام على الخريطة:



١ البحر.....

٢ الصحراء.....

٣ نهر.....

٤ بحيرة.....

(ب) اكتب ما تدل عليه العبارات الآتية:

(.....)

١ مساحة واسعة من المياه المالحة ذات أعماق كبيرة.

(.....)

٢ أرض شديدة الارتفاع ولها قمة وجوانبها شديدة الانحدار.

(.....)

٣ هى الأشياء التى يجب أن نحصل عليها لنعيش.

السؤال الثالث (١) ضع علامة (✓) أمام العبارة الصحيحة، وعلامة (X) أمام العبارة غير الصحيحة:

()

١ تستخدم الأقمار الصناعية فى التقاط الصور الجوية.

()

٢ لوحة الملك نارمر أحد المصادر الثانوية.

()

٣ محافظة الإسكندرية تقع على البحر الأحمر.

()

٤ ملحن النشيد الوطنى (بلادى بلادى) هو طه حسين.

()

٥ تعد بحيرة ناصر أصغر بحيرة صناعية فى العالم.

(ب) صوب ما تحته خط:

- ١ قامت الزراعة في الصحراء الغربية بسبب وفرة مصادر الطاقة* .
- ٢ أرض تحيط بها المياه من ثلاث جهات تسمى الجزيرة.

(السؤال الثالث) (١) تخير الإجابة الصحيحة مما بين القوسين فيما يلي:

- ١ تقع مصرفى الركن الشمالى الشرقى لقارة (إفريقيا - أستراليا - أوروبا - آسيا)
- ٢ الكثبان الرملية تنتشر فى البيئة (الزراعية - الصناعية - الصحراوية - الساحلية)
- ٣ الرمال السوداء تدخل فى صناعة* (الحلى - الخزف - الزجاج - الصلب)
- ٤ يتسبب حرق قش الأرز فى تلوث (التربة - المياه - الهواء - الفضاء)
- ٥ قرية الحرائية تعد مقصدًا لكثير من السياح، لتمييزها بصناعة (النسيج - الفخار - الزجاج - الخيامية)
- ٦ التطعيم الذى يحصل عليه أطفال المدارس يعد من الخدمات (البيئية - الصحية - الأمنية - التعليمية)

(ب) اكتب تفسيرًا واحدًا لـ:

- ١ وجود النسرفى وسط علم مصر.
- ٢ أهمية الخريطة للفلاح.

(السؤال الرابع) (١) صنف العناصر الآتية على حسب الحاجات والرغبات:

(الخبز- الذهاب إلى الملاهى - الملابس - التليفزيون - المسكن المناسب - زيارة المتاحف)

الرغبات	الحاجات
.....
.....
.....

(ب) أكمل العبارتين الآتيتين بما يناسبهما:

- ١ الأمطار تسقط على مصرفى فصل
- ٢ عاصمة مصرهى محافظة



الإجابات النموذجية

السؤال الثاني:

(١) - (X) ٢ - (X) ٣ - (✓)

(ب) يستخدم الجيش الخريطة في تحديد المواقع الحربية.

السؤال الثالث: ١- مفتاح الخريطة

٢- شبكة خطوط الطول ودوائر العرض

٤- وردة البوصلة

٣- مقياس الرسم

٥- عنوان الخريطة

الدرس الثاني: المصادر الأولية والمصادر الثانوية

سؤال

- الحقيقة هي معلومات تم إثبات صحتها والتأكد من دقتها، أما الرأي فهو شعور أو فكر شخص تجاه موضوع معين.

إجابة تدريب (الدرس الثاني: المصادر الأولية والمصادر الثانوية)



السؤال الأول: ١- (X) ٢- (X) ٣- (✓)
٤- (✓) ٥- (✓) ٦- (✓)
٧- (✓) ٨- (✓)

السؤال الثاني: ١- قناة سيزوستريس

٢- قناة السويس

٣- رأى

٤- النقوش

السؤال الثالث:

١- النقوش ٢- الثانوية ٣- البريدات ٤- حقائق
٥- وثائق رسمية عن القناة ٦- رأى

السؤال الرابع: ١- أولياً

٢- الثانوية

٣- أولى

٤- رأى

٥- حقيقة

السؤال الخامس: ١- حقيقة

٢- رأى

٣- حقيقة

السؤال السادس:

١- الحقائق تتسم بالدقة والموضوعية، أما الرأي فهو شعور أو فكر شخص تجاه موضوع معين.
٢- مصادر لتوثيق المعلومات والأحداث. • معاصرة للأحداث.
٣- مصادر لتوثيق المعلومات والأحداث. • يسهل الحصول عليها.

السؤال السابع:

١- المصادر الأولية معاصرة للأحداث، أما المصادر الثانوية فسهلة الحصول عليها ومتوفرة.
٢- توجد مصادر أولية تتمثل في:

- المخاطبات.
- النقوش على القطع الأثرية أو المعابد والبرديات.
- كتابات المؤرخين.
- الصور والأفلام التسجيلية والمقالات التي عاصرت الحدث.
- ٣- سوف تنتشر الشائعات، وسوف تحصل على معلومات غير صحيحة.

إجابة أسئلة امتحانات الإدارات



السؤال الأول: ١- حقيقة

٢- حقائق

٣- رأى

٤- الكتب

٥- رأى

٦- الأولية

السؤال الثاني: ١- (صواب)

٢- (صواب)

٣- (صواب)

٤- (صواب)

٥- (خطأ)

٦- (صواب)

٧- (صواب)

٨- (صواب)

السؤال الثالث: ١- حقيقة

٢- رأى

المحور الأول: البيئة الطبيعية

الوحدة الأولى: بلدنا ورموزه الوطنية

الدرس الأول: أدوات تحديد المواقع

سؤال

١- الطائرات ٢- الأقمار الصناعية

إجابة تدريب (الدرس الأول: أدوات تحديد المواقع)



السؤال الأول: ١- الخريطة

٢- مفتاح الخريطة

٣- عنوان الخريطة

٤- مقياس الرسم

السؤال الثاني: ١- (✓)

٢- (X)

٣- (✓)

٤- (X)

٥- (✓)

٦- (✓)

٧- (X)

٨- (X)

٩- (X)

السؤال الثالث: ١- وردة البوصلة

٢- الأقمار الصناعية

٣- الفلاح

٤- الجنوب الشرق

٥- مقياس الرسم

السؤال الرابع: ١- عنوان الخريطة - (ج)

٢- وردة البوصلة - (١)

٣- مقياس الرسم - (د) ٤- مفتاح الخريطة - (ب)

السؤال الخامس: ١- الخريطة

٢- صورة جوية

٣- صورة فضائية

٤- عنوان الخريطة

٥- مقياس الرسم

٦- وردة البوصلة

٧- مفتاح الخريطة

السؤال السادس: ١- خطوط الطول ودوائر العرض من العناصر الأساسية للخريطة، وتستخدم في تحديد موقع المكان.

٢- الصور الجوية والصور الفضائية من أدوات تحديد المواقع.

السؤال السابع: ١- توضح الاتجاهات الأصلية والفرعية وتساعد في تحديد موقع معين على الخريطة.

٢- تحديد المواقع الحربية.

إجابة أسئلة امتحانات الإدارات



السؤال الأول: ١- مفتاح الخريطة

٢- شبكة خطوط الطول ودوائر العرض

٣- مقياس الرسم

السؤال الثاني: ١- مقياس رسم الخريطة

٢- مفتاح الخريطة

٣- مقياس الرسم

٤- وردة البوصلة

السؤال الثالث: ١- (صواب)

٢- (خطأ)

٣- (صواب)

٤- (صواب)

٥- (صواب)

السؤال الرابع: ١- الشرق

٢- الخريطة

السؤال الخامس: مفتاح الخريطة

السؤال السادس: ١- توضح الاتجاهات الأصلية والفرعية.

٢- تساعده في تحديد ملكية الأرض الزراعية.

٣- تساعد على التعرف على الأماكن المختلفة وتحديد مواقعها.

السؤال السابع: - الصورة الجوية تلتقط من الجو بواسطة الطائرات، أما الصور الفضائية فتلتقط بواسطة الأقمار الصناعية.

إجابة اختبار نفسك (أدوات تحديد المواقع)



السؤال الأول: ١- المفتاح

٢- الصور الفضائية

٣- الطائرات

٤- الصور الجوية

٥- شبكة خطوط الطول ودوائر العرض

السؤال الرابع: ١- الأولية
السؤال الخامس: الثانوية

٢- الأولية

السؤال السادس: ١- الحقيقة تكون أكثر دقة وموضوعية، أما الرأي فيكون ناتجًا عن تفكير شخص تجاه موضوع معين.
٢- المصدر الأول مرتبط بزمن وقوع الحدث، أما المصدر الثانوي فيتم تدوينه بعد زمن طويل من وقوع الحدث.

اختبر نفسك (المصادر الأولية والمصادر الثانوية)

السؤال الأول: ١- أوليًا
٢- الوثائق
٣- الموسوعات
٤- مدينة أسوان مدينة جميلة
٥- حقائق

السؤال الثاني: ١- حقيقة
٢- مصادر ثانوية
٣- رأي
٤- مصدر أولي
٥- سيرزوستريس

السؤال الثالث: (١) (X) - ١
(٢) (✓) - ٢
(٣) (✓) - ٣
(ب) وجه الاختلاف: المصادر الأولية تتميز بأنها معاصرة للأحداث، أما المصادر الثانوية فمتوافرة، ويسهل الحصول عليها.

الدرس الثالث: موقع مصر بالنسبة إلى العالم

سؤال

- آسيا وإفريقيا وأوروبا.

سؤال

١- البحر المتوسط - البحر الأحمر
٢- إفريقيا

إجابة تدرّب (الدرس الثالث: موقع مصر بالنسبة إلى العالم)

السؤال الأول: ١- (✓) - ١
٢- (X) - ٢
٣- (X) - ٣
٤- (✓) - ٤
٥- (X) - ٥
٦- (X) - ٦
٧- (X) - ٧
٨- (✓) - ٨

السؤال الثاني: ١- الشمال الشرقي
٢- النيل
٣- تجارية
٤- المتوسط والأحمر
٥- قارة
٦- إفريقيا
٧- السويس
٨- جمال حمدان
٩- محيطًا

السؤال الثالث: ١- النيل
٢- البحر المتوسط

السؤال الرابع: ١- إفريقيا
٢- رأس الرجاء الصالح
٣- البحر المتوسط
٤- مصر

السؤال الخامس: ١- القارات
٢- نهر النيل
٣- قناة السويس
٤- المحيطات
٥- موقع جغرافي
٦- نهر النيل
٧- طريق رأس الرجاء الصالح

السؤال السادس: ١- أستراليا
٢- أمريكا الشمالية

السؤال السابع:

١- استيعاب أكبر السفن حجمًا وحمولة، والسماح بعبور السفن في الاتجاهين.
٢- زادت أهمية موقع مصر بعد حفر قناة السويس - تقليل مدة الإبحار - توفير الوقت والعمال
٣- اكتتب في ضوء ما درسته عن أهمية قناة السويس.

إجابة أسئلة امتحانات الإدارات

السؤال الأول: ١- قناة السويس
٢- قناة السويس
٣- السويس - المتوسط

السؤال الثاني: ١- (خطأ)
٢- (خطأ)
٣- (خطأ)
٤- (خطأ)
٥- (خطأ)
٦- (صواب)
٧- (صواب)

السؤال الثالث: ١- الشمالي الشرقي
٢- قارة
٣- السويس
٤- الجنوب والغرب

السؤال الرابع: القارات

السؤال الخامس: القارة

السؤال السادس: أمريكا

السؤال السابع: ١- لأنه استخدم كطريق للتجارة بين شمال مصر وجنوبها، وبين مصر ودول وسط إفريقيا.
٢- لأنها تطل على البحر المتوسط شمالًا والبحر الأحمر شرقًا.
٣- وفرت الوقت والعمال والجهد وتقليل مدة الإبحار بين آسيا وأوروبا.
٤- استيعاب أكبر السفن حجمًا وحمولة والسماح بعبور السفن في الاتجاهين.
٥- مصر ملتقى قارتين من قارات العالم القديم هما إفريقيا وآسيا وتتوسط مصر قارات العالم القديم (آسيا - إفريقيا - أوروبا)
٦- لما ازدهرت التجارة الدولية في مصر

إجابة اختبر نفسك (موقع مصر بالنسبة إلى العالم)

السؤال الأول:

(١) ١- المحيط
٢- القارة
٣- إفريقيا - آسيا
٤- القديم
(ب) تتوسط مصر قارات العالم القديم (آسيا - إفريقيا - أوروبا)

السؤال الثاني: ١- (صواب)
٢- (خطأ)
٣- (صواب)
٤- (صواب)
٥- (صواب)

السؤال الثالث:

(١) ١- البحر المتوسط
٢- قناة السويس
٣- نهر النيل
٤- خليج السويس
(ب) اكتتب في ضوء ما درسته عن موقع مصر وأهمية قناة السويس.

الدرس الرابع: محافظات مصر

سؤال

(١) ١- المحافظة
٢- القاهرة
(ب) يوجد بها العديد من المعالم مثل قلعة صلاح الدين - مسجد عمرو بن العاص - الكنيسة المعلقة

إجابة تدرّب (الدرس الرابع: محافظات مصر)

السؤال الأول: ١- المحافظة
٢- إدارية
٣- القاهرة
٤- مطروح / جنوب سيناء / شمال سيناء / محافظة البحر الأحمر / الوادي الجديد
٥- الوجه القبلي

السؤال الثاني: ١- (✓) - ١
٢- (X) - ٢
٣- (X) - ٣
٤- (X) - ٤
٥- (✓) - ٥

السؤال الثالث: ١- القاهرة
٢- القاهرة
٣- خمس
٤- الحدود الصحراوية

السؤال الرابع:

محافظات الوجه البحري	محافظات الوجه القبلي	محافظات الحدود الصحراوية
البحيرة بورسعيد الدقهلية كفر الشيخ	الأقصر قنا	جنوب سيناء البحر الأحمر مطروح

السؤال الخامس:

١- الشرق ٢- الجنوب ٣- الشرقية ٤- الأقصر

السؤال السادس: ١- أسيوط ٢- الإسكندرية

السؤال السابع: ١- مطروح / شمال سيناء ٢- شمال سيناء
٣- قنا ٤- العاصمة الإدارية الجديدة

السؤال الثامن: ١- تحديد مواقع الأماكن وتحديد اتجاهات السير للوصول إليه.
٢- نظراً لاتساع مساحة مصر.

إجابة أسئلة امتحانات الإدارات

السؤال الأول: ١- الدقهلية ٢- الوادى الجديد
٣- القاهرة ٤- مطروح

السؤال الثاني: ١- (خطأ) ٢- (خطأ) ٣- (صواب)
٤- (خطأ) ٥- (صواب)

السؤال الثالث: ١- مطروح ٢- القاهرة
٣- نظام تحديد المواقع ٤- القاهرة
٥- المحافظة ٦- الإدارية

السؤال الرابع: محافظات الوجه البحرى: كفر الشيخ
محافظات الوجه القبلى: قنا - سوهاج

السؤال الخامس: ١- مطروح / الوادى الجديد / شمال سيناء / جنوب سيناء /
محافظة البحر الأحمر
٢- القاهرة ٣- القبلى

السؤال السادس: ١- تخفيف الضغط السكانى عن محافظة القاهرة.
٢- بسبب: موقعها المتميز: فهي نقطة التقاء الوجه البحرى بالوجه القبلى.
٣- أدى ذلك إلى زيادة تكديس الخدمات فى المحافظة.

إجابة اختبر نفسك (محافظات مصر)



السؤال الأول:

(أ) ١- القاهرة ٢- جنوب سيناء ٣- الأحمر ٤- النيل
(ب) اكتب فى ضوء ما درستة عن استخدام نظام تحديد المواقع العالمى.

السؤال الثانى: ١- خمس ٢- بورسعيد
٣- حدود صحراوية ٤- موقعها المتميز
٥- القاهرة

السؤال الثالث: ١- الوجه البحرى ٢- الشمال ٣- القاهرة
٤- الإدارية ٥- القاهرة

الدرس الخامس: رموز بلدى

سؤال

- وسائل النقل الدولية - الوزارات والهيئات.

سؤال

(أ) ١- بناء مدينة القاهرة ٢- محمد يونس القاضى

(ب) راية تتخذها المحافظة رمزاً لها: لتعبر عن نشاط سكانها أو جزء من تاريخها.

إجابة تحدى (الدرس الخامس: رموز بلدى)



السؤال الأول: ١- القاهرة ٢- مستطيل ٣- السلام
٤- الأسود ٥- الشوارع والميادين ٦- الشعار

٧- قوة مصر وعراقة حضارتها
٨- محمد يونس القاضى



السؤال الثانى: ١- (X)

٢- (X)

٣- (X)

٤- (X)

٥- (X)

٦- (X)

٧- (X)

٨- (X)

٩- (X)

١٠- (X)

١١- (X)

١٢- (X)

١٣- (X)

١٤- (X)

١٥- (X)

١٦- (X)

١٧- (X)

١٨- (X)

١٩- (X)

٢٠- (X)

٢١- (X)

٢٢- (X)

٢٣- (X)

٢٤- (X)

٢٥- (X)

٢٦- (X)

٢٧- (X)

٢٨- (X)

٢٩- (X)

٣٠- (X)

٣١- (X)

٣٢- (X)

٣٣- (X)

٣٤- (X)

٣٥- (X)

٣٦- (X)

٣٧- (X)

٣٨- (X)

٣٩- (X)

٤٠- (X)

٤١- (X)

٤٢- (X)

٤٣- (X)

٤٤- (X)

٤٥- (X)

٤٦- (X)

٤٧- (X)

٤٨- (X)

٤٩- (X)

٥٠- (X)

٥١- (X)

٥٢- (X)

٥٣- (X)

٥٤- (X)

٥٥- (X)

٥٦- (X)

٥٧- (X)

٥٨- (X)

٥٩- (X)

٦٠- (X)

٦١- (X)

٦٢- (X)

٦٣- (X)

٦٤- (X)

٦٥- (X)

٦٦- (X)

٦٧- (X)

٦٨- (X)

٦٩- (X)

٧٠- (X)

٧١- (X)

٧٢- (X)

٧٣- (X)

٧٤- (X)

٧٥- (X)

٧٦- (X)

٧٧- (X)

٧٨- (X)

٧٩- (X)

٨٠- (X)

٨١- (X)

٨٢- (X)

٨٣- (X)

٨٤- (X)

٨٥- (X)

٨٦- (X)

٨٧- (X)

٨٨- (X)

٨٩- (X)

٩٠- (X)

٩١- (X)

٩٢- (X)

٩٣- (X)

٩٤- (X)

٩٥- (X)

٩٦- (X)

٩٧- (X)

٩٨- (X)

٩٩- (X)

١٠٠- (X)

١٠١- (X)

١٠٢- (X)

١٠٣- (X)

١٠٤- (X)

١٠٥- (X)

١٠٦- (X)

١٠٧- (X)

١٠٨- (X)

١٠٩- (X)

١١٠- (X)

١١١- (X)

١١٢- (X)

١١٣- (X)

١١٤- (X)

١١٥- (X)

١١٦- (X)

١١٧- (X)

١١٨- (X)

١١٩- (X)

١٢٠- (X)

١٢١- (X)

١٢٢- (X)

١٢٣- (X)

١٢٤- (X)

١٢٥- (X)

١٢٦- (X)

١٢٧- (X)

١٢٨- (X)

١٢٩- (X)

١٣٠- (X)

١٣١- (X)

١٣٢- (X)

١٣٣- (X)

١٣٤- (X)

١٣٥- (X)

١٣٦- (X)

١٣٧- (X)

١٣٨- (X)

١٣٩- (X)

١٤٠- (X)

١٤١- (X)

١٤٢- (X)

١٤٣- (X)

١٤٤- (X)

١٤٥- (X)

١٤٦- (X)

١٤٧- (X)

١٤٨- (X)

١٤٩- (X)

١٥٠- (X)

١٥١- (X)

١٥٢- (X)

١٥٣- (X)

١٥٤- (X)

١٥٥- (X)

١٥٦- (X)

١٥٧- (X)

١٥٨- (X)

١٥٩- (X)

١٦٠- (X)

١٦١- (X)

١٦٢- (X)

١٦٣- (X)

١٦٤- (X)

١٦٥- (X)

١٦٦- (X)

١٦٧- (X)

١٦٨- (X)

١٦٩- (X)

١٧٠- (X)

١٧١- (X)

١٧٢- (X)

١٧٣- (X)

١٧٤- (X)

١٧٥- (X)

١٧٦- (X)

١٧٧- (X)

١٧٨- (X)

١٧٩- (X)

١٨٠- (X)

١٨١- (X)

١٨٢- (X)

١٨٣- (X)

١٨٤- (X)

١٨٥- (X)

١٨٦- (X)

١٨٧- (X)

١٨٨- (X)

١٨٩- (X)

١٩٠- (X)

١٩١- (X)

١٩٢- (X)

١٩٣- (X)

١٩٤- (X)

١٩٥- (X)

١٩٦- (X)

١٩٧- (X)

١٩٨- (X)

١٩٩- (X)

٢٠٠- (X)

٢٠١- (X)

٢٠٢- (X)

٢٠٣- (X)

٢٠٤- (X)

٢٠٥- (X)

٢٠٦- (X)

٢٠٧- (X)

٢٠٨- (X)

٢٠٩- (X)

٢١٠- (X)

٢١١- (X)

٢١٢- (X)

٢١٣- (X)

٢١٤- (X)

٢١٥- (X)

٢١٦- (X)

٢١٧- (X)

٢١٨- (X)

٢١٩- (X)

٢٢٠- (X)

٢٢١- (X)

٢٢٢- (X)

٢٢٣- (X)

٢٢٤- (X)

٢٢٥- (X)

٢٢٦- (X)

٢٢٧- (X)

٢٢٨- (X)

٢٢٩- (X)

٢٣٠- (X)

٢٣١- (X)

٢٣٢- (X)

٢٣٣- (X)

٢٣٤- (X)

٢٣٥- (X)

٢٣٦- (X)

٢٣٧- (X)

٢٣٨- (X)

٢٣٩- (X)

٢٤٠- (X)

٢٤١- (X)

٢٤٢- (X)

٢٤٣- (X)

٢٤٤- (X)

٢٤٥- (X)

٢٤٦- (X)

٢٤٧- (X)

٢٤٨- (X)

٢٤٩- (X)

٢٥٠- (X)

٢٥١- (X)

٢٥٢- (X)

السؤال الثالث: (أ) - (خطأ) ١- (صواب) ٢- (خطأ) ٣- (خطأ)

وجه الشبه: الاثنان عبارة عن راية.
وجه الاختلاف: (أ) هو علم جمهورية مصر العربية كلها.
(ب) هو شعار محافظة القاهرة فقط.

إجابة تلك الأسئلة على الوحدة الأولى

إجابة تدريبات الأضواء

السؤال الثاني:
١- (خطأ) ٢- (صواب) ٣- (خطأ)
٤- (صواب) ٥- (صواب)

السؤال الثالث:

١- مفتاح الخريطة ٢- السلام ٣- حقائق ٤- جمال حمدان

السؤال الرابع:

١- مقياس الرسم ٢- شبكة خطوط الطول ودوائر العرض ٣- البوصلة

السؤال الخامس:

١- الثانوية ٢- جواهر الصقلي ٣- الوجه البحري

السؤال السادس:

١- تقليل مدة الإبحار بين آسيا وأوروبا وتوفير الوقت والعمال والجهد.
٢- بسبب اتساع مساحتها.
٣- لأن مصر يحدها البحر المتوسط شمالاً ويحدها البحر الأحمر شرقاً، لذلك تعد دولة بحرية.
٤- لتخفيف الضغط وتكديس الخدمات عن العاصمة الحالية.

إجابة اختبار الأضواء (١) على الوحدة الأولى

السؤال الأول: ١- وردة البوصلة ٢- شعار ٣- النسر
٤- الأسود ٥- الأولية

السؤال الثاني:

(أ) ١- الشمال الغربي ٢- الشمالية ٣- قناة السويس ٤- الأسود
(ب) - مصادر أولية: الأهرامات - الأقلام التسجيلية.
مصادر ثانوية: الأبحاث - المقالات.

السؤال الثالث:

(أ) ١- وردة البوصلة ٢- مقياس الرسم ٣- الحر المتوسط
٤- القاهرة

(ب) - يستخدمها السياح للوصول إلى الأماكن السياحية والأثرية.

إجابة اختبار الأضواء (٢) على الوحدة الأولى

السؤال الأول: ١- الاستعمار ٢- الوجه القبلي
٣- إفريقيا وآسيا ٤- الأولية ٥- المقالات

السؤال الثاني:

(أ) ١- الخريطة ٢- القارة ٣- تاريخها ٤- القبلي
(ب) ١- البحيرة ٢- البرديات

السؤال الثالث:

(أ) ١- (خطأ) ٢- (خطأ) ٣- (صواب)
(ب) ١- لتخفيف الضغط السكاني عن العاصمة.
٢- لتقليل مدة الإبحار وتوفير الوقت والجهد.

إجابة اختبار الأضواء (٣) على الوحدة الأولى

السؤال الأول:
(أ) ١- وردة البوصلة ٢- القاهرة ٣- النيل
٤- مقياس الرسم
(ب) يساعد هذا النظام في تحديد مواقع الأماكن، مما يساعد في تحديد اتجاهات السير للوصول إليها.

السؤال الثاني:

(أ) ١- (خطأ) ٢- (صواب) ٣- (صواب) ٤- (صواب)
(ب) استخدم كطريق بين شمال مصر وجنوبها وبين مصر ودول وسط إفريقيا



السؤال الأول:
١- مقياس الرسم ٢- الحقيقة ٣- البحر المتوسط
٤- إدارية ٥- المستطيل ٦- الشوارع / الميادين
٧- الخريطة ٨- النيل

السؤال الثاني:

١- (صواب) ٢- (خطأ) ٣- (صواب)
٤- (خطأ) ٥- (صواب) ٦- (صواب)
٧- (صواب) ٨- (خطأ)

السؤال الثالث:

١- الجنوب الشرقي ٢- الكتب ٣- النيل
٤- الشرقية ٥- الأبيض ٦- جواهر الصقلي
٧- مقياس رسم الخريطة

السؤال الرابع:

١- عنوان الخريطة ٢- مفتاح الخريطة
٣- شبكة خطوط الطول ودوائر العرض ٤- صور جوية
٥- صور فضائية ٦- مصادر أولية ٧- الموقع الجغرافي
٨- حدود إدارية ٩- العلم

السؤال الخامس:

١- وردة البوصلة ٢- القاهرة ٣- المتوسط
٤- جنوب سيناء ٥- السويس

السؤال السادس:

١- توضيح الاتجاهات الأصلية والفرعية وتحديد المواقع.
٢- الحقيقة تتميز بالدقة والموضوعية. أما الرأي فهو ناتج عن تفكير أو شعور شخص، ولا يجب التسرع بالأخذ به إلا بعد التأكد من صحته.
٣- استخدم كطريق للتجارة بين شمال مصر وجنوبها، وبين مصر ودول وسط إفريقيا.
٤- لتخفيف الضغط السكاني وتكديس الخدمات في العاصمة الحالية.
٥- ليعبر عن تاريخها وتراثها.
٦- لوجود حدث تاريخي أو ذكرى مرت بها المحافظة.
٧- لأنها تساعد في التعرف على الأماكن وتحديد المواقع.
٨- لأنها معاصرة للأحداث وتستخدم لتوثيق المعلومات والأحداث.
٩- بسبب وجود البحر المتوسط في شمالها والبحر الأحمر في شرقها.

السؤال السابع:

١- لتقليل زمن مرور السفن واستيعاب أكبر السفن حجماً وحموله والسماح بمرور السفن في الاتجاهين.
٢- أصبحت مركزاً ومعبراً للتجارة الدولية بين الشرق والغرب.

السؤال الثامن:

١- من الأدوات المستخدمة في تحديد المواقع.
٢- يستخدمان في تحديد موقع المكان.

إجابة أسئلة امتحانات الإدارات على الوحدة الأولى

السؤال الأول:
١- السويس ٢- الأزهر الشريف ٣- الطائرات ٤- أول

السؤال الثالث:

- (أ) ١- قارة ٢- رأى ٣- القاهرة
(ب) ليرمز إلى قوة مصر وعراقه حضارتها.

إجابة اختبار الأضواء (٤) على الوحدة الأولى



السؤال الأول:

- (أ) ١- القاهرة ٢- جنوب سيناء ٣- المتوسط ٤- الغربية
(ب) تزيين الشوارع والميادين - افتتاح المحافظ العديد من المشاريع التي تفيد أبناء المحافظة.

- السؤال الثاني: ١- الطبيعة ٢- الأولية ٣- إفريقيا
٤- صلاح الدين الأيوبي ٥- الشوارع والميادين

- السؤال الثالث: ١- (صواب) ٢- (خطأ) ٣- (صواب)
٤- (صواب) ٥- (خطأ)

الوحدة الثانية: المظاهر الطبيعية في بلدنا

سؤال

- شبه جزيرة سيناء

سؤال

- ١- الأخضر ٢- البنى

سؤال

- حيث توجد أراض مرتفعة مثل الجبال والتلال والهضاب وأراض منخفضة مثل السهل الفيضي والساحلى وأراض منخفضة عن مستوى سطح البحر مثل المنخفضات.

سؤال

- ١- البحر ٢- الساحلية

سؤال

- ١- شبه جزيرة ٢- شدوان ٣- ناصر ٤- بحيرة

إجابة تدرب (الدرس الأول: جمال أرضنا)



- السؤال الأول: ١- شرق ٢- المرتفعات ٣- أقل
٤- سانت كاترين ٥- شبه الجزيرة ٦- الهضبة

- السؤال الثاني: ١- (X) ٢- (✓) ٣- (✓) ٤- (X)

- السؤال الثالث: ١- الجبل ٢- سهل فيضى ٣- سهل ساحلى

- السؤال الرابع: ١- عذب ٢- الساحلية ٣- القاهرة ٤- أقل

- السؤال الخامس: ١- المياه العذبة ٢- بحيرة ناصر ٣- البنفسجى
٤- شبه جزيرة ٥- البنى ٦- الأزرق

- السؤال السادس: ١- الجنوى الغربى ٢- السويس
٣- بحيرة ناصر ٤- نهر النيل

- السؤال السابع: الجلف الكبير- هضبة / شايب البنات - جبل / القطارة - منخفض / شدوان - جزيرة / البرلس - بحيرة.

السؤال الثامن:

- ١- ساعدت السهول الفيضية على قيام حرفة الزراعة.
٢- يختلف الجبل عن التل بأنه أرض شديدة الارتفاع لها قمة وجوانبها شديدة الانحدار / أما التل فهو أرض مرتفعة قليلاً ولها قمة يقل ارتفاعها عن ١٠٠٠ متر.
٣- يختلف السهل الساحلى عن الفيضى فى أنه مساحة من الأرض مستوية تمتد على طول ساحل البحر، أما السهل الفيضى فإنه مساحة من الأرض مستوية قليلة الارتفاع وتتكون من رواسب الأنهار.

إجابة أسئلة امتحانات الإدارات



- السؤال الأول: ١- المتوسط ٢- الشرقية ٣- السويس
٤- النيل ٥- ناصر ٦- سانت كاترين

- السؤال الثاني: ١- شبه الجزيرة ٢- المرتفعات ٣- البنى
٤- ثلاث جهات ٥- جزيرة

- السؤال الثالث: ١- (خطأ) ٢- (خطأ) ٣- (خطأ)
٤- (خطأ) ٥- (خطأ)

- السؤال الرابع: ١- الجبال ٢- الأخضر ٣- سانت كاترين
٤- الجبل ٥- بحيرة ناصر

السؤال الخامس:

سهول	هضاب	جبال
سانت كاترين - ساحل البحر المتوسط	الجلف الكبير	وادي النيل - ساحل البحر المتوسط

السؤال السادس:

- ١- تتنوع مظاهر السطح فى مصر حيث يوجد:
- نهر النيل وعلى جانبيه السهول الفيضية الخصبة التى ساعدت على قيام الزراعة.
- الصحراء الشرقية التى تتميز بصخورها الصلبة وجبالها الشاهقة وهضابها العالية.
- البحر الأحمر الذى توجد به العديد من الجزر.
- الصحراء الغربية التى تتميز بالرمال الصفراء والهضاب والمنخفضات.
- شبه جزيرة سيناء (أرض الفيروز) التى تقع بين خليجى السويس والعقبة.
٢- لأن اللون البنى يدل على الأماكن الأكثر ارتفاعاً مثل الجبال ويوجد جنوب غرب مصر جبل العوينات.
٣-

البحيرة	الجزيرة
مساحة صغيرة من المياه يحيط بها اليابس من جميع الجهات	أرض تحيط بها المياه من جميع الجهات

إجابة اختبار نفسك (جمال أرضنا)



السؤال الأول:

- (أ) ١- منخفض ٢- الشمالية ٣- الجبال ٤- شبه جزيرة سيناء
(ب) تختلف الهضبة عن السهل فى الارتفاع؛ حيث إن الهضبة تكون أكثر ارتفاعاً من السهل.

مثال: هضبة الجلف الكبير - والسهل الساحلى للبحر المتوسط.

- السؤال الثاني: (أ) ١- ٢ ٢- ٤ ٣- ١
(ب) جبل سانت كاترين

- السؤال الثالث: ١- الجبل ٢- المنخفض ٣- شبه جزيرة سيناء
٤- البحر ٥- الصحراء الغربية

الدرس الثاني: الطقس والمناخ

سؤال

- (أ) ١- الترمومتر ٢- الرياح ٣- صحراوى حار
(ب) الشبه: كلاهما يصف حالة الجو من حيث الحرارة - الرياح - الأمطار
الاختلاف: يختلفان فى الفترة الزمنية حيث إن الطقس هو وصف لحالة الجو خلال فترة زمنية قصيرة، أما المناخ فهو وصف لحالة الجو خلال فترة زمنية طويلة.

إجابة تدرب (الدرس الثالث: الطقس والمناخ)



- السؤال الأول: ١- (X) ٢- (✓) ٣- (X)
٤- (✓) ٥- (✓) ٦- (✓)

- السؤال الثاني: ١- الصحراوى حار ٢- الأنيومتر ٣- الشتاء
٤- الجو ٥- الحرارة

- السؤال الثالث: ١- المناخ ٢- الصناعية ٣- الشتاء

إجابة تدرّب (الدرس الثالث: البيئات المصرية ومواردها الطبيعية)

السؤال الأول: ١- مساحتها الغربية
٢- الصحراوية
٣- المنجنيز
٤- الدلتا ومنخفض الفيوم
٥- البحر المتوسط

السؤال الثاني:
١- (X)
٢- (✓)
٣- (✓)
٤- (✓)
٥- (✓)
٦- (✓)
٧- (X)
٨- (X)

السؤال الثالث: ١- الشرقية
٢- جنوب
٣- الغربية
٤- جنوب
٥- أكبر
٦- النحاس أو الذهب

السؤال الرابع: ١- وادي النيل.
٢- شبه جزيرة سيناء.
٣- تنوع البيئات.
٤- الصحراوية.
٥- السد العالي.
٦- شبه مستوية.
٧- البحر الأحمر.
٨- الجليدية
٩- الصحراء الغربية
١٠- بحر الرمال العظيم
١١- أسوان
١٢- ناصر
١٣- الخزف

السؤال الخامس:
البيئة الزراعية: القليوبية - الشرقية - أسوان
البيئة الساحلية: الإسكندرية - بورسعيد
البيئة الصحراوية: جنوب سيناء - الوادي الجديد

السؤال السادس:
١- تتنوع البيئات الطبيعية في مصر بسبب تفتحها بالسواحل الخلاب، ووجود نهر النيل، وموقعها الجغرافي المميز، ومظاهر السطح المتنوعة ومساحتها الكبيرة.
٢- يتشابهان بوجود جبال شاهقة ورمال ذهبية.
٣- بسبب وجود مياه جوفية عذبة في الصحراء الغربية.

إجابة أسئلة امتحانات الإدارات

السؤال الأول: ١- الساحلية
٢- الزراعية
٣- الصحراوية
٤- الدلتا

السؤال الثاني: ١- أسوان
٢- السد العالي
٣- البحار
٤- الزراعية
٥- الصحراوية
٦- ناصر

السؤال الثالث: ١- (صواب)
٢- (خطأ)
٣- (خطأ)
٤- (خطأ)
٥- (خطأ)

السؤال الرابع: ١- الأحمر
٢- الكثبان الرملية

السؤال الخامس:

١- عدم وجود مناظر وألوان خلابة في البحر الأحمر ولن يأتي السياح إلى البحر الأحمر.
٢- بسبب موقع مصر الجغرافي الفريد ومظاهر السطح المتعدد ومساحة مصر الكبيرة.

إجابة اختبار نفسك (البيئات المصرية ومواردها الطبيعية)

السؤال الأول: (١) ١- البحار
٢- الصحراوية
٣- الجبال
٤- الشعاب المرجانية

(ب) لم تتنوع مظاهر السطح، ولم تتنوع البيئات والموارد الطبيعية بها.

السؤال الثاني: (١) ١- ناصر
٢- الغربية
٣- المتوسط
(ب) ١- وادي النيل ودلتاه
٢- بحيرة ناصر

السؤال الثالث: ١- بيئة صحراوية
٢- بيئة زراعية
٣- بيئة ساحلية
٤- بحيرة ناصر
٥- السد العالي

الدرس الرابع: نحو حياة مستدامة في بلدنا

سؤال

١- إلقاء مياه الصرف الصحي ومياه الصرف الزراعي الملوثة بالأسمدة الكيميائية والمبيدات الحشرية - إلقاء نفايات المصانع.
٢- لتقليل فقدان الكثير من المياه.



٢- الفترة الزمنية
٣- الأعمار الصناعية
٤- نوع الملابس
٥- الترمومتر
٦- صحراوي حار
٧- جورب الرياح
٨- جوب الرياح
٩- درجة الحرارة
١٠- شتاء

١- يساعد في معرفة الملابس الواجب ارتداؤها، ويوجد العديد من الأنشطة الاقتصادية التي تستفيد من معرفة الطقس مثل الزراعة والصناعة.
٢- وصف حالة الجو خلال فترة زمنية قصيرة.

إجابة أسئلة امتحانات الإدارات

السؤال الأول: ١- الصحراوي الحار
٢- محطات الأرصاد الجوية
٣- الأنيمومتر
٤- الهيئة العامة للأرصاد الجوية

السؤال الثاني: ١- (صواب)
٢- (صواب)
٣- (صواب)
٤- (خطأ)

السؤال الثالث: ١- الأمطار والرياح
٢- قصيرة
٣- أسنوع
٤- طويلة
٥- سنة

السؤال الرابع: ١- الشتاء
٢- الطقس

السؤال الخامس: المناخ

السؤال السادس: الصحراوي

السؤال السابع: ١- الأنيمومتر يقيس سرعة الرياح.

٢- تستخدم الأعمار الصناعية في جمع بيانات دقيقة عن عناصر الطقس.
٣- بسبب معرفة حالة الطقس اليومية يتخذ الإنسان بعض قراراته اليومية مثل ارتداء الملابس المناسبة.

إجابة اختبار نفسك (الطقس والمناخ)

السؤال الأول: (١) ١- سرعة الرياح
٢- حالة الجو
٣- الطقس
(ب) ١- المناخ
٢- الطقس

السؤال الثاني: (١) ١- (✓)
٢- (X)
(ب) ١- أسوان
٢- الإسكندرية

السؤال الثالث:

١- صحراوي حار
٢- جوب الرياح
٣- الشتاء

الدرس الثالث: البيئات المصرية ومواردها الطبيعية

سؤال

١- الزراعية
٢- الساحلية

سؤال

١- (X)
٢- (X)
٣- (✓)
٤- شبه جزيرة سيناء
٥- البحر الأحمر

- تمذل الدولة جهوداً لخفض نسبة التلوث منها استخدام سيارات تعمل بالغاز الطبيعي بدلاً من البنزين - التوعية بضرورة تقليل الاعتماد على السيارات الخاصة في التنقل.

إجابة تدرب (الدرس الرابع: نحو حياة مستدامة في بلدنا)

- السؤال الأول: ١- (X) ٢- (✓) ٣- (X)
٤- (✓) ٥- (X) ٦- (X)

السؤال الثاني:

وجه المقارنة	الموارد المتجددة	الموارد غير المتجددة
النسبة	لا تنفذ	تنفذ
الاختلاف	الشمس - الماء - التربة	البترول - المنجنيز
أمثلة		

السؤال الثالث:

١- العاء	٢- (ب)	٣- الفحم
٤- الهواء	٥- الشمس	
١- الرياح	٢- العضوية	٣- الشمس
٤- المياه	٥- الزعفران	

السؤال الخامس:

١- د	٢- أ	٣- ب	٤- ج
١- التروول	٢- التربة		

السؤال السابع:

- ١- تعتبر الشمس مصدرًا من مصادر الطاقة المتجددة.
٢- استبدال مصادر الطاقة غير المتجددة بمصادر الطاقة المتجددة، مثل: الشمس والرياح.
٣- سبب عوادم السيارات ودخان المصانع، وحرق قش الأرز.
٤- سبب إلقاء مياه الصرف الصحي ومياه الصرف الزراعي الملوثة بالأسمدة الكيميائية والمبيدات الحشرية، وإلقاء بقايا المصانع.
٥- ظهور العديد من المشكلات التي تصربها وتهدد صحة الإنسان وحياة الكائنات الحية على سطح الأرض

إجابة أسئلة امتحانات الإدارات

السؤال الأول:

١- محطة كهرباء السد العالي	٢- البحر الأحمر	٣- البحيرة
----------------------------	-----------------	------------

السؤال الثاني:

١- موارد متجددة	٢- الاستهلاك	٣- المتجددة
-----------------	--------------	-------------

السؤال الثالث:

السؤال الرابع:	الموارد المتجددة: الماء - الهواء	الموارد غير المتجددة: الفحم - البترول
----------------	----------------------------------	---------------------------------------

السؤال الخامس:

١- (صواب)	٢- (خطأ)	٣- (صواب)	٤- (خطأ)
١- (خطأ)	٢- (صواب)	٣- (خطأ)	٤- (صواب)

السؤال السادس:

١- الشمس	٢- الرياح	٣- السد العالي
٤- الأنهار	٥- دخان المصانع	٦- التربة

السؤال السابع:

- ١- التأكد من إغلاق الصنبور - عدم استهلاك المياه في الأند
٢- لأنها موارد متجددة لا تنفذ رغم استخدامها المستمر لها

السؤال الثامن:

- ١- أدى إلى تنوع المبيدات والموارد الطبيعية فيها
٢- أدى إلى قيام الزراعة
٣- أدى إلى تلوث الهواء

السؤال التاسع:

- ١- ترشيد استهلاك الغذاء والطاقة - المشاركة في الحفاظ على البيئة - التوعية بأهمية التشجير وإعادة تدوير المخلفات.
٢- طاقة نظيفة لا تتسبب في تلوث البيئة.
٣- بسبب إسراف المزارعين في استخدام الأسمدة الكيميائية والمبيدات الحشرية وتجريف التربة.

- ٣- حث المواطنين على ترشيد استهلاك الغذاء والطاقة - المشاركة في الحفاظ على البيئة - التوعية بأهمية التشجير وإعادة تدوير المخلفات.
٤- طاقة نظيفة لا تتسبب في تلوث البيئة.
٥- بسبب إسراف المزارعين في استخدام الأسمدة الكيميائية والمبيدات الحشرية وتجريف التربة.

إجابة اختبر نفسك (نحو حياة مستدامة في بلدنا)

السؤال الأول: ١- الرياح ٢- ترشيد الاستهلاك ٣- البنزين ٤- الأنهار ٥- الشمس

السؤال الثاني: (١) - (ب) (٢) - (أ) (٣) - (ج)
(ب) يعرضها للتلوث والتدهور ويضر بصحتنا

السؤال الثالث:
(١) - الحديد ٢- الفحم ٣- استخدام المبيدات الحشرية
(ب) استخدام الطاقة المتجددة (النظيفة)، مثل: طاقة الشمس وطاقة الرياح

إجابة بنك الأسئلة على الوحدة الثانية

إجابة تدريبات الأضواء

السؤال الأول:
١- أقل ٢- شبه الجزيرة ٣- الصحراوي الحار
٤- الأنيمومتر ٥- دلتا النيل ومنخفض الفيوم
٦- الشعاب المرجانية ٧- الجوفية ٨- التنمية المستدامة

السؤال الثاني:
١- (خطأ) ٢- (صواب) ٣- (صواب)
٤- (صواب) ٥- (خطأ) ٦- (صواب)
٧- (خطأ) ٨- (خطأ)

السؤال الثالث:
١- بحر الرمال العظيم ٢- جزيرة ٣- درجة الحرارة
٤- شتاء ٥- أسوان ٦- البحر المتوسط
٧- الصحراء الشرقية ٨- حرق قش الأرز ٩- التربة

السؤال الرابع:
١- الصحراء الشرقية ٢- الجبل ٣- الهضبة
٤- المنخفض ٥- بحيرة ناصر ٦- الطقس
٧- البحر

السؤال الخامس:
١- المقطم ٢- العوينات ٣- البرلس
٤- الأحمر

السؤال السادس:
١- ساعدت على قيام الزراعة
٢- بسبب وجود المرتفعات بها
٣- للمساعدة في اتجاه بعض القرارات اليومية
٤- بسبب موقعها الجغرافي الفريد ومظاهر سطحها المتنوعة ومساحتها الكبيرة
٥- بسبب وجود مياه جوفية عميقة بالصحراء الغربية.
٦- بسبب دخولها في الكثير من الصناعات مثل صناعة الزجاج والحلابة الشمسية
٧- إسراف المزارعين في استخدام الأسمدة الكيميائية - استخدام المبيدات الحشرية وتجريف التربة

السؤال السابع:
١- أدى إلى تنوع المبيدات والموارد الطبيعية فيها
٢- أدى إلى قيام الزراعة
٣- أدى إلى تلوث الهواء

إجابة اختبار الأضواء (ع) على الوحدة الثانية

السؤال الأول: ١- الجبل
٢- مقياس المطر ٣- الغربية
٤- الجوفية ٥- شتاء

السؤال الثاني:

(أ) ١- علية ٢- العقبة ٣- النيل ٤- ناصر
(ب)

وجه المقارنة	السهل الساحلي	السهل الفيضي
المفهوم	مساحة من الأرض مستوية تعتمد على طول ساحل البحر.	مساحة من الأرض مستوية قليلة الارتفاع وتتكون من رواسب الأنهار.
المثال	ساحل البحر الأحمر.	الأراضي على حالي نهر النيل.

السؤال الثالث: ١- (خطأ) ٢- (صواب) ٣- (خطأ) ٤- (خطأ) ٥- (خطأ)

إجابة مراجعة الكتاب المدرسي على المحور الأول

- (أ) ١- الجبل: أرض شديدة الارتفاع ولها قمة وجوانها شديدة الانحدار، أما التل فهو أقل ارتفاعاً من الجبل؛ حيث يقل ارتفاعه ١٠٠٠م
٢- المصادر الأولية: معاصرة للأحداث، أما المصادر الثانوية فيسهل الحصول عليها ويتم تدوينها بعد مرور الحدث بزمن طويل.
٣- الطقس: وصف حالة الجو لفترة زمنية قصيرة.
المناخ: وصف حالة الجو خلال فترة زمنية طويلة.
٤- العلم: يرمز علم كل بلد لتاريخها وتراثها، أما الشعار فترية تتخذها المحافظة رمزاً لها.
٥- الموارد المتجددة موارد لا تنفذ بالرغم من استخدامها أما الموارد غير المتجددة فهي الموارد التي تنفذ باستخدامها لها.
(ب) ١- استعن بما درسته في الوحدة الأولى.
٢- الأماكن المرتفعة: جبل سانت كاترين - جبل الشيب.
- الأماكن المنخفضة: منخفض الفيوم - منخفض القطارة.
٣- المشكلة: تلوث الهواء، الحل: استخدام مصادر طاقة متجددة، مثل الشمس، الرياح، المياه؛ وذلك للتوقف عن استخدام مصادر الطاقة غير المتجددة، مثل الفحم والفحم؛ مما يؤدي لتقليل الأذخنة المنبعثة من المصانع.
(ج) ١- أدت إلى اختصار مدة الإبحار بين آسيا وأوروبا، وبالتالي توفير الوقت والعمال والتجهز.
٢- من الممكن زيادة مساحة الأراضي الزراعية باستصلاح لأرض صحراوية.
٣- أجب بنفسك. ٤- لأن العلم رمز للدونة. ٥- أجب بنفسك.
(د) أجب بنفسك.

المحور الثاني: الموارد والبيئة

الوحدة الثالثة: الموارد والخدمات في بلدنا
الدرس الأول: الحرف التراثية

سؤال

إجابة تدريب (الدرس الأول، الحرف التراثية)

- السؤال الأول:
١- الفخار ٢- المسجاة الهدوي ٣- الروبيكي ٤- الزراعة ٥- السياحة المستدامة ٦- الخيامية ٧- الدقهلية ٨- النسيج والمسجاة الهدوي ٩- صناعة الفخار
السؤال الثاني:
١- (X) ٢- (X) ٣- (X) ٤- (X) ٥- (X) ٦- (X) ٧- (X) ٨- (X)
السؤال الثالث:
١- الجلود ٢- المسجاة الهدوي ٣- النسيج والمسجاة الهدوي ٤- الفرص عمل ٥- القطن ٦- الخيامية ٧- المسجاة الهدوي ٨- نوالها
السؤال الرابع:
١- النسيج ٢- الفرص عمل ٣- المسجاة الهدوي ٤- الخيامية ٥- القطن ٦- الخيامية ٧- المسجاة الهدوي ٨- نوالها

إجابة أسئلة امتحانات الإدارات على الوحدة الثانية

- ٢- الصحراوي الحار
٢- (خطأ) ٣- (صواب) ٤- (خطأ)
٢- الترمومتر ٣- المحيط ٤- جزيرة
هو مجرى مائي عذب مثل نهر النيل
٢- الساحلية ٣- سانت كاترين ٤- الصحراوية
٢- البيئة الساحلية ٣- البيئة الزراعية

حيث توجد أراض مرتفعة مثل الجبال والهضاب وأراض أقل ارتفاعاً مثل السهول الفيضية والساحلية وأراض تنخفض عن مستوى سطح البحر مثل المنخفضات. توت الهواء. ٣- بصفان حالة الجو من حيث الحرارة والرياح والأمطار.

إجابة اختبار الأضواء (ا) على الوحدة الثانية

- ١- الحدود الصحراوية ٢- الأعمار الصناعية ٣- جورب الرياح ٤- أسوان ٥- ثلاث
١- شبه الجزيرة ٢- البيضاء ٣- الصحراء الشرقية ٤- ناصر ٥- الساحلية

سهول	هضاب	جبال
ساحل البحر المتوسط - وادي النيل	الجلف الكبير	العوينات

إجابة اختبار الأضواء (ب) على الوحدة الثانية

- ١- الصحراء الشرقية ٢- جوفية ٣- الصحراء الغربية ٤- ناصر ٥- البحر الأحمر
١- نهر النيل ٢- بحيرة ناصر ٣- شبه جزيرة سيناء ٤- الرمال البيضاء ٥- الرمال السوداء

إجابة اختبار الأضواء (ج) على الوحدة الثانية

- ١- البحر الأحمر ٢- الساحلية ٣- ناصر ٤- الصحراوية ٥- الصحراء الغربية ٦- الفترة الزمنية ٧- الساحلية
٢- الصحراء الغربية ٣- الفترة الزمنية ٤- الساحلية
٢- (خطأ) ٣- (صواب) ٤- (خطأ)
٢- (خطأ) ٣- (خطأ) ٤- (خطأ)

السؤال الخامس: الحرف التراثية

السؤال السادس: ١- ب

٢- ج ٣- أ

السؤال السابع: توفر فرص عمل للشباب - تساعد في حماية البيئة - تدعم السياحة المستدامة.

إجابة أسئلة امتحانات الإدارات



السؤال الأول: ١- السلال ٢- الفخار ٣- النسيج
٤- الفخار ٥- المسجاد اليدوي ٦- الخيامية
٧- صناعة الزجاج

السؤال الثاني: النسيج والمسجاد اليدوي

السؤال الثالث: ١- الخيامية ٢- النسيج والمسجاد اليدوي
٣- تراثنا

السؤال الرابع: ١- الفخار ٢- الفخار

السؤال الخامس: ١- (صواب) ٢- (صواب) ٣- (صواب)
٤- (صواب) ٥- (صواب) ٦- (صواب) ٧- (صواب)

السؤال السادس:

١- تقوم الدولة بـ

- رعاية مصانع العمال

- إعداد برامج تدريبية لتعليمهم المهارات بعض الحرف.

- تسويق منتجاتهم من خلال إقامة المعارض والمهرجانات مثل معرض تراثنا للحرف اليدوية.

٢- توفر فرص عمل للشباب - تساعد في حماية البيئة.

- تدعم السياحة المستدامة

٣- لأنه يتم إعادة تكوير مياه الصرف الصحي واستخدامها لري الأشجار الموجودة بالقرب من المكان لذلك فهي تعد مدينة صديقة للبيئة.

٤- يجب الحفاظ في سوء دراسته لأهمية الحرف التراثية.

إجابة اختبار نفسك (الحرف التراثية)



السؤال الأول: ١- الدويكي ٢- المسجاد اليدوي ٣- صناعة النسيج
٤- الفخار ٥- الزجاج

السؤال الثاني: ١- الخيامية ٢- الفخار ٣- الجلود
٤- الدقهلية ٥- تراثنا

السؤال الثالث (أ)

قوية الجراح	صناعة الزجاج
مدينة الدويكي	صناعة الجلود
شارع الخيامية	صناعة الخيامية

(ب) توفر فرص عمل للشباب - تساعد في حماية البيئة - تدعم السياحة المستدامة.

الدرس الثاني: المستثمر الصغير

سؤال

١- الرغبات ٢- الحاجات

إجابة تحدي (الدرس الثاني: المستثمر الصغير)



السؤال الأول: ١- مصر ٢- الحاجات
٣- محمد طلعت حرب باشا ٤- حاجات
٥- استهلاك ٦- المركزي المصري

السؤال الثاني: ١- (X) ٢- (✓)
٣- (X) ٤- (✓)
٥- (✓) ٦- (✓)
٧- (✓)

السؤال الثالث: ١- المركزي المصري ٢- الحاجات

السؤال الرابع:

١- طلعت حرب ٢- قروض ٣- البنك المركزي المصري
٤- مصر ٥- الحاجات ٦- البنك المركزي ٧- استهلاك

السؤال الخامس: ١- رغبة ٢- حاجة ٣- حاجة

السؤال السادس: ١- الحاجات هي الأشياء التي نحتاج أن نحصل عليها لتعيش

الرغبات هي الأشياء التي نمتلكها من الجهد للحصول عليها ولكننا

نستطيع العيش بدونها

٢- ازدهار الاقتصاد المصري.

إجابة أسئلة امتحانات الإدارات



السؤال الأول: ١- الاقتصاد ٢- البنك المركزي المصري
٣- مصر ٤- مكاتب البريد

السؤال الثاني: ١- (صواب) ٢- (خطأ) ٣- (صواب)
٤- (صواب) ٥- (خطأ)

السؤال الثالث: ١- طلعت حرب ٢- مصر ٣- الحاجات

السؤال الرابع: طلعت حرب

السؤال الخامس: الحاجات هي الأشياء التي نحصل عليها لتعيش.

الرغبات: أشياء من الجهد الحصول عليها ولكننا نستطيع العيش بدونها

السؤال السادس: كلما قل الاستهلاك زاد الادخار وزاد الاستثمار وازدهر الاقتصاد

السؤال السابع: ١- حاجات ٢- رغبات
٣- رغبات ٤- حاجات

إجابة اختبار نفسك (المستثمر الصغير)



السؤال الأول:

(أ) ١- الاستثمار ٢- مصرفية ٣- مكاتب البريد ٤- الاقتصاد
(ب) الحاجات: الخبز- الملابس - المسكن المناسب.
الرغبات: الذهاب إلى الملاهي - التلفزيون - زيارة المتاحف

السؤال الثاني: (أ) ١- (X) ٢- (X) ٣- (✓)

(ب) الادخار يساعد على الاستثمار وازدهار الاقتصاد

السؤال الثالث:

(أ) ١- بنك مصر ٢- البنوك ٣- المركزي المصري
(ب) كلما زاد الادخار زاد الاستثمار

الدرس الثالث: معًا لنحيا أفضل

وجه المقارنة	السلع	الخدمات
التعريف	نعني كل ما يتم إنتاجه ونقوم بشرائه	أي عمل أو نشاط تقوم به الدولة لتلبية حاجات أوساكن المواطنين
الأمثلة	المنتجات الغذائية والأجهزة الكهربائية	المدارس والمستشفيات

سؤال

- أدى ذلك إلى توفير المزيد من الوقت والجهد والعمل على المواطنين

السؤال

١- (صواب) ٢- (صواب)

إجابة تدريب (الدرس الرابع: حقوق الأطفال)

السؤال الأول: ١- (X) ٢- (✓) ٣- (✓)
٤- (✓) ٥- (✓) ٦- (✓)
٧- (✓) ٨- (X) ٩- (✓) ١٠- (✓)

السؤال الثاني: ١- الدولية

٢- المحلبة ٣- طه حسين

السؤال الثالث: ١- الرعاية الصحية

٢- المدارس ٣- خط نجدة الطفل
٤- طه حسين ٥- الطفل

السؤال الرابع: - المحافظة على البيئة.

السؤال الخامس: ١- حقوق ٢- واجبات ٣- حقوق ٤- واجبات

السؤال السادس:

١- يعجبني هذا! لأن الدولة تهتم بحقوق الطفل بوضع قوانين تؤكد على ذلك.
٢- تضمن دستور مصر عام ٢٠١٤ م مواد تتعلق بحماية حقوق ذوي الاحتياجات الخاصة
٣- لحماية الأطفال الذين تعرضوا للعنف أو انتهاك حقوقهم.

إجابة أسئلة امتحانات الإدارات

السؤال الأول: ١- احترام القواعد والقوانين ٢- الأمم المتحدة ٣- التعليم

السؤال الثاني: اهتم

السؤال الثالث: ١- طه حسين ٢- التعليم ٣- السكن
٤- خط نجدة الطفل ٥- الحماية

السؤال الرابع: ١- (خطأ) ٢- (صواب) ٣- (صواب)
٤- (صواب) ٥- (خطأ) ٦- (صواب)

السؤال الخامس:

١- التعليم - الصحة
٢- تضمن دستور مصر عام ٢٠١٤ م مواد تتعلق بحماية ذوي الاحتياجات الخاصة
٣- حرصاً على أن يتمتع جميع الأطفال بحقوقهم بشكل عادل وبدون تمييز

إجابة اختبار نفسك (حقوق الأطفال)

السؤال الأول:

(أ) ١- المستشفيات ٢- الأمم المتحدة ٣- الأمن ٤- واحداً
(ب) حرصاً على أن يتمتع جميع الأطفال بحقوقهم بشكل عادل وبدون تمييز

السؤال الثاني:

(أ) ١- (أ) ٢- الطفل وذوي الاحتياجات الخاصة معاً
٣- العنف

(ب) - المذاكرة وأداء الواجبات المدرسية. - مساعدة أفراد الأسرة في بعض الأعمال المنزلية
السؤال الثالث: ١- (صواب) ٢- (خطأ) ٣- (صواب)
٤- (صواب) ٥- (صواب)

إجابة تلك الأسئلة على الوحدة الثالثة

إجابة تدريبات الأصوات

السؤال الأول:
١- السجاد الهدوي ٢- الزراعة
٣- الصحة ٤- حياة كريمة
٥- طه حسين ٦- العاجات

إجابة تدريب (الدرس الثالث: مغاً حياة أفضل)

١- حملة ١٠٠ مليون صحة ٢- حياة كريمة ٣- الإلكترونية
٤- الصحة ٥- حياة كريمة

١- (✓) ٢- (X) ٣- (X)
٤- (X) ٥- (X)

١- السلالات ٢- السلع ٣- تعليمية
٤- المستشفيات ٥- الترفيهية ٦- كل ما سبق
٧- خدمة ٨- الصحة ٩- الأمنية

١- الترفيهية والثقافية ٢- صحية ٣- الخدمات
٤- صحية ٥- التعليمية

التعليمية	البيئية	الصحية	الأمنية
المعلم	عامل النظافة	الطبيب	الضابط

السؤال السادس: ١- حملة ١٠٠ مليون صحة ٢- مبادرة حياة كريمة
٣- التطور العمراني ٤- الخدمات الإلكترونية

السؤال السابع: ١- للكشف المبكر عن الأمراض.
٢- للتخفيف عن المواطنين الأكثر احتياجاً.
٣- ساهمت في علاج التهاب الكبدى الوبالى.

إجابة أسئلة امتحانات الإدارات

السؤال الأول: ١- ١٠٠ مليون صحة ٢- حياة كريمة ٣- التعليمية

السؤال الثاني: ١- الصحة ٢- صحية

السؤال الثالث: ١٠٠ مليون صحة

السؤال الرابع: ١- (خطأ) ٢- (صواب) ٣- (خطأ)
٤- (صواب) ٥- (صواب) ٦- (خطأ)
٧- (صواب) ٨- (خطأ) ٩- (صواب)

السؤال الخامس: ١- الصحية ٢- ١٠٠ مليون صحة ٣- الأمنية
٤- الترفيهية ٥- الصحة ٦- الأمنية
٧- التعليمية

السؤال السادس:
١- تحسين الخدمات الإلكترونية إلى توفير المزيد من الوقت والجهد والمال.
٢- تخفيف الضغط عن المواطنين في المجتمعات الأكثر احتياجاً.
٣- بحسب الطالب في ضوء دراسته للخدمات التي تقدمها الدولة.

إجابة اختبار نفسك (مغاً حياة أفضل)

السؤال الأول:
١- الثقافية ٢- الأمنية ٣- المدن ٤- خدمة

السؤال الثاني: ١- التعليمية ٢- الصحة ٣- حملة ١٠٠ مليون صحة
٤- سلع ٥- المواطنين

السؤال الثالث:
١- البيئية ٢- الترفيهية والثقافية ٣- حياة كريمة
٤- مبادرة (حملة ١٠٠ مليون صحة) هي إحدى المبادرات التي تهتم بصحة المواطن.
٥- الاستفادة منها، استهدفت الكشف المبكر عن الإصابة ببعض الأمراض مثل: مرض التهاب الكبدى الوبالى.

إجابة اختبار الأضواء (٢) على الوحدة الثالثة



السؤال الأول: ١- الثقافية. ٢- المستشفيات. ٣- النسيج. ٤- الروبيكي. ٥- طه حسين.

السؤال الثاني: ١- التعليم. ٢- خدمة. ٣- مصر. ٤- الرغبات. ٥- واجبات.

السؤال الثالث: (١)

الحاجات الرغبات

الطعام - الملابس رحلة سياحية - هانف جديد

(ب) الحرف التراثية تساعد في حماية البيئة، حيث تستخدم بعض المخلفات في بعض الحرف اليدوية.

إجابة اختبار الأضواء (٣) على الوحدة الثالثة



السؤال الأول: ١- السلال. ٢- السجاد اليدوي. ٣- تعليبية. ٤- طه حسين. ٥- البنك المركزي المصري.

السؤال الثاني: ١- (صواب) ٢- (خطأ) ٣- (صواب) ٤- (صواب) ٥- (صواب)

السؤال الثالث: (١) ١- الخيامية ٢- الترفيهية ٣- طلعت حرب

(ب) ١- كلما قل الاستهلاك زاد الادخار وزاد الاستثمار وازدهر الاقتصاد.

٢- توفير فرص عمل للشباب.

- تساعد في حماية البيئة - تدعم السياحة المستدامة.

إجابة اختبار الأضواء (٤) على الوحدة الثالثة



السؤال الأول: ١- (خطأ) ٢- (صواب) ٣- (صواب) ٤- (صواب) ٥- (صواب)

السؤال الثاني: ١- البنوك ٢- الإلكترونية ٣- البصر ٤- البيئية ٥- الخيامية

السؤال الثالث:

(١) ١- القاهرة ٢- النوبة ٣- الأحمر ٤- الغربية

(ب) - للتخفيف عن المواطنين في المجتمعات الأكثر احتياجًا، وذلك بتوفير كافة المرافق والخدمات الصحية والتعليمية.

إجابة مراجعة الكتاب المدرسي على المحور الثاني



(١) ١- السلع: تعنى كل ما يتم إنتاجه، وتقوم بشرائه مثل: المنتجات الغذائية والأجهزة الكهربائية.

الخدمات: أى عمل أو نشاط تقوم به الدولة لتلبية حاجات أو رغبات المواطنين مثل: المدارس والمستشفيات.

٢- الادخار: جمع الأموال وحفظها دون استخدامها

الاستثمار: جمع الأموال واستخدامها في نشاط معين لتحقيق المكسب والأرباح

٣- الرغبات: هي الأشياء التي سيكون من الجيد الحصول عليها، ولكنك تستطيع العيش بدونها

الحاجات: هي الأشياء التي يجب أن تحصل عليها لتعيش.

(ب) ١- صناعة الزجاج.

٢- الأمثلة: صناعة النسيج والسجاد اليدوي - صناعة الخيامية - صناعة الزجاج

الأهمية: تدعم السياحة المستدامة والاقتصاد

٣- رعاية مصالح العمال

- إعداد برامج تدريبية لتعليمهم المهارات الخاصة ببعض الحرف

- تسويق المنتجات من خلال المهرجانات والاحتفالات السنوية، مثل: معرض تراثنا للحرف اليدوية.

السؤال الثاني:

١- (خطأ) ٢- (صواب) ٣- (خطأ) ٤- (خطأ) ٥- (صواب) ٦- (صواب)

السؤال الثالث:

١- السجاد اليدوي ٢- تراثنا ٣- الصحية ٤- الأمانة ٥- خدمة ٦- استهلاكًا

السؤال الرابع:

١- الحياة المستدامة ٢- السلع ٣- الخدمات ٤- الحاجات ٥- الرغبات

السؤال الخامس:

١- الجزيرة ٢- القاهرة ٣- الأحمر ٤- الشرقية

السؤال السادس:

١- توفير فرص عمل للشباب - تساعد في حماية البيئة - تدعم السياحة المستدامة. ٢- للتخفيف عن المواطنين الأكثر احتياجًا.

السؤال السابع:

١- كشفت عن الإصابة ببعض الأمراض مثل مرض التهاب الكبدى الوبائى. ٢- توفير الوقت والجهد والعمل على المواطنين.

السؤال الثامن:

- تضمن دستور مصر ٢٠١٤ مواد تتعلق بحماية حقوق ذوى الاحتياجات الخاصة.

إجابة أسئلة امتحانات الإدارات على الوحدة الثالثة



السؤال الأول:

١- طلعت حرب ٢- طه حسين

السؤال الثاني:

١- (صواب) ٢- (خطأ) ٣- (صواب)

السؤال الثالث:

١- ١٠٠ مليون صحة ٢- البنك المركزي ٣- الصحية

السؤال الرابع:

١- النسيج والسجاد اليدوي ٢- خدمه صحية ٣- اهتم ٤- الخيامية

السؤال الخامس:

١- حيث يتم إعادة تكرير مياه الصرف الصحي واستخدامها في رى الأشجار الموجودة حول المكان.

٢- السكن - التعليم.

إجابة اختبار الأضواء (١) على الوحدة الثالثة



السؤال الأول:

(١) ١- البيئية. ٢- السياحة المستدامة. ٣- الزجاج.

(ب) توفير فرص عمل للشباب - تساعد في حماية البيئة - تدعم السياحة المستدامة.

السؤال الثاني:

(١) ١- (✓) ٢- (X) ٣- (X) ٤- (✓)

(ب) سلبى

السؤال الثالث:

١- النسيج والسجاد اليدوي ٢- حياة كريمة ٣- الدولية ٤- نجدة الطفل ٥- استهلاك

- ٢- أوجه الشبه: مصادر لتوثيق المعلومات والأحداث.
أوجه الاختلاف: المصادر الأولية: كل ما تم نقشه أو تدوينه سواء من قبل أشخاص عاصروا الحدث أو شاركوا فيه ويترتب بزمن وقوع الحدث.
المصادر الثانوية: كل ما تم تدوينه بعد مرور زمن طويل منذ وقوع الحدث.
٣- أوجه الشبه: يعكسان حالة الجو من حيث الحرارة والرياح والأمطار.
أوجه الاختلاف: - الطقس: فترة زمنية قصيرة (يوم أو أسبوع أو شهر).
- المناخ: فترة زمنية طويلة (فصل أو سنة).
٤- أوجه الشبه: تقديم خدمات مالية.
أوجه الاختلاف: - بنك مصر: قبول الودائع وفتح الحسابات المختلفة.
- البنك المركزي: إصدار النقود والإشراف على جميع البنوك.

السؤال السادس:

- ١- يحد مصر من الشمال البحر المتوسط ومن الشرق البحر الأحمر.
٢- حيث يوجد في مصر نهر النيل وعلى جانبيه السهول الفيضية الخصبة.
- الصحراء الشرقية التي تتميز بصخورها الصلبة وجبالها الشاهقة.
- الصحراء الغربية التي تتميز بوجود الرمال الصفراء والهضاب والمنخفضات.
- شبه جزيرة سيناء التي تقع بين خليجي العقبة والسويس.
- والبحرين الأحمر والمتوسط.
٣- تتعرض التربة لأخطار بسبب:
- إسراف كثير من المزارعين في استخدام الأسمدة الكيميائية.
- تجريف التربة.
- استخدام المبيدات الحشرية لقتل الآفات الضارة بالمحاصيل الزراعية.

السؤال السابع:

- ١- أجب بنفسك في ضوء دراستك في كيفية المحافظة على المياه والطاقة.
٢- أجب بنفسك في ضوء دراستك لجهود الدولة المبذولة في إحياء الحرف التراثية.

السؤال الثامن:

- ١- البوصلة ٢- مطروح ٣- سانت كاترين ٤- المتوسط
٥- جنوب سيناء ٦- القاهرة ٧- ناصر
٨- الأحمر ٩- السويس ١٠- الجيزة

إجابات النماذج الاسترشادية على الشهرين الأول والثاني

إجابة النموذج (أ) على الشهر الأول

السؤال الأول:

- (أ) ١- وردة البوصلة ٢- البحر المتوسط ٣- نهر النيل ٤- محافظة القاهرة
(ب) يوجد بها العديد من الآثار مثل قلعة صلاح الدين ومسجد عمر بن الخطاب

- السؤال الثاني: ١- مقياس الرسم ٢- الثانوية ٣- رأس الرجاء الصالح
٤- الإدارية ٥- سيد درويش

- السؤال الثالث: ١- (خطأ) ٢- (صواب) ٣- (صواب)
٤- (صواب) ٥- (خطأ)

إجابة النموذج (ب) على الشهر الأول

السؤال الأول:

- (أ) ١- (خطأ) ٢- (صواب) ٣- (خطأ) ٤- (صواب)
(ب) - عاش المصريون القدماء على ضفافه وقاموا بأعمال الزراعة.
- استخدام كطريق للتجارة بين شمال مصر وجنوبها وبين دول وسط إفريقيا.

- السؤال الثاني: ١- القاهرة ٢- الأبيض ٣- الأزهر
٤- الطائرات الجوية ٥- حقائق

- السؤال الثالث: ١- جنوب سيناء ٢- الأحمر ٣- السويس
٤- نهر النيل ٥- الغربية

إجابة النموذج (أ) على الشهر الثاني

- السؤال الأول: ١- العقبة ٢- العوينات ٣- ناصر
٤- الفيوم ٥- المتوسط

- السؤال الثاني: ١- الطقس ٢- الساحلية ٥- السودان
٣- العتاق الحفرية ٤- المياه

٢٠١٤م مواد تتعلق بحماية ذوى الاحتياجات الخاصة تضمن دستور مصر عام ٢٠١٤م مواد تتعلق بحماية ذوى الاحتياجات الخاصة تضمن حقوقهم في التعليم - الرعاية الصحية - الخدمات التي تلي احتياجاتهم في الأماكن العامة.
٢- عن طريق الحفاظ على الخدمات، ومساعدة الدولة في إنشاء المزيد من المشروعات.
٣- يوفر ذلك المزيد من الوقت والجهد والمال على المواطنين.
٤- ساعدت البنوك في دعم منات المشروعات في جميع أنحاء الجمهورية في المجالات المختلفة، كالصناعة والزراعة والسياحة. وقد ساعد ذلك على ازدهار الاقتصاد المصري.
٥- قام بتأسيس بنك مصر
٦- ساعدت على استثمار مدخرات الشعب المصري في دعم منات المشروعات في جميع أنحاء الجمهورية في المجالات المختلفة
٧- تضمن الدستور المصري عام ٢٠١٤م مواد تتعلق بحماية حقوق ذوى الاحتياجات الخاصة في التعليم - الرعاية الصحية - الخدمات التي تلي احتياجاتهم في الأماكن العامة
٨- أجب بنفسك في ضوء ما تمت دراسته.
٩- أجب بنفسك.

إجابة مراجعة الكتاب المدرسي على الفصل الدراسي الأول

- ١- (خطأ) ٢- (خطأ) ٣- (صواب)
٤- (صواب) ٥- (خطأ) ٦- (صواب)
٧- (صواب) ٨- (صواب) ٩- (صواب)
١٠- (صواب) ١١- (صواب) ١٢- (خطأ)
١٣- (صواب) ١٤- (صواب) ١٥- (خطأ)
١٦- (خطأ) ١٧- (صواب) ١٨- (خطأ)
١٩- (صواب) ٢٠- (خطأ) ٢١- (صواب) ٢٢- (خطأ)

سؤال الثاني:

- ١- مقياس رسم الخريطة ٢- رأي ٣- إفريقيا
٤- الوادي الجديد ٥- الأسود
٦- شيا مدينة القاهرة ٧- جبل
٨- صحراوي ٩- الجند
١٠- الرمال السوداء ١١- صناعة الزجاج ١٢- الحماية
١٣- البنك المركزي ١٤- الرغبات

سؤال الثالث:

توضح الاتجاهات الأصلية والفرعية وتساعد في تحديد موقع معين على الخريطة نسبة إلى المواقع الأخرى.
تصنيف الضغط السكاني وتكدر الخدمات في العاصمة الحالية.
تيسر عن تاريخها وتراثها.
تساعدنا في اتخاذ بعض القرارات اليومية.
صحراء البيضاء والسوداء تدعم الاقتصاد لأنهما مقصدان للمصريين والأجانب
هذه السفاري، نغزرا لما تتميزان من مناظر خلابة.

سؤال الرابع:

تيسر عن تاريخها وتراثها.
تساعدنا في اتخاذ بعض القرارات اليومية.
صحراء البيضاء والسوداء تدعم الاقتصاد لأنهما مقصدان للمصريين والأجانب
هذه السفاري، نغزرا لما تتميزان من مناظر خلابة.

سؤال الخامس:

أوجه التشابه: السهول مساحة من الأرض مستوية.
أوجه الاختلاف: السهل الفيضي: هو مساحة من الأرض مستوية قليلة الارتفاع وتتكون من رواسب الأنهار مثل: الأراضي على جانبي نهر النيل
السهل الساحلي: وهو مساحة من الأرض مستوية تمتد على طول ساحل البحر.
مثل: سواحل البحرين الأحمر والمتوسط.

٥- إجابة محافظة الإسكندرية (إدارة العجمى التعليمية)

السؤال الأول:
(أ) ١- السويس ٢- ناصر ٣- الغربية ٤- الإسكندرية
(ب) الوزارات والهيئات والمؤسسات الحكومية
(ج) الساحلية

السؤال الثاني:
(أ) ١- الخريطة ٢- الشعاب المرجانية ٣- الدولية ٤- الفخار
(ب) الخريطة
(ج) الرياح

السؤال الثالث:
(أ) ١- (خطأ) ٢- (خطأ) ٣- (صواب) ٤- (خطأ) ٥- (صواب)
(ب) لإيمان الدولة بأحقيتهم في الرعاية التي تساعدهم على أن يكون لهم دور في المجتمع

السؤال الرابع:
(أ) ١- القاهرة ٢- الترمومتر ٣- الغاز الطبيعي ٤- البنى ٥- الطائرة ٦- الخيامية
(ب) يجيب الطالب بنفسه من خلال دراسته للموارد البيئية.

٦- إجابة محافظة القليوبية (إدارة العبور التعليمية)

السؤال الأول:
(أ) ١- الأحمر ٢- صحراوية ٣- السد العالي ٤- السويس
(ب) ١- القارة ٢- الكثبان الرملية ٣- المناخ

السؤال الثاني:
(أ) ١- إفريقيا ٢- جزيرة ٣- الخيامية ٤- التعليم ٥- مطروح
(ب) ١- الوقوف باحترام أثناء تحية العلم - رفعه عاليًا وعدم لمسه للأرض - عدم بناء بالماء أو الكتابة عليه أو الرسم عليه - المحافظة عليه وعدم تعريضه أو حرقه ٢- تحديد ملكية الأرض الزراعية

السؤال الثالث:
(أ) ١- (خطأ) ٢- (صواب) ٣- (صواب) ٤- (صواب) ٥- (خطأ) ٦- (صواب)
(ب) تلوث الهواء

السؤال الرابع:
(أ) ١- الزراعة ٢- الرياح ٣- الأقمار الصناعية ٤- القاهرة
(ب)

سهول	هضاب	جبال
ساحل البحر المتوسط	الجلف الكبير	العوينات - سانت كاترين

٩- إجابة محافظة الغربية (إدارة شرق طنطا التعليمية)

السؤال الأول:
(أ) ١- النيل ٢- سانت كاترين ٣- الأحمر ٤- الوادي الجديد
(ب) ١- الهضبة ٢- المناخ ٣- كثبان رملية

السؤال الثاني:
(أ) ١- (صح) ٢- (خطأ) ٣- (خطأ) ٤- (صح)
(ب) ١- ليعبر عن نشاط سكانها أو جزء من تاريخها ٢- لتخفيف الضغط السكاني وتكديس الخدمات عن العاصمة الحالية

السؤال الثالث:
(أ) ١- السجاد الهدوي ٢- الترفيحية والثقافية ٣- رأى ٤- الأبيض
(ب) ١- الرياح ٢- قناة السويس

السؤال الرابع:
(أ) ١- الرعاية الصحية ٢- سيد درويش ٣- الأنيمومتر ٤- الموارد الطبيعية
(ب) ١- تلوث الهواء ٢- أدت إلى قيام حرفة الزراعة

السؤال الثالث: ١- (صواب) ٢- (خطأ) ٣- (صواب) ٤- (صواب) ٥- (خطأ)

إجابة النموذج (٢) على الشهر الثاني

السؤال الأول:
(أ) ١- شنوان ٢- ناصر ٣- سيوة ٤- المتوسط
(ب) وذلك لاقتراب الجبال من ساحل البحر الأحمر.

السؤال الثاني: ١- (خطأ) ٢- (خطأ) ٣- (صواب) ٤- (صواب) ٥- (خطأ)

السؤال الثالث: ١- هضبة ٢- الترمومتر ٣- الشرقية ٤- الصحراء الغربية ٥- التربة

إجابة امتحانات المحافظات والإدارات ٢٠٢٢/٢٠٢٣

١- إجابة محافظة القاهرة (إدارة المعادى التعليمية)

السؤال الأول:
(أ) ١- وردة الوصلة ٢- المتوسط ٣- شمال سيناء ٤- نهر النيل ٥- سيناء
(ب) ١- لأنها تدخل في صناعات الزجاج والخلايا الشمسية ٢- أدى ذلك إلى قيام الزراعة في الصحراء الغربية

السؤال الثاني:
(أ) ١- حقائق ٢- المحيط الهادى ٣- الأبيض ٤- بناء مدينة القاهرة ٥- الترفيحية ٦- إفريقيا
(ب) ١- جوب الرياح / دوارة الرياح ٢- المركزى المصرى

السؤال الثالث:
(أ) ١- (خطأ) ٢- (صواب) ٣- (خطأ) ٤- (صواب) ٥- (صواب)
(ب)

مصدر ثانوى	مصدر أولى
موسوعة التاريخ الحديثة	خطاب رسمى لملك فاروق

السؤال الرابع:
(أ) ١- ج ٢- د ٣- أ ٤- ب
(ب) ١- الظنرات ٢- القلى ٣- الزراعة ٤- الهواء

٤- إجابة محافظة الجيزة (إدارة بولاق الدكرور التعليمية)

السؤال الأول:
(أ) ١- الأحمر ٢- الشرقية ٣- الجيزة ٤- سانت كاترين
(ب) ١- لتخفيف الضغط السكاني وتكديس الخدمات في العاصمة الحالية ٢- ليمزاني قوة مصر وعراقه حضارتها

السؤال الثاني:
(أ) ١- (صواب) ٢- (صواب) ٣- (خطأ) ٤- (صواب) ٥- (خطأ) ٦- (صواب)
(ب) أدى ذلك إلى قيام حرفة الزراعة

السؤال الثالث:
(أ) ١- الصحراوية ٢- التربة ٣- الماء ٤- الجيزة ٥- الأمنية
(ب) سوف يصعب تحديد اتجاهات الأماكن وتحديد مواقعها.

السؤال الرابع:
(أ) ١- إفريقيا ٢- إدارية ٣- الغربية ٤- المتجددة ٥- أوراق النخيل ٦- الدولية
(ب) حيث يوجد أراضي مرتفعة مثل الجبال - التلال - الهضاب وأراضي أقل ارتفاعًا مثل السهول الساحلية والفيضية والأراضي المنخفضة عن مستوى سطح البحر مثل المنخفضات.

١٢- إجابة محافظة دمياط (إدارة الزرقا التعليمية)



السؤال الأول:

- (أ) ١- المتوسط ٢- النيل ٣- ناصر
٤- الجلف الكبير
(ب) لتخفيف الضغط السكاني عن العاصمة الحالية

السؤال الثاني:

- (أ) ١- الوادي الجديد ٢- مقياس الرسم ٣- القاهرة
٤- الأريومتر ٥- البنك المركزي ٦- الفخار

(ب) العلم

السؤال الثالث:

- (أ) ١- (صح) ٢- (صح) ٣- (خطأ) ٤- (صح) ٥- (صح)
(ب) ضيق الشريط الساحلي.

السؤال الرابع:

- (أ) ١- البحر المتوسط ٢- الهواء ٣- الادخار - الاستثمار
٤- الصحة ٥- ١٠٠ مليون صحة ٦- إدارية
(ب) محمد طلعت باشا حرب

١٨- إجابة محافظة المنيا (إدارة المنيا التعليمية)



السؤال الأول:

- (أ) ١- سيناء ٢- الغربية ٣- المتوسط ٤- البحر الأحمر
(ب) ١- الخريطة ٢- الجبل

السؤال الثاني:

- (أ) ١- (صح) ٢- (خطأ) ٣- (صح) ٤- (خطأ)
(ب) ١- جمال حمدان ٢- طلعت حرب

السؤال الثالث:

- (أ) ١- تزين الشوارع ٢- الترمومتر ٣- البترول
٤- ناصر
(ب) ١- بسبب أذخة المصانع والسيارات وحرق قش الأرز
٢- لتقليل فقدان الكثير من المياه

السؤال الرابع:

- (أ) ١- السلع ٢- السجاد اليدوي ٣- الأمانة ٤- التعليم
(ب) ١- البنك المركزي المصري ٢- المناخ

٢٠- إجابة محافظة أسيوط (إدارة أسيوط التعليمية)



السؤال الأول:

- (أ) ١- المتوسط ٢- النيل ٣- سيناء ٤- السويس
(ب) تحديد ملكية الأرض الزراعية

السؤال الثاني:

- (أ) ١- (صح) ٢- (خطأ) ٣- (صح) ٤- (صح)
(ب) يعبر عن مرحلة النضال ودماء الشهداء من أجل الحرية

السؤال الثالث:

- (أ) ١- الصحة ٢- جوب الرياح ٣- الهواء ٤- ناصر
(ب) حيث توفر الدولة التعليم للجميع، وتبنى المدارس والجامعات، وتوفر المنح والبعثات الدراسية للطلاب.

السؤال الرابع:

- (أ) ١- المحيط ٢- المسود الفضائية ٣- المناخ ٤- العدل
(ب) حوث يتم إعادة تشجير مياه الصرف، المسكن بمدينة الزوريج من واقع استخدامها لري الأشجار الموجودة بالقرب من هذا المكان

٢١- إجابة محافظة قنا (إدارة نجع حمادي التعليمية)

السؤال الأول:

- (أ) ١- النيل ٢- السويس ٣- الأحمر
٤- المتوسط ٥- سيناء
(ب) ١- بسبب وجود المياه الجوفية.
٢- لهدل على قوة مصر و عداقة حضارتها

السؤال الثاني:

- (أ) ١- المدارس ٢- الأبيض ٣- التعليم
٤- إفريقيا ٥- الهواء

السؤال الثالث:

- (أ) ١- (خطأ) ٢- (صواب) ٣- (صواب)
٤- (صواب) ٥- (صواب)
(ب) تحديد الاتجاهات الأصلية والفرعية وتحديد المواقع

السؤال الرابع:

- (أ) ١- الجبل ٢- الحاجات ٣- السلع
٤- موارد منجدة ٥- موارد طبيعية
(ب) لوجود المياه الجوفية بها

٢٣- إجابة محافظة الأقصر (مديرية التربية والتعليم)

السؤال الأول:

- (أ) ١- الأحمر ٢- الغربية ٣- النيل ٤- ناصر
(ب) ١- المحيط ٢- الجبل ٣- الحاجات

السؤال الثاني:

- (أ) ١- (X) ٢- (X) ٣- (X) ٤- (X) ٥- (X)
(ب) ١- المياه الجوفية ٢- شبه جزيرة

السؤال الثالث:

- (أ) ١- إفريقيا ٢- الصحراوية ٣- الحرف ٤- الهواء
٥- النسيج ٦- الصحة

- (ب) ١- لأنه يرمز إلى قوة مصر وعراقة حضارتها
٢- تحديد ملكية الأرض الزراعية

السؤال الرابع: (أ)

الترغيبات	الحاجات
الذهاب إلى الملاهي - التلفزيون - زيارة المتاحف	الخبر - المسكن المناسب - الملابس
	(ب) ١- الشفاء ٢- القاهرة



وزارة التربية والتعليم
جمهورية مصر العربية

رقم الإيداع: ١١٠٢٧ / ٢٠٢٣

امتحانات المحافظات والإدارات ٢٠٢٢م

محافظه القاهرة (إدارة السلام التعليمية) مجاب عنه

١ أمامك خريطة صماء لمصر، اكتب مدلول الأرقام التالية:



- ١- يشير رقم (١) على الخريطة إلى نهر
- ٢- يشير رقم (٢) على الخريطة إلى قناة
- ٣- يشير رقم (٣) على الخريطة إلى البحر
- ٤- يشير رقم (٤) على الخريطة إلى البحر
- ٥- يشير رقم (٥) على الخريطة إلى شبه جزيرة

٢ ضع خطًا تحت الإجابة الصحيحة فيما بين القوسين:

- ١- المعلومات التي تم التأكد من صحتها هي: (حقائق - آراء - وجهات نظر - معتقدات)
- ٢- إذا أردت الذهاب لعاصمة مصر فعليك بالتوجه إلى محافظة
(القاهرة - الإسكندرية - الجيزة - أسوان)
- ٣- إذا أردت تلوين منخفض القطارة على الخريطة فسوف تختار اللون:
(الأزرق - الأخضر - البني - الأصفر)
- ٤- قامت الدولة ببناء العاصمة الإدارية الجديدة لتخفيف الضغط السكاني عن:
(الدقهلية - القاهرة - الإسكندرية - الجيزة)

٣ اكتب كلمة (صواب) أمام العبارة الصحيحة، وكلمة (خطأ) أمام العبارة غير الصحيحة:

- ١- البترول والفحم من مصادر الطاقة التي تحتاج لآلاف السنين لتكوينها. ()
- ٢- صناعة السجاد والنسيج اليدوي من الحرف المدرجة على قائمة التراث العالمي في منظمة اليونسكو. ()
- ٣- تعد حملة ١٠٠ مليون صحة من الخدمات الثقافية التي توفرها الدولة. ()
- ٤- يدل اللون الأحمر في علم مصر على الظلم. ()

٤ أجب عن الأسئلة التالية:

- ١- اكتب تفسيراً واحداً لاهتمام الدولة بذوى الاحتياجات الخاصة
- ٢- حدد سبباً واحداً لوجود اختلاف بين الحقائق والآراء

١ أمامك خريطة صماء لمصر، اكتب مدلول الأرقام التالية:



- ١- يشير رقم (١) على الخريطة إلى البيئة
- ٢- يشير رقم (٢) على الخريطة إلى البيئة
- ٣- يشير رقم (٣) على الخريطة إلى البيئة
- ٤- يشير رقم (٤) على الخريطة إلى بحيرة صناعية هي

٢ اكتب كلمة (صواب) أمام العبارة الصحيحة، وكلمة (خطأ) أمام العبارة غير الصحيحة:

- ١- يستفيد قبطان السفينة من إحداثيات الخريطة في تحديد موقعه بالبحر. ()
- ٢- تقع مصرفى منطقة الإقليم الصحراوى، هذه العبارة تعبر عن حقيقة. ()
- ٣- زادت أهمية موقع مصرفى العصر الحديث بعد حفر قناة سيزوستريس. ()
- ٤- يدل النسرا الذى يتوسط علم مصر على القوة والشجاعة. ()
- ٥- لكل محافظة شعاري عبر عن نشاط سكانها أو جزء من تاريخها. ()

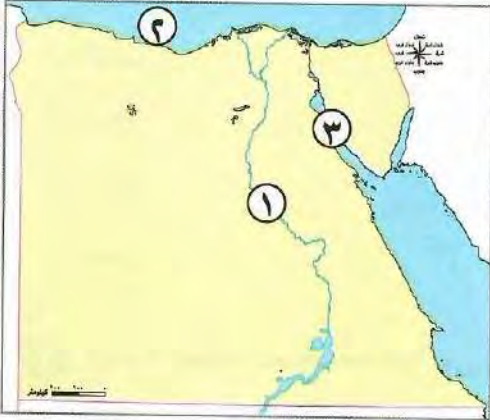
٣ ضع خطًا تحت الإجابة الصحيحة فيما بين القوسين:

- ١- إذا أردت تلوين السهل الفيضى على الخريطة فتختار اللون (الأزرق - الأصفر - البننى - الأخضر)
- ٢- لمعرفة درجة الحرارة فى اليوم فإننا نستخدم
(الترمومتر - دوارى الرياح - الأنيمومتر - مقياس المطر)
- ٣- المورد الطبيعى المتجدد الذى لا ينفد باستخدام الإنسان له
(الحديد - الشمس - البترول - المنجنيز)
- ٤- الحرفة التى يوجد شارع باسمها فى محافظة القاهرة
(الزجاج - النسيج - الخيامية - السجاد اليدوى)
- ٥- إنشاء الحدائق والمتنزهات يعد من الخدمات (الترفيهية - الثقافية - الأمنية - الصحية)

٤ حدد سببًا واحدًا لـ

- تلوث التربة.

١) لاحظ الخريطة المقابلة واكتب مدلول الأرقام على الخريطة:



- ١- يشير رقم (١) إلى مورد للمياه العذبة
- ٢- يشير رقم (٢) إلى مورد للمياه المالحة
- ٣- يشير رقم (٣) لمنطقة ينتشر بها البترول

(ب) أجب عن الأسئلة التالية:

- ١- حدد سبباً واحداً لأهمية رسم وردة البوصلة على الخريطة.
- ٢- اكتب تفسيراً واحداً لوجود النسرفى علم مصر.

٢) (١) اكتب كلمة (صواب) أمام العبارة الصحيحة، وكلمة (خطأ) أمام العبارة غير الصحيحة:

- ١- تستخدم الأقمار الصناعية فى التقاط الصور الجوية. ()
- ٢- يتركز السكان فى الواحات فى مناطق وجود المياه الجوفية. ()
- ٣- تنتشر مشكلة حرق قش الأرز فى البيئة الساحلية. ()

(ب) أجب عن الأسئلة التالية:

- ١- اكتب نتيجة واحدة ترتبت على الإفراط فى استخدام مصادر الطاقة غير المتجددة.
- ٢- ماذا تقول لزميلك الذى يترك صبنور المياه مفتوحاً؟

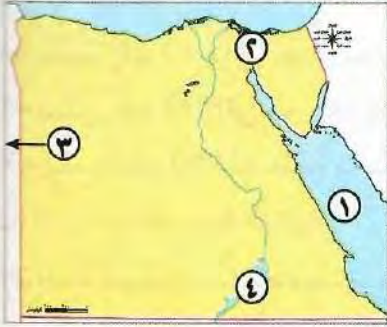
٣) (١) ضع خطأ تحت الإجابة الصحيحة فيما بين القوسين:

- ١- اللون الذى يدل على السلام فى علم مصر؛ هو: (الأبيض - الأحمر - الأسود - الأخضر)
- ٢- آسيا مساحة شاسعة من اليابس تضم عدة دول؛ فهى بذلك تكون: (محافظة - دولة - قارة - جزيرة)
- ٣- التحاق الطفل بالمدرسة يعد من حقوق الطفل فى: (التعليم - الصحة - السكن - الأمن)

(ب) حدد اختلافاً واحداً بين السهل الساحلى والسهل الفيضى فى الجدول التالى:

السهل الفيضى	السهل الساحلى	وجه المقارنة
.....	الاختلاف

١ أمامك خريطة صماء لمصر، اكتب مدلول الأرقام التالية:



- ١- البحر.....
٢- قناة.....
٣- دولة.....
٤- بحيرة.....

٢ اختر الإجابة الصحيحة مما بين القوسين :

- ١- تقع مصر في الركن الشمالي الشرقي من قارة..... (إفريقيا - أستراليا - أوروبا - أمريكا الجنوبية)
٢- يمكننا تحديد اتجاه الرياح باستخدام.....
(جورب الرياح - طواحين الهواء - مقياس المطر - الأنيمومتر)
٣- يتخذ علم مصر شكل.....
(مثلث - دائرة - مستطيل - مربع)
٤- يدل النسرفى وسط علم مصر على.....
(الضعف - الثورة - البأس - القوة)
٥- تخلو مصر من البيئة.....
(الزراعية - القطبية - الصحراوية - الساحلية)
٦- من أكبر البحيرات الصناعية في مصر والعالم بحيرة..... (إدكو - المنزلة - قارون - ناصر)

٣ ضع علامة (✓) أمام العبارة الصحيحة، وعلامة (X) أمام العبارة غير الصحيحة:

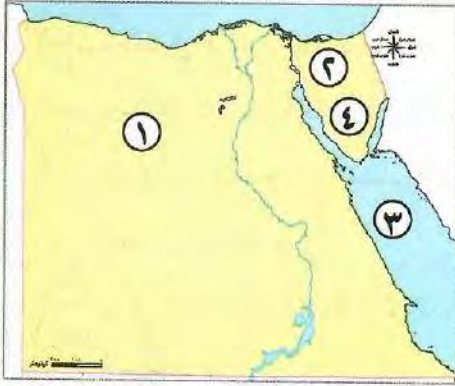
- ١- يستخدم مقياس الرسم في تحديد الاتجاهات على الخريطة. ()
٢- الكتب والموسوعات والمقالات من المصادر الثانوية. ()
٣- تقع مصر في شمال شرق إفريقيا. ()
٤- يلون البحر المتوسط على الخريطة باللون الأخضر. ()
٥- تعد لوحة نارمر من المصادر الثانوية. ()

٤ بم تفسر...؟

١- أهمية الصحراء البيضاء للاقتصاد المصرى.

٢- وجود الزراعة فى الصحراء الغربية.

١) أمامك خريطة صماء لمصر، اكتب مدلول الأرقام التالية:



- ١- نهر.....
٢- قناة.....
٣- البحر.....
٤- شبه جزيرة.....

(ب) اجب عن الأسئلة التالية:

- ١- اكتب تفسيراً لأهمية الخريطة للفلاح.
٢- اكتب نتيجة واحدة تترتب على حرق قش الأرز.
٣- اكتب سبباً واحداً لطرح الدولة مبادرة حياة كريمة.

٢) ضع خطاً تحت الإجابة الصحيحة فيما بين القوسين:

- ١- «مدينة شرم الشيخ أجمل المدن المصرية» تعبر هذه العبارة عن:.....
(رأى - خيال - حقيقة - واقع)
٢- القناة التي تعد شريان التجارة العالمي الذي يربط بين البحرين المتوسط والأحمر بشكل مباشر هي قناة:.....
(بنما - السويس - سيزوستريس - جونجلي)
٣- قامت الدولة ببناء العاصمة الإدارية الجديدة لتخفيف الضغط السكاني عن:.....
(الدقهلية - القاهرة - الإسكندرية - الجيزة)
٤- تعتمد الزراعة على المياه الجوفية في منطقة:.....
(وادي النيل - الواحات - الصحراء الشرقية - الدلتا)
٥- إذا أردت كتابة بحث عن أهمية موقع مصر الجغرافي فإنك تستعين بأحد مؤلفات.....
(جمال حمدان - طه حسين - محمد يونس - سيد درويش)

٣) اكتب كلمة (صواب) أمام العبارة الصحيحة، وكلمة (خطأ) أمام العبارة غير الصحيحة:

- ١- يستخدم مقياس الرسم في تحديد الاتجاهات على الخريطة. ()
٢- تقع محافظة القاهرة ضمن محافظات الوجه البحرى. ()
٣- يدل اللون الأبيض في علم مصر على السلام. ()
٤- يلون البحر المتوسط على الخريطة باللون الأخضر. ()
٥- لكل طفل الحق في الرعاية والتعليم والصحة. ()

١ اكتب كلمة (صواب) أمام العبارة الصحيحة، وكلمة (خطأ) أمام العبارة غير الصحيحة:



- ١- تستخدم الأقمار الصناعية فى التقاط الصور الجوية. ()
- ٢- سيناء شبه جزيرة تحيط بها المياه من ثلاث جهات. ()
- ٣- البترول والفحم من مصادر الطاقة التى تحتاج لآلاف السنين لتكوينها. ()
- ٤- (يبلغ ارتفاع برج القاهرة ١٨٧ مترًا). هذه العبارة تُعبّر عن حقيقة. ()
- ٥- عند زيارتك للبيئة الزراعية يمكن ملاحظة الكثبان الرملية بها. ()

٢ اختر الإجابة الصحيحة مما بين القوسين:

- ١- مساحة شاسعة من المياه المالحة ذات أعماق كبيرة تنطبق هذه العبارة على:
(نهر النيل - البحر المتوسط - المحيط الهادى - بحيرة ناصر)
- ٢- إحدى محافظات الحدود الصحراوية:
(مطروح - السويس - المنوفية - البحيرة)
- ٣- تحتفل القاهرة بعيدها القومى فى ذكرى:
(بناء مدينة القاهرة - بناء الجامع الأزهر - حفر قناة السويس - جلاء الإنجليز)
- ٤- يتسبب حرق قش الأرز فى تلوث:
(التربة - المياه - الهواء - الفضاء)
- ٥- من الحرف المدرجة على قائمة التراث العالمى لليونسكو صناعة:
(ورق البردى - الفخار - السجاد اليدوى - الزجاج)

٣ أجب عن الأسئلة التالية:

١- اكتب تفسيرًا واحدًا لوجود اللون الأحمر فى علم مصر بمعظم مراحل تطوره.

٢- حدد تفسيرًا واحدًا لأهمية الأقمار الصناعية بالنسبة للطقس.

٣- حدد سببًا واحدًا لأهمية نبات الخروع.

٤- اكتب تفسيرًا لتقديم الدولة برامج لتدريب العمال على المهارات الخاصة ببعض الحرف.

٥- اكتب تفسيرًا واحدًا لأهمية قناة السويس.

١ اكتب كلمة (صواب) أمام العبارة الصحيحة، وكلمة (خطأ) أمام العبارة غير الصحيحة:

- ١- تستخدم الأقمار الصناعية فى التقاط الصور الجوية. ()
- ٢- تمر السفن فى الاتجاهين بقناة السويس بعد حفر قناة السويس الجديدة. ()
- ٣- يتغير المناخ من يوم إلى آخر، كما يتغير عدة مرات فى اليوم الواحد. ()
- ٤- تقوم الزراعة فى الواحات اعتمادًا على المياه الجوفية. ()
- ٥- يعد معرض تراثنا دليلًا على اهتمام الدولة بإحياء الحرف التراثية. ()

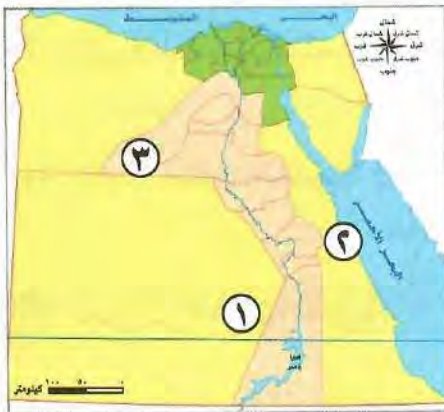
٢ ضع خطأ تحت الإجابة الصحيحة فيما بين القوسين:

- ١- عند التقاط صورة حقيقية تفصيلية لجزء من سطح الأرض فإننا نستخدم
(الطائرة - القمر الصناعى - الصاروخ - سفينة الفضاء)
- ٢- إذا أردت أن تستخدم مصدرًا أوليًا لإجراء بحث عن قناة السويس فإنك تستخدم
(موسوعة عن القناة - وثائق رسمية عن القناة - مقال عن القناة عام ٢٠٠٠م - كتاب عن القناة عام ٢٠١٤م)
- ٣- اللون الذى يدل على نضال الشعب المصرى هو: (الأبيض - الأحمر - الأسود - الأخضر)
- ٤- يتم صناعة المنتج بالصورة المقابلة من:
(الرمال البيضاء - الرمال السوداء - الطين - الرمال الصفراء)
- ٥- يمكننا تحديد اتجاه الرياح باستخدام
(جورب الرياح - طواحين الهواء - مقياس المطر - الأنيمومتر)



خزف

٣ (١) لاحظ الخريطة المقابلة واكتب مدلول الأرقام على الخريطة:

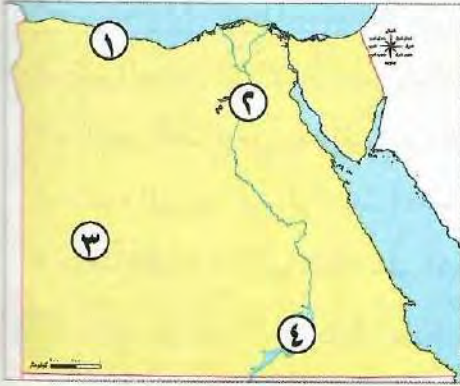


- ١- يشير رقم (١) على الخريطة إلى محطة توليد الطاقة الكهربائية
الكهرومائية
- ٢- يشير رقم (٢) على الخريطة إلى محافظة يوجد بها محطة الزعفرانة لتوليد الكهرباء.....
- ٣- يشير رقم (٣) على الخريطة إلى محافظة يوجد بها محطة الكريما ت لتوليد الكهرباء

(ب) أجب عن الأسئلة التالية:

- ١- اكتب نتيجة واحدة تترتب على حرق قش الأرز.
- ٢- ماذا تقول لزميلك الذى ترك صنبور المياه مفتوحًا؟

١- لاحظ خريطة مصر جيدًا، ثم استنتج مدلول الأرقام:



- ١- يشير رقم (١) على الخريطة إلى البيئة
- ٢- يشير رقم (٢) على الخريطة إلى البيئة
- ٣- يشير رقم (٣) على الخريطة إلى البيئة
- ٤- يشير رقم (٤) على الخريطة إلى بحيرة صناعية هي بحيرة

٢- اكتب كلمة (صواب) أمام العبارة الصحيحة، وكلمة (خطأ) أمام العبارة غير الصحيحة:

- ١- يستخدم مقياس الرسم في تحديد الاتجاهات على الخريطة. ()
- ٢- لوحة الملك نارمر أحد المصادر الثانوية. ()
- ٣- المحيط الهادى يمثل مساحة شاسعة من الماء المالح قليلة العمق. ()
- ٤- يدل النسرا الذى يتوسط علم مصر على القوة والشجاعة. ()

٣- ضع خطًا تحت الإجابة الصحيحة فيما بين القوسين:

- ١- محافظتى من محافظات
(الوجه البحرى - الوجه القبلى - الحدود الصحراوية - القطبية)
- ٢- يسود معظم مصر مناخ
(صحراوى - استوائى - مدارى - قطبى)
- ٣- المورد الطبيعى المتجدد الذى لا ينفد باستخدام الإنسان له
(الشمس - البترول - الحديد - المنجنيز)
- ٤- التحاق الطفل بالمدرسة يعد من حقوق الطفل فى
(التعليم - الصحة - السكن - الأمن)

٤- أجب عن الأسئلة التالية:

١- حدد سببًا واحدًا لتلوث التربة؟

٢- اكتب نتيجة واحدة ترتبت على حفر قناة السويس الجديدة؟

لاحظ الخريطة المقابلة واكتب مدلول الأرقام على الخريطة:



١- يشير رقم (١) على الخريطة إلى عنصر من عناصر الخريطة وهو

٢- يشير رقم (٢) على الخريطة إلى عنصر من عناصر الخريطة وهو

٣- يشير رقم (٣) على الخريطة إلى عنصر من عناصر الخريطة وهو

اكتب كلمة (صواب) أمام العبارة الصحيحة، وكلمة (خطأ) أمام العبارة غير الصحيحة:

- ١- للتأكد من صحة المعلومات الواردة عن الهرم نستخدم المصادر الأولية والثانوية. ()
- ٢- اتخذ علم مصر شكلاً واحداً على مر التاريخ. ()
- ٣- يعبر شعار محافظتى عن نشاط السكان. ()
- ٤- تعد بحيرة السد العالى من البحيرات الطبيعية فى العالم. ()
- ٥- يؤدى توليد الكهرباء من الرياح إلى تلوث الهواء. ()

ضع خطاً تحت الإجابة الصحيحة فيما بين القوسين:

- ١- «يتم التقاط الصور الفضائية بواسطة الأقمار الصناعية» تعبر هذه العبارة عن
(رأى - خيال - حقيقة - وجهة نظر)
- ٢- إذا أردت زيارة أكبر محافظات مصر مساحة فعليك بالتوجه إلى محافظة
(دمياط - المنوفية - الغربية - الوادى الجديد)

١ لاحظ الخريطة المقابلة واكتب مدلول الأرقام على الخريطة:



- ١- يشير رقم (١) على الخريطة إلى نهر.....
- ٢- يشير رقم (٢) على الخريطة إلى قناة.....
- ٣- يشير رقم (٣) على الخريطة إلى البحر.....
- ٤- يشير رقم (٤) على الخريطة إلى البحر.....

٢ أجب على الأسئلة الآتية:

- ١- حدد سببًا واحدًا لتنوع البيئات الطبيعية في مصر.....
- ٢- حدد أحد أوجه التشابه بين الصحراء الشرقية وشبه جزيرة سيناء.....
- ٣- حدد سببًا واحدًا لأهمية الصحراء البيضاء والسوداء للاقتصاد المصري.....

٣ ضع خطًا تحت الإجابة الصحيحة فيما بين القوسين:

١- تحتفل القاهرة بعيدها القومي في ذكرى:.....

(بناء مدينة القاهرة - بناء الجامع الأزهر - حفر قناة السويس - جلاء الإنجليز)



٢- تشير الشمس في شعار محافظة القاهرة إلى:.....

(موقع القاهرة المتميز بين محافظات مصر - جامع الأزهر منارة الإسلام في العالم -

اعتدال مناخ محافظة القاهرة - نور الإسلام يشرق على مصر)

٣- يتكون شعار محافظة القاهرة من عدة رموز، منها:.....

(جامع عمرو بن العاص - الجامع الأزهر الشريف - جامعة القاهرة - قلعة صلاح الدين)

٤- تحيط المياه بأرض سيناء من ثلاث جهات لذلك فهي:..... (جزيرة - شبه جزيرة - منخفض - بحيرة)

٤ أكمل الجدول التالي لتحديد أوجه التشابه والاختلاف بين خطوط الطول ودوائر العرض مستخدمًا الكلمات التالية:

(المواقع - أفقيًا - رأسيًا - شمالًا - جنوبًا - شرقًا - غربًا)

دوائر العرض	خطوط الطول	أوجه التشابه
	تستخدم في تحديد	
تتخذ شكلًا تقسم الكرة الأرضية إلى نصفين و.....	تستخدم شكلًا تقسم الكرة الأرضية إلى نصفين و.....	الاختلاف

١ ضع خطًا تحت الإجابة الصحيحة فيما بين القوسين:

- ١- عند رسم محافظة الأقصر في ورقة صغيرة فإننا نستخدم العنصر التالي من عناصر الخريطة
(العنوان - مقياس الرسم - وردة البوصلة - المفتاح)
- ٢- المعلومات التي تم التأكد من صحتها هي: (حقائق - آراء - وجهات نظر - معتقدات)
- ٣- إذا أردت كتابة بحث عن أهمية موقع مصر الجغرافي فإنك تستعين بأحد مؤلفات:
(طه حسين - محمد يونس - جمال حمدان - سيد درويش)
- ٤- من الحرف المدرجة على قائمة التراث العالمي لليونسكو؛ صناعة:
(ورق البردي - الفخار - الزجاج - السجاد اليدوي)

(ب) اكتب سببًا واحدًا لطرح الدولة مبادرة حياة كريمة.

٢ اكتب كلمة (صواب) أمام العبارة الصحيحة، وكلمة (خطأ) أمام العبارة غير الصحيحة فيما يلي:

- ١- يدل النسب الذي يتوسط العلم على القوة والشجاعة. ()
- ٢- تحتفل جميع محافظات مصر بعيد قومي واحد. ()
- ٣- يتغير المناخ من يوم إلى آخر، كما يتغير عدة مرات في اليوم الواحد. ()
- ٤- إذا أردت إنشاء مصنع للزجاج فأنت تحتاج إلى الرمال البيضاء المنتشرة في الصحاري المصرية. ()
- ٥- تنتشر مشكلة حرق قش الأرز في البيئة الزراعية. ()

٣ (١) أمامك خريطة لمحافظة جمهورية مصر العربية، لاحظها جيدًا، ثم أجب:



- ١- يشير رقم (١) إلى أكبر محافظات مصر مساحة وهي:
- ٢- يشير رقم (٢) إلى ظاهرة تضاريسية وهي:
- ٣- يشير رقم (٣) إلى البيئة:

(ب) ماذا تقول لميلك الذي يترك صنبور المياه مفتوحًا؟

(ج) اكتب اختلافًا واحدًا بين الجبل والتل في الجدول التالي:

التل	الجبل	الاختلاف
.....

١ اكتب كلمة (صواب) أمام العبارة الصحيحة، وكلمة (خطأ) أمام العبارة غير الصحيحة:

- ١- لكل محافظة شعار يعبر عن نشاط أو جزء من تاريخها. ()
- ٢- سيناء شبه جزيرة تحيط بها المياه من ثلاث جهات. ()
- ٣- يجب أن يستمع الصيادون للنشرة الجوية قبل الخروج. ()
- ٤- تستخدم الأقمار الصناعية فى التقاط الصور الجوية. ()
- ٥- نهر النيل وفرعاه من موارد المياه المالحة فى مصر. ()

٢ ضع خطأ تحت الإجابة الصحيحة فيما بين القوسين:

- ١- عند كتابتك لبحث عن أهمية موقع مصر تستخدم المصادر الثانوية مثل:
- (المخاطبات الرسمية - البريدات - الوثائق الرسمية - الكتب)
- ٢- تقع مصر فى الركن الشمالى الشرقى فى قارة
- (إفريقيا - أستراليا - أمريكا الجنوبية - أوروبا)
- ٣- اللون الذى يدل على السلام فى علم مصر هو:
- (الأبيض - الأحمر - الأسود - الأخضر)
- ٤- تخلو مصر من البيئة
- (الزراعية - القطبية - الصحراوية - الصحية)
- ٥- إنشاء الحدائق والمتنزهات يعد من الخدمات
- (الترفيهية - الثقافية - الأمنية - الصحية)

٣ أجب عن الأسئلة التالية:

١- حدد سببًا واحدًا لأهمية معرفتك لأحوال الطقس اليومية.

.....

٢- حدد سببًا واحدًا لتلوث التربة

.....

٣- اكتب تفسيرًا لأهمية الخريطة للجيش .

.....

٤- حدد اختلافًا واحدًا بين السهل الساحلى والسهل الفيضى .

السهل الفيضى	السهل الساحلى	الاختلاف
.....	

١ اكتب كلمة (صواب) أمام العبارة الصحيحة، وكلمة (خطأ) أمام العبارة غير الصحيحة:

- ١- يتركز السكان فى الواحات فى مناطق وجود المياه الجوفية. ()
- ٢- ساعد نهر النيل قديماً على زيادة التجارة بين مصر ودول وسط إفريقيا. ()
- ٣- البترول والفحم من مصادر الطاقة التى تحتاج لآلاف السنين لتكوينها. ()
- ٤- يقصد العديد من السياح قرية الحرانية بالجيزة لتمييزها بصناعة المنسوجات. ()
- ٥- لكل مستوى من مستويات ارتفاعات سطح مصر لون مختلف. ()
- ٦- عند شرائك لبعض المنتجات من السوق فأنت بذلك تشتري سلعة. ()

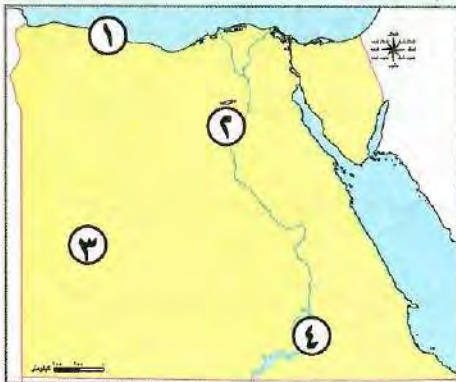
٢ اختر الإجابة الصحيحة مما بين القوسين:

- ١- إذا أراد شخص بناء مصنع لصناعة الخزف فإنه يحتاج إلى أحد الموارد الطبيعية التالية.....
(الرمال البيضاء - الرمال السوداء - الطين - الرمال الصفراء)
- ٢- المورد الطبيعى الذى يتعرض للنفاذ نتيجة الإسراف فى استخدامه.....
(المياه - الشمس - البترول - الهواء)
- ٣- إذا أردت زيارة أكبر محافظات مصر مساحة فعليك بالتوجه إلى محافظة:.....
(دمياط - المنوفية - الغربية - الوادى الجديد)
- ٤- تحيط المياه بأرض سيناء من ثلاث جهات لذلك فهى..... (جزيرة - شبه جزيرة - منخفض - بحيرة)
- ٥- إنشاء الحدائق والمتنزهات يعد من الخدمات:..... (الترفيهية - الثقافية - الأمنية - الصحية)
- ٦- المعلومات التى تم التأكد من صحتها هى:..... (حقائق - آراء - وجهات نظر - معتقدات)

٣ أجب عن الأسئلة التالية:

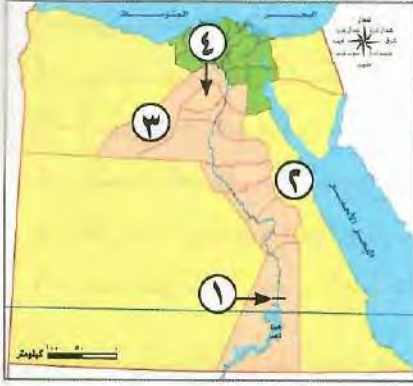
- ١- حدد سبباً واحداً لأهمية نبات الخروع.....
- ٢- اكتب نتيجة واحدة ترتبت على الإفراط فى استخدام مصادر الطاقة غير المتجددة.

٤ أمامك خريطة لجمهورية مصر العربية وضع عليها مدلول الأرقام التالية:



- ١- يشير رقم (١) على الخريطة إلى البيئة.....
- ٢- يشير رقم (٢) على الخريطة إلى البيئة.....
- ٣- يشير رقم (٣) على الخريطة إلى الصحراء.....
- ٤- يشير رقم (٤) على الخريطة إلى بحيرة صناعية وهى بحيرة.....

١ لاحظ الخريطة المقابلة واكتب مدلول الأرقام على الخريطة:



- ١- يشير رقم (١) على الخريطة إلى محطة توليد الطاقة الكهرومائية
- ٢- يشير رقم (٢) على الخريطة إلى محافظة يوجد بها محطة الزعفرانة لتوليد الكهرباء
- ٣- يشير رقم (٣) على الخريطة إلى محافظة يوجد بها محطة الكريما لتوليد الكهرباء
- ٤- محافظة

٢ اكتب كلمة (صواب) أمام العبارة الصحيحة، وكلمة (خطأ) أمام العبارة غير الصحيحة:

- ١- لكل طفل الحق في الرعاية والتعليم والصحة. ()
- ٢- يؤدي انتشار الحرف اليدوية إلى ارتفاع نسب البطالة. ()
- ٣- البترول والفحم من مصادر الطاقة المتجددة التي لا تنفذ باستخدام الإنسان لها. ()
- ٤- يساعد إنشاء محطات تحلية مياه البحر على زيادة كميات المياه العذبة. ()

٣ ضع خطًا تحت الإجابة الصحيحة فيما بين القوسين:

- ١- تعتمد الزراعة على المياه الجوفية في منطقة (وادى النيل - الواحات - الصحراء الشرقية - الدلتا)
- ٢- تتميز الصحراء الغربية بعدة ظواهر تضاريسية أهمها: (بحر الرمال العظيم - البحر الأحمر - الشعاب المرجانية - البحيرات المالحة)
- ٣- تحيط المياه بسيناء من: (جهة واحدة - جهتين - ثلاث جهات - أربع جهات)
- ٤- يتكون شعار محافظة القاهرة من عدة رموز منها: (جامع عمرو بن العاص - الجامع الأزهر الشريف - جامعة القاهرة - قلعة صلاح الدين)



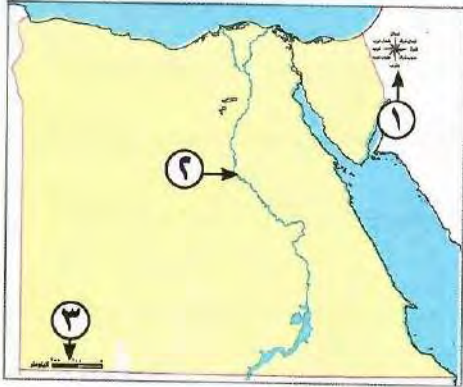
٤ أجب عن الأسئلة التالية:

١- اكتب ثلاثة أماكن ترى علم مصر يرفرف بها.

٢- اكتب نتيجة واحدة ترتبت على حفر قناة السويس الجديدة.

٣- حدد سببًا واحدًا لأهمية رسم وردة البوصلة على الخريطة.

١ أمامك خريطة صماء لمصر، اكتب مدلول الأرقام الموقعة عليها:



- ١- وردة
- ٢- نهر
- ٣- مقياس

٢ اختر الإجابة الصحيحة مما بين القوسين:

- ١- يقاس المطر باستخدام
- (دوارة الرياح - الأنيمومتر - مقياس المطر - الترمومتر)
- ٢- يرمز اللون الأحمر إلى في العلم المصري.
- (دم الشهداء - الظلم والاستعمار - السلام - نصر صلاح الدين)
- ٣- نقش على لوحة الملك نارمر وهو حجر أثري تاريخي يعتبر
- (مصدرًا أوليًا - مصدرًا ثانويًا - مصدرًا غير هام - مصدرًا كاذبًا)
- ٤- تقع محافظة المنيا في
- (الوجه القبلي - الوجه البحري - الحدود - الصحراء)

٣ ضع علامة (✓) أمام العبارة الصحيحة، وعلامة (X) أمام العبارة غير الصحيحة:

- ١- توجد الكثبان الرملية في البيئة الصحراوية. ()
- ٢- تم حفر قناة السويس الجديدة عام ٢٠١٥. ()
- ٣- الصور الفضائية هي رسم يوضح جزءًا من سطح الأرض. ()

٤ اكتب المفهوم الجغرافي الدال على ما يأتي:

- ١- راية تتخذها محافظة رمزًا لها لتعبر عن نشاط سكانها أو جزء من تاريخها. (.....)
- ٢- أرض شديدة الارتفاع ولها قمة وجوانبها شديدة الانحدار تزيد على ١٠٠٠م. (.....)

(١) أكمل ما يلي:



- ١- يشير رقم (١) على الخريطة إلى
- ٢- يشير رقم (٢) على الخريطة إلى
- ٣- يشير رقم (٣) على الخريطة إلى

(ب) أجب عن الأسئلة الآتية:

- ١- اكتب تفسيراً لأهمية الخريطة للجيش.
- ٢- حدد سبباً واحداً لأهمية وردة البوصلة.

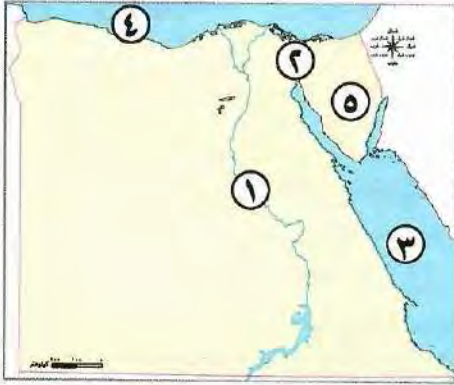
(٢) اكتب كلمة (صواب) أمام العبارة الصحيحة، وكلمة (خطأ) أمام العبارة غير الصحيحة:

- ١- تستخدم الأقمار الصناعية فى التقاط الصور الجوية. ()
- ٢- يجب أن يستمع الصيادون للنشرة الجوية قبل الخروج فى رحلات الصيد. ()
- ٣- يؤدى توليد الكهرباء من الرياح إلى تلوث الهواء. ()
- ٤- يؤدى انتشار الحرف اليدوية إلى ارتفاع نسبة البطالة. ()
- ٥- يساعد الاهتمام بالحرف اليدوية على ازدهار الاقتصاد المصرى. ()

(٣) ضع خطأ تحت الإجابة الصحيحة فيما بين القوسين:

- ١- المورد الطبيعى المتجدد الذى لا ينفد باستخدام الإنسان له
(الشمس - البترول - الحديد - المنجنيز)
- ٢- يمكننا تقليل نسبة تلوث الهواء من خلال استخدام السيارات التى تسيرب.....
(البنزين - السولار - الغاز الطبيعى - الفحم)
- ٣- إذا أردت الذهاب إلى عاصمة مصر فعليك بالتوجه إلى محافظة.....
(الإسكندرية - الجيزة - أسوان - القاهرة)
- ٤- محافظة من محافظات الحدود الصحراوية تقع بين خليجى العقبة والسويس.....
(جنوب سيناء - مطروح - أسوان - الجيزة)
- ٥- يتخذ علم مصر شكل.....
(دائرة - مثلث - مستطيل - مربع)

١ أمامك خريطة صماء لمصر، اكتب مدلول الأرقام التالية عليها:



- ١- يشير رقم (١) على الخريطة إلى نهر.....
- ٢- يشير رقم (٢) على الخريطة إلى قناة.....
- ٣- يشير رقم (٣) على الخريطة إلى البحر.....
- ٤- يشير رقم (٤) على الخريطة إلى البحر.....
- ٥- يشير رقم (٥) على الخريطة إلى شبه جزيرة.....

٢ اكتب كلمة (صواب) أمام العبارة الصحيحة، وكلمة (خطأ) أمام العبارة غير الصحيحة:

- ١- للتأكد من صحة المعلومات الواردة عن الهرم نستخدم المصادر الأولية والثانوية. ()
- ٢- المحيط الهادى يمثل مساحة شاسعة من الماء المالح قليلة العمق. ()
- ٣- اتخذ علم مصر شكلاً واحداً على مر التاريخ. ()
- ٤- يرتبط العيد القومى للمحافظة بحدث تاريخى أو ذكرى مهمة. ()
- ٥- يجب أن يستمع الصيادون للنشرة الجوية قبل الخروج فى رحلات الصيد. ()

٣ ضع خطأ تحت الإجابة الصحيحة فيما بين القوسين:

- ١- تخلو مصر من البيئة (الزراعية - القطبية - الصحراوية - الساحلية)
- ٢- تنتشر مشكلة حرق قش الأرز فى البيئة (الزراعية - الصحراوية - الساحلية - الصناعية)
- ٣- يمكنك ترشيد استهلاكك من المياه العذبة من خلال (حفر الآبار - بناء السدود - حفر الترع - غلق الصنبور)
- ٤- حماية المواطنين وتوفير الأمن والاستقرار لهم يعد من الخدمات (التعليمية - الأمنية - الثقافية - الرقمية)
- ٥- التحاق الطفل بالمدرسة يعد من حقوق الطفل فى (التعليم - الصحة - السكان - الأمن)